

А. В. Шаповалов, Л. Э. Медников

**Как готовиться к
математическим боям**

МЦНМО

А. В. ШАПОВАЛОВ, Л. Э. МЕДНИКОВ

КАК ГОТОВИТЬСЯ К МАТЕМАТИЧЕСКИМ БОЯМ

400 ЗАДАЧ ТУРНИРОВ ИМЕНИ А. П. САВИНА

Электронное издание

ИЗДАТЕЛЬСТВО МОСКОВСКОГО ЦЕНТРА
НЕПРЕРЫВНОГО МАТЕМАТИЧЕСКОГО ОБРАЗОВАНИЯ
МОСКВА, 2016

УДК 51
ББК 22.1
Ш24

Шаповалов А. В., Медников Л. Э.
Как готовиться к математическим боям.
400 задач Турниров имени А. П. Савина
Электронное издание
М.: МЦНМО, 2016
252 с.
ISBN 978-5-4439-2325-3

Проработав много лет в руководстве и жюри Турнира им. Савина и других турниров математических боёв, авторы узнали много секретов игры и делятся ими с читателем. Как, например, избежать ошибок в своих решениях и разоблачить их в решениях соперника? Потренируйтесь на специально подобранных решениях с ошибками!

Дополняя предыдущую книгу авторов, книга подробно рассказывает о математических соревнованиях на летнем Турнире 2012 года, затрагивая и турниры нескольких предыдущих лет. Собраны все задачи 2012 года и избранные задачи 2006 и 2007 гг., всего почти 400 задач для учеников 6—9 классов. Они сгруппированы по темам, снабжены рубрикаторм, ко всем даны решения. Большинство задач вполне доступны широкому кругу школьников. Приведены правила математического боя, а также задачи конкурса капитанов и шуточных матбоёв.

Книга адресована тем, кто хотел бы подготовиться или подготовить учеников к математическим боям и другим соревнованиям: школьникам, их родителям и учителям, а также просто любителям математики.

Подготовлено на основе книги:

Шаповалов А. В., Медников Л. Э. Как готовиться к математическим боям.
400 задач Турниров имени А. П. Савина. — М.: МЦНМО, 2014. — 254 с. —
ISBN 978-5-4439-0320-0

Издательство Московского центра
непрерывного математического образования
119002, Москва, Большой Власьевский пер., 11,
тел. (499)241-08-04.
<http://www.mccme.ru>

© Шаповалов А. В., Медников Л. Э., 2014.

© МЦНМО, 2016.

ISBN 978-5-4439-2325-3

КАК ГОТОВИТЬСЯ К МАТЕМАТИЧЕСКИМ БОЯМ

За последние 20 лет математические бои в России широко распространились. Учителя математических классов и руководители кружков оценили это соревнование как очень полезное для заинтересованных школьников. Обсуждение задач в кругу самих учащихся, — как в процессе решения, так и на самом бое — во-первых, служит заметным дополнительным источником знаний, а во-вторых, убеждает учащихся в объективном характере таких знаний, что даёт сильный стимул к дальнейшему изучению математики. Работа в команде привлекает даже тех школьников, которые лично для себя не захотели бы дополнительно заниматься математикой. Турниры проводятся на школьном, городском и даже общероссийском уровне, и нередко случаи, когда мест для всех желающих команд просто не хватает.

Итак, решено: играем матбой, и лучше — против соседнего класса, кружка, школы или даже города! Но чтобы не ударить в грязь лицом, надо подготовиться. Способов много, и эта книга поможет выбрать подходящие и воплотить их.

Решение задач

Разумеется, здесь, как и при подготовке к другим математическим соревнованиям, главным средством было и будет решение задач и изучение необходимой теории. Книг с теорией и задачами издано много, немало материала можно найти и в Интернете. Заметим, однако, что большинство сборников задач посвящены в основном задачам олимпиад, а задачи матбоёв имеют свою специфику, о которой мы ещё скажем ниже. А немногочисленные сборники задач математических боёв публикуются обычно без решений или с краткими указаниями вместо решений. Да и большинство задач таких подборок не блещет оригинальностью, попадая в варианты боёв в основном из сборников олимпиад. В этом отношении Турнир им. А. П. Савина является счастливым исключением, с самого начала сохраняя традицию использовать по большей части авторские задачи. Почти 400 задач данного сборника представляют задачи и варианты Турнира. Все задачи снабжены исчерпывающими решениями, и даже те решения, что выглядят подозрительно краткими, являются полными — просто из решения «выжата вода».

Мы постарались структурировать книгу так, чтобы задачи было легко найти и использовать для подготовки школьников от 6 до 9 классов и команд самого разного уровня. В отличие от большинства сборников, задачи разбиты не по вариантам (что бывает нужно довольно редко), а по темам (которые зависят как от условия, так и от метода решения). Если задача, как это часто бывает, может быть отнесена к нескольким темам, то она помещается в одну из них, а в остальных темах на задачу дана ссылка. При каждой задаче указаны классы, которым она подходит. Кроме того, полезно помнить, что задачи игры «Математический квадрат» легче задач устной олимпиады для данного класса, а те, в свою очередь, легче задач командной олимпиады и задач боёв, трудность которых ещё зависит от лиги (см. учебный бой по готовому варианту).

Устные задачи

Бой начинается с конкурса капитанов. Двум капитанам или представителям команд даётся устная задача «на ответ», обычно несложная, но часто — с подвохом. Побеждает тот, кто первым скажет правильный ответ (часто, впрочем, выигрывает тот, кто не торопится, — противник даёт неправильный ответ и проигрывает). На конкурс капитанов нередко выставляют не капитана, а другого игрока — с более быстрой реакцией.

Для тренировки мы собрали около двух десятков таких задач в главе «Конкурс капитанов». К ним можно ещё добавить наиболее лёгкие задачи из «Математического квадрата». Все эти задачи можно использовать также для устной разминки всех участников в начале занятия кружка.

Вязкие задачи

На олимпиадах ценятся задачи с компактным и легко проверяемым решением и нещадно отбраковываются задачи, по которым можно ожидать от школьников длинных решений. В самом деле, кому из жюри хочется читать или выслушивать «оперы» и долго и нудно объяснять школьнику, почему он неправ? А в математическом бое как раз и надо, чтобы при изложении решения завязывалась дискуссия между докладчиком и оппонентом. Поэтому используются задачи с подвохами, с разбором случаев, которые можно и не заметить, задачи, решаемые в два или несколько ходов. Соответственно, полные и безупречные решения таких задач получить и изложить очень непросто. Найдя основную идею, стоит подумать,

как довести её до решения, ещё лучше — до компактного или хотя бы просто излагаемого решения. Получив полное решение, надо его тщательно проверить и перепроверить. Тут очень помогает командная работа. Хорошо иметь в команде одного-двух скептиков, которые будут выслушивать решения и «цепляться» к сомнительным местам и неясностям. Даже если решение и в самом деле безупречно, они своими вопросами предвосхитят вопросы оппонентов, тем самым лишив их эффекта неожиданности.

Кроме того, такое выслушивание решений позволяет оценить степень вязкости задачи. Поскольку на какие-то задачи придётся вызывать соперников, желательно вызывать их на самые вязкие задачи: пусть лучше они ошибаются и теряют очки при рассказе!

Специализация по темам

Хорошо составленный вариант боя тематически разнообразен: в нём обязательно есть и геометрия, и алгебра, и задачи комбинаторного плана. Кому-то нравится всё, но чаще отдельный ученик предпочитает задачи на какую-то определённую тему, она у него лучше получается. И если для успеха на олимпиаде ученик должен быть «всеядным», то в команде не меньшим почётом могут пользоваться и «узкие специалисты», способные решить очень трудную задачу, но только на свою излюбленную тему. Впрочем, в хорошей команде есть «специалисты» по разным темам. Если по какой-то теме специалиста нет, полезно предложить кому-нибудь из игроков освоить «вторую специальность». Даже если он задачу и не решит, то сможет хотя бы более осмысленно прооппонировать такую задачу.

Подборка задач данной книги сгруппирована, как уже говорилось выше, как раз по темам. Это удобно как для проведения тематических занятий кружка, так и для тренировки специалистов.

Устный доклад для ровесников. Умение слушать и возражать

Мало решить задачу, надо ещё суметь её доложить. Хотя в принципе школьнику проще рассказать решение сверстникам, чем учителю, такой рассказ всё равно требует некоторой привычки. Рассказывать учителю можно «пунктиром», учитель и так всё знает, поэтому может пропуски заполнить сам. Сверстник такими навыками не обладает, для него придётся рассказывать подробнее. Тем более это касается сверстника, выступающего в роли оппонента, которому

выгодно тебя «срезать». К тому же сверстник может задать не очень понятный вопрос.

Ещё больше тренировки требует умение слушать доклад ровесника и обоснованно возражать. Можно сделать так, чтобы параллельно школьники тренировались рассказывать: ученик идёт к доске рассказывать решённую им задачу, а все остальные слушают, задают вопросы. В конце тот, кто задавал наиболее существенные вопросы, получает право на заключение. Конечно, всё это требует времени, и такими тренировками не стоит злоупотреблять: достаточно разбирать по одной задаче в конце занятия. Кроме того, может мешать отсутствие мотивации. Обыкновенно у слушателей нет никакого желания «топить» товарища, поэтому «острых» вопросов они задавать не будут. Если они даже что-то поняли не до конца, то предпочтут отмолчаться, чем обнаружить своё непонимание. Чтобы всё заработало, надо изменить мотивацию, погрузить и докладчика, и слушателей в атмосферу матбоя. Однако учебный бой слишком часто не устроишь — нет времени.

Для тренировки в рассказе и оппонировании один из авторов этой книги практиковал у себя на кружке «Непрерывный матбой». В конце каждого занятия один из учеников, считавших, что он решил какую-то домашнюю задачу, вызывал остальных на неё. Если кто-то кроме него желал рассказать задачу, то выходил и рассказывал, а вызвавший оппонировал. Иначе рассказывал он, а оппонировали все вместе. За каждый раунд начислялись очки, и при прочих равных условиях преимущество выхода имел тот, у кого было меньше очков. Так в рассказ вовлекались и не самые сильные ученики, что давало больше возможностей оппонентам для обнаружения огрехов.

Учебный бой по готовому варианту

Хотя задачи сгруппированы тематически, а не по вариантам, восстановить и использовать варианты турнира 2012 года несложно. В рубрикаторе в конце книги все варианты перечислены, для каждого приведён список из номеров задач. Выберите подходящий вариант по классу и сложности и сыграйте по нему товарищеский бой, а затем сравните рассказанные решения с решениями из данной книги. Чтобы лучше ориентироваться, напомним, что самая сильная лига называлась высшей, следующая — первой, ещё более слабая лига — второй. Ещё слабее была смешанная лига 6—7 клас-

сов, поскольку туда попали команды, занявшие последние места в командной олимпиаде 6 и 7 классов. Варианты одного класса для разных лиг обычно пересекались как минимум по 4 задачам. По уровню: две самые сложные задачи высшей лиги рассчитаны на победителей Московской олимпиады по соответствующему классу, ещё две — на призёров. Две самые сложные задачи первой лиги рассчитаны на призёров (3-й диплом или похвальный отзыв), ещё две — на призёров окружного тура. Остальные задачи высшей и первой лиг рассчитаны на кружковцев и учащихся матклассов, занимающихся не первый год. Задачи второй лиги рассчитаны по большей части на кружковцев первого года обучения.

Оценка и самооценка решений

Если противник решил всё, а ваша команда ничего — победы не ждите. Но так бывает редко: как правило, в турнирах противники столь разной силы оказываются в разных лигах и между собою не встречаются. В большинстве боёв количество решённых задач у команд отличается не больше чем на два. На олимпиаде две задачи — это огромный разрыв. Но математический бой — игра с другими правилами, окончательный счёт зависит от самой игры ничуть не меньше, чем от количества решённых задач. Опытные команды без труда припомнят случаи, когда, сидя «без двух», команды сводили бой вничью или даже выигрывали. Тут обычно не обходится без тактических хитростей, имеющих к математике отдалённое отношение. Но неожиданные исходы случались и в боях тактически опытных команд. Что же за «палочка-выручалочка» помогала «неудачникам» спастись? И какое отношение она может иметь к математической подготовке, если не помогла решить задачи?

Палочкой-выручалочкой была *глубина понимания*. Представим себе двух альпинистов, которые покоряют вершину и стараются опередить друг друга. Одному из них осталось до вершины совсем немного, но из-за тумана он её не видит и считает, что он уже там. Другой от вершины пока гораздо дальше, но у него есть прибор ночного видения, и он чётко понимает, где находится и в каком направлении двигаться. Понятно, что в такой ситуации шансы второго покорить вершину гораздо выше. Вот так же и с задачами: почти решил не значит решил. Решение ещё надо изложить и защитить. Если ты не видишь скользкого места, оппонент вполне может тебя туда направить и дать поскользнуться.

Итак, самой серьёзной ошибкой на математическом бое является переоценка того, насколько задача решена. Такая самоуверенность может оказаться губительной на всех стадиях. Если на этапе решения задач команда ошибочно считает нерешённую задачу Z решённой, она перестаёт тратить силы на её решение. А ведь может быть ещё 10 минут — и вместо псевдорешения получилось бы решение! Если команду вызывают на задачу Z , то она может пойти её рассказывать и вместо заслуженных 10–12 очков получить 0, а то и подарить 6 очков противнику, доказавшему отсутствие решения; или даже подарить все 12, если противник задачу решил. Наконец, если вы сами вызвали на задачу Z и получили проверку корректности, то существует большой риск, что вызов окажется некорректным. Тогда вы подарили противнику 6 очков и вынуждены вызывать опять — быть может, на заведомо несложную задачу.

И наоборот, даже для нерешённой задачи оказывается полезным разобраться в ней глубже, чем противник. В первую очередь это пригодится, когда вас на эту задачу вызовут и вы сделаете проверку корректности. Вы должны понять соперника и, обнаружив у него отсутствие решения, рассказанное им псевдорешение «утопить». А вот если глубже разобрался соперник, то «потопить» его вряд ли удастся, и он может уйти безнаказанным, «бесплатно» передав вам очередь вызова.

Итак, в отличие от олимпиады, жизненно важно научить школьников отличать полные решения от неполных, а неполные — от неправильных. Тут, однако, есть проблема. Тренировка эффективна, когда в докладе встречаются ошибки и неточности. Обычно же получается, что добровольно соглашается представлять задачу только достаточно сильный участник или участница кружка, и недочётов в решении мало.

Обсуждение «липовых» решений

Ошибки, возникающие «естественным» путём, обычно достаточно прозрачны и возникают непредсказуемо. Поэтому для целей тренировки их недостаточно. Руководителю надо взять на себя нелёгкий труд рассказывать ученикам «липовые» решения, сначала заранее предупредив, а потом и без предупреждения. Но где взять такие решения? Первый источник — софизмы. Их, к сожалению, немного, но пару десятков в Интернете найти всё-таки удастся. Но софизмы, увы, имеют обычно мало общего с теми ошибками,

которые допускают школьники на боях. Более похожи на них те распространённые, но неполные или неправильные решения, которые попадают в книги торопливых авторов. Иные читатели даже предпочитают такие решения правильным ввиду их «простоты и краткости»! В своей книге¹ мы поместили пару десятков таких решений вслед за правильными под рубрикой «Ложный след». Их тоже можно использовать, но надо иметь в виду, что задачи той книги сложнее, чем этой. Наконец, опытный преподаватель и сам не раз сталкивался в своей практике с неправильными решениями, где ошибки вовсе не очевидны. Осталось вспомнить эти решения, оформить и употребить в дело.

По зрелом размышлении авторы взяли на себя труд сделать подборку таких решений и в данной книге. 26 задач с псевдорешениями, их разоблачениями и отсылками к правильным решениям читатель найдёт в главе «Липовая роща». Пытливый ученик может поработать с этими решениями и самостоятельно. Прочитайте задачу, порешайте её некоторое время, а затем прочтите предложенное псевдорешение и попытайтесь найти в нём все ошибки и недочёты. Запишите их коротко, а затем прочтите правильное решение (ссылка на него есть в конце решения). Попробуйте ещё раз найти все ошибки и оценить, сколько они стоят в очках. Наконец, почитайте разоблачение и сравните его с вашим списком ошибок и их оценкой.

¹ Медников Л. Э., Шаповалов А. В. Турнир городов: мир математики в задачах. М.: МЦНМО, 2012.

ПРЕДИСЛОВИЕ К ЗАДАЧНИКУ

Здесь собраны все задачи математических боёв и олимпиад турнира 2012 года, задачи «Математического квадрата» и конкурса капитанов, а также более сотни избранных задач двух прошлых турниров 2006 и 2007 года — всего около 400 задач. Мы разделили их на игровые (задачи «Математического квадрата» и конкурса капитанов) и основные (все остальные). Все игровые задачи — не новые, поэтому они выделены в отдельную главу и публикуются без указания автора. У основных задач автор, как правило, указан, а в тех редких случаях, когда он неизвестен, указан источник задачи или написано «Фольклор». Стоит отметить, что среди задач основных соревнований новые авторские задачи составляют свыше 80%. Для турниров математических боёв это беспрецедентно много. Традиция идёт от самых первых турниров, где все 100% задач были новыми и авторскими — благодаря настойчивости их первого организатора С. И. Токарева. С ростом популярности турнира росло число лиг, задач требовалось больше, новизна всех задач стала нереальной. Впрочем, отступления от требования новизны допускаются почти исключительно в тех лигах, где школьники по разным причинам не обладают широким кругозором по части олимпиадных задач.

Основных задач набралось около трёхсот. Читателю непросто сориентироваться в таком массиве, разбиение по вариантам и по хронологии тут мало помогает. Для удобства поиска и работы мы разбили задачи на темы, снабжённые подзаголовками, а темы сгруппировали в четыре раздела: логика, комбинаторика, арифметика/алгебра и геометрия. Далее пронумеровали задачи от 1 до 275 и для каждой указали, каким классам она подходит. Как обычно, наиболее трудные задачи помечены одной или двумя звёздочками.

Названия тем являются одновременно как бы статьями рубрикатора. За подзаголовком следуют номера дополнительных задач. Эти задачи находятся в других темах или среди игровых, но тематически подходят.

Игровые задачи упорядочены и расположены в соответствии с особенностями «Математического квадрата». Они нумеровались кодами: например, код 8Ал4 означает 8 класс, «Алгебра», 4-я задача.

Все основные задачи снабжены полными решениями, вынесенными в отдельную главу. К некоторым задачам приведены два ре-

шения. Иногда после решения под заголовком «Путь к решению» приведены соображения, как такое решение можно придумать.

Все игровые задачи снабжены ответами, а также указаниями или краткими решениями.

Мы старались выбирать короткие и содержательные решения и излагать их так, чтобы они были доступны ученикам соответствующего класса — и по материалу, и по идеям. Иногда ради этого приходилось жертвовать краткостью. В других случаях мы приводили два решения: скажем, более длинное — для семиклассников, затем более короткое — для восьмиклассников.

Для желающих узнать состав вариантов, подборки задач по годам и по авторам созданы соответствующие списки номеров в рубрикаторе. При этом в списках для олимпиад порядок в списке соответствует порядку на олимпиаде, а в остальных списках порядок номеров случаен, так как он не важен.

Тексты условий задач в данной брошюре могут несколько отличаться от тех вариантов, которые давались во время турнира. Исправления делались для единообразия формулировок и устранения двусмысленностей и языковых шероховатостей. Большинство решений этой книги сообщены нам членами методической комиссии и авторами задач, за что мы им очень благодарны. Мы, однако, несём ответственность за все ошибки и опечатки этой книги.

ОСНОВНЫЕ ЗАДАЧИ

АРИФМЕТИКА И АЛГЕБРА

Цифры

См. также задачи 20, 21, 53, 56, 6Ц1, 6Ц2, 6Ц4, 6Ц5, 6Ч1, 8Ал2, 8Ар4, 8К1.

1. (6—7) Дата 21.02.2012 читается одинаково слева направо и справа налево. Сколько всего таких дат в XXI веке?

(А. Шаповалов)

2. (6—7) Астролог считает год счастливым, если в его записи используются четыре последовательные цифры. Например, следующий, 2013-й год будет именно таким. А когда, по мнению этого астролога, был предыдущий счастливый год?

(Н. Нетрусова)

3. (6) Четырёхзначное число назовём *временным*, если можно расположить его цифры и поставить посередине двоеточие так, чтобы получилось какое-то показание часов (например, *временными* являются числа 2010 и 1995, так как часы могут показывать время 00:12 и 19:59). Найдите наименьшее невременное число, большее чем 2007.

(А. Шаповалов)

4. (6—8) Решите ребус: ПОТОР : СОКОЛ = 3 : 1. (А. Хачатурян)

5. (6—7) Решите ребус: FOOLS + ROADS = RUSSIA. (К. Кноп)

6. (6—7) На доске было написано равенство. Дежурный по классу успел стереть некоторые цифры (сколько цифр он стёр, неизвестно). На доске осталось:

$$1127...173 \times 1017...565 = 1126...745.$$

Могло ли исходное равенство быть верным? (Фольклор)

7. (7—8) На доске выписаны все целые числа от 1 до n . Сеня посчитал, сколько всего цифр выписано. Оказалось, что это число записывается теми же цифрами, что и n , но в обратном порядке. Найдите n , если известно, что оно

а) двузначно; б) трёхзначно. (А. Шаповалов)

8. (7—8) Каждая цифра натурального числа N строго больше стоящей слева от неё цифры. Чему равна сумма цифр числа $9N$?

(С. Волчёнков)

9. (7—8) Докажите, что между натуральными числами n и $9n$ есть натуральное число, сумма цифр которого на 7 больше, чем у n .

(А. Шаповалов)

10. (7—8) Верно ли, что любое натуральное число, делящееся на 9, отличается от некоторого натурального числа n на сумму цифр этого числа n ?

(И. Акулич)

11. (8—9) В одну строку без пробелов выписаны числа натурального ряда: 12345678910111213... Далее цифры полученной последовательности попеременно складывают на разные плечи качелей: цифру 1 — на левое плечо, цифру 2 — на правое, цифру 3 — на левое и т. д. Если на очередном шаге сумма цифр на каком-то плече окажется больше, то это плечо перевешивает. Докажите, что качели никогда не перестанут качаться.

(А. Жуков)

Простая арифметика

См. также задачи 6A1—6A3, 6K2, 7Г1.

12. (6—7) В дремучем лесу вот уже более 1000 лет живёт Волшебная ёлка. Известно, что каждое утро на ней вырастают 100 иголок и каждая иголочка живёт ровно 4 года, а затем отмирает. Сколько же сегодня иголок на Волшебной ёлке?

(Фольклор)

13. (6—7) Старик Хоттабыч может совершить чудо, вырвав из своей волшебной бороды один волос (при этом на месте двух вырванных волос вырастает один новый). Сколько всего чудес может совершить старик Хоттабыч, если первоначально в его бороде 2012 волос?

(Фольклор)

14. (6—7) Каждый мальчик съел по одной конфете, 5 котлет и 3 омлета, а каждая девочка — по 2 котлеты, 4 омлета и 6 конфет. Всего они съели 220 конфет и котлет вместе взятых. А сколько омлетов? (По мотивам Харьковской областной олимпиады 1999/2000)

Делимость и остатки

См. также задачи 47, 49, 50, 52, 55, 56, 59, 61, 62, 63, 113, 114, 122, 143, 155, 169, 174, 181, 189, 193, 194, 6Ц2, 6Ц3, 6Ч2, 6Ч3, 7A5, 7Г3, 7К1, 7К3, 8Ap1, 8Ap2, 8Ap4, 8K1, 8M1, 9П1, 9П2, 9П4, 9Т1.

15. (6—7) Саша живёт в своём доме, в котором окон на 2 больше, чем дверей. Все братья Саши — Петя, Коля и Лёня — тоже живут

каждый в своём доме. В доме Коли окон на 5 больше, чем дверей, а в доме Пети окон на 4 больше, чем дверей. Может ли у всех братьев Лёни в домах в сумме окон быть в 4 раза больше, чем дверей?
(Фольклор)

16. (6—7) Для проведения тренировочной командной олимпиады пригласили всех желающих школьников и заранее объявили, что в каждой команде — от 6 до 8 человек. Когда подсчитали количество пришедших, то выяснилось, что выполнить это условие невозможно, при этом на две команды школьников хватало. Сколько человек пришло на олимпиаду?
(А. Блинков)

17. (6—7) У Мальвины были золотые колечки веса 1 г, 3 г, 4 г, 6 г, 8 г, 9 г, 11 г, 12 г и 16 г. Алиса и Базилио украли по 4 кольца. При этом Алисе досталось втрое больше золота, чем Базилио. Сколько весит оставшееся кольцо?
(Фольклор)

18. (6—8) В Зазеркалье имеют хождение монеты достоинством 7, 13 и 25 гиней. Алиса заплатила за пирожок несколько монет и получила на сдачу на две монеты больше.

а) Могла ли покупка стоить 100 гиней?

б) Могла ли покупка стоить 60 гиней?

в) Какова минимально возможная стоимость покупки?

(А. Шаповалов)

19. (6—7) В теремке лежали 100 конфет. Пришла мышка и съела некоторое количество конфет. Но тут пришла лягушка, и мышка съела ещё одну конфету, чтобы количество оставшихся делилось поровну на двоих. Потом пришли по очереди зайчик, лисичка, волк и медведь, и каждый раз мышка съедала по одной конфете, чтобы то, что осталось, делилось поровну на всех собравшихся. Наконец пришёл слон. Какое наименьшее количество конфет придётся съесть мышке на этот раз, чтобы количество оставшихся делилось поровну на семерых?
(И. Раскина)

20. (6—7) Сумма трёх натуральных чисел равна 520. На какое наибольшее число нулей может оканчиваться их произведение?

(Колумбия, 2004)

21. (6—7) Докажите, что сумма всех семизначных палиндромов делится на 9.
(А. Шаповалов)

22. (6—7) а) В стране имеют хождение банкноты в 60, 15, 12 и 10 динаров. Некто жил в гостинице и платил каждый день одну и ту же сумму, получая причитающуюся сдачу. Вначале у него была банкнота в 60 динаров. Могло ли оказаться, что гость прожил в гостинице 10 дней?

б) В стране имеют хождение монеты в 1 динар, а также в $\frac{1}{4}$ и $\frac{1}{6}$ динара. Гость жил в гостинице и платил каждый день одну и ту же сумму, получая причитающуюся сдачу. Вначале у него был 1 динар. Мог ли гость прожить в гостинице 10 дней?

в) В стране имеют хождение монеты в 1 динар, а также в $\frac{1}{4}$, $\frac{1}{5}$ и $\frac{1}{6}$ динара. Гость жил в гостинице и платил каждый день одну и ту же сумму, получая причитающуюся сдачу. Сначала у него был 1 динар. Мог ли гость прожить в гостинице 14 дней? (Ни на что другое гость денег не тратил.) (А. Шаповалов)

23. (7—8) Приехав от бабушки, марсианин Надгоб через несколько дней написал ей первое электронное письмо. Промежуток между первым и вторым письмом длился на день дольше, между вторым и третьим — ещё на день дольше и т. д. Спустя длительное время бабушка рассортировала письма по дням недели, и на каждый хоть одно письмо да пришлось. Докажите, что в марсианской неделе чётное число дней. (И. Богданов)

24. (7—8) Мама пекла блины, а четверо детей их ели, каждый со своей скоростью. Получив сначала по блину, дети начали есть одновременно. Как только ребёнок съедал блин, он получал ещё один. Каждый хоть раз получил добавку. Наконец мама объявила, что больше блинов не будет. Дети доели то, что у каждого оставалось, и закончили одновременно. Известно, что до этого не было моментов, когда бы заканчивали есть блин одновременно двое или больше детей. Какое наименьшее число блинов могла испечь мама? (А. Шаповалов)

25. (7—9) Докажите, что существует бесконечно много таких пар натуральных чисел (m, n) , что m и n имеют одинаковые наборы простых делителей и $m - 1$ и $n - 1$ также имеют одинаковые наборы простых делителей. (Фольклор)

26. (7—8) Берутся всевозможные произведения наборов из 2011 чисел от 1 до 2010, необязательно различных, а далее находится их

сумма. Найдите остаток от деления этой суммы на 2011. (Наборы $\{1, 2, 2, 1, 1, 1, \dots\}$ и $\{2, 1, 1, 2, 1, 1, 1, \dots\}$ считаются одинаковыми.)
(А. Юрков)

27. Числа $1, 2, 3, \dots, n$ записаны в строку в таком порядке, что из каждых трёх подряд записанных чисел одно равно сумме двух других. Может ли быть

а) (7) $n = 100$; б) (9) $n = 2007$? (И. Акулич)

28. (6—7) Можно ли расставить на окружности цифры $0, 1, 2, \dots, 9$ так, чтобы сумма каждых трёх из них, идущих подряд, не превышала 13? (Фольклор)

29. (6—7) а) В треугольнике все углы измеряются целым числом градусов, причём все цифры в записи углов различны. Каков наибольший возможный НОД величин углов?

б) Сумма нескольких натуральных чисел равна 1000, все цифры в их записи различны. Какие значения может принимать наибольший общий делитель этих чисел? (А. Шаповалов)

30. (6—7) а) Найдите наибольшее простое число, которое нельзя представить как сумму двух составных.

б) Найдите наибольшее натуральное число, которое не представляется как сумма восемнадцати составных. (А. Шаповалов)

31. (6—7) Перемножили несколько натуральных чисел и получили 224, причём самое маленькое число было ровно вдвое меньше самого большого. Сколько чисел перемножили? (А. Сгибнев)

32. (7—8) У натурального числа есть десять различных простых делителей. Докажите, что найдётся несколько делителей этого числа, сумма которых делится на 1024. (Д. Калинин)

33. (7—8) Пусть n и m — натуральные числа, причём $n > m$. Докажите, что n представимо в виде суммы двух натуральных чисел, одно из которых — делитель числа m , а другое взаимно просто с m . (С. Конягин, А. Спивак)

34. (9) Пусть p и q — произвольные целые числа. Последовательность чисел x_n определяется следующим образом:

$$x_0 = p, \quad x_n = (n+1)x_{n-1} + (-1)^n q \quad \text{для всех } n \geq 1.$$

Докажите, что x_n делится на n для всех натуральных n . (И. Акулич)

35. (9) Пусть p — нечётное простое число. Для всех k от 1 до $p - 1$ нашли целую часть выражения $\frac{k^3}{p}$. Докажите, что сумма полученных чисел равна $\frac{(p^2 - 1)(p - 2)}{4}$.

(D. Doster, American Mathematical Monthly)

36. (9) Существует ли нечётное число, сумма всех делителей которого (исключая само число) больше него? (А. Марачёв)

37. (9) Пусть P — произведение некоторых восьми последовательных натуральных чисел, а Q — наименьший точный квадрат, для которого $Q > P$. Докажите, что разность $Q - P$ является точным квадратом. (С. Токарев)

Дроби

См. также задачи 36, 182, 6А4, 7А3, 8Ал3, 8М1.

38. (6—7) Клетчатая таблица называется магическим квадратом, если все числа в ней различны и суммы чисел во всех строках и столбцах одинаковы, см., например, рис. 1.

9	5	1
4	3	8
2	7	6

Существует ли магический квадрат 3×3 , заполненный числами, обратными натуральным?

(А. Шаповалов)

Рис. 1

39. (6—8) За одно нажатие можно число на экране калькулятора увеличить на его дробную часть (например, из $\frac{3}{7}$ получить $\frac{6}{7}$, а из 3,8 получить $3,8 + 0,8 = 4,6$).

а) Начав с положительного числа, меньшего 1, за три нажатия получили число 3. С какого числа начали?

б) Начав с положительного числа, меньшего 1, за десять нажатий получили число 10. С какого числа начали? (А. Шаповалов)

40. (7) Григорий Вячеславович планировал, что стоимость проживания на базе составит A рублей с человека в день (A — целое трёхзначное число, большее ста). Узнав, что команд очень много, он снизил оплату на b процентов (b — целое число). Однако на одной базе все команды не поместились, пришлось срочно дооборудовать вторую базу, поэтому новая стоимость была увеличена также на b процентов. Могло ли оказаться так, что в итоге стоимость проживания на базе отличалась от первоначальной ровно на 1 рубль?

(А. Блинков)

41. (7—8) В одном стакане было 100 мл раствора кислоты, причём доля кислоты (по объёму) составляла 40 %, а в другом — 150 мл с долей кислоты 50 %. Ложку раствора из первого стакана перелили во второй, и после перемешивания такую же ложку перелили из второго в стакана в первый. В результате доля кислоты в каждом из стаканов по-прежнему выражалась целым числом процентов.

а) Найдите доли кислоты в стаканах после переливаний.

б) Найдите вместимость ложки (объём ложки меньше объёма стакана). (С. Токарев)

42. (8—9) Числа $a^2 - a$ и $a^4 - a$ целые. Докажите, что a — целое число. (К. Кноп)

Средние

См. также задачи 80, 82, 90, 7A2, 7A3, 7Г4, 8Ap1, 9П5.

43. (6—7) Профессор Мумбум-Плюмбум мечтает найти десять различных натуральных чисел, наибольший общий делитель которых совпадает с их средним арифметическим. Удастся ли ему это сделать? (А. Жуков)

44. (6—7) Среднее арифметическое всех Володиных оценок по геометрии за четверть — целое число. Если заменить все двойки тройками, тройки — четвёрками, а четвёрки — пятёрками, то среднее арифметическое оценок опять-таки будет целым. Что Володя получил в четверти, если известно, что не все его оценки одинаковые? (В. Гуровиц)

45. (7—8) Петя вычислил среднее арифметическое некоторого множества (т. е. неупорядоченного набора) различных степеней двойки. Лена вычислила среднее арифметическое некоторого другого множества различных степеней двойки. Может ли Петино число быть равно Лениному? (О. Крижановский)

46. (7—9) Выступления танцоров оценивались семью судьями. Каждый из судей выставлял оценку (целое число от 0 до 10), худшая и лучшая оценки отбрасывались, и выводилось среднее арифметическое. По окончании соревнований председатель жюри подсчитал, что если бы средняя оценка выводилась по всем семи оценкам, то все участники расположились бы строго в обратном порядке. Какое наибольшее количество танцоров могло участвовать в соревновании? (А. Блинков)

Комбинаторная арифметика и комбинаторная алгебра

См. также задачи 66, 73, 113, 114, 183, 8Ар3.

47. (7—8) а) Можно ли в 5 кружков на рис. 2 вписать по натуральному числу так, чтобы в каждой паре кружков, соединённых отрезком, одно число делилось на другое, а в несоединённых парах такого не было?

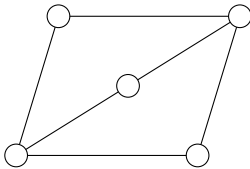


Рис. 2

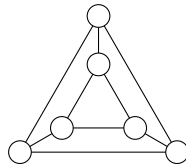


Рис. 3

б) То же для рис. 3 (6 кружков).

(А. Шаповалов)

48. (6—7) Мартышка, Попугай, Удав и Слонёнок устроили концерт по случаю приезда бабушки Удава. На концерте было исполнено 7 номеров, причём каждый номер представлял собой либо пение вдвоём, либо танец втроём. Никакие два номера не исполнялись одним и тем же составом. Удав участвовал в исполнении одной песни и двух танцев. Мартышка исполнила больше номеров, чем Слонёнок. Сколько номеров исполнил Слонёнок? (Е. Барабанов)

49. (6—7) Разложите 100 орехов на 10 кучек так, чтобы в них было разное число орехов, но никакую из куч нельзя было бы разбить на две так, чтобы число орехов во всех 11 кучках оставалось различным. (А. Шаповалов)

50. (7) У Сени есть пять альбомов с фотографиями. Как-то, рассматривая фотографии, он заметил, что суммарное число фотографий в любых двух альбомах принимает только три значения: 75, 88 и 101. Сколько фотографий в каждом альбоме? (Е. Барабанов)

51. (7—8) В Галактическом теннисном турнире, проведённом по «олимпийской» системе (проигравший выбывает), участвовало 2^{100} спортсменов. В каждом туре играли все оставшиеся спортсмены. Все матчи одного тура проходили одновременно, и каждый из них судил один арбитр. Известно, что арбитр, судивший финал, не судил

больше ни одной встречи. Докажите, что были по крайней мере ещё два арбитра, судившие по одной встрече. (Б. Френкин)

52. (8—9) В строке 2, 3, 2, 4, 3, 1, 1, 4 каждое из чисел от 1 до 4 встречается дважды, и количество запятых между одинаковыми числами равно этим числам. А можно ли записать такую строку для чисел от 1 до 2006? (В. Гуровиц)

53. (6—7) На доске вначале выписаны два числа: 1 и 2. За один ход разрешается увеличить любое число на доске на сумму цифр другого. Можно ли добиться, чтобы оба числа превратились в 2012? (А. Шаповалов)

54. (6—7) На дощечке написаны два числа: с левой стороны — 2012, а с правой — 1000. За один ход можно прибавить к числу, написанному слева, некоторое натуральное число, а число, написанное справа, умножить на то же самое число. Можно ли уравнивать числа на разных сторонах дощечки, сделав не более 1000 ходов? (А. Штерн)

55. На доске были написаны некоторые целые числа. На каждом шаге мы выбираем числа a и b и заменяем их на числа $3a - b$ и $13a - 3b$.

а) (7) Вначале на доске были записаны числа 1, 2, 3, ..., 32. Можно ли через конечное число шагов получить на доске числа 2, 4, 6, ..., 64?

б) (9) Вначале на доске были записаны числа 1, 2, 3, 4, ..., 2011, 2012. Можно ли получить числа 2, 4, 6, 8, ..., 4022, 4024?

(Хорватия, 2012)

56. (6—7) Миллионзначное натуральное число назовём *кошачьим*, если оно делится на произведение своих цифр. Сколько последовательных натуральных чисел могут быть кошачьими?

(В. Сендеров)

57. (7) Числа от 1 до 100 раскрасили в несколько цветов так, что разность одноцветных чисел не равна 2, 3 или 6. Каково наименьшее возможное число цветов? (В. Каскевич)

58. (7—8) Прибор «Сложномер» представляет любое натуральное число в виде произведения простых чисел (не обязательно различных) и выдаёт количество сомножителей в таком представлении. Например, для $28 = 2 \cdot 2 \cdot 7$ «Сложномер» выдаёт 3. Прибор

стали последовательно применять к натуральным числам начиная с 2. В какой-то момент прибор впервые выдал число, большее 2012. Докажите, что следующее выданное число меньше 2013.

(Б. Френкин)

59. (7—8) По кругу написаны натуральные числа, причём каждое равно сумме или разности своих соседей. Докажите, что количество чисел на круге делится на 3.

(Фольклор)

60. (6—8) Турнир математических боёв в «Берендеевых Полянах» продолжался 7 дней. На 28 команд-участниц в столовой накрывалось ровно 28 столов. В первый же день не все команды ели за своим столом. Во второй день команд, евших не за своим столом, оказалось на 2 больше, в третий день — ещё на 2 больше, и т. д. По окончании турнира Григорий Вячеславович подсчитал, что каждая команда всё-таки сумела поесть за отведённым ей столом не менее пяти дней. Сколько команд ели за своим столом в последний день? (В течение одного дня команда ела за одним и тем же столом.)

(А. Блинков)

61. (8—9) Дана бесконечная последовательность пифагоровых (т. е. прямоугольных с целочисленными сторонами) треугольников. Гипотенуза каждого из них служит катетом следующего. Может ли в этой последовательности быть бесконечно много треугольников, подобных египетскому (т. е. со сторонами 3, 4, 5), не обязательно идущих подряд?

(Б. Френкин)

62. (8—9) Докажите, что числа от 1 до n можно расставить в ряд так, чтобы каждое делило сумму предыдущих.

(А. Шаповалов)

63. (9) Каких чисел больше в первой тысяче: представимых или не представимых в виде $x^3 - y!$, где x и y — натуральные числа?

(В. Сендеров, Н. Агаханов)

Уравнения в целых числах

См. также задачи 60, 7А5, 7К3, 7П4, 8А1.

64. (7) Существуют ли различные натуральные числа x , y и z , для которых $x + \text{НОД}(y, z) = y + \text{НОД}(z, x) = z + \text{НОД}(x, y)$?

(С. Токарев)

65. (7—8) Найдите все пары натуральных чисел, удовлетворяющие системе уравнений

$$\begin{cases} \text{НОК}(m, n) + \text{НОД}(m, n) = m + n, \\ m - n = 2012. \end{cases} \quad (\text{Греция, 2012})$$

66. (7—8) Петя выписал строку из трёх положительных чисел, под ней — строку из их попарных сумм, а под ней — строку из попарных произведений чисел второй строки. Числа третьей строки совпали (в каком-то порядке) с числами первой строки. Найдите эти числа. (Б. Френкин)

67. (7—8) Найдите все тройки простых чисел (p, q, r) , удовлетворяющие равенству $p^3 + q^3 = 2r^3$. (В. Сендеров)

68. (7—8) Решите в целых числах уравнение $x^3 + y^3 = 2^{2007}$. (С. Мазаник)

69. (7—8) Пункты A, B и C соединены прямыми дорогами (хотя бы одна дорога между каждой парой городов). Известно, что между A и B есть всего 127 маршрутов (прямых и через C), а между A и C есть всего 164 маршрута (прямых и через B). Сколько всего маршрутов между B и C (прямых и через A)?

(А. Шаповалов по мотивам шведских олимпиад)

70. (8—9) Найдите все пары натуральных чисел x и y , при которых $2^x(x+1) = 2^y(x+y)$. (В. Сендеров)

71. (8—9) Найдите все простые числа вида $(3+n)^4 - 256n$, где n — натуральное число. (В. Сендеров)

72. (8—9) Найдите все натуральные x, y , при которых $9^x = 2y^2 + 1$. (В. Сендеров)

73. (8—9) У Данилы есть простое число p . Он считает натуральное число k хорошим, если $k^2 + p$ раскладывается на множители, большие k . Три хороших числа Данила нашёл. Докажите, что он, если покопается, найдёт и четвёртое. (М. Антипов)

74. (9) Найдите все натуральные m , при которых число $1 + 2^m$ простое и делит $3^m + 4^m$. (В. Шарич)

Задачи на движение

См. также задачи 252, 6А5.

75. (6—7) Вася отправился из пункта A в пункт B . Он прошёл пешком $\frac{1}{5}$ часть пути, а затем сел на автобус и проехал оставшееся расстояние, что заняло по времени $\frac{1}{4}$ часть всего путешествия из A в B . На следующий день Вася отправился из пункта B в пункт C .

а) Вначале он ехал на автобусе, что заняло по времени $\frac{1}{7}$ часть путешествия из B в C , а остальной путь прошёл пешком. Какую часть расстояния прошёл Вася пешком во второй день? (Скорость автобуса постоянна, скорость Васи тоже.)

б) Вначале он ехал на автобусе, что заняло по времени $\frac{1}{5}$ часть путешествия из B в C , а остальной путь прошёл пешком. Какую часть расстояния прошёл Вася пешком во второй день? (Скорость автобуса постоянна, скорость Васи тоже.) (Б. Френкин)

76. (6—8) а) Маша вышла из дома, через 12 минут оттуда же вышли Миша и Тиша. Миша шёл вдвое быстрее Тиши и догнал Машу за 4 минуты. За сколько минут догнал Машу Тиша? (Жюри)

б) Маша вышла из дома, через некоторое время оттуда же вышел Миша, который ещё через какое-то время догнал Машу. Если бы Миша шёл вдвое быстрее, то он догнал бы Машу в три раза быстрее. Во сколько раз быстрее Миша догнал бы Машу (по сравнению с реальным временем), если бы вдобавок Маша шла вдвое медленнее? (Д. Шноль)

77. (6—7) Пешеход, велосипедист и мотоциклист движутся в одну сторону с постоянными скоростями. В тот момент, когда велосипедист догнал пешехода, мотоциклист отставал от них на 6 км. В тот момент, когда мотоциклист догнал велосипедиста, пешеход отставал от них на 3 км. На сколько километров велосипедист обгонял пешехода в тот момент, когда пешехода догнал мотоциклист?

(Фольклор)

78. (7—9) Дорога от Судиславля до Москвы состоит из трёх участков: Судиславль — Кострома (50 км), Кострома — Ярославль (80 км) и Ярославль — Москва (260 км). Автобус, скорость которого нигде не превышала 80 км/ч, проехал от Судиславля до Ярославля за 2 часа, а от Костромы до Москвы — за 5 часов. Какое время автобус мог быть в пути? (С. Волчёнков)

79. (7–8) а) На круговом треке соревновались два велосипедиста, стартовавшие с одной линии, но в разные стороны. Их третья встреча произошла на линии старта. Известно, что первый тратил на один круг на 45 секунд меньше второго. Через какое время после старта произошла первая встреча?

б) На круговом треке соревновались два велосипедиста, стартовавшие с одной линии, но в разные стороны. Их седьмая встреча произошла на линии старта. За сколько секунд каждый из них проехал круг трека, если известно, что первый тратил на него на 12 секунд меньше второго, а второй — не меньше 30 секунд?

в) На круговом треке соревновались два велосипедиста, стартовавшие с одной линии, но в разные стороны. Их восьмая встреча произошла на линии старта. За сколько секунд каждый из них проехал круг трека, если известно, что первый тратил на него на 14 секунд больше второго, а второй — не меньше 30 секунд? (Фольклор)

Уравнения и неравенства

См. также задачи 8Ар5, 9ПЗ.

80. (6–7) Найдутся ли три положительных числа, из которых одно равно произведению двух других, другое — разности двух других, а третье — полусумме двух других? (А. Шаповалов)

81. (7–8) а) Существуют ли положительные числа x , y , z и t , удовлетворяющие равенствам $x^3 + y^3 + z^3 = t^3$ и $\frac{1}{x^5} + \frac{1}{y^5} + \frac{1}{z^5} = \frac{1}{t^5}$?

б) Существуют ли положительные числа x , y , z и t , удовлетворяющие равенствам

$$x^{2005} + y^{2005} + z^{2005} = t^{2005} \quad \text{и} \quad \frac{1}{x^{2007}} + \frac{1}{y^{2007}} + \frac{1}{z^{2007}} = \frac{1}{t^{2007}}?$$

(В. Сендеров)

82. (8–9) В ряд выписано 21 число, при этом если число y стоит между числами x и z , то $y = \frac{2xz}{x+z}$. Первое число равно $\frac{1}{100}$, а последнее число равно $\frac{1}{101}$. Найдите пятнадцатое число.

(Колумбия, 2004)

83. (8–9) Пусть d — наибольшее из положительных чисел a , b , c , d . Докажите неравенство $a(d-b) + b(d-c) + c(d-a) \leq d^2$.

(Сербская олимпиада, 1995)

84. (9) Пусть a и b — положительные числа, а n — натуральное число, большее 1. Докажите, что если $x > 0$ и $x^n \leq ax + b$, то $x < \sqrt[n-1]{2a} + \sqrt[n]{2b}$. (Германия, 2012)

85. (9) Положительные числа a, b, c таковы, что

$$(a + b)(a + c)(b + c) = 8.$$

Докажите, что

$$\frac{a + b + c}{3} \geq \sqrt[27]{\frac{a^3 + b^3 + c^3}{3}}.$$

(Киевский турнир матбоёв, 2008)

86. (9) Сумма неотрицательных чисел x, y, z равна 1. Докажите неравенство $\frac{1}{1 + 4x^2} + \frac{1}{1 + 4y^2} + \frac{1}{1 + 4z^2} \geq 2$. (В. Сендеров, В. Шарич)

87. (8–9) Докажите неравенство

$$\frac{1}{(2n + 1)(2n + 2)} + \frac{1}{(2n + 3)(2n + 4)} + \dots + \frac{1}{(4n - 1)4n} < \frac{1}{8n}.$$

(А. Заславский)

88. (9) Докажите, что для положительных чисел a, b, c имеет место неравенство

$$\frac{3b^3}{a^2 + ab + b^2} + \frac{3c^3}{b^2 + bc + c^2} + \frac{3a^3}{c^2 + ca + a^2} \leq \frac{a^2}{b} + \frac{b^2}{c} + \frac{c^2}{a}.$$

(Д. Калинин)

89. (8) Пусть x и y — неотрицательные числа, сумма которых не превосходит 1. Докажите, что $x^2 + 8x^2y^2 + y^2 \leq 1$. (В. Сендеров)

90. (9) Положительные числа x, y, z таковы, что $x^2 + y^2 + z^2 = 3$. Докажите, что $\frac{1}{\sqrt{1 + x^3}} + \frac{1}{\sqrt{1 + y^3}} + \frac{1}{\sqrt{1 + z^3}} \geq 2$. (Р. Пиркулиев)

91. (8) Решите систему

$$\begin{cases} 6 \leq x \leq y \leq z \leq 8, \\ (x + 3y + 3z)^2 \leq 48xz. \end{cases} \quad (\text{С. Дворянинов})$$

92. (9) Дано целое число a , большее 1. Найдите такую арифметическую прогрессию с первым членом a , содержащую два числа из набора a^2, a^3, \dots, a^{18} , чтобы её разность была наибольшей. (Не предполагается, что разность будет целым числом.) (Чехия, 2011/12)

Квадратный трёхчлен, многочлены, функции

См. также задачи 71, 74, 8Ал4, 8Ал5, 9П5.

93. (8—9) Даны пять вещественных чисел: коэффициенты квадратного трёхчлена и его корни. Их произведение положительно. Сколько из этих пяти чисел положительны? (Б. Френкин)

94. (8—9) а) Дан квадратный трёхчлен с ненулевыми коэффициентами, имеющий вещественный корень. Всегда ли можно поставить коэффициенты в таком порядке, чтобы полученный трёхчлен имел отрицательный корень?

б) Существуют ли такие три вещественных числа, что если их поставить в одном порядке в качестве коэффициентов квадратного трёхчлена, то он имеет два положительных корня, а если в другом — два отрицательных? (Б. Френкин)

95. (8—9) а) Найдите все квадратные трёхчлены с целыми коэффициентами, у которых сумма корней равна их произведению и равна дискриминанту.

б) Найдите все квадратные трёхчлены, у которых сумма корней равна их произведению и равна дискриминанту. (А. Блинков)

96. (8—9) Докажите, что существует бесконечно много приведённых квадратных уравнений с целыми коэффициентами, у которых один из корней равен дискриминанту. (А. Хачатурян)

97. (8) Найдите все простые натуральные числа p и q , для которых уравнение $x^2 + px + q = 100$ имеет два целых корня. (В. Каскевич)

98. (8—9) У Миши было квадратное уравнение с одной переменной x . Он заменил в нём x на $\frac{3x+1}{2x+1}$ и получил другое уравнение. Могло ли оказаться так, что первое уравнение имеет хотя бы один корень, а второе уравнение корней не имеет? (М. Антипов)

99. (8—9) Графики двух приведённых квадратных трёхчленов пересекаются в точке A , а прямая t касается этих графиков в точках B и C . Известно, что $AB = AC$. Докажите, что t горизонтальна.

(А. Шаповалов)

100. (8—9) Квадратный трёхчлен $P(x)$ имеет различные корни r и s . Симметрично отразив его график относительно вертикальной прямой $x = r$, получим график другого трёхчлена $Q(x)$. Сколько корней может иметь трёхчлен $P(x) + Q(x)$? (Б. Френкин)

101. (8—9) Существуют ли такие функции f и g , определённые для всех действительных x , что $f(g(x)) = x + 1$ при всех x , а $g(f(x))$ не равно $x + 1$ ни при каких x ? (А. Блинков)

102. (9) Пусть a , b и c — различные целые числа. Известно, что уравнение $(x + a)(x + b)(x + c) + 5 = 0$ имеет целый корень. Докажите, что других целых корней у него нет.

(Сингапурские олимпиады, модификация)

103. (7—8) Многочлен стандартного вида с одной переменной тождественно равен сумме квадратов двух двучленов. Может ли он состоять из четырёх слагаемых? (Д. Шноль)

104. (8—9) Многочлены с целыми коэффициентами $P(x)$, $Q(x)$, $R(x)$ таковы, что $P(x) = Q(x)R(x)$. Про $P(x)$ известно, что он имеет степень четыре и все его коэффициенты по модулю не превосходят единицы. Найдите наибольшее возможное значение наибольшего из коэффициентов многочленов Q и R . (В. Сендеров)

ЛОГИЧЕСКИЕ ЗАДАЧИ

См. также задачи 15, 6Л1, 6Л3, 6Л4.

105. (6) В «Берендеевых Полянах» для всех школьников были проведены: математическая карусель, командная и личная олимпиады. Оказалось, что среди каждых трёх человек найдутся два, которые были награждены в одном и том же соревновании. Верно ли, что из этих соревнований можно выбрать такое, что все награждённые в нём школьники были награждены не только в этом соревновании? (Д. Калинин)

106. (6—7) а) Было 12 карточек с надписями: «Слева от меня — ровно 1 ложное утверждение», «Слева от меня — ровно 2 ложных утверждения», ..., «Слева от меня — ровно 12 ложных утверждений». Петя разложил карточки в ряд слева направо в каком-то порядке. Какое наибольшее число утверждений могло оказаться истинными?

б) Было 33 карточки с надписями: «Слева от меня ровно 1 карточка, где написана _____», «Слева от меня ровно 2 карточки, где написана _____», ..., «Слева от меня ровно 33 карточки, где написана _____». Вместо подчёркивания Петя вписал «ложь» или «правда» и разложил карточки в ряд слева направо в каком-то порядке. Какое наибольшее число надписей могло стать правдой? (А. Шаповалов)

Лжецы и рыцари

В задачах про лжецов и рыцарей рыцари всегда говорят правду, а лжецы всегда лгут. На Острове рыцарей и лжецов живут только рыцари и лжецы. Они знают друг про друга, кто есть кто, если в условии явно не сказано на этот счёт что-то другое.

См. также задачи 6Л2, 6Л5.

107. (6—8) На Острове рыцарей и лжецов как-то встретились три аборигена: Ах, Ох и Ух. Один из них сказал: «Ах и Ох — оба лжецы», другой сказал: «Ах и Ух — оба лжецы» (но кто именно что сказал — неизвестно). Сколько всего лжецов среди этих трёх аборигенов?

(Е. Барабанов)

108. (6—7) Шесть незнакомых между собой жителей Острова рыцарей и лжецов поужинали за круглым столом при свечах, так что каждый из них разглядел и запомнил только двух своих соседей по столу. Назавтра одному из них — Артуру — захотелось узнать, кто сидел напротив него. Он может за один вопрос узнать у каждого про любого другого (кроме себя), спросив: «Сидел ли тот рядом с тобой за ужином?» Хватит ли Артуру четырёх вопросов? (А. Шаповалов)

109. (6—8) а) За круглым столом сидят 9 жителей Острова рыцарей и лжецов. Каждый из них сказал: «Мои соседи — рыцарь и лжец». Сколько среди них лжецов? (Фольклор)

б) За столом сидело несколько жителей Острова рыцарей и лжецов. Путешественник спросил каждого про его ближайших соседей. Каждый ответил: «Оба моих соседа — лжецы». Путешественник сказал: «Если бы вас было на одного больше или на одного меньше, я бы смог узнать, сколько среди вас рыцарей. А так не могу». Сколько человек было за столом? (Д. Шноль)

110. (6—7) Все гномы делятся на лжецов и рыцарей. На каждой клетке доски 4×4 стоит по гному. Известно, что среди них есть и лжецы, и рыцари. Каждый гном заявил: «Среди моих соседей лжецов и рыцарей поровну». Сколько всего лжецов? (А. Шаповалов)

111. (6—7) В отряде богатырей все весят по-разному и делятся на наивных (всегда говорят правду) и тёртых (хану правды не говорят).

а) Несколько богатырей стали в круг. На вопрос хана «У тебя есть тёртый сосед легче тебя?» все ответили: «Нет». После разминки они стали в круг в другом порядке. Докажите, что на вопрос хана «У тебя есть наивный сосед легче тебя?» кто-нибудь ответит: «Нет».

б) Несколько богатырей стали в круг. На вопрос хана «У тебя есть тёртый сосед легче тебя?» все ответили: «Да». После разминки они стали в круг в другом порядке. Докажите, что на вопрос хана «У тебя есть наивный сосед легче тебя?» кто-нибудь ответит: «Да».

(А. Шаповалов)

112. (6—8) На конгрессе были три секции: лекари, колдуны и знахари. По кругу выстроились 112 участников, среди которых знахарей и лекарей поровну. На вопрос «Верно ли, что оба твоих соседа из одной секции?» каждый ответил: «Да». Лекарь всегда говорит правду, колдун всегда лжёт, а знахарь лжёт, если стоит рядом с колдуном (а иначе говорит правду). Могло ли в этом круге быть 66 колдунов?

(А. Шаповалов)

Соревнования логиков

113. (6—8) Каждому из трёх логиков написали на лбу натуральное число, причём одно из этих чисел являлось суммой двух других, и сообщили им об этом. Логик не видит, что написано у него на лбу, но видит, что написано у других. Первый логик сказал, что не может догадаться, какое число написано у него на лбу. После этого то же самое сказал второй логик, а затем и третий. Тогда первый сказал: «Я знаю, что у меня на лбу написано число 50». Какие числа написаны у двух остальных?

(Фольклор)

114. (6—8) Математик *C* предложил математикам *A* и *B* такую загадку:

— Я задумал три различных натуральных числа, произведение которых не превосходит 50. Сейчас я конфиденциально сообщу *A* это произведение, а *B* — сумму задуманных чисел. Попробуйте отгадать эти числа.

Узнав произведение и сумму соответственно, *A* и *B* вступили в диалог:

A: Я не знаю этих чисел.

B: Если бы моё число было произведением, я бы знал загаданные числа.

A: Но я всё равно не знаю этих чисел.

B: Да и я не знаю.

A: А я уже знаю их.

B: Да и я знаю.

Какие же числа задумал математик *C*?

(В. Лецко)

КОМБИНАТОРНЫЕ ЗАДАЧИ

Классическая комбинаторика

См. также задачи 1, 32, 63, 69, 121, 220, 6К3, 6К4, 6Ч1, 6Ч3, 6Ч5, 7Т1, 7К2, 7К4, 8К1—3, 8К5, 9КГ1.

115. Набор из трёх палочек назовём *хорошим*, если из них можно сложить треугольник (т. е. сумма длин двух коротких палочек больше длины длинной палочки).

а) (7—8) Есть 2007 палочек длин 1, 2, 3, ..., 2007. Каких наборов из них можно составить больше: хороших или не хороших?

б) (8) Найдутся ли не более 6000 палочек разной длины, из которых можно выбрать хороший набор ровно 2007 способами?

в) (9) Найдутся ли 25 палочек разной длины, из которых можно выбрать хороший набор ровно 2007 способами? (А. Шаповалов)

116. (8—9) Дан куб со стороной $n > 1$, где n — натуральное число. Сколькими способами его можно разбить на бруски размером $1 \times 1 \times n$? (Куб неподвижен, т. е. различные способы, которые при повороте куба совпадают, считаются различными.) (В. Брагин)

117. (8—9) На клетчатой доске $n \times n$ выделены поля большой диагонали из верхнего левого угла в правый нижний. За одну операцию разрешается выбрать любую клетку на диагонали, поставить по шашке на все пустые клетки слева от неё и снять все шашки с клеток под ней. Какое количество различных расположений шашек можно получить такими операциями из пустой доски? (Пустая доска тоже считается за одно расположение.) (П. Грозман)

Дискретная непрерывность

См. также задачу 133.

118. (6) На каждом листе тетради из 96 листов Дима нарисовал страшную рожу. Рисунок был либо с одной стороны листа, либо с другой, причём если Дима положит тетрадь на стол, то некоторые рожи будут «смотреть» вверх (на Диму), а остальные — вниз (в стол). Верно ли, что можно раскрыть тетрадь в таком месте (или вообще её не открывать), чтобы вверх и вниз «смотрело» одинаковое количество рож? (И. Акулич)

Индукция

См. также задачи 117, 184, 216, 8Г1, 8К5, 8М5, 9П5.

119. (8—9) Из колоды отложили часть карт. Докажите, что оставшиеся можно разделить между двумя игроками так, чтобы у них общее число карт, число карт каждой масти и число карт каждого достоинства отличалось не более чем на 1. (А. Шаповалов)

Примеры и оценки

См. также задачи 2, 3, 6, 8, 10, 16, 18в, 19, 20, 22, 24, 28, 29, 30, 31, 36, 39, 46, 56, 57, 58, 64, 106, 144, 145, 150, 151, 152, 156, 157, 158, 161, 162, 163, 167, 168, 172, 174, 175, 184, 186, 191, 196, 198, 199, 203, 204, 206, 218, 219, 220, 221, 222, 6Ц3, 6Ц4, 6К1, 6К5, 6Ч2, 7А1, 7А4, 7Г2, 7Г3, 7Г5, 7К5, 7П3, 7П5, 8Ал2, 8Ал3, 8Г1, 8Ар5, 8К4, 8М1—5, 9П1, 9П2, 9КГ2, 9КГ4, 9КГ5, 9Т2, 9Т4, 9Т5.

120. (7—9) Кузнец Емельян сделал набор из четырёх железных и одной золотой гири, где золотая по весу не меньше каждой из железных. Известно, что любой целый вес от 1 г до 10 г можно набрать одной или несколькими гирями набора. Какое наименьшее количество золота мог потратить кузнец? (А. Шаповалов)

121. (7—9) а) Девять гномов трижды становились по одному в клетки квадрата 3×3 , и каждый раз гномы, оказавшиеся в соседних по стороне клетках, здоровались. Докажите, что какие-то два гнома так и не поздоровались.

б) Сколько раз можно расставить числа от 1 до 9 в клетки квадрата 3×3 так, чтобы каждые два числа оказывались в соседних по сторонам клетках не более одного раза? (А. Грибалко)

122. (7—9) На числовой прямой отмечены все целые точки. Точки x и y соединяются дугой, если $|x - y|$ — простое число. В какое наименьшее количество цветов можно покрасить все целые точки так, чтобы каждые две соединённые точки были разного цвета? (Фольклор)

123. (7—8) Каждый из членов Мирового Правительства знает по два языка и может общаться без переводчика со всеми своими коллегами, кроме одного. Сколько членов может насчитывать Правительство? (С. Токарев)

124. (7—8) а) Есть две кубические коробочки (без крышек), которые плотно вкладываются друг в друга, как бы мы их не повернули. На всех 12 рёбрах каждой из этих коробочек расставлены стрелки. Может ли оказаться, что при любом вложении одной коробочки в другую на примыкающих рёбрах совпадут направления ровно 6 стрелок?

б) То же, но коробочек три.

в) Куб плотно лежит в коробке без крышки. На всех рёбрах куба и всех рёбрах коробки нарисованы стрелки. Известно, что, как ни положить куб в коробку, на примыкающих рёбрах совпадут направления ровно n стрелок. Чему может быть равно n ?

(А. Блинков, И. Раскина)

125. (8) В одном из судиславских городских автобусов недавно была введена новая форма оплаты проезда. Пассажиры приобретают талон, имеющий форму круга, разбитого на 13 равных секторов. Одна сторона талона покрашена в синий цвет, а другая — в жёлтый. При входе в автобус они вставляют талон в электронный компостер синей стороной вверх, и компостер пробивает несколько секторов, предварительно проверяя, что эти секторы не были пробиты ранее. Какое наименьшее количество секторов должен пробивать компостер, чтобы один и тот же талон нельзя было использовать дважды?

(А. Акопян)

Алгоритмы

См. также задачи 53, 54, 57, 62, 115, 122, 139, 149, 151, 154, 155, 157, 158, 164, 165, 166, 177, 178, 210.

126. (6—7) Три человека со стиральной машиной хотят переправиться через реку. Катер вмещает либо двух человек и стиральную машину, либо трёх человек. Беда в том, что стиральная машина тяжёлая, поэтому погрузить её в катер или вытащить из него можно только втроём. Смогут ли они переправиться? (А. Шаповалов)

127. (7—8) Три жулика, каждый с двумя чемоданами, хотят переправиться через реку. Есть трёхместная лодка, каждое место в которой может быть занято человеком или чемоданом. Никто из жуликов не доверит свой чемодан спутникам в своё отсутствие, но готов оставить чемоданы на безлюдном берегу. Смогут ли они переправиться? (Лодку, приставшую к берегу, считаем частью берега.)

(А. Шаповалов)

128.6—8 Большая свеча сгорает за час и стоит 60 рублей, а маленькая сгорает за 11 минут и стоит 11 рублей. Можно ли отмерить минуту, затратив не более чем

а) 200 рублей; б) 150 рублей? (А. Шаповалов, Л. Медников)

129.7—8 На Мишином плеере при нажатии кнопки «вперёд» номер текущей песни увеличивается, но не более чем на 2, а при нажатии кнопки «назад» — уменьшается не более чем на 2. Переходы на каждую из возможных песен происходят с ненулевой вероятностью (если достаточно много раз нажать на кнопку, начав с одной и той же песни, то каждый переход случится хотя бы один раз). Миша нажал кнопку «вперёд», и песня сменилась. Как ему узнать, на сколько увеличился номер песни? Разрешается сколько угодно жать на кнопки, но нельзя просто дослушать песню и подождать, что будет дальше. (Известно, что песни, о которых идёт речь, расположены «достаточно далеко» от концов ленты.) (М. Артемьев)

130.8—9 Есть m тортов, каждый из которых имеет вес 1. Мы хотим разделить их поровну между n школьниками ($m < n$). Докажите, что это всегда можно сделать так, чтобы каждый кусок, получившийся при дележе, весил не меньше $\frac{m}{3n}$. (К. Кноп, И. Богданов)

Взвешивания

131. (6—7) Есть 12 внешне одинаковых монет двух сортов, по 6 каждого сорта. За одно взвешивание про любую группу можно узнать, сколько в ней монет первого сорта. Как за два взвешивания найти пару монет разного сорта? (Какая из них какого сорта, выяснять не надо.) (А. Шаповалов)

132. (6—7) В наборе 7 гирь. Арбуз можно уравновесить тремя гирями, можно четырьмя, а можно и пятью. Докажите, что одну из гирь набора можно уравновесить несколькими другими. (А. Шаповалов)

133. (8—9) В ряд лежат 300 апельсинов, веса соседних отличаются не более чем на 10 г. Докажите, что их можно разложить в пакеты по 3 штуки и положить пакеты в ряд так, чтобы веса любых двух соседних пакетов отличались не более чем на 10 г. (А. Шаповалов)

134. (8—9) Есть 10 яблок, каждое из которых весит не более 100 г, и две одинаковые тарелки. Докажите, что

а) можно выбрать какое-то количество яблок и положить их в одну или обе тарелки так, чтобы веса в тарелках отличались меньше чем на 1 г;

б) можно положить в тарелки по одинаковому количеству яблок так, чтобы веса в тарелках отличались меньше чем на 2 г.

(А. Шаповалов)

135. (6—8) В ряд лежат 5 монет. Известно, что две из них фальшивые (одного веса и легче настоящих). Как за два взвешивания на чашечных весах без гирь определить, сколько настоящих монет лежит между фальшивыми?

(А. Шаповалов)

136. (7—8) Есть 10 внешне одинаковых монет. Суд знает, что их веса 1 г, 2 г, ..., 10 г. Эксперт знает точный вес каждой монеты. У него есть весы с двумя чашками, которые показывают равновесие (загорается лампочка) или неравновесие, но не показывают, какая чаша тяжелее. Может ли эксперт провести три взвешивания так, чтобы по их результатам суд мог однозначно определить вес каждой монеты?

(А. Шаповалов)

137. (7—8) На столе в ряд лежат шесть монет. Среди первых четырёх есть ровно одна фальшивая монета, среди последних двух — тоже одна фальшивая. Настоящие монеты весят одинаково, фальшивые тоже весят одинаково и легче настоящих.

а) Можно ли за два взвешивания на чашечных весах без гирь определить обе фальшивые монеты?

б) Импортные чашечные весы сообщают результат взвешивания на следующий день. Можно ли сегодня провести такие два взвешивания, чтобы завтра по полученным результатам наверняка определить обе фальшивые монеты?

(В. Трушков)

138. а) (7—8) Гирьки весом 1, 2, 3, ..., 40 граммов разложили на две чашки весов так, что есть равновесие. Докажите, что можно убрать с чаш три гирьки так, чтобы равновесие не нарушилось.

б) (8—9) То же для гирек от 1 до n граммов, где $n > 4$.

(А. Шаповалов)

139. (7—8) Ире принесли семь драгоценных камней разного веса. Прибор «РИВ-6» умеет за одно испытание из шести камней выбрать два средних по весу.

а) Как за пять испытаний Ира сможет найти самый средний по весу камень из семи?

б) За какое минимальное число применений прибора она гарантированно сможет найти средний по весу камень?

(В. Трушков, И. Руденко)

Клетчатые задачи

См. также задачи 121, 7К4, 9КГ1, 9КГ3, 9Т2, 9Т4, 9Т5.

140. (6) Из фигуры, изображённой на рис. 4, требуется убрать одну клетку так, чтобы получившуюся фигуру можно было разрезать на три равные части. Покажите, как это сделать двумя различными способами.

(А. Горская)




Рис. 4

141. (6—7) В плоском конструкторе «В мире животных» есть детали пяти видов (рис. 5). Петя сложил фигуру страуса (рис. 6), используя деталь каждого вида хотя бы по одному разу. Какие детали он обязан был использовать несколько раз? (Каждую деталь можно класть любой стороной.)

(А. Горская)

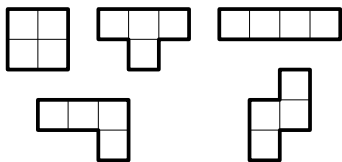


Рис. 5

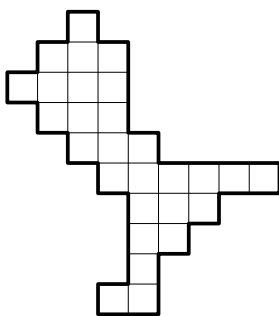


Рис. 6

142. (7—8) Из шахматной доски 8×8 вырезали центральный квадрат 2×2 (поля d4, e4, d5, e5). Можно ли оставшуюся часть разрезать на фигурки в виде буквы Г (состоящие из четырёх квадратов)? Фигурки разрешается поворачивать и переворачивать.

(В. Шарич)

143. (7—8) При каких n квадрат $n \times n$ можно разбить на трёхклеточные уголки и правильно их раскрасить в два цвета? (Раскрас-

ка называется правильной, если уголки, имеющие общую границу ненулевой длины, раскрашены в разные цвета.) (М. Артемьев)

144. (7) Есть клетчатая рамка 10×10 толщиной в одну клетку (см. рис. 7). Её разрезали по границам клеток на различные части и сложили из них квадрат 6×6 . Каково наибольшее число частей? (А. Шаповалов)

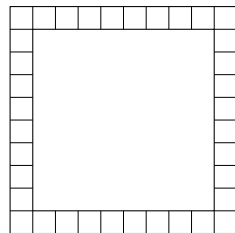


Рис. 7

145. (7) Галя вышивает крестиком узор на квадрате 10×10 . Она считает узор красивым, если он центрально-симметричен и при этом каждые два крестика одного цвета соединены цепочкой крестиков того же цвета с общими сторонами. Какое наибольшее число цветов сможет использовать Галя?

(И. Раскина, А. Артемьев)

146. (6–7) Три одинаковых кубика поставили друг на друга (рис. 8). На гранях кубиков нарисованы точки: от одной до шести (каждое число встречается по разу). Сколько всего точек расположено на шести горизонтальных гранях кубиков? (Фольклор)

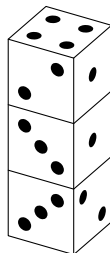


Рис. 8

147. (6–7) Карандаш раскрасил деревянный кубик в соответствии с развёрткой (на рис. 9 цифры означают цвета). Самоделкин распилил его на 8 кубиков, у каждого из которых три грани окрашены, а три — нет. Он составил кубики обратно в виде куба, вся поверхность которого окрашена. Гурвинек смотрит на кубик и видит, конечно, не все грани,

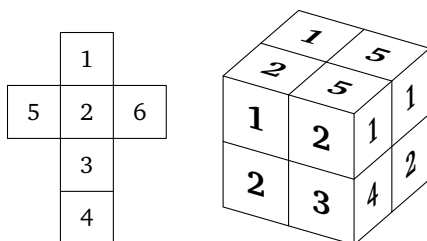


Рис. 9

а только три, повернутые к нему (рис. 9 справа). Но он утверждает, что знает, какой кубик лежит в дальнем от него углу. Какой?

(Кукинская олимпиада, 2011)

148. (6—7) Можно ли в таблице 3×3 расставить числа от 1 до 9 так, чтобы сумма чисел в каждой трёх клетках, никакие две из которых не лежат на одной вертикали или горизонтали, равнялась 15?

(Д. Калинин)

149. (7—9) а) Можно ли в клетках таблицы 12×12 расставить натуральные числа от 1 до 144 так, чтобы суммы чисел во всех вертикалях, всех горизонталях и обеих диагоналях были нечётными?

б) То же для таблицы 100×100 и чисел от 1 до 10 000.

(В. Берник, И. Акулич)

150. а) (6) Есть лист клетчатой бумаги и карандаши шести цветов. Какое наименьшее число клеток надо закрасить так, чтобы для любых двух разных цветов нашлась закрашенная в них пара клеток с общей стороной?

б) (7) То же для карандашей 10 цветов.

в) (8—9) То же для карандашей 7 цветов. (С. Токарев)

151. (6—8) а) На шахматную доску по одной выставляются чёрные и белые ладьи в любом порядке. В момент выставления ладья должна побить поровну белых и чёрных ладей (например, не бить никого). Какое наибольшее количество ладей может быть выставлено? (Ладьи бьют друг друга, если стоят на одной вертикали или горизонтали и между ними нет других ладей.)

б) То же, но ладьи выставляются только на край шахматной доски. (А. Шаповалов)

152. (7—8) Могут ли 7 слонов побить все клетки доски 4×10 ?

(А. Шаповалов)

153. (7—8) Можно ли кубик Рубика $8 \times 8 \times 8$ оклеить без щелей и перекрытий прямоугольниками 1×2 так, чтобы каждый прямоугольник заклеивал ровно две клетки и у всех было

а) ровно 6 соседей;

б) одинаковое чётное число соседей?

(Соседи имеют общую границу ненулевой длины. Перегнутый прямоугольник может закрывать две клетки на соседних гранях.)

(А. Шаповалов)

154. (7—8) В прямоугольной таблице клетки нумеруются по порядку: сначала первая строка слева направо, затем вторая строка слева направо и т. д. Барон Мюнхгаузен готов для каждого n предъявить такую таблицу, разрезанную на n многоугольных частей с равными суммами номеров в каждой части. Не хвастает ли барон?

(А. Шаповалов)

155. (8—9) Клетки доски $m \times n$ раскрашены в шахматном порядке в чёрный и белый цвет. Разрешается выбрать любые две соседние по стороне клетки и перекрасить их: белые клетки — в чёрный цвет, чёрные — в красный, а красные — в белый. При каких m и n можно добиться того, чтобы все белые клетки доски были покрашены в чёрный цвет, а чёрные — в белый? (М. Ахмеджанова, К. Кохась)

156. (7—8) В левом нижнем углу шахматной доски стоит шашка. Её можно передвигать на одну клетку вверх, либо на одну клетку вправо, либо на одну клетку по диагонали вниз-влево. Можно ли, двигая шашку таким образом, обойти все клетки доски, побывав на каждой из них один раз? (Фольклор)

157. (7—9) а) Художник-абстракционист хочет раскрасить клетки доски 8×8 в три цвета так, чтобы выполнялось условие: если у клетки k есть два соседа p и q одного цвета, то у k есть ещё два соседа одинакового цвета, но не такого, как у p . Сможет ли он это сделать? (Соседями считаем клетки с общей стороной.)

б) При каких m художник сможет так раскрасить доску в m цветов? (Е. Барабанов, И. Акулич)

158. (7—8) Петя по одной выставляет ладьи на пустые клетки доски 5×5 . За каждую ладью, которая в момент выставления может побить ладей не меньше, чем пустых полей, Петя получает рубль. Какое наибольшее количество рублей сможет заработать Петя? (Ладья бьёт другую ладью или клетку, если между ними нет других ладей.) (А. Шаповалов)

159. (6—7) На шахматную доску поставили три коня и три ладьи так, чтобы каждая фигура била ровно одну другую и была побита ровно одной другой. Докажите, что кони друг друга не бьют.

(А. Шаповалов)

160. (7—8) На доске размером 10×10 стоят 20 фишек с номерами 1, 1, 2, 2, ..., 10, 10. На каждую вертикаль и на каждую горизонталь попали по две фишки. Может ли для каждой пары фишек

с одинаковыми номерами кратчайший путь ладьи между ними быть равен их номеру? (Сторона клетки равна 1.) (А. Грибалко)

161. (7—9) Есть обычный комплект домино из 28 доминошек. Каждая доминошка в точности накрывает две клетки шахматной доски. Можно ли уложить весь комплект так, чтобы в каждой паре клеток с общей стороной, накрытых *разными* доминошками, были одинаковые цифры? (Комплект домино — это набор из 28 прямоугольников 1×2 , в каждой клетке которых написана одна из цифр от 0 до 6, причём каждая пара цифр встречается ровно на одной доминошке. При выкладывании комплекта 8 клеток останутся не накрытыми.) (А. Шаповалов)

162. (7—8) В угловой клетке шахматной доски 100×100 стоит фишка. За один ход разрешается передвинуть её на соседнюю клетку по горизонтали, вертикали или диагонали так, чтобы при этом расстояние от центра начальной клетки до центра той, в которой находится фишка, постоянно увеличивалось. Какое наибольшее число ходов можно сделать, соблюдая это условие? (А. Грибалко)

163. (7—9) Муравей стартовал из угла шахматной доски. Ему разрешено пересекать каждую клетку по диагонали, запрещено бывать внутри одной клетки дважды, запрещено выходить за пределы доски и ползать вдоль границ клеток. Внутри какого наибольшего числа клеток он может побывать? (А. Шаповалов)

164. (7—9) Куб $n \times n \times n$ состоит из n^3 кубических клеток. Хромая ладья одним ходом передвигается на одну клетку в любом параллельном рёбрам куба направлении, причём никакие два шага подряд она не делает в одном направлении. Замкнутый маршрут хромой ладьи прошёл через все клетки по разу.

а) Возможно ли это при $n = 4$?

б) При каких $n > 1$ это возможно?

(А. Шаповалов, Ф. Крижановский)

165. (8—9) Трёхмерная доска $18 \times 18 \times 18$ состоит из кубических клеток. Параллельные граням слои считаются плоскими досками 18×18 . Шахматный слон ходит по диагонали в любой из этих плоских досок. Докажите, что если слон может попасть из клетки A в клетку B , то он может сделать это не более чем за 3 хода.

(М. Артемьев, К. Кноп, А. Шаповалов)

Турниры

В шахматных турнирах даётся 1 очко за победу, $\frac{1}{2}$ — за ничью, 0 — за поражение. В футбольных турнирах даётся 3 очка за победу, 1 — за ничью, 0 — за поражение. В однокруговом турнире каждый участник играет с каждым другим ровно один раз.

См. также задачи 7Т1—5.

166. (6—7) В турнире участвуют 64 боксёра разной силы. Можно ли за 70 боёв выявить двух сильнейших? (Фольклор)

167. (7—8) После окончания чемпионата мира по футболу для каждой команды посчитали отношение числа голов, забитых ею с пенальти, к числу пробивавшихся ею пенальти и отношение числа голов, пропущенных с пенальти, к числу пенальти, пробитых в её ворота. Может ли у всех команд первый показатель быть меньше второго? (А. Заславский)

168. (7—9) В однокруговом футбольном турнире участвовало 20 команд. Оказалось, что если какие-то две команды сыграли между собой вничью, то хотя бы одна из них завершила вничью не больше трёх игр. Каково наибольшее возможное число ничьих в таком турнире? (И. Акулич)

169. (6—7) Групповой турнир Чемпионата Европы по футболу был проведён для четырёх команд в один круг. В итоговой таблице команды расположились так, что у каждой начиная со второй ровно на 1 очко меньше, чем у предыдущей. Восстановите исходы всех матчей. (А. Блинков)

170. (6—7) В Лиге Чемпионов стран Балтии участвуют 6 футбольных команд (по две от каждой страны — Латвии, Литвы и Эстонии). Они должны провести турнир в один круг (причём все три матча каждого тура проходят одновременно). Можно ли так составить расписание туров, чтобы для обслуживания каждого тура приглашать ровно по одной судейской бригаде из каждой страны? (При этом, например, бригада из Латвии может судить либо матч двух латвийских команд, либо матч, в котором латвийские команды не играют.) (А. Блинков)

171. (6—7) В однокруговом шахматном турнире у каждого из игроков чего-нибудь было столько, сколько у остальных вместе, в частности у Оси — очков, у Нины — ничьих (в одной был пат), у Проши —

проигрышей, а у Зины — забавных ходов. Восстановите результаты всех партий. (А. Шаповалов)

172. (6—7) В однокруговом турнире по футболу все команды набрали разное число очков.

а) Могло ли случиться, что разность забитых и пропущенных мячей у каждой команды тем больше, чем меньше сумма очков?

б) При каком наименьшем числе *ничьих* такое могло случиться?

в) При каком наименьшем числе *команд* такое могло случиться?

(А. Заславский, А. Шаповалов, Б. Френкин)

173. (8—9) После нескольких игровых дней однокругового турнира выяснилось, что любые пять команд можно так расположить по кругу, чтобы каждая сыграла со стоящими справа и слева. Докажите, что чемпионат можно завершить в три дня (в один день команда может сыграть не более одной игры). (С. Волчёнков)

174. (7—8) В однокруговом турнире по футболу принимали участие 6 команд. По итогам турнира каждая команда начиная со второй набрала на 2 очка меньше, чем предыдущая. Как сыграли между собой команды, занявшие третье и последнее место? (А. Грибалко)

175. (7—8) От футбольного турнира 18 команд в один круг осталась только таблица с общим количеством забитых и пропущенных мячей: 18—18, 17—1, 16—2, 15—3, ..., 1—17. Докажите, что была хотя бы одна ничья. (А. Шаповалов)

176. (6—7) В однокруговом чемпионате по матбоям участвовали 16 команд из 16 разных школ. Каждый бой проходил в одной из школ-участниц. В газете написали, что каждая команда сыграла во всех школах, кроме своей. Докажите, что журналисты ошиблись.

(Ю. Лифшиц, Уральский турнир)

Процессы

См. также задачи 7П1—5, 8Г1.

177. (6—7) В водоёме плавало 2007 щук и 2007 акул. Акула может съесть щуку, если та до этого съела чётное число акул. Щука может съесть акулу, если та до этого съела нечётное число щук. (Съеденное мгновенно переваривается.) Акулы не едят акул, а щуки — щук. Могло ли так случиться, что в водоёме осталась только одна рыба? Какая? (И. Богданов)

178. (7) Десять пронумерованных круглых фишек расположены так, что образуют две пересекающиеся шестилепестковые «ромашки» с центральными фишками 5 и 6 соответственно (рис. 10, а). Каждую «ромашку» можно поворачивать на углы, кратные 60° , вокруг центральной фишки. Можно ли при помощи таких поворотов получить расположение, показанное на рис. 10, б? (Н. Авиллов)

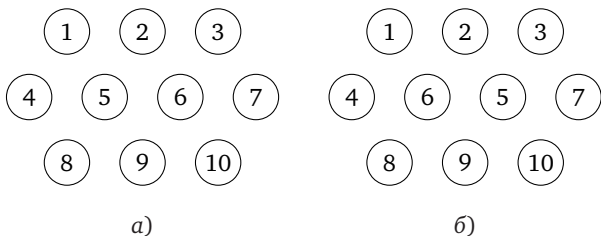


Рис. 10

179. (6—9) а) Колонна солдат-новобранцев выстроилась несколькими одинаковыми шеренгами, составляющими прямоугольник. По команде «смирно» некоторые из них с перепугу сделали поворот направо, другие — налево, третьи — кругом, а кое-кто вообще остолбенел и остался неподвижен. Далее через каждую секунду происходит следующее: в каждой паре, оказавшейся лицом к лицу, один из солдат делает поворот направо. Верно ли, что повороты рано или поздно прекратятся?

б) Докажите, что если в каждой паре, оказавшейся лицом к лицу, делают поворот направо оба солдата, то со временем повороты прекратятся. (И. Акулич)

180. (7—8) В ряд записаны несколько различных натуральных чисел. Назовём пару рядом стоящих чисел *плохой*, если либо они одной чётности и левое больше правого, либо они разной чётности и левое меньше правого. Каждую минуту числа какой-нибудь из плохих пар меняются местами. Докажите, что рано или поздно такие перестановки прекратятся. (А. Шаповалов)

181. (7—8) Откопав клад из 100 алмазов, каждый из семи гномов схватил алмазов, сколько успел. Когда у одного из гномов алмазов меньше, чем у каждого из остальных, он обижается, и все остальные, по древнему обычаю, должны отдать ему по одному алмазу. Этот процесс надо повторять, пока кто-либо из гномов обижается. Докажите, что передел собственности рано или поздно закончится.

б) То же для клада из 2012 золотых монет.

(А. Артемьев, И. Раскина)

182. (8—9) На доске записаны числа 1, 2, 4, 8, ..., 512. Разрешается стереть любые два числа и записать вместо них частное от деления их произведения на их сумму. Докажите, что число на доске после девяти операций не зависит от порядка выбора чисел, и найдите это число.

(А. Шаповалов)

183. (8—9) Саша разрезал головку сыра на 10 кусков и съел самый маленький кусок. Потом он разрезал один из кусков на два и съел самый маленький кусок из десяти. Эту операцию (разрезание и съедение) он сделал ещё один раз. Какую наибольшую долю головки мог съесть Саша?

(А. Шаповалов)

184. (7—9) За одну операцию разрешается в треугольнике изменить длину одной из сторон (но так, чтобы он остался треугольником).

(А. Шаповалов)

а) Докажите, что за 3 операции треугольник можно превратить в любой другой треугольник того же периметра.

б) Докажите, что за 12 операций можно из правильного треугольника со стороной 1 сделать правильный треугольник со стороной 40.

в) За какое наименьшее число операций можно из правильного треугольника со стороной 100 сделать правильный треугольник со стороной 1?

(А. Шаповалов)

Игры

См. также задачу 200.

185. а) (6) На длинном столе в ряд лежат 100 кучек по одному ореху. Первый и второй участники ходят по очереди. За ход нужно найти какие-нибудь две соседние кучки (т. е. без кучек между ними), где правая не меньше левой, и объединить их в одну. Тот, кто делает последний ход, выигрывает. Кто из играющих сможет выиграть, как бы ни играл противник?

б) (7) На длинном столе в ряд лежат 2007 кучек по одному ореху. Первый и второй участники ходят по очереди. За ход нужно найти какие-нибудь две соседние кучки, где правая не меньше левой, и объединить их в одну. Тот, кто делает последний ход, выигрывает и получает последнюю созданную им кучку. Какое наибольшее число орехов может гарантированно получить победитель? (С. Усов)

186. (6—7) На некоторых клетках прямоугольной клетчатой доски лежит по одному бобу, причём на каждой горизонтали и на каждой вертикали число бобов одно и то же (больше одного). Гарик и Вера ходят по очереди, начинает Гарик. За ход можно снять с доски любой боб. Если образуется пустая вертикаль, выигрывает Вера, если горизонталь — то Гарик, а если горизонталь и вертикаль одновременно, то будет ничья. Докажите, что Вера всегда сможет выиграть. (В. Гурвич)

187. (6—8) Есть три кучки из 2005, 2006 и 2007 камней. Петя и Вася ходят по очереди, начинает Петя. За один ход можно взять два камня, по одному из каких-нибудь двух кучек. Кто не может сделать ход — проиграл. Кто из ребят может выиграть, как бы ни играл соперник? (Д. Калинин)

188. (6—8) Перед Петей и Васей лежат кучки по 100 монет. Ребята ходят по очереди, начинает Петя. За один ход можно взять из чужой кучки одну или несколько монет и переложить в свою кучку. Каждым ходом надо перекладывать новое число монет. Кто не может сделать ход — проиграл. Кто из ребят может выиграть, как бы ни играл соперник? (А. Шаповалов)

189. (6—7) На доске написаны натуральные числа от 1 до 27. Двое игроков по очереди вычёркивают по одному числу, пока не останется два числа. Если их сумма кратна 5, то выигрывает первый игрок, иначе — второй. Кто из игроков может выиграть, как бы ни играл соперник? (Фольклор)

190. (7—8) а) На всех полях доски 1×2011 , кроме крайних, стоит по шашке. Петя и Вася ходят по очереди, начинает Петя. Ход — это прыжок шашки ровно через одну шашку на одно из свободных полей, перепрыгнутая шашка снимается. Центральная шашка отмечена. Выигрывает тот, кто снимет отмеченную шашку. Кто из игроков может выиграть, как бы ни играл соперник? (Отмеченная шашка тоже может ходить.)

б) Игровое поле — бесконечная полоска шириной в одну клетку. На 100 клетках подряд стоит по шашке. Петя и Вася ходят по очереди, начинает Петя. Ход — это прыжок шашки ровно через одну шашку на одно из свободных полей, перепрыгнутая шашка снимается. Одна из двух центральных шашек отмечена. Выигрывает тот,

кто снимет отмеченную шашку. Кто из игроков может выиграть, как бы ни играл соперник? (Отмеченная шашка тоже может ходить.)

(А. Шаповалов)

191. (7—9) Фома и Ерёма делят клад из 100 золотых и 100 серебряных монет. Сначала Фома раскладывает монеты в ряд в каком хочет порядке. Затем Ерёма начинает делёжку. Он берёт первую монету из ряда и либо забирает её себе, либо отдаёт Фоме. Затем Фома берёт вторую монету из ряда и тоже либо забирает её себе, либо отдаёт Ерёме. Так, чередуясь, они распределяют по порядку монеты. Как только у кого-то из них накапливается 100 монет, другой забирает все оставшиеся монеты. Какое наибольшее число золотых монет может гарантировать себе Фома?

(А. Шаповалов)

192. (7—9) а) См. п. б), когда вначале было три куска сыра.

б) Фома и Ерёма делят несколько кусков сыра. Сначала Фома, если хочет, выбирает один кусок и режет его на два. Затем он раскладывает все имеющиеся куски на две тарелки (не обязательно поровну). После этого Ерёма выбирает одну тарелку, и они делят сыр на ней, беря себе по очереди по куску, причём первым берёт Ерёма. Точно так же они делят и сыр со второй тарелки, только первым выбирает Фома. Докажите, что Фома всегда может действовать так, чтобы получить не менее половины сыра (по весу). (А. Шаповалов)

193. (8—9) Имеется куча из 2006! камней. Петя и Вася ходят поочередно, начинает Петя. За один ход из кучи разрешается взять не менее одного камня, но не более чем $\frac{1}{2006}$ часть оставшихся в куче камней. Проигрывает тот, кто не может сделать ход. Кто из ребят может выиграть, как бы ни играл соперник?

(А. Гусаков)

194. (7—9) Есть 720 спичек, разложенных в 100 кучек. Петя и Вася ходят по очереди. Каждым ходом выбирается кучка, делится на две меньшие части, и эти части сливаются с двумя из оставшихся кучек. Игрок победит, если после его хода во всех кучках станет поровну спичек. Если же после его хода остались всего две кучки, и они не равны, то игрок проиграл. Кто может выиграть, как бы ни играл соперник?

(А. Шаповалов)

195. (7—8) а) Дана таблица 2×8 (рис. 11). Петя и Вася ходят по очереди, начинает Петя. Каждым ходом Петя меняет местами два числа в клетках, соседних по вертикали, а Вася — в клетках,

соседних по горизонтали. Петя выиграет, если не позднее его 4-го хода станут равными суммы в горизонталях. Сможет ли Вася ему помешать?

1	2	3	4	5	6	7	8
9	10	11	12	13	14	15	16

Рис. 11

1	2	3	4	5	6	7	8	9	10
11	12	13	14	15	16	17	18	19	20

Рис. 12

б) Дана таблица 2×10 (рис. 12). Петя и Вася ходят по очереди, начинает Петя. Каждым ходом Петя меняет местами два числа в клетках, соседних по вертикали, а Вася — в клетках, соседних по горизонтали. Петя выиграет, если не позднее его 5-го хода станут равными суммы в горизонталях. Сможет ли Вася ему помешать?

(А. Шаповалов)

Графы

См. также задачи 173, 221, 8К2.

196. (7—8) В некоторой компании каждые два человека с общим знакомым имеют разное количество знакомых. Докажите, что в этой компании есть человек, у которого только один знакомый. (Все знакомства симметричны, у каждого человека есть хотя бы один знакомый.) (С. Конягин)

197. (7—9) Про каждую пару депутатов думы известно, могут ли они работать вместе либо только дискутировать (при этом есть депутат, который с кем-то работает, а с кем-то дискутирует). Думу удалось разбить на две группы, где в одной все пары рабочие, а в другой — все дискуссионные. Оказалось, что при переходе любого одного депутата в другую группу свойство однотипности всех пар в группе нарушается. Докажите, что по-другому разбить думу на две такие группы («рабочую» и «дискуссионную») нельзя. (В. Гурвич)

198. (9) 15 аэропортов связаны авиалиниями в единую сеть, т. е. из любого аэропорта можно перелететь в любой другой (возможно,

с пересадками). Из этих аэропортов не менее пяти — ключевые: при закрытии любого из них единая сеть распадается. Каково наибольшее число авиалиний в такой сети? (Авиалинии двусторонние, беспересадочные, и между каждой парой городов есть не более одной авиалинии.) (В. Гурвич)

199. (7—8) В Тридевятиом царстве имеется 2012 городов. Царь Горох хочет открыть некоторое количество двусторонних авиалиний между городами так, чтобы из каждого города выходило не более 11 линий и от каждого города можно было добраться до любого другого, сделав не более шести пересадок. Каким наименьшим количеством авиалиний можно обойтись?

200. (8—9) Дано конечное дерево с неокрашенными вершинами и рёбрами. Петя и Вася играют, ходя по очереди, начинает Петя. Кто не может сделать ход — проиграл. Оба всегда играют наилучшим образом.

В первой игре они красили по одной неокрашенной вершине за ход, каждый в свой цвет. Первую вершину каждый выбирал произвольно, а затем выбирал вершину, связанную ребром с вершиной своего цвета. Победил Вася.

Во второй игре они красят по одному неокрашенному ребру за ход, каждый в свой цвет. Первое ребро каждый выбирает произвольно, затем надо выбирать ребро, имеющее общий конец с окрашенным ребром своего цвета. Кто победит на этот раз? (Б. Френкин)

Чётность

См. задачи 5, 20, 22, 25, 26, 27, 30, 36, 49, 56, 59, 61, 72, 74, 97, 123, 142, 149, 153, 160, 163, 164, 176, 177, 180, 185, 187, 208, 6Ц3, 6Ц5, 6Ч4, 7А3, 7П1, 8Ар3, 9Т1.

ГЕОМЕТРИЯ

Разрезания и клетки

См. также задачи 9Т1, 9Т3.

201. (6—7). Можно ли разрезать квадрат со стороной 1 на пять прямоугольников (не обязательно одинаковых) с периметром 2?

(А. Шаповалов)

202. (6—7) а) Барон Мюнхгаузен разрезал квадрат на квадратики двух размеров и провёл в каждом по одной диагонали. Он утверждает, что общая длина диагоналей маленьких квадратиков равна общей длине диагоналей больших. Могут ли слова барона быть правдой?

б) *Домино* — это прямоугольник, у которого одна сторона вдвое больше другой. Барон Мюнхгаузен разрезал квадрат на домино двух размеров и провёл в каждом по одной диагонали. Он утверждает, что общая длина диагоналей маленьких домино в полтора раза больше общей длины диагоналей больших. Могут ли слова барона быть правдой? (А. Шаповалов)

203. (6—7) Квадратный торт массой 900 г разрезали двумя прямолинейными разрезами, параллельными одной паре сторон, и двумя прямолинейными разрезами, параллельными другой паре сторон. Докажите, что Паша сможет выбрать из девяти получившихся кусков три, не имеющие общих сторон, суммарная масса которых не меньше 300 г. (Фольклор)

204. (7) Петя разрезал шахматную доску по границам клеток на части одинакового периметра. Оказалось, что не все части равны. Каково наибольшее возможное число частей? (А. Шаповалов)

205. (7—8) Нарисуйте фигуру, которую можно разрезать как на три равных треугольника, так и на четыре равных (совпадающих при наложении) четырёхугольника. (А. Шаповалов)

206. (7—8) Квадратное поле разбили на прямоугольные участки, проведя 66 прямых параллельно сторонам квадрата. Назовём участок *завидным*, если его площадь больше площади любого соседнего с ним по стороне участка. Каково наибольшее возможное число завидных участков? (В. Брагин)

207. (7—8) На клетчатой бумаге нарисовали круг и выделили все клетки, целиком оказавшиеся внутри круга. Могли ли они образовать фигуру, изображённую на рис. 13? (Ю. Игнатов)

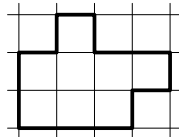


Рис. 13

208. (7—8) Из клетчатой бумаги по линиям сетки вырезали многоугольник. Всегда ли можно вырезать (тоже по линиям сетки) содержащий его прямоугольник того же периметра? (В. Сендеров)

209. (7—8) На клетчатой доске размера а) 3×10 ; б) 3×12 отметили 8 клеток так, что их центры являются вершинами двух прямоугольников со сторонами, параллельными краям доски. Докажите, что среди отрезков, соединяющих центры отмеченных клеток, найдутся три одинаковых. (А. Грибалко)

210. (7—9) Можно ли разрезать квадратный лист бумаги со стороной 1 м на 30 квадратов так, чтобы хотя бы один из квадратов имел сторону меньше 1 мм?

211. (8—9) Назовём треугольники *сходными*, если у них равны как минимум две из трёх сторон. Докажите, что найдётся квадрат, который можно разбить на треугольники, сходные данному остроугольному треугольнику. (А. Шаповалов)

212. (8—9) Квадрат разрезан на равные треугольники. Обязательно ли у каждых двух треугольников найдутся параллельные стороны? (А. Шаповалов)

213. (8—9) Для каких натуральных N можно любой треугольник разбить на N треугольников, имеющих по равной медиане? (А. Шаповалов)

Системы точек и отрезков

214. (7—8) Плоскость раскрасили в два цвета. Докажите, что найдётся одноцветный треугольник с углами 48° , 60° , 72° . (К. Кноп)

215. (9) На плоскости дано конечное множество точек, никакие три из которых не лежат на одной прямой. При этом для любых трёх точек A , B , C из этого множества ортоцентр треугольника ABC также принадлежит этому множеству. Докажите, что множество состоит не более чем из четырёх точек. (Ю. Блинков, Д. Прокопенко)

Геометрическая комбинаторика

См. также задачи 9КГ1—5.

216. (6—7) Есть некоторое количество одинаковых квадратных столов. Их можно расставить для банкета либо буквой «П», либо буквой «Т» («толщина» каждой буквы — один стол). В каком случае можно будет посадить больше гостей (периметр образовавшегося банкетного стола будет больше)? (А. Блинков)

217. (6—7) У Пети и Васи было по одинаковому бумажному многоугольнику. Каждый из них перегнул свой многоугольник по прямой и обвёл по контуру получившуюся плоскую фигуру (частично двухслойную). У Пети получился квадрат. Мог ли у Васи получиться треугольник, у которого все углы острые? (А. Шаповалов)

218. (7—8) а) Из шести палок длиной 1 м сложили треугольную пирамиду. На палках сидят три паука, при этом расстояние между любыми двумя (измеряемое кратчайшим путём по рёбрам пирамиды) не меньше R . При каком наибольшем R такое возможно?

(А. Шаповалов)

б) Паутина представляет собой правильный шестиугольник с длиной стороны 1, в котором проведены все диагонали, проходящие через центр. На паутине сидят семь пауков. Расстоянием между пауками называется длина кратчайшего пути между ними по паутине. Докажите, что расстояние между какими-то пауками не больше 1.

(К. Кноп)

219. а) (7—8) Какое наибольшее число сторон может быть у многоугольника, полученного пересечением четырёхугольника и пятиугольника?

б) (9) Докажите, что при пересечении m -угольника и n -угольника не может получиться многоугольник более чем с $2m + 2n - 6$ сторонами. (А. Шаповалов)

220. а) (7—8) Дан произвольный треугольник. На каждой стороне треугольника отмечено 14 точек. Каждая вершина треугольника соединена отрезками со всеми отмеченными точками противоположной стороны. На какое наибольшее число частей отрезки могли разделить треугольник?

б) (9) Дан произвольный треугольник. На каждой стороне треугольника отмечено 14 точек, делящих её на 15 равных отрезков. Каждая вершина треугольника соединена отрезками со всеми отмеченными точками противоположной стороны. На сколько частей отрезки разделили треугольник? (В. Брагин)

221. (8—9) Некоторые из сторон и диагоналей выпуклого n -угольника ($n > 3$) нарисовали жирными и тонкими линиями. Известно, что жирные отрезки не пересекаются и между каждыми двумя вершинами есть единственный жирный путь. То же верно для тонких отрезков. Каково наименьшее количество пересечений между жир-

ными и тонкими отрезками? (Никакие три диагонали не пересекаются в одной точке.) (Б. Френкин)

222. (8—9) Докажите, что из любого треугольника площади 4 можно вырезать осесимметричную фигуру площади больше 3. (А. Шаповалов)

Простая геометрия

См. также задачи 253, 7Г2—7Г5.

223. (7) Выпуклый четырёхугольник разрезан диагоналями на четыре треугольника. Среди них есть остроугольный, прямоугольный и тупоугольный. Какой вид у четвёртого треугольника? (Б. Френкин)

224. (7—8) Выпуклый четырёхугольник разбит диагоналями на треугольники. Из двенадцати углов этих треугольников как минимум семь равны α . Какие значения может принимать α ? (По мотивам задачи Б. Френкина и К. Кнопа)

225. (7) Даны два треугольника. Сумма двух углов первого равна некоторому углу второго. Сумма другой пары углов первого также равна некоторому углу второго. Докажите, что первый треугольник равнобедренный. (Б. Френкин)

226. (7) На стороне AC треугольника ABC отмечена точка D так, что $AD = AB$; на стороне AB отмечена точка F так, что середина отрезка CF лежит на BD . Докажите, что $BF = CD$. (С. Мазаник)

227. (7) В квадрате $ABCD$ на стороне AB выбрана точка P , на стороне BC — точки Q и R , и на стороне AD — точка S . Вычислите $\angle BSQ + \angle BRP + \angle SPD - \angle RPC$, если известно, что $3BP = 3BQ = 3CR = 3DS = AD$. (И. Акулич)

228. (7—8) Диагонали прямоугольника $ABCD$ пересекаются в точке O , а на стороне AD выбрана такая точка K , что $AK = 2$, $KD = 1$. Оказалось, что $\angle ACK = 30^\circ$. Найдите OK . (Уральский турнир)

229. (7—8) Точка B лежит на отрезке AC . По одну сторону от прямой AC построены равносторонние треугольники ABE и BCF . Во сколько раз медиана BM треугольника BEF меньше суммы $CE + AF$? (Д. Калинин)

230. (7—8) На листе клетчатой бумаги по сторонам клеток нарисован квадрат $ABCD$ со стороной 8. Точка E — середина стороны BC , Q — такая точка на диагонали AC , что $AQ : QC = 3 : 1$. Найдите угол между прямыми AE и DQ . (Д. Прокопенко)

231. (7—8) Дана трапеция $ABCD$. В ней $AC = AD$, $BD = AB$. Какая сторона является бóльшим основанием? (Б. Френкин)

232. (8) Все углы равностороннего выпуклого пятиугольника различны. Докажите, что наибольший и наименьший из них — соседние. (К. Кноп)

233. (7—8) В прямоугольном треугольнике ABC на катетах AC и BC взяты точки P и Q соответственно так, что $\angle PBC = \frac{1}{3}\angle ABC$ и $\angle QAC = \frac{1}{3}\angle BAC$. Отрезки AQ и BP пересекаются в точке T . Докажите, что $TP = TQ$. (Олимпиада Русановского лица)

234. (7—8) На продолжении стороны AB треугольника ABC за точку A отмечена точка A_1 , а за точку B — точка B_1 . На продолжении стороны AC за точку A отмечена точка A_2 , а за точку C — точка C_1 . На продолжении стороны CB за точку C отмечена точка C_2 , а за точку B — точка B_2 . При этом $AA_1 = AA_2 = BC$, $BB_1 = BB_2 = AC$, $CC_1 = CC_2 = AB$. Докажите, что точки $A_1, A_2, B_1, B_2, C_1, C_2$ лежат на одной окружности. (Дж. Конвей)

235. (7—8) Каждые две противоположные стороны шестиугольника $ABCDEF$ параллельны и равны, причём треугольник ACE равносторонний. Докажите, что для некоторой точки O все три треугольника AOB, COD, EOF также равносторонние. (Д. Калинин)

Четырёхугольники, подобие, окружности

См. также задачи 8Г2, 8Г3, 8Г4.

236. (7—8) Четырёхугольник $ABCD$ выпуклый, $\angle BCD = 120^\circ$, $\angle CBA = 45^\circ$, $\angle CBD = 15^\circ$ и $\angle CAB = 90^\circ$. Найдите угол BAD . (Фольклор)

237. (8) В треугольнике ABC проведены биссектрисы AL и BN . На луче AL взята точка P так, что $PN = PB$, а на луче BN — точка Q так, что $QL = QA$. Докажите, что $QL \parallel PN$. (Балканиада, 2010)

238. (8) Пусть O_1 и O_2 — центры описанных окружностей треугольников, на которые медиана BM разбивает прямоугольный треугольник ABC ($\angle B = 90^\circ$). Найдите $\angle O_1BO_2$. (Д. Швецов)

239. (8) В квадрате $ABCD$ точки E и F — середины сторон BC и CD соответственно. Прямые AE и BF пересекаются в точке G . Описанная окружность квадрата вторично пересекает прямую AE в точке H . Докажите, что $GE = EH$. (Н. Москвитин)

240. (7–8) В прямоугольнике $ABCD$ соединили вершину C с серединой K стороны AD . Оказалось, что $CK \perp BD$. Пусть H — точка пересечения BD и CK . Докажите, что треугольник AHB равнобедренный. (Д. Калинин)

241. (8) Вокруг квадрата $ABCD$ описана окружность. На меньшей дуге BC взяли произвольную точку P . Отрезок PA пересекает сторону BC в точке K , а диагональ BD в точке L . Отрезок PD пересекает сторону BC в точке M , а диагональ AC в точке N . Докажите, что $NK \perp LM$. (Отбор на Всеукраинскую олимпиаду, 2008)

242. (8) Окружность, вписанная в неравнобедренный треугольник ABC , касается сторон AB и AC в точках M и N . Нашлась такая точка K , что $KB = KC$ и $KMAN$ — параллелограмм. Докажите, что K лежит на описанной окружности треугольника ABC . (А. Блинков, Д. Швецов)

243. На сторонах AB , BC , CD и AD квадрата $ABCD$ выбраны точки P , M , N , Q так, что $\angle MAN = 45^\circ$, $PM \parallel AN$, $AM \parallel NQ$.

а) (8) Докажите, что точки A , P , M , N , Q лежат на одной окружности.

б) (9) Отрезок PQ пересекает AM и AN в точках F и G соответственно. Докажите равенство площадей $S_{AFG} = S_{PMF} + S_{GNQ}$. (В. Произволов)

244. (8–9) На сторонах AB и BC прямоугольника $ABCD$ внешним образом построили подобные прямоугольные треугольники EAB и FCB ($\angle EAB = \angle FCB = 90^\circ$, $\angle ABE = \angle CBF$). Отразив точку B относительно середины отрезка EF , получили точку G . Докажите, что углы BDC и ADG равны. (А. Акопян)

245. (9) Пусть O — точка пересечения диагоналей выпуклого четырёхугольника $ABCD$, M — середина его стороны BC , а E — точка

пересечения прямых MO и AD . Докажите равенство $S_{ABO} : S_{CDO} = AE : ED$.
(М. Волчкевич)

246. (8—9) Точка D вне остроугольного треугольника ABC такова, что $\angle ABC + \angle ABD = \angle ACB + \angle ACD = 180^\circ$. Докажите, что центр описанной окружности треугольника ABC лежит на отрезке AD .
(Д. Калинин)

247. (8—9) Хорда BR описанной окружности треугольника ABC пересекает сторону AC в точке P . Точки O_a и O_c — центры описанных окружностей треугольников APR и CPR соответственно. Докажите, что прямые AO_a и CO_c пересекаются на высоте треугольника ABC .
(Д. Швецов)

248. (8—9) В остроугольном треугольнике ABC угол B равен 60° , H — ортоцентр. Описанная окружность треугольника AHB вторично пересекает прямую BC в точке A_1 , а описанная окружность треугольника BHC вторично пересекает прямую AB в точке C_1 . Докажите, что точки H , A_1 и C_1 лежат на одной прямой.
(Д. Швецов)

249. (9) В треугольнике ABC угол B равен 60° , O — центр описанной окружности, H — ортоцентр, BM — медиана, L — середина OB . Докажите, что $LM \perp OH$.
(Д. Швецов)

250. (9) Отрезок CH — высота прямоугольного треугольника ABC (угол C прямой). Вне ABC построены равносторонние треугольники AHA_1 и BHB_1 . Докажите, что центр описанной окружности треугольника A_1CB_1 лежит на гипотенузе AB .
(Д. Швецов)

251. (9) Точка H — ортоцентр треугольника ABC , в котором $\angle B = 60^\circ$. Серединные перпендикуляры к отрезкам AH и CH пересекают прямую AC в точках A_1 и C_1 . Докажите, что центр описанной окружности треугольника A_1HC_1 лежит на биссектрисе треугольника ABC .
(Д. Швецов)

Симметрии

См. также задачи 99, 100, 190, 201, 207, 8ГЗ.

252. (6—7) Таня измерила угол между часовой и минутной стрелкой. Спустя полчаса она опять измерила угол между стрелками, и он оказался тем же самым. Определите, каким мог быть этот угол.
(Фольклор)

253. (7) Квадратный лист бумаги сложили вдвое, а затем так, как показано на рис. 14. Чему равен отмеченный угол? (Д. Шноль)

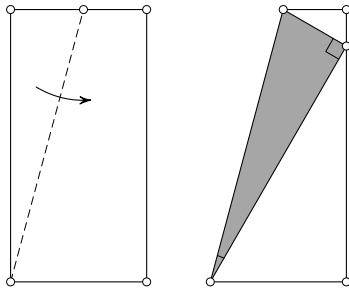


Рис. 14

254. (8) Бумажный треугольник со сторонами a, b, c перегнули по прямой так, что вершина, противолежащая стороне длины c , попала на эту сторону. Известно, что в получившемся четырёхугольнике равны два угла, примыкающие к линии сгиба. Найдите длины отрезков, на которые делит сторону c попавшая туда вершина.

(А. Шаповалов)

255. (7–8) В равнобедренном треугольнике ABC ($AC = BC$) проведена биссектриса AD . На основании отмечена такая точка E , что $AE = BD$, на стороне AC — такая точка F , что $AF = AB$. Докажите, что точка пересечения отрезков AD и EF лежит на высоте треугольника ABC .

(Д. Калинин)

256. (7–8) Окружность, вписанная в равнобедренный треугольник ABC ($AB = BC$), касается сторон AB, BC и AC в точках C_1, A_1 и B_1 соответственно; B_1D — диаметр вписанной окружности. Перпендикуляр, опущенный из точки A_1 на прямую AC , вторично пересекает вписанную окружность в точке P . Докажите, что середина отрезка DP лежит на биссектрисе треугольника ABC .

(Д. Швецов)

257. (7–8) Точка M принадлежит короткой дуге AB окружности, описанной около равнобедренного треугольника ABC . Точки P, Q симметричны M относительно боковых сторон CA и CB . Прямая l симметрична CM относительно биссектрисы угла ACB . Докажите, что $l \perp PQ$.

(Д. Калинин)

258. (8—9) Около равнобедренного треугольника ABC ($AB = BC$) описана окружность. Пусть BD — диаметр этой окружности, K — произвольная точка меньшей из дуг BC , а K' и K'' — точки, симметричные K относительно прямых AC и BC соответственно. Докажите, что прямые AC , DK и $K'K''$ имеют общую точку. (А. Акопян)

259. (8) На окружности, описанной вокруг равностороннего треугольника ABC , взята точка P . Точки A_1 , B_1 , C_1 симметричны P относительно середин сторон BC , AC , AB треугольника ABC . Докажите, что описанная окружность треугольника $A_1B_1C_1$ проходит через центр треугольника ABC . (А. Заславский)

260. (7—8) Отрезки AA_1 , CC_1 — высоты треугольника ABC . Серединный перпендикуляр к стороне AB пересекает прямую AA_1 в точке M . Докажите, что прямая BM перпендикулярна одной из медиан треугольника CC_1B . (Д. Швецов)

261. (7—9) В треугольнике ABC угол B равен 50° , угол C равен 30° . Внутри треугольника выбрана точка M так, что $\angle MBC = 20^\circ$, $\angle MCB = 10^\circ$. Докажите, что $AM \perp BC$. (Сербская олимпиада, 1995)

262. (8—9) Окружность с центром I , вписанная в треугольник ABC , касается сторон AB , BC , CA в точках C_1 , A_1 , B_1 соответственно. Окружности, описанные вокруг треугольников BA_1B_1 и BC_1B_1 , вторично пересекают прямую AC в точках K и L .

а) Докажите, что $B_1K = B_1L$.

б) Докажите, что $IK = IL$.

(Д. Швецов)

263. (9) Отрезок CD — биссектриса треугольника ABC . Окружность, проходящая через точку A и касающаяся биссектрисы в точке D , вторично пересекает прямую AC в точке A_1 . Окружность, проходящая через точку B и касающаяся биссектрисы в точке D , вторично пересекает прямую BC в точке B_1 . Докажите, что окружность, симметричная описанной около треугольника A_1B_1C относительно CD , касается стороны AB . (Д. Калинин)

Геометрические места

См. также задачу 8Г5.

264. (9) На гипотенузе AB прямоугольного равнобедренного треугольника ABC выбрана произвольная точка M . Докажите, что

общая хорда окружности с центром S и радиусом SA и окружности с центром M и радиусом MC проходит через середину AB .

(Ю. Блинков)

265. (9) В треугольнике ABC точка O — центр описанной окружности, I — центр вписанной. Точки A' , B' на лучах BC , AC таковы, что $A'B = AB = AB'$. Докажите, что $A'B' \perp OI$. (А. Заславский)

266. (6–7) Кеша вырезал из бумаги треугольник ABC с наибольшей стороной AB и перегнул его по прямой так, что вершина C попала на сторону AB и образовался четырёхугольник. Укажите множество точек на стороне AB , куда могла попасть вершина C .

(А. Шаповалов, В. Гуровиц)

267. (7–8) Дан равнобедренный треугольник ABC ($AB = BC$). На стороне AB выбирается точка K , а на стороне BC — точка L так, что $AK + CL = \frac{1}{2}AB$. Найдите геометрическое место середин отрезков KL .

(Д. Калинин)

268. (9) Дан треугольник ABC . На стороне AC выбираются произвольная точка K и такая точка L , что $\angle ABK = \angle CBL$. Найдите геометрическое место центров описанных окружностей треугольников KBL .

(Д. Швецов)

269. (9) Дан треугольник ABC , точка P — середина дуги ABC описанной около него окружности Ω . Рассматриваются всевозможные вписанные четырёхугольники $PBKM$, где M лежит на стороне AB , а K — на стороне BC . Найдите геометрическое место точек пересечения отрезков AK и CM .

(Ю. Блинков)

270. (9) Даны две концентрические окружности: большая и малая; A и B — диаметрально противоположные точки малой окружности, C — произвольная точка большой окружности. Лучи CA и CB впервые пересекают малую окружность в точках K и M соответственно. При каком положении точки C длина отрезка KM будет наибольшей?

(С. Дворянинов)

Задачи на построение

271. (7–8) Докажите, что любой треугольник можно разрезать на три меньших треугольника так, чтобы каждую из получившихся частей можно было покрыть двумя другими. (А. Шаповалов)

272. (8) Дан треугольник ABC и точка M на стороне AB . Постройте на сторонах треугольника AB, BC, AC соответственно точки E, F, G так, чтобы выполнялись равенства $AG = GE, EF = BF$ и середина O отрезка GF лежала на CM (известно, что такие точки существуют).
(Д. Калинин)

273. (9) Восстановите треугольник ABC по двум точкам: его ортоцентру H и его центру вписанной окружности I , если известно, что $\angle A = 60^\circ$, а радиус описанной окружности равен R .

(Г. Филипповский, А. Заславский)

274. (9) На сторонах AB и AC треугольника ABC найдены такие точки D и E , что вписанная окружность четырёхугольника $BCED$ равна описанной окружности треугольника ADE . Эти точки и окружности стёрли. Восстановите стёртые точки с помощью циркуля и линейки.
(А. Шаповалов)

275. (9) Бумажный квадрат $ABCD$ со стороной 5 частично приклеен к столу по треугольнику AKL , где K лежит на стороне AB и $AK = 3$, а L лежит на стороне AD и $AL = 4$. Неприклеенную часть квадрата разрешается перегибать по прямой, не проходящей через точки K, L, C или D . Как за два таких перегиба совместить отрезки BC и KL ? (Нельзя сгибать по линии, пересекающей приклеенный треугольник, не разрешено сгиб разгибать обратно.)

(О. Крижановский)

РЕШЕНИЯ ОСНОВНЫХ ЗАДАЧ

1. 29 дат. Номер каждого года в XXI веке начинается с 20..., поэтому соответствующая дата имеет вид **.02.20**, т. е. является каким-то числом февраля. В феврале бывает 28 или 29 дней. Поскольку 29.02.2092 — правильная дата (2092 делится на 4, поэтому год високосный), каждое из чисел февраля возможно.

2. 1432. В третьем тысячелетии такого года не было, так как к цифрам 2 и 0 можно добавить только 3 и 1, а 2031 год ещё не наступил. Во втором тысячелетии в записи года обязательно есть цифра 1, поэтому добавить к ней можно либо 0, 2, 3, либо 2, 3, 4. На втором месте требуется наибольшая цифра, поэтому второй набор предпочтительнее. Расположив в нём остальные три цифры в порядке убывания, получим предыдущий счастливый год.

3. 2266. Если число (точнее, его десятичная запись) имеет вид 2ABC, где $A < 2$, то подойдёт время $AB : 2C$. Если число имеет вид 22BC, где $BC < 66$, то подойдёт время 22 : BC или 22 : CB (поскольку меньшая из цифр B и C не больше 5). Число 2266 не временное, так как в показании часов цифра 6 не может стоять на первом и третьем местах, а с цифрой 2 на первом месте не может стоять и на втором.

4. $74547 : 24849$. РОТОР = 3 · СОКОЛ. Ясно, что $P \geq 3$. Кроме того, P не делится на 3 (иначе $C = Л$) и $P \neq 5$ (иначе $Л = 5$). Значит, остаются варианты $P = 4, 7, 8$.

1. Пусть $P = 4$. Тогда $Л = 8$. Из разряда единиц в разряд десятков переносится 2, т. е. 3О оканчивается цифрой, на 2 меньшей О. Значит, $О = 4 = P$ или $О = 9$, тогда 3О даёт перенос 2 в старший разряд и $P > 4$. Противоречие.

2. Пусть $P = 7$. Тогда $C = 2$, $Л = 9$, О снова равно 4. Число 3К даёт перенос 2 в следующий разряд, значит, $K = 8$. Теперь Т легко находится.

3. Пусть $P = 8$. Тогда $Л = 6$, а 3О оканчивается цифрой, на 1 меньшей О. Но таких цифр нет.

5. $93\ 356 + 13\ 286 = 106\ 642$ или $93\ 386 + 13\ 256 = 106\ 642$.

Заметим сразу, что цифры D и L можно менять местами. Кроме того, из сложения в 4-м и 3-м разрядах следует, что О и А отличаются на единицу.

В сумме разрядов больше, чем у слагаемых, значит, $R = 1$. Но тогда в старшем разряде $F + R \leq 10$, и даже при переносе из предыдущего разряда $RU \leq 11$. Но U не может равняться 1, значит, $U = 0$, а $F = 8$ или 9. Рассмотрим эти случаи отдельно.

1. Пусть $F = 8$. Значит, из 4-го разряда в 5-й произошёл перенос. Поскольку S не может равняться ни 0, ни 1, имеем $O + O \geq 12$, и из 3-го разряда в 4-й тоже произошёл перенос. Следовательно, $A = O + 1$. Но A чётно (это видно из сложения в 1-м разряде), а чётных чисел, больших 6, уже не осталось. Итак, в этом случае решений нет.

2. Пусть $F = 9$. Тогда в 4-м разряде не было перехода через десяток (т. е. $O + O \leq 8$). Поскольку A чётно, получаем, что $O = 3$. Значит, из 3-го разряда переноса не было, т. е. $S = 6$, $A = 2$. Остались цифры 4, 5, 7, 8, причём и из 1-го, и из 2-го разрядов произошёл перенос. Поэтому единственный способ сложения во 2-м разряде — это $5 + 8 = 13$, т. е. $I = 4$, $\{L, D\} = \{5, 8\}$.

6. Не могло. Уменьшим исходные числа, заменив нулями все цифры начиная с пятой слева. Получим

$$11270\dots 0 \cdot 10170\dots 0 = 11461590\dots 0.$$

Увеличим теперь исходные числа и тоже перемножим:

$$20000\dots 0 \cdot 20000\dots 0 = 40000000\dots 0.$$

Число жирных нулей справа и слева от знака равенства одинаково в обоих равенствах и одинаково в обеих частях равенств. Это значит, что произведения имеют одинаковое число разрядов. Но тогда и произведение исходных чисел имело то же число разрядов и должно было начинаться на трёхзначное число от 114 до 400. Значит, на 112 оно начинаться не могло.

7. а) 36. Выписано $9 + 2(n - 9) = 2n - 9$ цифр. По условию n и $2n - 9$ сравнимы по модулю 9, значит, n кратно 9. Поэтому сумма цифр n равна 9 (очевидно, $n \neq 99$), т. е. $n + (2n - 9) = 99$.

б) 153. Выписано $9 + 2 \cdot 90 + 3(n - 99) = 3n - 108$ цифр. Как и в п. а), n кратно 9. Решим ребус: $3 \cdot ABC = CBA + 108$. Очевидно, $A \leq 3$. Разберём три случая.

1. Пусть $A = 1$. Тогда $3C$ оканчивается на 9, т. е. $C = 3$, $B = 5$. И действительно, $3 \cdot 153 = 459 = 351 + 108$.

2. Пусть $A = 2$. Тогда $3C$ оканчивается на 0, т. е. $C = 0$. Но это невозможно.

3. Пусть $A=3$. Тогда ЗС оканчивается на 1, т. е. $C=7$. Таким образом, произведение в левой части не меньше $3 \cdot 307 = 921$, а правая часть не больше чем $793 + 108 = 901$. Противоречие.

8. $9N = 10N - N$. Выполним это вычитание в столбик. В разряде единиц окажется разность 10 и последней цифры числа N , в разряде десятков — разность последней и предпоследней цифр, уменьшенная на 1. Во всех следующих разрядах будет разность двух соседних цифр, так как всегда будет вычитаться меньшая цифра из большей. Каждая цифра встретится один раз в роли уменьшаемого и один раз в роли вычитаемого. При нахождении суммы цифр все эти уменьшаемые и вычитаемые уничтожатся, останутся только вышеупомянутые $10 - 1 = 9$.

9. Пусть a — первая цифра десятичной записи числа n . Если $a < 3$, то, увеличив a на 7, получим число, меньшее чем $9n$, с требуемой суммой цифр.

Если $a \geq 3$, то в десятичной записи числа $9n$ на одну цифру больше, чем в записи числа n . Пусть b — первая цифра числа $9n$, тогда $b \geq a - 1$ (это легко проверить, заменив в числе n все цифры, кроме первой, нулями, а в остальных случаях b не меньше).

Пусть число m получено из числа n заменой первой цифры a на группу из двух цифр: $(a - 2)9$. Тогда его сумма цифр на 7 больше, чем у n , и при этом $n < m < 9n$.

10. Неверно. Контрпример — число $a = 99\,999\,999\,990$ (10 девяток). Будем сумму цифр числа x обозначать $S(x)$. Если $n < a$, то $S(n) \leq 90$, однако $S(a - 90) = 81 \neq 90$, а у чисел $a - 81$, $a - 72$, ..., $a - 9$ сумма цифр равна 90. Число $n = 9999\,9999\,999$ тоже не подходит, а для чисел $n > 100\,000\,000\,000$ имеем

$$n - S(n) \geq 99\,999\,999\,999.$$

Другой Контрпример — число 288. Докажем это.

1. Равенству $n + S(n) = 288$ могут удовлетворять не превышающие 288 натуральные числа n , кратные 9 (последнее следует из того, что числа n и $S(n)$ имеют одинаковые остатки при делении на 9). Поскольку в этом случае $S(n) < 2 + 9 + 9 = 20$, следует проверить только два числа: 270 и 279. Как легко убедиться, ни одно из них не подходит.

2. Равенству $n - S(n) = 288$ могут удовлетворять трёхзначные числа n , большие 288, но меньшие $288 + 28 = 316$ ($S(n) \leq 9 + 9 + 9 = 27$).

Если n начинается с двойки, то $S(n) \geq 11$ и надо проверить только $n = 299$. Если n начинается с тройки, то $S(n) \leq 12$ и проверить надо только $n = 300$. Оба числа не подходят.

Числа из четырёх и более знаков тем более не подходят: для них $n - S(n) \geq 1000 - 36 > 288$.

11. Обозначим через D_n разность между суммами цифр левого и правого плечей, когда на них выложены все цифры чисел от 1 до $10^n - 1$. Достаточно доказать, что знак D_n меняется при увеличении n на 1.

Когда выложены все однозначные числа, на левом плече лежат все нечётные, а на правом — все чётные цифры, т. е. $D_1 = 5$.

Добавим двузначные числа. При этом все цифры десятков (каждая цифра от 1 до 9 по 10 раз) окажутся на правом плече, а все цифры единиц (каждая цифра от 0 до 9 по 9 раз) — на левом. Поэтому $D_2 = D_1 - 45 = -40$.

Добавим трёхзначные числа. Разобьём их на пары: $\{100, 101\}$, $\{102, 103\}$, ..., $\{998, 999\}$. В каждой паре цифры сотен (десятков, единиц) ложатся на разные плечи. При этом цифры сотен (десятков) совпадают, а большая цифра единиц оказывается на левом плече. Поскольку пар 450, получаем $D_3 = D_2 + 450 = 410$.

Аналогично добавление $2n$ -значных чисел уменьшает разность D на $45 \cdot 10^{2n-2}$, а добавление $(2n + 1)$ -значных чисел увеличивает разность на $45 \cdot 10^{2n-1}$. Таким образом,

$$D_n = 5 - 45(1 - 10 + \dots + (-1)^n 10^{n-2}).$$

Эта последовательность, очевидно, знакопеременная.

12. 146 100. Сегодня на ёлке живут иголки, выросшие за последние 4 года. Их $100 \cdot (4 \cdot 365 + 1)$ (с учётом 29 февраля 2012 г.).

Замечание. В некоторые годы ответ мог быть другим. 1900 год не был високосным и, например, в марте этого года иголок было только $100 \cdot 4 \cdot 365 = 146\,000$. Впрочем, когда ёлка перешла на григорианский календарь, нам неизвестно.

13. 4023. При совершении двух чудес количество волос в бороде Старика Хоттабыча уменьшается на 1. Таким образом, он сможет совершить $2011 \cdot 2 = 4022$ чуда, после чего останется 1 волос, который тоже можно использовать.

14. 110. У каждого ребёнка число съеденных омлетов в два раза меньше общего числа съеденных конфет и котлет.

15. Может. ПРИМЕР: Саша женского пола, у Коли 6 окон и одна дверь, а у Пети 6 окон и 2 двери.

Замечание. См. задачу Л2 в главе «Липовая роща».

16. 17. Две команды содержат от 12 до 16 школьников (при этом все такие числа возможны), а три команды — не меньше 18.

Докажем, что любое число n школьников, большее 17, можно разбить на команды нужного размера.

Первый способ. Поделим n на 6 (с остатком): $n = 6q + r$, $q \geq 3$. Организуем q команд по 6 человек. Если $r \leq 3$, заменим r шестёрок на семёрки. Если $r = 4$ или 5, заменим две шестёрки на восьмёрки и, если необходимо, одну — на семёрку.

Второй способ. 18 школьников разбиваются на 3 команды.

Пусть $n > 17$ школьников разбиваются на команды. Докажем, что одного человека всегда можно добавить. Если среди «старых» команд есть команда из 6 или 7 человек, добавим нового школьника в неё. Если же все команды состоят из 8 человек, то их не меньше трёх. Заменим три такие команды четырьмя командами по 6 человек и добавим нового школьника в одну из них.

17. 6 г. Вес всех украденных колец (в граммах) кратен 4. А общий вес всех колец при делении на 4 даёт остаток 2. Поэтому остаться могло только кольцо веса 6 г. (Базилио при этом мог украсть кольца веса 1, 3, 4 и 8 г — всего 16 г. А Алиса — кольца веса 9, 11, 12 и 16 г — всего 48 г.)

18. а) Могла. Например, Алиса отдала 19 монет по 13 гиней и получила в качестве сдачи 21 монету по 7 гиней.

Замечание. Можно обойтись и меньшим числом монет. Например, Алиса могла отдать 6 монет по 25 гиней и одну — 13 гиней, а получить 9 монет по 7 гиней сдачи.

Общий подход. Задача сводится к решению системы

$$\begin{cases} 7x + 13y + 25z = 100, \\ x + y + z = -2. \end{cases}$$

Вычитая из первого уравнения второе, умноженное на 13, получим $12z - 6x = 126$, т. е. $x = 2z - 21$. Подставляя во второе уравнение, получим $y = 19 - 3z$.

Придавая z различные значения, будем получать различные примеры. Так, при $z = 0$ ($x = -21$, $y = 19$) получаем первый пример,

а при $z = 6$ ($x = -9$, $y = 1$) — второй. Можно проверить, что минимальное число монет, которое должна отдать Алиса, равно 7.

б) Не могла. Заменим каждую монету на монету в 1 гинею. Тогда получится, что Алиса получила 2 гинеи. С другой стороны, достоинство каждой монеты уменьшилось на число, кратное 6. Значит, и выплата Алисы, и сдача, и стоимость покупки изменились на число, кратное 6. Поэтому если раньше стоимость покупки делилась на 6, то и теперь делится. Однако 2 на 6 не делится.

в) 4 гинеи. ПРИМЕР: Алиса отдала 3 монеты по 13 гиней, а получила на сдачу 5 монет по 7 гиней.

Оценка. Номинал каждой монеты сравним с 1 по модулю 6, поэтому стоимость покупки сравнима с 4 по модулю 6.

19. 5 конфет. Когда пришёл слон, количество конфет делилось на 6 без остатка, на 5 — с остатком 4, а на 4 — с остатком 2. Заметим, что при этом оно автоматически делится на 3 и 2. Делимость на 6 без остатка, а на 4 с остатком 2 означает делимость на 12 с остатком 6. Если ещё учесть делимость на 5 с остатком 4, получится, что это число делится на 60 с остатком 54. Поскольку изначально конфет было 100, к приходу слона их было 54, и мышке придётся съесть ещё 5 конфет.

20. На 6 нулей. ПРИМЕР:

$$320 + 125 + 75 = 520, \quad 320 \cdot 125 \cdot 75 = 3\,000\,000.$$

Оценка. Чтобы получить не менее 7 нулей, должно быть хотя бы 7 пятёрок в разложении произведения на простые множители. Все слагаемые не могут делиться на 25, так как сумма на 25 не делится. Значит, два слагаемых делятся на 125, а третье кратно 5. Кроме того, хотя бы два слагаемых чётны (одно чётное не может делиться на $5 \cdot 2^7$), т. е. чётны все три. Значит, среди слагаемых есть два по 250. Но $250 \cdot 250 \cdot 20$ делится только на 2^4 .

21. Для каждого палиндрома с первой цифрой, отличной от 9, есть парный палиндром, который в сумме с ним даёт 9999999. Без пары остались палиндромы вида 9ABCBA9. Их также разобьём на пары: парным к указанному будет палиндром, полученный заменой цифр A, B, C на их дополнения до 9. Сумма элементов пары равна $9000009 + 9999999$.

22. а) Мог. Банкнотами в 15 и 10 динаров можно набрать любую сумму, кратную 5, начиная с 10 динаров. Если дневная плата состав-

ляла 5 динаров, то гость мог платить 10 дней, отдавая всё, что у него есть, и получая сдачи на 5 динаров меньше. В конце у него останется 10 динаров.

б) Мог. Пусть в динаре 12 дирхемов. Тогда $\frac{1}{4}$ динара = 3 дирхе-ма, $\frac{1}{6}$ динара = 2 дирхема. Этими монетами можно набрать любое целое число дирхемов начиная с 2: чётное — двойками, нечётное — одной тройкой, остальные двойки. Гость мог платить 10 дней по одному дирхему, отдавая всё, что у него есть, и получая сдачи на 1 дирхем меньше. В конце у него останется 2 дирхема.

в) Не мог. Пусть в динаре 60 дирхемов. Тогда $\frac{1}{4}$ динара = 15 дирхемов, $\frac{1}{5}$ динара = 12 дирхемов, $\frac{1}{6}$ динара = 10 дирхемов. Так как он отдавал и получал целое число дирхемов, проживание в день стоит целое число дирхемов. Это число от 1 до 4 (иначе 1 динара на 14 дней не хватит).

Заметим, что *набранная монетами сумма, оканчивающаяся на 8, не меньше 48.*

Действительно, монет по 15 дирхемов в ней должно быть чётное число, а их сумма оканчивается на 0. Поэтому цифра 8 в конце может получиться только за счёт четырёх монет по 12 дирхемов.

Рассмотрим 4 варианта цены дневного проживания:

1) 4 дирхема, тогда после 13 дней у гостя должно остаться 8 дирхемов, что невозможно;

2) 3 дирхема, тогда после 14 дней должно остаться 18 дирхемов;

3) 2 дирхема, тогда после 11 дней у гостя было 38 дирхемов;

4) 1 дирхем, тогда после 7 дней у гостя было 53 дирхема; для этого нужно нечётное число нечётных монет: одна или три по 15; тогда остальная сумма оканчивается на 8. Но она меньше 48.

23. Пусть в марсианской неделе нечётное число дней: $d = 2k + 1$. Промежутки между получением писем — последовательные числа, значит, их остатки по модулю d — тоже. Сумма d последовательных промежутков будет равна целому числу недель плюс $0 + 1 + 2 + \dots + (d - 1)$ дней. В последней сумме $2k$ ненулевых слагаемых. Сгруппировав их в пары: первое с последним, второе с предпоследним и т. д., получим, что эти дни образуют целое число недель. Значит, $(d + 1)$ -е письмо придёт в тот же день недели, что и 1-е, $(d + 2)$ -е — в тот же день, что 2-е, и т. д. Таким образом, каждые d писем подряд задают все те дни недели, по которым письма прихо-

дят. Однако если начать отсчёт писем с того, после которого идёт промежуток из целого числа недель (ему соответствует остаток 0), то первое и второе письмо придут в одинаковые дни недели. Но тогда какому-то из d дней недели письма не достанется. Противоречие.

Замечание. При неделе с чётным числом дней такое возможно. Приведённое доказательство невозможности не проходит, поскольку в тот же день недели придёт не $(d + 1)$ -е, а $(2d + 1)$ -е письмо.

24. 17 блинов. Пусть дети съели a , b , c и d блинов, причём $a < b < c < d$. У каждого на это ушло время T . По условию числа a , b , c и d попарно взаимно просты (если бы два из них имели общий делитель n , то за время $\frac{T}{n}$ соответствующие дети съели бы целое число блинов). По условию каждый съел не меньше двух блинов. «Наименьший» по сумме набор из попарно взаимно простых чисел, удовлетворяющий этому условию: 2, 3, 5, 7.

25. Пусть $m = 2^k - 1$, $n = m^2$. Число

$$n - 1 = (m - 1)(m + 1) = 2^k(m - 1)$$

имеет тот же набор простых делителей, что и $m - 1$, поскольку $m - 1$ чётно.

26. 0. Разобьём все наборы на пары вида

$$\{a_1, \dots, a_{2011}\}, \quad \{2011 - a_1, \dots, 2011 - a_{2011}\}.$$

Сумма произведений двух наборов в паре сравнима с

$$a_1 \dots a_{2011} + (-1)^{2011} a_1 \dots a_{2011} = 0 \quad \text{по модулю } 2011.$$

Поскольку нет набора, парного самому себе (из-за нечётности числа 2011), общая сумма всех наборов делится на 2011.

27. Нет. Допустим, записать числа указанным образом удалось. Тогда сумма каждых трёх записанных подряд чисел чётна. Поэтому среди них либо два нечётных числа, либо ни одного. Если где-то два чётных числа стоят подряд, то, продолжая в обе стороны, получим, что все числа чётны, — противоречие. Значит, в каждой тройке ровно одно чётное число. Разбивая на тройки (одна, возможно, неполная), видим, что всего чётных чисел не более $\frac{n}{3} + 1$, что намного меньше половины.

28. Нельзя. Предположим, что указанная расстановка существует. Сложим суммы всех указанных троек. Поскольку каждая из сумм

не превосходит 13, а всего сумм 10, итоговая сумма не превосходит 130. С другой стороны, каждое число входит в итоговую сумму 3 раза, следовательно, итоговая сумма равна $3(1 + \dots + 9) = 135$. Противоречие.

29. а) 18° . Оценка. Так как общий делитель слагаемых является делителем суммы, НОД трёх чисел — градусных мер углов — должен быть делителем числа $180 = 2^2 \cdot 3^2 \cdot 5$. Однако если НОД кратен 5, то среди этих чисел найдутся либо два числа, оканчивающиеся на 0, либо два числа, оканчивающиеся на 5. Значит, НОД на 5 не делится, т. е. является делителем числа 36.

Допустим, что он равен 36. Запишем равенство, выражающее сумму углов треугольника, и почленно разделим его на 36. Получим сумму трёх натуральных чисел, равную 5. В ней два слагаемых равны, значит, в сумме углов — тоже, что противоречит условию. Следовательно, НОД < 36 .

Наибольший из собственных делителей числа 36 равен 18.

Пример. В треугольнике с углами 36° , 54° и 90° НОД равен 18° .

б) 1, 2, 4 или 8. Так как общий делитель слагаемых является делителем суммы, НОД данных чисел должен быть делителем числа $1000 = 2^3 \cdot 5^3$. Но при этом НОД не кратен 5 (см. п. а)). Значит, НОД является делителем числа $2^3 = 8$.

Примеры:

$$\text{НОД}(104, 896) = 8, \quad \text{НОД}(124, 876) = 4;$$

$$\text{НОД}(126, 874) = 2; \quad \text{НОД}(103, 897) = 1.$$

30. а) 11. $11 = 1 + 10 = 2 + 9 = 3 + 8 = 4 + 7 = 5 + 6$. В любом из этих представлений одно из слагаемых не составное. Если простое число больше 11, то оно не меньше 13 и нечётно. В качестве одного слагаемого возьмём 9. Тогда другое слагаемое чётно и не меньше 4. Как видим, оба слагаемых — составные числа.

б) 75. Число 75 так представить нельзя. Действительно, хотя бы одно слагаемое должно быть нечётным. Поэтому их сумма не меньше чем $17 \cdot 4 + 9 = 77$.

Любое чётное число n , большее 75, представляется как $(n - 68) + 17 \cdot 4$, а любое нечётное — как $(n - 73) + 16 \cdot 4 + 9$.

31. 3 числа. $224 = 2^5 \cdot 7$. Семёрка не может войти множителем ни в самое большое, ни в самое маленькое число, иначе в произведение войдёт 7^2 . Самое большое число больше числа с множите-

лем 7, значит, оно не меньше 8. Тогда самое маленькое число не меньше 4, а произведение самого большого и самого маленького — не меньше 32. Следовательно, произведение остальных чисел не больше $224 : 32 = 7$, т. е. оно равно 7, а значит, состоит из одного числа, и всего чисел — три. ПРИМЕР: $4 \cdot 7 \cdot 8 = 224$.

32. Пусть p_1, \dots, p_{10} — простые делители. Если среди них нет двойки, то $(1 + p_1) \cdot \dots \cdot (1 + p_{10})$ делится на 1024. Раскрыв скобки, получим сумму, где каждое из 1024 слагаемых будет делителем данного числа.

Если же, например, $p_1 = 2$, то нужную сумму получим, раскрыв скобки в выражении $p_1(1 + p_2) \cdot \dots \cdot (1 + p_{10})$.

33. Обозначим буквой d произведение простых чисел, на которые делится число m , но не делится число n . (Если таких простых чисел нет, то $d = 1$.) Тогда $n = d + (n - d)$, при этом d — делитель числа m . Докажем, что у $n - d$ и m нет общих простых делителей. Пусть p — простой делитель числа m . Если p делит n , то p не делит d , значит, не делит и $n - d$. А если p не делит n , то p делит d , поэтому не делит $n - d$.

34. Делимость на $n = 1$ очевидна.

Если $n \geq 3$ нечётно, то

$$x_n = (n + 1)x_{n-1} - q = n(n + 1)x_{n-2} + (n + 1)q - q = n(n + 1)x_{n-2} + nq.$$

При чётном n аналогично получаем $x_n = n(n + 1)x_{n-2} - nq$.

35. Разобьём все данные числа на пары $\{k, p - k\}$. Оба числа $\frac{k^3}{p}$ и $\frac{(p - k)^3}{p}$ не целые, а их сумма — целое число, поэтому

$$\left[\frac{k^3}{p} \right] + \left[\frac{(p - k)^3}{p} \right] = \frac{k^3}{p} + \frac{(p - k)^3}{p} - 1.$$

Следовательно, искомая сумма равна

$$\frac{1}{p}(1 + 2^3 + \dots + (p - 1)^3) - \frac{p - 1}{2} = \frac{(p - 1)^2 p}{4} - \frac{p - 1}{2} = \frac{(p^2 - 1)(p - 2)}{4}.$$

36. Существует. ПЕРВОЕ РЕШЕНИЕ. Покажем, что число

$$N = 3^3 \cdot 5^2 \cdot 7 \cdot 11 \cdot 13 \cdot 17 \cdot 19 \cdot 23 \cdot 29 \cdot 31$$

удовлетворяет условию задачи.

Действительно, его делителями заведомо являются все числа вида $\frac{N}{2k+1}$, где $k = 1, 2, \dots, 15$. Неравенство $\sum_{k=1}^{15} \frac{N}{2k+1} > N$, которое требуется доказать, равносильно неравенству $\sum_{k=1}^{15} \frac{1}{2k+1} > 1$.

Последнее неравенство докажем, например, так:

$$\begin{aligned} \frac{1}{3} &> \frac{1}{4}; \\ \frac{1}{5} + \frac{1}{7} &> 2 \cdot \frac{1}{8} = \frac{1}{4}; \\ \frac{1}{9} + \frac{1}{11} + \frac{1}{13} + \frac{1}{15} &> 4 \cdot \frac{1}{16} = \frac{1}{4}; \\ \frac{1}{17} + \frac{1}{19} + \frac{1}{21} + \frac{1}{23} + \frac{1}{25} + \frac{1}{27} + \frac{1}{29} + \frac{1}{31} &> 8 \cdot \frac{1}{32} = \frac{1}{4}. \end{aligned}$$

Сложив четыре записанных неравенства, получим требуемое.

Замечание 1. Предложенный способ оценки суммы аналогичен одному из способов доказательства фундаментального факта — расходимости гармонического ряда (среди сумм вида $\sum_{k=1}^n \frac{1}{k}$ есть большие, чем любое заданное число).

Замечание 2. Применяя менее грубые оценки, можно уменьшить число N .

ВТОРОЕ РЕШЕНИЕ. Воспользуемся формулой для вычисления суммы всех делителей числа (включая его):

$$\sigma(N) = (1 + p_1 + \dots + p_1^{\alpha_1})(1 + p_2 + \dots + p_2^{\alpha_2}) \dots (1 + p_k + \dots + p_k^{\alpha_k}),$$

где $N = p_1^{\alpha_1} p_2^{\alpha_2} \dots p_k^{\alpha_k}$ — каноническое разложение числа на простые множители.

Будем подбирать число N , удовлетворяющее условию $\frac{\sigma(N)}{N} > 2$, которое равносильно утверждению задачи. Включение нового простого делителя p в степени s в каноническое разложение числа N приводит к умножению $\sigma(N)$ на $p^s + p^{s-1} + \dots + p + 1$. В этом случае выражение $\frac{\sigma(N)}{N}$ умножается на

$$q = \frac{p^s + p^{s-1} + \dots + p + 1}{p^s} = 1 + \frac{1}{p} + \dots + \frac{1}{p^{s-1}} + \frac{1}{p^s}.$$

Рассмотрим $N = 3 \cdot 5 \cdot 7 \cdot 9 = 3^3 \cdot 5 \cdot 7$. Наличие в разложении множителя 3^3 даёт $q_1 = \frac{40}{27}$, наличие множителя 5 даёт $q_2 = \frac{6}{5}$, наличие множителя 7 даёт $q_3 = \frac{8}{7}$. Тогда $q = q_1 q_2 q_3 = \frac{128}{63} > 2$, что и требовалось.

Замечание 1. Найденное число $N = 945$ является наименьшим из чисел, удовлетворяющих условию задачи, что может быть проверено непосредственным перебором.

Замечание 2. Можно и не указывать конкретное число. Суммы бесконечных геометрических прогрессий со знаменателями $\frac{1}{3}, \frac{1}{5}, \frac{1}{7}$ равны соответственно $\frac{3}{2}, \frac{5}{4}, \frac{7}{6}$. Произведение этих чисел больше 2. Значит, взяв «достаточно много» членов этих прогрессий и соответствующее число $N = 3^k \cdot 5^m \cdot 7^n$, можно получить $\frac{\sigma(N)}{N} > 2$.

37. Заметим, что

$$\begin{aligned}(a^2 - t^2)(b^2 - t^2) &= a^2b^2 - (a^2 + b^2)t^2 + t^4 = \\ &= (a^2b^2 - 2abt^2 + t^4) - (a^2 - 2ab + b^2)t^2 = (ab - t^2)^2 - (a - b)^2t^2.\end{aligned}$$

Пусть $a - b = c - d = t$. Тогда

$$\begin{aligned}(a - 2)(b - 2)(c - 2)(d - 2)(a + 2)(b + 2)(c + 2)(d + 2) &= \\ &= (a^2 - 4)(b^2 - 4)(c^2 - 4)(d^2 - 4) = \\ &= ((ab - 4)^2 - 4t^2)((cd - 4)^2 - 4t^2) = \\ &= ((ab - 4)(cd - 4) - 4t^2)^2 - 4(ab - cd)^2t^2.\end{aligned}$$

Взяв $a = n + 2, b = n, c = n + 1, d = n - 1$, получим $t = 2, ab = n^2 + 2n, cd = n^2 - 1$ и

$$\begin{aligned}(n - 3)(n - 2)(n - 1)n(n + 1)(n + 2)(n + 3)(n + 4) &= \\ &= ((n^2 + 2n - 4)(n^2 - 5) - 16)^2 - 16(2n + 1)^2.\end{aligned}$$

При $n \geq 7$ число $((n^2 + 2n - 4)(n^2 - 5) - 16)^2$ — ближайший квадрат к произведению P_n чисел от $n - 3$ до $n + 4$. Действительно, при уменьшении числа $(n^2 + 2n - 4)(n^2 - 5) - 16$ на единицу его квадрат уменьшится на число порядка $2n^4$, что больше числа $16(2n + 1)^2$.

Для $n = 6$ эта формула «неточна»: она даёт $P_6 = 1348^2 - 52^2$, но здесь первый квадрат можно уменьшить: $1348^2 - 52^2 = 1347^2 - 3^2$.

Соответственно

$$P_5 = 604^2 - 44^2 = 603^2 - 27^2, \quad P_4 = 204^2 - 36^2 = 201^2 - 9^2.$$

Замечание. Мы использовали частный случай более общей формулы

$$(a^2 - c^2)(b^2 - d^2) = (ab - cd)^2 - (ad - bc)^2.$$

38. Существует. Рассмотрим магический квадрат, приведённый в условии. Умножив все числа таблицы на любое число, мы получим новый магический квадрат. Выберем в качестве множителя число $\frac{1}{9!}$, обратное произведению всех чисел таблицы. Тогда в клеточках таблицы получим числа $\frac{1}{9!}, \frac{2}{9!} = \frac{1}{3 \cdot \dots \cdot 9}, \dots, \frac{9}{9!} = \frac{1}{8!}$.

Замечание. Вместо произведения можно взять любое общее кратное чисел таблицы, в частности НОК.

39. а) $\frac{7}{8}$. Число 3 можно за один ход получить только из $2\frac{1}{2}$, а его в свою очередь из $2\frac{1}{4}$ или из $1\frac{3}{4}$. Но $2\frac{1}{4}$ нельзя получить за один ход из числа, меньшего единицы, а $1\frac{3}{4}$ получается только из числа $1\frac{3}{8}$ (которое больше 1) и числа $\frac{7}{8}$.

б) $\frac{1023}{1024}$. Число 10 можно за один ход получить только из $9\frac{1}{2}$, а его в свою очередь из $9\frac{1}{4}$ или из $8\frac{3}{4}$. Заметим, однако, что за ход прибавляется число, меньшее единицы, поэтому целая часть числа не может увеличиться больше чем на 1. Так как за 9 ходов из числа, меньшего 1, получили 9,5, целая часть должна была увеличиваться при каждом ходе. Поэтому предыдущее число было $8\frac{3}{4}$. Рассуждая аналогично, найдём последовательно все предыдущие числа:

$$7\frac{7}{8}, 6\frac{15}{16}, \dots, 1\frac{511}{512}, \frac{1023}{1024}.$$

40. Могло. Например, $A = 400, b = 5$. После снижения стоимость составила 380 рублей, а после повышения — 399.

Путь к решению. Новая стоимость равна $A\left(1 - \frac{b^2}{100^2}\right)$, что меньше старой на $\frac{Ab^2}{100^2}$. Поэтому надо подобрать A и b так, чтобы выполнялось равенство $Ab^2 = 100^2$.

41. а) 43% и 48%; б) 37,5 мл.

Первое решение (алгебраическое). а) Пусть в результате переливаний доля кислоты стала $(40 + p)\%$ в первом стакане и $(50 - q)\%$ — во втором. Объём кислоты в первом стакане увеличился при этом на p мл, а во втором — уменьшился на $\frac{150q}{100} = \frac{3q}{2}$. Отсюда $2p = 3q$. А поскольку ясно, что $40 + p < 50 - q$, т. е. $p + q < 10$, условиям задачи удовлетворяет ровно одна пара натуральных чисел: $p = 3, q = 2$. Итак, доля кислоты во втором стакане стала 48%.

б) Обозначим вместимость ложки через V . Так как после первого переливания во втором стакане стало $75 + 0,4V$ мл кислоты в $150 + V$ г раствора, V находится из уравнения $\frac{75 + 0,4V}{150 + V} = 0,48$.

ВТОРОЕ РЕШЕНИЕ (арифметическое). а) Назовём первый раствор *вином*, а второй — *уксусом*. Как известно, в результате переливаний объём уксуса в вине равен объёму вина в уксусе. Назовём этот объём *ложечкой* (ложечка, разумеется, меньше ложки). Таким образом, вместо переливаний в условии можно отлить от каждого раствора по ложечке, а потом эти ложечки поменять местами. При вместимости ложечки в 10 мл мы забираем из первого стакана 4 мл кислоты, а возвращаем 5 мл. При этом объём кислоты в первом стакане увеличивается на 1 мл, а доля — на 1%. Во втором тот же 1 мл составляет $\frac{2}{3}\%$. Следовательно, чтобы обе доли выражались целым числом процентов, придётся взять ложечку в 30 мл (при 60 мл обе доли сравняются — по 46%, что по условию невозможно). Тогда доля в первом стакане возрастёт до 43%, а во втором — снизится до 48%.

б) В итоге во втором сосуде находится 30 мл вина — $\frac{1}{5}$ объёма. Значит, и после первого переливания вино в нём составляло пятую часть. Обратное мы перелили 30 мл уксуса, значит, вместимость ложки составляет $\frac{5}{4} \cdot 30 = 37,5$ мл.

42. Пусть $a^2 - a = m$ и $a^4 - a = n$. Выразив a^2 из первого равенства и подставив во второе, получим $(m + a)^2 - a = n$, откуда $m^2 + 2ma = n - m$. Из этого равенства следует, что либо $m = 0$, либо $a = \frac{n - m - m^2}{2m}$ рационально.

Если $m = 0$, то $a = 0$ или 1. Если a рационально, т. е. $a = \frac{p}{q}$, где целое p и натуральное q взаимно просты, то из первого условия $p^2 - pq = mq^2$. Значит, p^2 кратно q , что возможно только при $q = 1$.

43. Не удастся. Наибольший общий делитель не превосходит наименьшего из чисел, а среднее арифметическое различных чисел больше наименьшего из них.

44. Тройку. Пусть Володя получил за четверть n оценок. Рассмотрим их сумму. Так как при указанной замене каждое слагаемое увеличилось не более чем на 1, среднее арифметическое тоже увеличилось не более чем на 1. Но оно увеличилось и осталось целым, значит, увеличилось ровно на 1, а для этого необходимо, чтобы

увеличилась на 1 каждая Володина оценка. Поэтому ни пятёрки, ни единицы у него не было. Так как у Володи все оценки не меньше 2 и есть оценка больше 2, среднее арифметическое тоже больше 2. Аналогично оно меньше 4. Значит, оно равно 3.

Замечание. Описанная ситуация возможна, если Володя получил по геометрии одинаковое количество двоек и четвёрок и произвольное количество троек.

45. Да, например,

$$(4 + 8 + 64 + 256) : 4 = (2 + 16 + 32 + 64 + 128 + 256) : 6 = 83.$$

Путь к решению. Рассмотрим набор $\{2^k, 2^{k+1}, 2^m, 2^n\}$. У набора $\{2^{k-1}, 2^k, 2^{m-1}, 2^{n-1}, 2^k, 2^{k+1}, 2^m, 2^n\}$ сумма в полтора раза больше, но число элементов больше в два раза. Заменяя три элемента $2^k, 2^k, 2^{k+1}$ их суммой 2^{k+2} , мы снизим число элементов до нужного. Осталось подобрать k, m, n так, чтобы все степени как в исходном, так и полученном наборах были разными.

46. 5. ПРИМЕР.

00000010, 0000018, 0000116, 0001114, 0011112.

Оценка. Допустим, что танцоров не меньше шести. Пусть A, a, S_A — соответственно лучшая оценка, худшая оценка и сумма всех неотброшенных оценок у победителя, а B, b, S_B — то же у последнего танцора. Вместо средних можно расставлять танцоров по сумме всех баллов или сумме всех, кроме крайних. Из условия следует, что такие суммы у всех различны и идут в противоположном порядке. Так как суммы целые, а танцоров не менее шести, должны выполняться неравенства $S_A - S_B \geq 5$ и $(B + b + S_B) - (A + a + S_A) \geq 5$. Складывая эти неравенства, получим $B + b - A - a \geq 10$. Отсюда $b \geq A + a + (10 - B) \geq A$, т. е. худшая оценка последнего не меньше лучшей оценки победителя. Но тогда у последнего каждая оценка не меньше, чем у победителя, т. е. $S_B \geq S_A$. Противоречие.

Замечание. Число судей несущественно, лишь бы их было не меньше трёх.

47. а) Можно. Например, 60 и 90 в концах диагонали, 2, 3 и 5 — в остальных.

б) Нельзя. Допустим, мы расставили числа нужным образом. Пусть в большом треугольнике стоят числа $a \geq b \geq c$ и b ещё соединено отрезком с числом d в малом треугольнике. Ясно, что a кратно b ,

а b кратно c . Если b кратно d , то и a кратно d . Но a и d не соединены отрезком. А если, наоборот, d кратно b , то d кратно и c , что по той же причине противоречит условию.

48. 4 номера. Было 4 номера без Удава. Но трое артистов могут выступить не более 4 раз: станцевать втроём и трижды спеть парами. Значит, без Удава исполнялись три песни и один танец. Как Слонёнок, так и Мартышка приняли участие в трёх из этих четырёх номеров. Поэтому Мартышка обогнала Слонёнка за счёт номеров с Удавом. Удав танцевал дважды, поэтому хотя бы раз со Слонёнком. Если Удав дважды выступал с Мартышкой, то со Слонёнком только один раз. Если Мартышка участвовала во всех трёх номерах с Удавом, то ни петь, ни дважды танцевать с Удавом Слонёнок не мог. Поэтому Слонёнок выступал с Удавом только раз, а всего у него — 4 номера.

49. Положим в кучки 1, 3, 5, 7, ..., 19 орехов. При попытке разбить кучку из нечётного числа орехов на две в одной из частей окажется меньшее нечётное число орехов, что и даст совпадение.

50. 31, 44, 44, 44, 57. Для каждого альбома выпишем число фотографий в нём. Среди этих чисел есть одинаковые (иначе, добавляя одно к остальным, получили бы четыре разные суммы). Сумма двух одинаковых чисел — число чётное, т. е. 88. Значит, все одинаковые числа равны 44. Теперь ясно, что все чётные числа равны 44 (иначе вместе с 44 не получим 88), а каждое нечётное равно либо $75 - 44 = 31$, либо $101 - 44 = 57$, причём оба эти случая реализуются. Отсюда ответ.

51. Матчи первого тура судили 2^{99} арбитров. Не более

$$2^{98} + 2^{97} + \dots + 2 = 2^{99} - 2$$

из них могли судить матчи остальных туров (не считая финала). Значит, по крайней мере два арбитра больше в турнире не участвовали.

52. Нельзя. Предположим, что нам удалось записать нужную строку из 4012 чисел. Для каждого числа подсчитаем количество запятых слева от него. Найдём сумму этих количеств двумя способами. С одной стороны, она равна

$$0 + 1 + 2 + \dots + 4011 = 4011 \cdot 4012 : 2 = 4011 \cdot 2006,$$

т. е. чётна. С другой стороны, рассмотрим пару одинаковых чисел x и x . Если слева от левого числа x есть n запятых, то слева от правого

их $n + x$, т.е. в сумме $2n + x$. Суммируя по всем x от 1 до 2006, получим $2A + (1 + 2 + \dots + 2006) = 2A + 2007 \cdot 1003$, т.е. нечётное число. Противоречие.

53. Можно. $(1, 2) \rightarrow (1, 3) \rightarrow (4, 3) \rightarrow (7, 3)$. Прибавляя по 7, превратим 3 в 2012. Прибавляя по $5 = 2 + 0 + 1 + 2$, превратим 7 в 2012.

54. Можно. Первым ходом прибавим к 2012 число 3, а 1000 умножим на 3, получим пару 2015 и 3000. Далее, прибавляя к левому числу 1, а правое число умножая на 1, за 985 ходов мы сможем уравнивать числа.

55. Нельзя. Вместо чисел с суммой $a + b$ мы получаем числа с суммой $16a - 4b$, т.е. сумма всех чисел изменяется на число $15a - 5b$, кратное 5. У нас сумма удвоилась, т.е. увеличилась на себя саму. Но сама сумма на 5 не делится.

Замечание. Отсутствие делимости на 5 ясно из формулы суммы арифметической прогрессии. А вот доказательство для тех, кто её не знает: разобьём весь исходный набор на двойку $\{1, 2\}$ и пятёрки последовательных чисел. Сумма чисел в каждой пятёрке при делении на 5 даёт тот же остаток, что сумма $0 + 1 + 2 + 3 + 4 = 15$, поэтому она делится на 5. А $1 + 2$ на 5 не делится.

56. 1, 2 или 3. ПРИМЕР трёх таких чисел:

1...1 делится на 1;

1...12 делится на 2;

1...13 делится на 3.

Оценка. Рассмотрим четыре подряд идущих числа. Среди них есть два чётных, одно из которых не делится на 4. Докажем, что произведение его цифр кратно 4 (в частности, может равняться нулю) и поэтому оно не кошачье. Действительно, если его последняя цифра кратна 4, то произведение цифр кратно 4. Если же последняя цифра 2 или 6, то предпоследняя цифра чётна (иначе по признаку число делилось бы на 4), поэтому произведение цифр кратно 4.

57. Три цвета. Числа 1, 4, 7 надо раскрасить в разные цвета, поэтому цветов не менее трёх. А в три цвета раскрасить можно: в первый — числа вида $9k + 1, 9k + 2, 9k + 6$, во второй — числа вида $9k + 3, 9k + 7, 9k + 8$, в третий — числа вида $9k, 9k + 4, 9k + 5$.

58. Наименьшее число, у которого больше 2012 сомножителей, — это 2^{2013} (если заменить хотя бы одну двойку на другое про-

стое число или добавить множители, то произведение увеличится). Следующее число, у которого не меньше сомножителей, — это уже $3 \cdot 2^{2012}$ (а вовсе не $2^{2013} + 1$).

59. Если все числа чётные, то сократим их на два: условие задачи при этом не нарушится. Прделав эту операцию несколько раз, мы сделаем хотя бы одно число нечётным. Его соседи — числа разной чётности. С другой стороны, если рядом стоят два нечётных числа, то их соседи чётны. Это означает, что числа по кругу идут в таком порядке: нечётное, нечётное, чётное, снова два нечётных, чётное и т. д. Таким образом, все числа разбиваются на тройки.

60. 14. Пусть в первый день $x > 0$ команд ели не за своим столом, тогда во второй день таких команд было $x + 2$, в третий — $x + 4$, ..., в седьмой — $x + 12$. Просуммировав, получим, что $7x + 42$ раза столы занимались неправильно. Всего столы занимались $28 \cdot 7$ раз, из которых не менее $28 \cdot 5$ правильно. Значит, $7x + 42 \leq 28 \cdot 2$. Отсюда, $x \leq 2$. Но $x \neq 1$, так как в первый день не могла одна команда сидеть неправильно, а все остальные правильно. Поэтому $x = 2$, и, значит, в последний день не за своим столом ели 14 команд.

61. Не может. Как известно, полный квадрат не может давать остаток 2 при делении на 3. Поэтому если в прямоугольном треугольнике один катет не кратен 3, то второй катет кратен 3, а гипотенуза — нет. Если в нашей последовательности все стороны треугольников кратны 3, то можно сократить на 3 и получить новую последовательность из подобных треугольников. Так можно добиться того, что с некоторого места последовательности все гипотенузы не кратны 3. Аналогично добиваемся того, что с некоторого места все гипотенузы нечётны (сумма квадратов двух нечётных чисел не может быть полным квадратом). Но эти гипотенузы являются катетами следующих треугольников. А в треугольнике, подобном египетскому, каждый катет либо чётен, либо кратен 3.

62. Пусть $n = 2m$. Расставим числа в следующем порядке:

$$m + 1, 1, m + 2, 2, \dots, 2m, m.$$

Проверим, что условие выполнено:

$$\begin{aligned} (m + 1) + 1 + (m + 2) + 2 + \dots + (m + k - 1) + k - 1 &= \\ &= (k - 1)m + 2(1 + 2 + \dots + k - 1) = (k - 1)(m + k) \end{aligned}$$

делится на $m + k$;

$$\begin{aligned}(m + 1) + 1 + (m + 2) + 2 + \dots + (m + k) &= \\ &= km + 2(1 + 2 + \dots + k - 1) + k = k(m + k)\end{aligned}$$

делится на k .

В случае $n = 2m + 1$ расставим числа так: $m + 1, 1, m + 2, 2, \dots, 2m, m, 2m + 1$.

В проверке нуждается только делимость суммы всех чисел, кроме последнего, на $2m + 1$, но и она доказывается аналогично.

63. Непредставимых. Как легко проверить, остаток от деления куба на 7 может равняться только 0, 1 и 6. Поэтому числа, представимые в указанном виде с $y \geq 7$, дают те же остатки. Чисел с такими остатками в первой тысяче $\frac{3}{7} \cdot 1001 - 1 = 428$.

Если $y \leq 6$, то $x^3 \leq 1000 + 6! = 1720$, т. е. $x \leq 11$. Таких пар (x, y) не больше $6 \cdot 11 = 66$, $428 + 66 < 500$.

64. Не существуют. Не ограничивая общности, будем считать, что $\text{НОД}(x, y) \geq \text{НОД}(y, z)$ и $\text{НОД}(x, y) \geq \text{НОД}(z, x)$. Отсюда

$$\text{НОД}(x, y) > |\text{НОД}(y, z) - \text{НОД}(z, x)|.$$

Но, с другой стороны, $\text{НОД}(x, y)$ не превосходит числа $|x - y|$, которое, согласно условию, равно $|\text{НОД}(y, z) - \text{НОД}(z, x)|$. Противоречие.

65. (2013, 1), (2014, 2), (2016, 4), (2515, 503), (3018, 1006), (4024, 2012).

Пусть $m = du$, $n = dv$, где u и v взаимно просты. Тогда

$$\text{НОК}(m, n) = duv, \quad \text{НОД}(m, n) = d,$$

т. е. $uv + 1 = u + v$. Значит, $(u - 1)(v - 1) = 0$, следовательно, $v = 1$ (u не может равняться 1, так как $m > n$). Отсюда $m = du$, $n = d$, $m - n = d(u - 1) = 2012$. Перебирая все делители числа 2012, находим пары $(d, u) = (1, 2013), (2, 1007), (4, 504), (503, 5), (1006, 3), (2012, 2)$, откуда получаем ответ.

66. $\left(\frac{1}{4}, \frac{1}{4}, \frac{1}{4}\right)$. Пусть Петя выписал числа $a \leq b \leq c$. Тогда числа третьей строки равны $(a + b)(a + c) \leq (a + b)(b + c) \leq (a + c)(b + c)$. Следовательно, $a = (a + b)(a + c)$, $b = (a + b)(b + c)$. Сложив эти равенства, получаем $a + b = (a + b)(a + b + 2c)$, откуда $a + b + 2c = 1$.

Аналогично $a + 2c + b = 1$, $2a + b + c = 1$, откуда $a = b = c = \frac{1}{4}$, и эти значения подходят.

67. (p, p, p) , где p — произвольное простое число.

Ясно, что p и q одной чётности. Если оба чётны, то $p = q = 2$, а тогда и $r = 2$. Если оба нечётны, то $p \geq 3$, $q \geq 3$ и $pq > p + q$. Имеем

$$2r^3 = (p + q)(p^2 - pq + q^2).$$

Поскольку $p^2 - pq + q^2 \geq pq > p + q$, учитывая, что $p + q$ чётно, получаем $p + q = 2r$, $p^2 - pq + q^2 = r^2$. Значит,

$$pq = \frac{1}{3}((p + q)^2 - (p^2 - pq + q^2)) = r^2,$$

откуда $p = q = r$.

68. $(2^{669}, 0)$, $(0, 2^{669})$. Докажем, что уравнение $x^3 + y^3 = 2^{3n}$ для неотрицательных целых n имеет только тривиальные решения $(2^n, 0)$, $(0, 2^n)$. Для $n = 0$ это очевидно.

Пусть $n > 0$ — наименьшее число, для которого уравнение имеет нетривиальное решение (a, b) . Ясно, что a и b одной чётности. Если они оба чётны, то $(\frac{a}{2}, \frac{b}{2})$ — решение уравнения $x^3 + y^3 = 2^{3(n-1)}$, что невозможно по выбору n .

Допустим, что a и b нечётны. Без ограничения общности можно считать, что $a > 0$ и $a \geq b$. Тогда $a^2 - ab + b^2 \geq b^2 \geq 1$. Но $a^2 - ab + b^2$ нечётно, а $(a + b)(a^2 - ab + b^2)$ — степень двойки, следовательно, $a^2 - ab + b^2 = b^2 = 1$. Значит, $b = \pm 1$ и $a^2 \pm a = 0$. Отсюда $a = 1$. Но решения $(1, \pm 1)$, очевидно, не подходят.

69. 2012. Пусть напрямую из A в B ведёт x , из A в C — y , а из B в C — z дорог. Тогда $x + yz = 127$, $y + xz = 164$. Вычитая, получаем $(x - y)(z - 1) = 37$, откуда $x - y = 37$, $z = 2$ или $x - y = 1$, $z = 38$.

В первом случае $y + 37 + 2y = 127$, откуда $y = 30$, $x = 67$, $z + xy = 2012$.

Во втором случае $y + 1 + 38y = 127$, $39y = 126$, а 126 не делится на 39.

70. $(1, 1)$. Так как $x + y \geq x + 1$, получаем, что $2^x \geq 2^y$, поэтому $x \geq y$. Перепишем уравнение в виде $2^{x-y}(x + 1) = x + y$. Видно, что $x + y$ делится на $x + 1$. Значит, и $y - 1 = (x + y) - (x + 1)$ делится на $x + 1$. Но $y - 1 < x + 1$, поэтому такое возможно только в случае, когда $y - 1 = 0$, т. е. $y = 1$.

Подставляя в исходное уравнение, получаем $2^x = 2$, т. е. $x = 1$.

71. 113. ПЕРВОЕ РЕШЕНИЕ. Имеем

$$\begin{aligned}
 (3+n)^4 - 256n &= (3+n)^4 - 4^4 + 256 - 256n = \\
 &= ((3+n) - 4)((3+n)^3 + 4(3+n)^2 + 16(3+n) + 64) - 256(n-1) = \\
 &= (n-1)((3+n)^3 + 4(3+n)^2 + 16(3+n) - 192).
 \end{aligned}$$

При $n=1$ это 0, а при $n>2$ оба множителя больше 1, поэтому число не простое. При $n=2$ получаем 113.

ВТОРОЕ РЕШЕНИЕ. Нетрудно заметить, что $n=1$ — корень многочлена $P(n) = (3+n)^4 - 256n$, поэтому $P(n) = (n-1)Q(n)$, где $Q(n)$ — многочлен с целыми коэффициентами.

При этом $P(1) = 0$, $P(2) = 113$, $P(3) = 6^4 - 256 \cdot 3$ делится на 6, а при $n \geq 4$ имеем $P(n) > n(3+n)^3 - 256n > n$, т. е. $Q(n) > 1$.

72. $x=1$, $y=2$. Запишем уравнение в виде $(3^x - 1)(3^x + 1) = 2y^2$. В разложение $2y^2$ на простые множители 2 входит в нечётной степени, а остальные множители — в чётной. Однако $\text{НОД}(3^x - 1, 3^x + 1) = 2$, поэтому нечётные простые множители могут входить только в один из множителей левой части, причём входят туда в чётной степени. А 2 входит в один множитель в чётной, в другой — в нечётной степени. Значит, один из множителей равен $2k^2$, другой l^2 . Число 3^x отличается на 1 от l^2 , поэтому оно не квадрат, т. е. x нечётно. Тогда $3^x + 1$ кратно 4, а $3^x - 1$ чётно, но не кратно 4. Значит, $3^x - 1 = 2k^2$, а $3^x + 1 = l^2$. Отсюда $3^x = (l-1)(l+1)$, т. е. $l-1$ и $l+1$ — степени тройки. Оба эти числа одновременно на 3 делиться не могут, поэтому $l-1=1$, $l=2$, $x=1$ и $y=2$.

73. Будем полагать, что множителей два (если их больше, все, кроме одного, можно перемножить), т. е. $k^2 + p = (k+m)(k+n)$, а поэтому $p = km + kn + mn$.

Ясно, что $p \geq 5$, потому что представить 2 в указанном виде невозможно, а 3 — можно единственным образом с $k=1$.

Число $k=1$ заведомо хорошее, так как $1+p = (1+1)\left(1 + \frac{p-1}{2}\right)$.

Число $k = \frac{p-1}{2}$ также хорошее (и отлично от 1): для такого k подходят $m=n=1$.

Данила нашёл третье хорошее число k , отличное от двух указанных, т. е. представил p в виде $km + kn + mn$, где хотя бы одно из чисел m, n отлично от 1 (иначе $k = \frac{p-1}{2}$). Пусть, например, $m > 1$.

Кроме того, $m \neq k$ (в противном случае $p = k^2 + 2kn$, и тогда k делит p , т. е. $k = p$, но $p > k^2$, что невозможно).

Осталось заметить, что тогда m — четвёртое хорошее число, поскольку $m^2 + p = m^2 + km + kn + mn = (m + k)(m + n)$.

74. 2. $3^m + 4^m = 2^m(1 + 2^m) + 3^m - 2^m$, поэтому $3^m - 2^m$ тоже делится на $1 + 2^m$.

Заметим, что m чётно: при нечётном m число $1 + 2^m$ делится на $1 + 2 = 3$ и (при $m > 1$) не является простым.

При чётном $m = 2n$ имеем $3^m - 2^m = (3^n - 2^n)(3^n + 2^n)$. Если на простое число $1 + 2^m$ делится это произведение, то на него делится хотя бы один из сомножителей. Значит, больший из сомножителей больше $2^m = 4^n$. Однако неравенство $3^n + 2^n > 4^n$ равносильно неравенству $\left(\frac{3}{4}\right)^n + \left(\frac{2}{4}\right)^n > 1$, которое не выполняется при $n \geq 2$, так как левая часть убывает с ростом n .

75. а) $\frac{1}{3}$; б) $\frac{1}{4}$. В первый день Вася на автобусе проехал в 4 раза больший путь, чем прошёл пешком, за в 3 раза меньшее время. Значит, скорость автобуса в $3 \cdot 4 = 12$ раз больше скорости Васи.

а) Во второй день Вася затратил на поездку на автобусе в 6 раз меньше времени, чем на пешее путешествие, значит, он прошёл расстояние в два раза меньшее, чем проехал, т. е. треть всего маршрута.

б) Во второй день Вася затратил на поездку на автобусе в 4 раза меньше времени, чем на пешее путешествие, значит, он прошёл расстояние в три раза меньшее, чем проехал, т. е. четверть всего маршрута.

76. а) За 12 минут. Так как одно и то же расстояние Маша прошла за 16 минут, а Миша за 4 минуты, скорость Миши в 4 раза больше. Значит, скорость Тиши в 2 раза больше скорости Маши. Следовательно, чтобы ликвидировать «фору» в 12 минут, Тише потребуется ещё 12 минут.

б) В 7 раз. Пусть скорость Маши равна v , а скорость Миши — V . Расстояние, на которое отошла Маша, пропорционально v , а Миша догоняет её со скоростью $u = V - v$. Когда Миша удваивает скорость, эта разность по условию утраивается, т. е. $u + V = 2V - v = 3u$. Отсюда $V = 2u = 2v$. Если скорость Миши удвоится, а скорость Маши уменьшится вдвое, новая разность скоростей станет равна $3,5v$, что в 7 раз больше новой скорости Маши. Поэтому Миша догонит её в 7 раз быстрее.

77. На 2 км. В первый момент мотоциклист отставал от пешехода на 6 км, во второй — опережал на 3 км. Значит, мотоциклисту потребовалось в два раза больше времени, чтобы догнать пешехода, чем на то, чтобы после этого догнать велосипедиста. Соответственно, велосипедист к моменту «встречи» пешехода и мотоциклиста обогнал пешехода на $\frac{2}{3}$ от 3 км, т. е. на 2 км.

78. От $5\frac{3}{6}$ до 6 часов. Время всего пути получается вычитанием из суммы $2 + 5$ времени, затраченного на участок Кострома—Ярославль. По условию на этот участок (80 км) автобус затратил не меньше часа. С другой стороны, на путь от Судиславля до Костромы он затратил не меньше $\frac{5}{8}$ часа, значит, на путь от Костромы до Ярославля осталось не больше $2 - \frac{5}{8} = 1\frac{3}{8}$ часа. Следовательно, время всего пути не больше $7 - 1 = 6$ часов и не меньше $7 - 1\frac{3}{8} = 5\frac{5}{8}$ часа.

Покажем, что любое время в этом промежутке возможно. Для того чтобы пройти весь путь за время $6 - t$ ($0 \leq t \leq \frac{3}{8}$), автобусу надо пройти участок Кострома—Ярославль за время $1 + t$, участок Судиславль—Кострома — за время $1 - t \geq \frac{5}{8}$, а участок Ярославль—Москва — за время $4 - t \geq 3\frac{5}{8}$, что укладывается в ограничение скорости: $\frac{260}{80} = 3\frac{1}{4} < 3\frac{5}{8}$.

79. а) 30 секунд. К моменту третьей встречи велосипедисты в сумме проехали 3 круга, причём каждый проехал целое число кругов. Значит, первый проехал два круга, а второй — один. Следовательно, второй тратил на круг вдвое больше времени, чем первый. Разность равна времени первого, т. е. он проезжает круг за 45 секунд. К моменту первой встречи он проехал $\frac{2}{3}$ круга и потратил на это 30 секунд.

б) 36 и 48 секунд. К моменту седьмой встречи велосипедисты в сумме проехали 7 кругов, причём каждый проехал целое число кругов. Поэтому их скорости относятся как $4 : 3$, $5 : 2$ или $6 : 1$, а времена прохождения круга находятся в обратной пропорции.

В первом случае первый велосипедист проезжает круг за 36 секунд, а второй — за 48.

Во втором случае разность в 1,5 раза больше времени первого, значит, он проходит круг за 8, а второй велосипедист — за 20 секунд, что противоречит условию. Тем более противоречит условию третий случай.

в) 21 и 35 секунд. Решается аналогично п. б).

80. Найдутся. ПРИМЕР: $(4,5; 1,5; 3) : 4,5 = 1,5 \cdot 3; 1,5 = 4,5 - 3; 3 = \frac{1}{2}(4,5 + 1,5)$.

Путь к решению. Расположим числа на числовой оси. Полусумма лежит посередине между двумя другими числами на расстоянии d от них. Но тогда разность берётся не между двумя крайними, значит, она равна d . Среднее и правое числа явно больше d , значит, разности равно самое левое число. Тогда среднее число равно $2d$, а правое равно $3d$. Но правое равно и произведению двух левых. Итак, левое число d умножили на среднее и получили $3d$. Значит, его умножили на 3, т. е. $2d = 3$. Отсюда $d = 1,5$.

81. Не существуют. Из первого равенства следует, что $x < t$, а из второго — что $\frac{1}{x} < \frac{1}{t}$, т. е. $x > t$. Противоречие.

82. $\frac{10}{1007}$. Заметим, что среди записанных чисел не может быть нулей. Действительно, если не крайнее число стоит рядом с нулём, то оно тоже нуль. Тогда все некрайние числа должны быть нулями и какой-то из знаменателей равен 0, что противоречит условию. Значит, равенство $y = \frac{2xz}{x+z}$ равносильно равенству

$$\frac{1}{y} = \frac{\frac{1}{x} + \frac{1}{z}}{2}.$$

Следовательно, числа, обратные данным, образуют арифметическую прогрессию a_1, \dots, a_{21} с разностью $d = (101 - 100) : 20 = \frac{1}{20}$. Поэтому $a_{15} = a_1 + 14d = 100\frac{7}{10}$, а искомое число равно $\frac{10}{1007}$.

83. Рассмотрим два случая.

1. Пусть $a + b \leq d$. Тогда

$$\begin{aligned} a(d-b) + b(d-c) + c(d-a) &\leq ad + (d-a)(d-c) + c(d-a) = \\ &= ad + (d-a)d = d^2. \end{aligned}$$

2. Пусть $a + b \geq d$. Тогда

$$\begin{aligned} a(d-b) + b(d-c) + c(d-a) &\leq d(d-b) + b(d-c) + cb = \\ &= d(d-b) + bd = d^2. \end{aligned}$$

84. Либо $\frac{1}{2}x^n \leq ax$, либо $\frac{1}{2}x^n \leq b$. В первом случае $x^n \leq 2ax$, т. е. $x \leq \sqrt[n-1]{2a}$, во втором $x^n \leq 2b$, $x \leq \sqrt[n]{2b}$. Тем более

$$x < \sqrt[n-1]{2a} + \sqrt[n]{2b}.$$

85. $(a+b+c)^3 = a^3 + b^3 + c^3 + 3(a+b)(a+c)(b+c) = a^3 + b^3 + c^3 + 24$. По неравенству о средних

$$(a^3 + b^3 + c^3) + 3 + 3 + 3 + 3 + 3 + 3 + 3 + 3 + 3 \geq 9 \sqrt[9]{a^3 + b^3 + c^3},$$

откуда легко получается требуемое неравенство.

86. Достаточно доказать, что

$$\frac{1}{1+4x^2} \geq 1-x. \quad (*)$$

Действительно, отсюда следует, что

$$\frac{1}{1+4x^2} + \frac{1}{1+4y^2} + \frac{1}{1+4z^2} \geq 1-x + 1-y + 1-z = 2.$$

Неравенство (*) после элементарных преобразований приводится к виду $x(2x-1)^2 \geq 0$.

87. Пусть X — сумма в левой части. Рассмотрим число

$$Y = \frac{1}{2n(2n+1)} + \frac{1}{(2n+2)(2n+3)} + \dots + \frac{1}{(4n-2)(4n-1)}.$$

Очевидно, что $Y > X$.

Заметим, что

$$\begin{aligned} Y + X &= \frac{1}{2n(2n+1)} + \frac{1}{(2n+1)(2n+2)} + \dots + \frac{1}{(4n-1)4n} = \\ &= \frac{1}{2n} - \frac{1}{2n+1} + \frac{1}{2n+1} - \frac{1}{2n+2} + \dots + \frac{1}{4n-1} - \frac{1}{4n} = \frac{1}{4n}, \end{aligned}$$

а X составляет меньше половины этой суммы.

88. Имеем

$$\begin{aligned} \frac{3b^3}{a^2+ab+b^2} + \frac{3c^3}{b^2+bc+c^2} + \frac{3a^3}{c^2+ca+a^2} &= \\ &= \frac{3a^3}{a^2+ab+b^2} + \frac{3b^3}{b^2+bc+c^2} + \frac{3c^3}{c^2+ca+a^2}, \end{aligned}$$

поэтому данное неравенство эквивалентно следующему:

$$\frac{a^2}{b} - \frac{3a^3}{a^2+ab+b^2} + \frac{b^2}{c} - \frac{3b^3}{b^2+bc+c^2} + \frac{c^2}{a} - \frac{3c^3}{c^2+ca+a^2} \geq 0,$$

а оно сводится к очевидному неравенству

$$\frac{a^2(a-b)^2}{b(a^2+ab+b^2)} + \frac{b^2(b-c)^2}{c(b^2+bc+c^2)} + \frac{c^2(c-a)^2}{c(c^2+ca+a^2)} \geq 0.$$

89. Имеем $1 \geq (x+y)^2 \geq 4xy$, поэтому $2xy \geq 2xy \cdot 4xy = 8x^2y^2$ и $x^2 + 8x^2y^2 + y^2 \leq x^2 + 2xy + y^2 = (x+y)^2 \leq 1$.

90. Согласно неравенству между средним арифметическим и средним гармоническим $\frac{1}{a} + \frac{1}{b} + \frac{1}{c} \geq \frac{9}{a+b+c}$. Поэтому достаточно доказать неравенство

$$\frac{9}{\sqrt{1+x^3} + \sqrt{1+y^3} + \sqrt{1+z^3}} \geq 2,$$

или

$$2(\sqrt{1+x^3} + \sqrt{1+y^3} + \sqrt{1+z^3}) \leq 9.$$

Последнее неравенство является суммой трёх неравенств вида

$$2\sqrt{1+x^3} \leq 2+x^2,$$

которые можно доказать возведением в квадрат и группировкой или воспользовавшись неравенством Коши:

$$2\sqrt{1+x^3} = 2\sqrt{(1+x)(1-x+x^2)} \leq (1+x) + (1-x+x^2) = 2+x^2.$$

91. $x = y = 6$, $z = 8$. Из второго неравенства следует, что

$$(x+3x+3z)^2 \leq 48xz,$$

т. е. $(4x-3z)^2 \leq 0$. Значит, $z = \frac{4}{3}x$. Учитывая данные неравенства, получаем $8 \leq z \leq 8$, поэтому $z = 8$, $x = 6$. Подставляя во второе неравенство, получаем $(30+3y)^2 \leq 48^2$, откуда $30+3y \leq 48$, $y \leq 6$. Следовательно, $y = 6$.

92. Прогрессия с разностью $a(a^8-1)$. Если мы возьмём в прогрессию числа a^{m+1} и a^{n+1} ($m < n$), то её разность d должна целое число раз уложиться как в число $a(a^m-1)$, так и в число $a(a^n-1)$. Наибольшей она будет, если мы возьмём $d = a \cdot \text{НОД}(a^n-1, a^m-1)$.

Как известно, $\text{НОД}(a^n-1, a^m-1) = a^{\text{НОД}(m,n)} - 1$. Поэтому наибольшая разность прогрессии соответствует наибольшему $\text{НОД}(m, n)$, где $1 \leq m < n \leq 17$. Очевидно, наибольшим будет $\text{НОД}(16, 8) = 8$. Такая прогрессия содержит a^9 и a^{17} .

93. Три числа. Количество отрицательных чисел в данном наборе чётно. Покажем, что оно не равно 0 или 4.

Произведение всех пяти чисел набора равно коэффициенту b при первой степени, умноженному на квадрат свободного члена. Поэтому $b > 0$. Если количество отрицательных чисел в наборе равно 0 или 4, то все числа в наборе, кроме b , имеют одинаковый знак. Но тогда $b < 0$, поскольку $-b$ равно произведению старшего коэффициента на сумму корней.

Три положительных числа действительно могут быть: например, если оба корня отрицательны, а старший коэффициент положителен.

94. а) Всегда. Если трёхчлен $ax^2 + bx + c$ уже имеет отрицательный корень, то ничего делать не нужно. Если же оба корня положительны, то a и b разного знака. Поменяв местами b и c , получим трёхчлен с отрицательным корнем.

б) Не существуют. Если у трёхчлена оба корня отрицательны, то все его коэффициенты одного знака. А если оба корня положительны, то a и b разного знака.

95. а) $\pm(x^2 - 5x + 5)$, $\pm ax^2$, где a — произвольное натуральное число.

Из формул Виета следует, что трёхчлен имеет вид $ax^2 - bx + b$. Поскольку при умножении на -1 условия не нарушаются, можно рассматривать только случай $a > 0$. По условию $\frac{b}{a} = b^2 - 4ab$, откуда $b = ab(b - 4a)$. Имеем два варианта.

1. Пусть $b = 0$. Тогда трёхчлен имеет вид ax^2 . Все такие трёхчлены удовлетворяют условию.

2. Пусть $a(b - 4a) = 1$. Тогда $a = b - 4a = 1$. Получаем один трёхчлен: $x^2 - 5x + 5$.

б) $ax^2 - \left(4a + \frac{1}{a}\right)(x - 1)$, ax^2 , где a — произвольное число, отличное от нуля.

Из формул Виета следует, что трёхчлен имеет вид $ax^2 - bx + b$. По условию $\frac{b}{a} = b^2 - 4ab$, откуда $b = ab(b - 4a)$. Имеем два варианта.

1. Пусть $b = 0$. Тогда трёхчлен имеет вид ax^2 . Все такие трёхчлены удовлетворяют условию.

2. Пусть $a(b - 4a) = 1$. Тогда $b = 4a + \frac{1}{a}$, b и a одного знака, поэтому дискриминант, равный $\frac{b}{a}$, положителен.

96. Рассмотрим квадратные уравнения вида $(x - a)^2 = D$, где a , D — целые параметры. Здесь D — дискриминант. Если D — корень, то $(D - a)^2 = D$. Обозначив $n = D - a$, находим $D = n^2$, $a = n^2 - n$. Итак, для каждого целого n получаем уравнение $(x - n^2 + n)^2 = n^2$, где дискриминант n^2 , очевидно, является корнем.

97. $(p, q) = (2, 37), (2, 97), (7, 2), (47, 2), (97, 2)$.

Сумма и произведение корней не могут быть нечётными одновременно, поэтому один из коэффициентов равен 2. Случай $p = q = 2$ не подходит, так как у уравнения $x^2 + 2x = 98$, очевидно, целых решений нет. Рассмотрим два случая.

1. Пусть $q = 2$, p нечётно. Корни уравнения $x^2 + px = 98$ разного знака, поэтому будем искать положительный корень. В равенстве $x(x + p) = 98$ множители в левой части разной чётности. Разложить $98 = 2 \cdot 7^2$ на два положительных множителя разной чётности можно тремя способами: $7 \cdot 14 = 2 \cdot 49 = 1 \cdot 98$, откуда $p = 7, 47, 97$.

2. Пусть $p = 2$, q нечётно. Уравнение можно записать в виде $(x + 1)^2 = 101 - q$, поэтому $101 - q$ — чётный полный квадрат: он равен 64, 36, 16 или 4. Подходят только первый и последний варианты (в остальных двух случаях q делится на 5): $q = 37$ или 97.

98. Могло. Пусть исходное уравнение имеет вид $4x^2 - 12x + 9 = 0$, тогда у него есть единственный корень: $x = \frac{3}{2}$. Корнями уравнения, полученного при указанной замене, должны являться корни уравнения $\frac{3x+1}{2x+1} = \frac{3}{2}$, но у этого уравнения корней нет.

99. Пусть прямая m имеет уравнение $y = kx + l$, а точки B и C — абсциссы b и c соответственно. Вычитая $kx + l$ из уравнений трёхчленов, получим новые трёхчлены, графики которых касаются оси Ox в точках с теми же абсциссами, т. е. имеют вид $y = (x - b)^2$ и $y = (x - c)^2$. В силу симметрии эти графики пересекаются в точке с абсциссой $\frac{b+c}{2}$, поэтому и исходные графики пересекались в точке с этой же абсциссой. Это значит, что вертикальная прямая, проходящая через точку A , является медианой треугольника ABC . Так как по условию этот треугольник равнобедренный, его медиана совпадает с высотой, поэтому прямая $m = BC$ горизонтальна.

100. Один корень. ПЕРВОЕ РЕШЕНИЕ. Так как графики трёхчленов P и Q симметричны относительно прямой $x = r$, график их суммы также симметричен относительно этой прямой, значит, на ней

лежит вершина N этой параболы. Так как $P(r) = Q(r) = 0$, вершина имеет вид $N(r; 0)$, поэтому других точек параболы на оси абсцисс нет. Следовательно, трёхчлен $P(x) + Q(x)$ имеет единственный корень.

ВТОРОЕ РЕШЕНИЕ. Из симметрии графиков трёхчленов P и Q следует, что коэффициенты при x^2 у них одинаковые. Из условия задачи также следует, что $P(x) = a(x - r)(x - s)$. Трёхчлен $Q(x)$ имеет тот же корень r , а второй его корень симметричен числу s относительно r , т. е. равен $2r - s$. Следовательно, $Q(x) = a(x - r)(x - 2r + s)$. Тогда

$$P(x) + Q(x) = a(x - r)(2x - 2r) = 2a(x - r)^2,$$

т. е. $P(x) + Q(x)$ имеет единственный корень r .

101. Существуют. Например, $f(x) = 3 - x$, $g(x) = 2 - x$.

102. Имеем $(x + a)(x + b)(x + c) = -5$; при целом x один множитель равен 1, другой -1 , третий 5. Тогда

$$(x + a) + (x + b) + (x + c) = 5,$$

т. е. $3x + (a + b + c) = 5$. Но это уравнение имеет только один корень. Следовательно, целых корней не больше одного.

ВАРИАЦИЯ. Пусть $a \leq b \leq c$. Тогда при целом x имеем $x + a = -1$, т. е. $x = -1 - a$.

103. Может. Например, $(a^2 + 1)^2 + (a + 1)^2 = a^4 + 3a^2 + 2a + 2$.

Замечание. Существует много других примеров.

104. 2. ПРИМЕР: $x^4 + x^3 - x - 1 = (x - 1)(x^3 + 2x^2 + 2x + 1)$.

ОЦЕНКА. Докажем, что каждый коэффициент многочленов $Q(x)$ и $R(x)$ по модулю не превосходит 2. Можно считать, что все коэффициенты при старших степенях равны 1 (иначе сменим знак у одного или двух многочленов). Рассмотрим два случая.

1. Пусть $Q(x) = x^3 + ax^2 + bx + c$, $R(x) = x + d$. Приравнявая коэффициенты при всех степенях, получим неравенства $|cd| \leq 1$, $|bd + c| \leq 1$, $|ad + b| \leq 1$, $|a + d| \leq 1$. Из первого неравенства следует, что $|c|$ и $|d|$ не больше 1. Тогда из последнего получаем, что $|a| \leq 2$. Если $d = 0$, то из третьего неравенства следует, что $|b| \leq 1$; если же $|d| = 1$, то из второго неравенства получаем $|b| \leq 2$.

2. Пусть $Q(x) = x^2 + ax + c$, $R(x) = x^2 + bx + d$. Здесь имеем неравенства

$$|cd| \leq 1, \quad |bc + ad| \leq 1, \quad |ab + c + d| \leq 1, \quad |a + b| \leq 1.$$

Как и раньше, $|c|$ и $|d|$ не больше 1. Из третьего неравенства получаем, что $|ab| \leq 3$. Но если, например, $|a| = 3$, то из последнего неравенства следует, что $|b| \geq 2$, т. е. $|ab| \geq 6$. Противоречие.

105. Верно. Предположим противное: в каждом соревновании были школьники, награждённые только в нём. Выберем по такому школьнику для каждого из соревнований. Эта тройка противоречит условию.

106. а) 6. Пример. Числа на карточках идут в таком порядке: 7, 1, 8, 2, 9, 3, 10, 4, 11, 5, 12, 6. Тогда все утверждения с числами больше 6 ложны, так как даже общее число карточек слева меньше заявленного на карточке. Значит, утверждение с числом 1 истинно, поэтому истинно и утверждение с числом 2, и т. д. — истинны утверждения с числами не больше 6.

Оценка. Если истинных утверждений больше 6, то ложных меньше 6. Но тогда все карточки с числами от 6 до 12 «лгут», поэтому ложных больше 6. Противоречие.

б) 16. Оценка. Пусть «правдивы» $k \geq 17$ карточек, тогда «лгут» не больше 16 карточек. Все числа на правдивых карточках разные, значит, на одной из них есть число, не меньшее k . Но если правдивая карточка говорит о правде, то на ней написано число не больше $k - 1$, а если о лжи — то не более 16. Противоречие.

Пример для 16 карточек: все говорят о лжи, числа идут в таком порядке: 17, 1, 18, 2, 19, 3, ..., 16, 33.

107. Двое. Разберём два случая.

1. Одна из фраз правдива. Тогда произнёс её рыцарь, а упомянуты в ней двое лжецов.

2. Обе фразы лживы. Тогда произнесли их два лжеца, а из упомянутых в них людей хотя бы один не лжец.

108. Хватит. Пусть рядом с Артуром не сидели жители A , B и C . Заметим, что сидевший напротив Артура сидел рядом с каждым из двух других, а каждый из остальных — только рядом с одним. Это означает, что если каждого из них спросить про каждого, то сидевший напротив Артура ответит оба раза «Да», если он рыцарь, и оба раза «Нет», если он лжец. Двое других в этом случае дадут один раз ответ «Да» и один раз ответ «Нет» (независимо от того, рыцари они или лжецы).

Пусть, например, Артур спросит A про B и C , а затем — B про A и C . Если кто-то из них на оба вопроса ответит одинаково, то он и сидел напротив Артура, иначе напротив Артура сидел C .

Замечание. Возможен и другой алгоритм. Обозначим соседей Артура через D и E . Сидевший напротив Артура не сидел рядом ни с D , ни с E , а каждый из остальных незнакомцев сидел рядом с кем-то одним из них. Это означает, что на вопросы «Сидел ли рядом с тобой D ?» и «Сидел ли рядом с тобой E ?» сидевший напротив Артура оба раза ответит одинаково. Двое других в этом случае дадут один раз ответ «Да» и один раз ответ «Нет». Артур может спросить A про D и E , а затем — B про D и E . Если кто-то из них на оба вопроса ответит одинаково, то он и сидел напротив Артура, а иначе напротив Артура сидел C .

109. а) 3 или 9. Рядом с каждым рыцарем сидит лжец, поэтому лжецы за столом есть. Соседями лжеца могут быть либо два лжеца, либо два рыцаря.

Если у лжеца оба соседа лжецы, то и дальше за столом сидят одни лжецы, т. е. рыцарей нет вообще. Такой вариант возможен.

Если оба соседа лжеца рыцари, то за каждым рыцарем должен сидеть ещё рыцарь, затем лжец, затем снова два рыцаря, и т. д. Тогда лжецов трое.

б) 6. Рядом с каждым рыцарем сидят два лжеца, рядом с каждым лжецом — хотя бы один рыцарь. Поэтому лжецы могут сидеть группами по 1 или 2 человека, а рыцари — только поодиночке. Пусть за столом сидит n человек. При чётном n есть рассадка, где рыцари и лжецы чередуются, при нечётном — где два лжеца сидят подряд, а далее рыцари и лжецы чередуются. Нетрудно проверить, что при $n = 3, 4, 5, 7$ это единственно возможная рассадка. При других n однозначно определить число рыцарей нельзя. При $n = 6$ есть два варианта: $РЛРЛРЛ$ и $РЛЛРЛЛ$ с разным числом рыцарей. При $n \geq 8$ в указанной выше рассадке есть группа $РЛРЛРЛР$; заменив её на $РЛЛРЛЛР$, изменим число рыцарей. Отсюда — ответ.

110. 12. Ясно, что все клетки с тремя соседями заняты лжецами. Оба соседа гнома, стоящего в угловой клетке, лжецы, значит, сам он тоже лжец. Известно, что хотя бы один рыцарь на доске есть, значит, стоит он в какой-то клетке оставшегося квадрата 2×2 (см. рис. 15). Но тогда оба его сосе-

л	л	л	л
л			л
л	р		л
л	л	л	л

Рис. 15

да в этом квадратике также рыцари, и, следовательно, оставшаяся клетка этого квадрата также занята рыцарем.

111. а) Самый лёгкий богатырь в круге сказал правду, поэтому он наивный. Но тогда он также скажет «Нет» и во второй раз.

б) Самый лёгкий богатырь в круге солгал, поэтому он тёртый. Но тогда он также солжёт, сказав «Да» и во второй раз.

112. Могло. Например, сначала группа ККЛККЛККЗЗ повторяется 7 раз, затем группа вида ККЛККЛККЛККЗЗЗ — 3 раза.

Путь к решению. Будем искать группы подряд стоящих людей, среди которых знахарей и лекарей поровну. Можно показать, что наибольшая доля колдунов в такой группе не превосходит 60% и достигается в группе из 10 человек. Набирая 110 человек такими группами, мы как раз получили бы 66 колдунов. Но 112 на 10 не делится, и просто так двух человек в такой круг из 110 человек не добавишь. Придётся использовать группы из 14 человек, где доля колдунов очень близка к 60%.

113. У второго 20, у третьего 30. Пусть x, y, z — числа, написанные на лбу первого, второго и третьего логика соответственно.

Вначале с точки зрения первого логика возможны варианты $x = y + z$ и $x = |y - z|$. Поэтому первый логик сможет догадаться, какое у него число, только если $y = z$. Значит, после первого высказывания все знают, что $y \neq z$.

Теперь с точки зрения второго логика возможны такие варианты:

$$y = x + z \quad \text{и} \quad y = |x - z|, \quad \text{причём } y \neq z.$$

Поэтому второй логик сможет догадаться, какое у него число, только если $x = z$ или $x = 2z$. Значит, после второго высказывания все знают, что $x \neq z$ и $x \neq 2z$.

Тогда с точки зрения третьего логика возможны такие варианты: $z = x + y$ и $z = |x - y|$, причём z не равно ни одному из чисел y, x или $\frac{x}{2}$. Поэтому третий логик сможет догадаться, какое у него число, только если $x \in \left\{y, 2y, \frac{y}{2}, \frac{2y}{3}\right\}$. Значит, после третьего высказывания все знают, что $x \notin \left\{y, 2y, \frac{y}{2}, \frac{2y}{3}\right\}$.

Теперь с точки зрения первого логика возможны варианты $x = y + z$ и $x = |y - z|$. При этом известно, что

$$x \notin \left\{y, 2y, \frac{y}{2}, \frac{2y}{3}, z, 2z\right\} \quad \text{и} \quad y \neq z.$$

Поэтому первый логик сможет догадаться, какое у него число, только если $y + z$ или $|y - z|$ равно одному из чисел

$$y, 2y, \frac{y}{2}, \frac{2y}{3}, z, 2z \text{ и } y \neq z.$$

Это возможно, только если $y - z$ равно одному из чисел $\frac{y}{2}, \frac{2y}{3}, z, 2z, -y, -2y, -\frac{y}{2}, -\frac{2y}{3}$. В этих случаях x равно $y + z$ и равно $\frac{3y}{2}, \frac{4y}{3}, 3z, 4z, 3y, 4y, \frac{5y}{2}, \frac{8y}{3}$ соответственно. Поскольку 50 не делится ни на 3, ни на 4, имеет место случай $x = \frac{5y}{2}$. Тогда $y = 20, z = 30$.

114. 1, 6, 8. Разобьём числа от 1 до 50 на три группы: *слабые* не могут быть разложены в произведение трёх различных чисел (это 1, простые числа и квадраты простых чисел), *средние* раскладываются единственным образом, *сильные* раскладываются более чем одним способом (это 12, 18, 20, 24, 28, 30, 32, 36, 40, 42, 44, 45, 48 и 50). Обозначим произнесённые высказывания по порядку: $A_1, B_1, A_2, B_2, A_3, B_3$. Из A_1 ясно, что у A — сильное число. Из B_1 ясно, что у B — среднее число. Из A_2 ясно, что у его числа есть как минимум два разложения со средними суммами. Таких чисел только четыре:

$$30 = 2 \cdot 3 \cdot 5 = 1 \cdot 3 \cdot 10 \text{ с суммами 10 и 14;}$$

$$36 = 1 \cdot 4 \cdot 9 = 1 \cdot 3 \cdot 12 = 1 \cdot 2 \cdot 18 \text{ с суммами 14, 16 и 21;}$$

$$40 = 1 \cdot 5 \cdot 8 = 1 \cdot 4 \cdot 10 \text{ с суммами 14 и 15;}$$

$$48 = 1 \cdot 6 \cdot 8 = 1 \cdot 2 \cdot 24 \text{ с суммами 15 и 27.}$$

Ввиду B_2 , зная всё это и сумму, математик B всё ещё не знает чисел. Значит, сумма встречается более одного раза, т.е. равна 14 или 15. Ввиду A_3 математику A этого знания хватило, чтобы узнать числа. Значит, для разложений его числа из этих двух сумм встречается лишь одна. Для B это исключает произведение 40. Из трёх оставшихся вариантов два включают разложения с суммой 14, а одно — с суммой 15. Так как B смог определить числа, его сумма — именно 15 для варианта с произведением 48. Итак, числа — это 1, 6 и 8.

115. а) Больше нехороших. Набору (a, b, c) , где $a < b < c$, сопоставим набор $(c - b, c - a, c)$. Набор, где $a + b = c$, перейдёт в себя. Остальные наборы разобьются на пары переходящих друг в друга. При этом если набор (a, b, c) хороший, то он перейдёт в нехороший.

Действительно, $a + b - c > 0$, поэтому

$$(c - b) + (c - a) = c - (a + b - c) < c.$$

Итак, все одиночки и по одному набору из каждой пары нехорошие, поэтому нехороших наборов больше.

б) Найдутся. Например, ряд из 2009 палочек, длины которых образуют геометрическую прогрессию со знаменателем $\frac{3}{2}$. Треугольник можно сложить только из трёх соседних палочек ряда.

в) Найдутся. Выберем 23 разные палочки с длинами от 2 до 3. Из любых трёх можно сложить треугольник, всего $C_{23}^3 = 1771$ хороших наборов. Не хватает $2007 - 1771 = 236$ наборов. Позаботимся при выборе палочек, чтобы все $C_{23}^2 = 253$ суммы пар тоже были разными. Выберем палочку с длиной между 17-й и 18-й по величине суммами. Тогда эта палочка не сможет образовать треугольники с 17 парами, а с остальными 236 парами сможет. Последнюю палочку подберём так, чтобы с нею вообще нельзя было образовать треугольник (например, её длина равна сумме длин первых 24 палочек).

116. $3(2^n - 1)$. Длинные стороны брусков параллельны рёбрам куба, таких направлений — три.

Допустим, в разбиении нашлись три бруска B_1, B_2, B_3 трёх разных направлений. Проведём через B_1 слой $1 \times n \times n$ параллельно B_2 , через B_2 — слой параллельно B_3 , через B_3 — параллельно B_1 . Слои не параллельны, поэтому пересекутся по какому-то кубику K (см. рис. 16). Кубик K не принадлежит ни одному из брусков, так как каждый брусок не лежит в одном из слоёв. Однако видно, что, какое бы направление ни было у проходящего через K бруска, он пересечётся с одним из брусков B_1, B_2, B_3 . Противоречие.

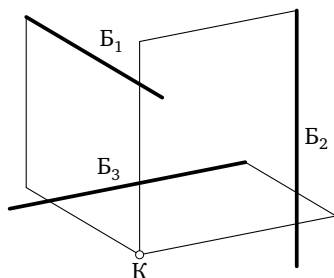


Рис. 16

Значит, для любого разбиения есть бруски не более чем двух направлений, и куб можно разбить на параллельные им слои. При подсчёте числа разбиений будем сначала выбирать направление слоёв (тут есть 3 способа), а затем — направление брусков в каждом слое (2 способа). Итого получим $3 \cdot 2^n$ разбиений. Однако три разбиения — те, где все бруски параллельны друг другу, — сосчитаны по 2 раза, их надо вычесть.

117. $n!$ *Перестановкой* называется строка из чисел $1, 2, \dots, n$ в некотором порядке. Как известно, есть всего $n!$ перестановок. *Беспорядком* называется такая пара чисел $n > m$, что n стоит в перестановке левее m . Набором своих беспорядков перестановка однозначно определяется, так как мы знаем про каждые два числа, которое из них левее.

Пронумеруем вертикали доски слева направо, а горизонтали — сверху вниз. Сопоставим перестановке расположение шашек: для каждого из беспорядков поставим шашку на пересечение n -й горизонтали и m -й вертикали. В частности, пустая доска соответствует перестановке $1, 2, 3, \dots, n$. Докажем, что разрешёнными операциями получаются соответствующие расположениям перестановки и только они. Действительно, пусть расположение соответствует некоторой перестановке P и при операции с ним выбирается k -я диагональная клетка. Тогда добавляются беспорядки

$$(k, 1), (k, 2), \dots, (k, k - 1),$$

а беспорядки

$$(k + 1, k), (k + 2, k), \dots, (n, k)$$

исчезают. Но этого же можно достигнуть, переставив в P число k на левый край! Значит, и новое расположение соответствует перестановке. С другой стороны, ставя числа последовательно на левый край, можно получить любую перестановку. Значит, расположений столько же, сколько перестановок.

118. Верно. Если в закрытой тетради ровно половина рож смотрит вверх, всё хорошо. Иначе число рож какого-то вида (скажем, смотрящих вверх) больше половины общего количества. При каждом перелистывании это число меняется на 1. Перелистаем все страницы. Теперь все рожи смотрят в другую сторону, т. е. смотрящих вверх стало меньше половины. Значит, где-то в промежутке их было ровно половина.

119. Индукция по числу оставшихся карт. База для случаев, когда все карты одной масти или одного достоинства, очевидна. Шаг индукции: рассмотрим 2 случая.

1. Пусть можно разбить все карты на две кучи так, что любые две карты из разных куч разной масти и разного достоинства. По предположению индукции каждую кучу можно *раздать* (разделить согласно условию). Если число карт в обеих кучах нечётно, раздадим из первой кучи больше карт первому игроку, а из второй — второму.

В частности, мы доказали утверждение для двух карт: они либо одной масти, либо одного достоинства, либо разбиваются на две кучи по одной карте.

2. Если указанным образом разбить карты нельзя и есть карты разных мастей и достоинств, то найдутся три карты, где вторая совпадает с первой по масти, а со второй — по достоинству (скажем, туз треф, туз пик, дама пик). Если среди карт есть ещё дама треф, то выдадим туза треф и даму пик одному, туза пик и даму треф — другому, а остальные карты раздадим по предположению индукции. Если дамы треф нет, то заменим эту тройку на даму треф и раздадим карты по предположению индукции. Заменим затем у одного игрока даму треф на туза треф и даму пик, а второму добавим туза пик. Разность количества карт, тузов, дам, треф и пик от этого не изменится.

120. 2,5 г. ПРИМЕР: 1, 2, 2, 2,5 и 2,5 г.

Оценка. Общий вес гирь не меньше 10 г. Можно выбрать группу весом 5 г. Тогда группа оставшихся гирь весит не меньше 5 г. В какой-то из двух групп не больше двух гирь, поэтому самая тяжёлая из них весит не менее 2,5 г.

121. а) Рассмотрим шахматную раскраску квадрата. Заметим, что каждый раз здороваются гномы, стоящие на полях разного цвета. Далее можно рассуждать по-разному.

Первый способ. В первый раз на каком-то цвете стояли не менее 5 гномов, они между собой не здоровались. Из них второй раз не менее трёх стояли на одном цвете и не здоровались. Из этих гномов в третий раз какие-то два стояли на одном цвете и не здоровались.

Второй способ. Разобьём гномов на 8 групп: ЧЧЧ, ЧЧБ, ..., БББ (в группу ЧЧБ входят гномы, которые в первые два раза стояли на чёрных полях, а третий раз — на белом). Гномов больше, чем групп, поэтому в какой-то группе есть не меньше двух гномов. Они и не здоровались.

б) Два раза. ПРИМЕР см. на рис. 17.

6	2	7
5	1	3
9	4	8

2	9	3
8	1	6
5	7	4

Рис. 17

Оценка. Назовём числа, стоявшие в соседних клетках, *знакомыми*. При каждой расстановке чисел в квадрате происходит 12 знакомств. Всего пар чисел 36.

Предположим, что удалось сделать 3 расстановки. Это значит, что каждая пара чисел знакомилась ровно один раз. Но в п. а) доказано, что какие-то два числа за три раза познакомиться не успеют. Противоречие.

122. В 4 цвета. ПРИМЕР: красим с периодом 4.

Оценка. Числа 0, 2, 5, 7 надо окрасить по-разному, так как их попарные разности — простые числа.

123. 2, 4 или 6. Пусть A и B — члены правительства, которые не могут общаться между собой без переводчика. Языки, которыми владеет A , обозначим через p и q , а языки, которыми владеет B , — через r и s . Правительство может состоять только из A и B .

Если это не так, то для общения с A каждый из остальных членов должен знать язык из пары (p, q) , а для общения с B — язык из пары (r, s) , т. е. возможны только пары (p, r) , (p, s) , (q, r) и (q, s) . Если кто-то владеет парой (p, r) , то имеется ровно один человек, владеющий парой (q, s) , и наоборот. Аналогично с парами (p, s) и (q, r) . Поэтому число членов правительства чётно и не превосходит 6. Выбор одной или двух пар из (p, r) и (p, s) даёт примеры правительств из 2, 4 или 6 членов соответственно.

124. а, б) Может. Рёбра каждого куба-коробки разобьём на четвёрки параллельных. На первом кубе на рёбрах каждой четвёрки расставим стрелки в одном направлении. На каждой четвёрке рёбер второго и третьего кубов расставим две стрелки в одном направлении, а две — в противоположном, причём во втором кубе сделаем это так, чтобы на противоположных рёбрах стрелки шли в одном

направлении, а в третьем — в противоположных. Легко видеть, что при любом совмещении кубов ровно две из четырёх стрелок каждого направления совпадут.

в) 6. Зафиксируем ребро a коробки, перпендикулярное отсутствующей крышке. Куб можно вложить в коробку двумя способами так, чтобы фиксированное ребро куба совпало с a . При этом в одном случае стрелка на ребре куба совпадёт со стрелкой на a , а в другом — нет. Итак, в половине вложений стрелка на a будет «совпадающей», а в половине — нет. То же верно для всех 12 рёбер коробки. Значит, среднее число совпадений стрелок равно $12 : 2 = 6$. С другой стороны, по условию оно равно n . Пример для $n = 6$ см. выше.

125. 4 сектора. Пронумеруем сектора по порядку от 0 до 13.

ПРИМЕР. Пусть компостер пробивает 4 сектора: 0, 2, 5, 6. При повороте талона на 1, 2, 3, 4, 5, 6 секторов в ту или другую сторону совпадут соответственно пары секторов

$$5-6, \quad 0-2, \quad 2-5, \quad 2-6, \quad 0-5, \quad 0-6.$$

Оценка. Для каждой пары пробитых секторов найдём, насколько нужно повернуть талон, чтобы эта пара совпала. Если пробито не более трёх секторов, то и пар не более трёх. А у нас есть 6 вариантов поворота, значит, в каком-то из них совпадений не будет и талон можно будет использовать повторно.

126. Смогут. Сначала переправляются два человека и стиральная машина, один человек остаётся на другой стороне реки, а второй (вместе со стиральной машиной) возвращается за третьим. Затем второй и третий переправляются вместе со стиральной машиной.

127. Смогут. Обозначим жуликов буквами A, B, C . Сначала C перевозит свои чемоданы, затем он (без багажа) возвращается обратно и перевозит A и B (без багажа). После этого A и B возвращаются и A перевозит свои чемоданы. Наконец A и C возвращаются и перевозят B , который возвращается один за своими чемоданами.

Путь к решению. Как найти указанное решение или, имея сомнения, убедиться, что в каждый момент все условия выполнены? Тут помогут обозначения, позволяющие наглядно и компактно представить шаги и расположения жуликов и чемоданов.

Обозначим жуликов буквами A, B, C , их чемоданы — соответствующими маленькими буквами, лодку — буквой L , а реку — дву-

мя вертикальными чёрточками. Выпишем список положений между рейсами лодки, подчёркивая жуликов и чемоданы, которые поплывут ближайшим рейсом:

$$\begin{aligned} &AaaBbb\underline{Ccc}L \parallel, \quad AaaBbb \parallel L\underline{C}cc, \quad \underline{A}aa\underline{B}bb\underline{C}L \parallel cc, \\ &aabb \parallel L\underline{A}B\underline{C}cc, \quad \underline{A}aa\underline{B}bbL \parallel Ccc, \quad Bbb \parallel LAaaCcc, \\ &\underline{A}Bbb\underline{C}L \parallel aacc, \quad bb \parallel LAaa\underline{B}Ccc, \quad \underline{B}bbL \parallel AaaCcc, \quad \parallel LAaaBbbCcc. \end{aligned}$$

128. Можно. а) Одновременно зажжём две большие свечи и одну маленькую. Когда маленькая догорит, зажжём следующую, и т. д. Кроме того, в момент, когда погаснет пятая маленькая свеча, погасим и одну большую. От неё останется 5-минутный огарок ($5 = 60 - 5 \cdot 11$), который мы зажжём, когда погаснет вторая большая свеча. Одна минута — это промежуток времени между моментом, когда догорит огарок, и моментом, когда догорит шестая маленькая свеча.

Итого мы использовали две большие свечи и шесть маленьких, т. е. потратили $60 \cdot 2 + 6 \cdot 11 = 186$ рублей.

б) Зажжём одну большую свечу и последовательно, одну за другой, пять маленьких (как в п. а)). В тот момент, когда погаснет пятая маленькая свеча, зажжём сразу две маленьких и погасим одну из них одновременно с тем, как погаснет большая свеча. Тем самым мы получим два огарка, каждый из которых рассчитан на 6 минут. Теперь зажжём новую маленькую свечу и последовательно, один за другим, эти два огарка. Одна минута — это промежуток времени между моментом, когда догорит маленькая свеча, и моментом, когда догорит второй огарок.

Итого мы использовали одну большую свечу и $5 + 2 + 1 = 8$ маленьких, т. е. потратили $60 + 8 \cdot 11 = 148$ рублей.

129. Пусть A — исходная песня, а B — сменившаяся. Нажмём в B кнопку «назад». Если мы оказались на песне A , то снова нажмём «вперёд», и чередование нажатий будем повторять до тех пор, пока не попадём на новую песню C . Если это произошло на нажатии «вперёд», то возможны варианты следования $A-B-C$ и $A-C-B$, а если на нажатии «назад», то $C-A-B$ или $A-C-B$.

Случай 1: $A-B-C$ или $A-C-B$? Нажмём «назад» из C . Если мы попали в B или в новую песню D , то уже всё ясно. Если же мы попали в A , то вернёмся «вперёд» (попав при этом в B или C), а затем

повторим ход «назад». По условию рано или поздно ситуация «уже всё ясно» должна случиться.

Случай 2 ($C-A-B$ или $A-C-B$?) разбирается аналогично, только делается ход «вперёд» из C .

130. ПЕРВОЕ РЕШЕНИЕ. Назовём *порцией* ту часть, что должна достаться одному школьнику, а *долей* — треть порции. Школьников больше, чем тортов, поэтому порция меньше торта, т. е. в торте более трёх долей. Покажем, как делить, чтобы все куски были не меньше доли.

Берём первый торт и отрезаем от него по доле, пока оставшийся кусок не станет меньше двух долей. Он не меньше доли. До порции ему не хватает более доли, но не более двух долей. Отрежем нужную часть от второго торта. Оставшаяся часть второго торта будет больше доли. Если она не менее двух долей, отрезаем от неё по доле, пока не останется кусок меньше двух долей. Дополним его до порции за счёт куска третьего торта, и т. д. Так как все торты вместе состоят из целого числа долей, оставшийся кусок последнего торта будет ровно долей. Теперь у нас есть для раздачи пары кусков, дополняющие друг друга до порции, остальное — доли, их раздаём по три.

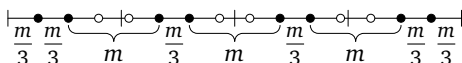


Рис. 18

ВТОРОЕ РЕШЕНИЕ. Удобнее считать, что есть t тортов веса n и n школьников, которые должны получить по t ($t < n$). Рассмотрим отрезок длины tn , разбитый чёрточками на t равных кусков (торты) и точками на $3n$ равных кусков (трети порций) (рис. 18). Сделаем светлыми пары соседних точек, между которыми попала чёрточка. Разрежем теперь по всем оставшимся чёрным точкам. В каждый торт попадает хотя бы три точки (так как $t < n$), а светлыми стали только две крайние, поэтому каждый торт разрезан (хотя бы на две части). Значит, у нас получились несколько отрезков длины t (вокруг чёрточек, не совпавших с точками) и отрезочки длины $\frac{t}{3}$. Отрезки соответствуют паре кусков веса t из двух тортов (раздаём парами), отрезочки — трети порций — раздаём тройками.

Замечание. Первое решение — «перевод» решения 2 на более «школьный» язык.

131. Достаточно либо найти пару монет разного сорта, либо выявить две группы монет, где в одной все первого сорта, в другой — второго. Сначала взвесим 4 монеты. Возможны два случая.

1. Все они одного сорта, скажем первого. Взвесим две монеты из оставшихся. Если они разного сорта или обе второго сорта — всё хорошо. Если же обе первого сорта, то все 6 невзвешенных монет — второго сорта.

2. В четвёрке есть монеты двух сортов. Взвесим две из них. Если они разного сорта — всё хорошо. Если же обе одного сорта (скажем, первого), то из первого взвешивания мы знаем всё про другую пару: монеты там либо разного сорта, либо обе второго сорта — всё хорошо.

132. Веса гирь, оставшихся от каждого взвешивания, тоже равны. Значит, некий вес можно уравновесить двумя, тремя и четырьмя гирями. Если двойка гирь пересекается с тройкой или четвёркой, то, выкинув общую гирю, уравновесим оставшуюся от двойки. Если нет, то тройка и четвёрка обязаны пересечься по двум гирям, иначе гирь всего больше семи. Выкинув общую пару гирь, уравновесим оставшуюся от тройки гирю.

133. Сначала разложим апельсины по возрастанию веса. Докажем, что соседние веса будут отличаться не больше чем на 10 г. Пусть это не так: есть апельсин веса a , а следующий вес больше $a + 10$. Покрасим апельсины с весом не больше a в жёлтый цвет, а апельсины с весом больше $a + 10$ — в оранжевый. В исходной расстановке где-то апельсины разного цвета лежат рядом, значит, разность их весов меньше 10. Противоречие.

Выложим 100 пакетов в ряд и положим в них сначала по 2 апельсина: в первый пакет — первый и последний апельсин, во второй — второй и предпоследний апельсин и т. д. На каждом шаге добавляются два изменения весов разных знаков, что в сумме делает разность весов соседних пакетов по модулю не больше максимума разностей весов соседних апельсинов, т. е. не более 10 г. Разложим пакеты по возрастанию веса — по-прежнему веса соседних отличаются не более чем на 10 г. Осталось ещё 100 апельсинов в ряду по возрастанию (со 101-го по 200-й). Положим самый лёгкий апельсин в самый тяжёлый пакет, следующий — во второй по тяжести и т. д. Как и ранее, веса соседних пакетов будут отличаться не более чем на 10 г.

134. а) Количество способов выбрать какое-то (отличное от нуля) количество яблок из десяти равно $2^{10} - 1 = 1023$. Любой такой набор

весит не более 1000 г. Значит, какие-то два набора отличаются не более чем на 1 г. Выкинем из них общие яблоки, а остальное положим в тарелки (одна из тарелок при этом может оказаться пустой).

б) Количество способов выбрать 5 яблок из десяти равно

$$\frac{10!}{5! \cdot 5!} = 252.$$

По условию каждый такой набор весит не более 500 г. Значит, какие-то два набора отличаются не более чем на 2 г. Выкинем из них общие яблоки, а остальное положим в тарелки.

135. Обозначим монеты по порядку: a, b, c, d, e . Взвесим сначала a и d , а потом b и e . Переберём возможные варианты.

1. Два неравенства. Тогда те монеты, которые легче, фальшивые.

2. Одно равенство, одно неравенство. Тогда более лёгкая монета фальшивая и c тоже фальшивая.

3. Два равенства. Тогда между фальшивыми монетами лежат две настоящие монеты.

136. Может. Каждый раз эксперт устраивает равновесие.

В первый раз 4 монеты уравниваются одной. Это возможно, только когда $1 + 2 + 3 + 4 = 10$. Монеты разделятся на три группы: $A = \{1, 2, 3, 4\}$, $B = \{5, 6, 7, 8, 9\}$ и $\{10\}$ (т. е. монета 10 уже определилась). Монеты из указанных двух групп будем обозначать соответствующими малыми буквами с индексами.

Второе взвешивание:

$$b_1 + b_2 + 10 = a_4 + b_4 + b_5.$$

Вес слева не меньше $5 + 6 + 10 = 21$, справа — не больше $4 + 8 + 9 = 21$, поэтому веса монет именно такие. Теперь определились группы $D = \{1, 2, 3\}$, $E = \{5, 6\}$, $F = \{8, 9\}$ и монеты 4, 7 и 10.

Третье взвешивание: $d_1 + f_1 = d_3 + e_2$. Так как

$$1 + 8 \leq d_1 + f_1 = d_3 + e_2 \leq 3 + 6,$$

определятся монеты 1, 8, 3, 6, а значит, и все остальные.

137. Можно в обоих случаях.

а) Назовём первые четыре монеты серебряными, а остальные две — золотыми. Положим на каждую чашу одну золотую и одну серебряную монеты. Одна из золотых монет фальшивая, поэтому при неравенстве она будет на лёгкой чаше. Тогда серебряная монета

на тяжёлой чаше настоящая, поэтому фальшива одна из остальных трёх серебряных. Сравнив любые две из них, найдём и её.

Если при первом взвешивании получается равенство, то на одной чаше фальшива золотая, на другой — серебряная монета. Сравнив две серебряные монеты с весов, найдём, которая из них фальшивая, после чего определится и фальшивая золотая.

Замечание. Мы не пользовались тем, что золотая равна по весу серебряной. Достаточно лишь равенства весов монет из одного металла и равенства *отклонений* фальшивой от настоящей.

б) Обозначим монеты по порядку: A, B, C, D, X, Y . Сравниваем $\{A, B\}$ с $\{C, X\}$ и $\{B, C\}$ с $\{D, Y\}$. Для каждой из возможных пар фальшивых монет получим разные комбинации результатов (см. таблицу).

A, X	A, Y	B, X	B, Y
$A, B = C, X$	$A, B < C, X$	$A, B = C, X$	$A, B < C, X$
$B, C = D, Y$	$B, C > D, Y$	$B, C < D, Y$	$B, C = D, Y$

C, X	C, Y	D, X	D, Y
$A, B > C, X$	$A, B > C, X$	$A, B > C, X$	$A, B = C, X$
$B, C < D, Y$	$B, C = D, Y$	$B, C > D, Y$	$B, C > D, Y$

138. Для краткости не будем писать граммы. Если на чаше с гирькой 1 есть гирька m , а на другой — гирька $m + 1$, уберём эти три гирьки. Если нет, то на первой чаше лежат гирьки $1, k, k + 1, \dots, n$, на второй — $2, 3, \dots, k - 1$. Так как $1 + n < 2 + 3 + \dots + (n - 1)$ при $n > 4$, на первой чаше есть не менее трёх гирь, в частности есть гиря $k + 1$. Уберём её, а со второй чаши — гирьки 2 и $k - 1$.

Замечание. В п. а) второй случай просто невозможен: там не будет равенства чаш. Действительно, полусумма весов всех гирь $40(1 + 40) : 4 = 410$ кратна 41. А сумма

$$2 + 3 + \dots + (k - 1) = (k - 2)(k + 1) : 2$$

не кратна 41, поскольку $k < 40$.

139. а) Ясно, что если упорядочить камни по весу, то при любом испытании прибор выберет два из трёх средних камней. Удалив

один камень из показанных в первом испытании, узнаём остальные два средних. Теперь три раза удаляем камни не из этой тройки. Тот камень, который войдёт в каждую из трёх пар, — самый средний.

б) За четыре. Алгоритм. После первого испытания остаются три подозрительных камня: отложенный и два, выбранные прибором. Сделаем ещё три испытания, каждый раз откладывая новый камень не из первой тройки. Каждый раз определяется новая подозрительная тройка. Докажем, что пересечение всех четырёх этих троек состоит ровно из самого среднего камня X . Действительно, нетрудно проверить, что камень X по весу средний в каждой тройке. Значит, из камней вне первой тройки два легче X и два — тяжелее X . При следующих испытаниях мы обязательно хотя бы раз отложим камень легче X . Но тогда прибор покажет на X и камень тяжелее X , т. е. самый лёгкий камень из первой тройки отсеется. Аналогично из первой тройки отсеется и камень тяжелее X .

Оценка. Трёх испытаний недостаточно. Действительно, пусть при первом испытании мы отложили один из трёх средних камней, и нам даже это подсказали. Тогда мы разбили камни на три средних (отложенный плюс два, указанные прибором) и четыре крайних. Теперь нет смысла откладывать средний: мы и так знаем, что тогда прибор покажет на другие два средних камня. Будем откладывать крайние. Пусть нам не повезло и оба раза мы откладывали крайние, которые легче средних. Тогда прибор оба раза укажет на два более тяжёлых из трёх средних и мы не можем определить, который из них самый средний.

140. См. рис. 19.

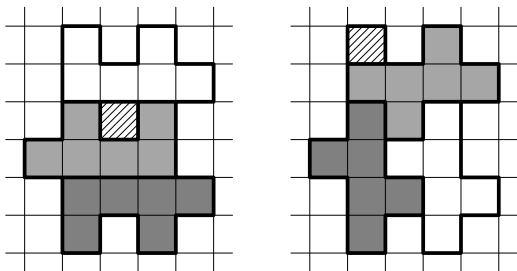


Рис. 19

141. ПЕРВОЕ РЕШЕНИЕ. Раскрасим фигуру в шахматном порядке (см. рис. 20). Белых клеток 17, а чёрных только 11 — на 6 меньше.

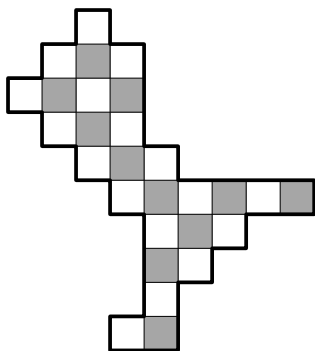


Рис. 20

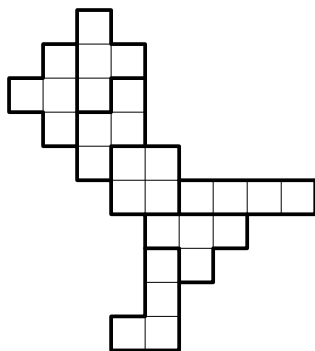


Рис. 21

На всех деталях-фигурках, кроме «буквы Т», белых и чёрных клеток поровну, а «буква Т» может содержать три белые клетки и одну чёрную. Поэтому таких деталей должно быть не менее трёх. Остальные фигурки можно использовать и по одному разу — см. рис. 21.

ВТОРОЕ РЕШЕНИЕ. Начнём с «узкого места» внизу: первая фигурка определяется однозначно, затем вторая, третья и четвёртая. В оставшейся части — «голове» — фигурку «зигзаг» можно расположить двумя способами, после чего оставшаяся часть распадается на две «буквы Т». Итого «буква Т» использована трижды.

142. Раскрасим вертикали по очереди в чёрный и белый цвет. Тогда фигурка при любом положении накрывает нечётное число белых клеток: 3 или 1. Оставшуюся часть доски из 60 оставшихся клеток надо разрезать на 15 фигурок. В них войдёт нечётное число белых клеток, тогда как осталось 30 белых клеток — число чётное. Значит, разрезать нельзя.

143. При n , кратном 6. Пусть изображённый на рис. 22 уголок покрашен в белый цвет. Тогда клетка 1 чёрная. Хотя бы одна из двух клеток 2 и 3 входит в тот же чёрный уголок. Пусть, например, это клетка 2. Тогда клетка 4 входит в исходный квадрат. Белой она быть не может, так как граничит с белым уголком. Значит, она входит в тот же чёрный уголок, что и клетки 1 и 2. Таким образом, все уголки разбиваются на пары, образующие прямоугольники 2×3 . Поэтому площадь квадрата кратна 6, а значит, кратна 2 и 3. Следовательно, и сторона квадрата кратна 2 и 3, а значит, и 6.

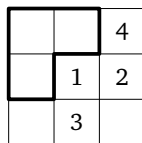


Рис. 22

Пример. Разобьём квадрат со стороной, кратной 6, на прямоугольники 2×3 ; один из них разрежем на два уголка. Соседние прямоугольники будем разрезать симметрично уже разрезанным относительно общей стороны.

144. Девять частей. Из рамки можно вырезать только прямоугольники $1 \times n$ и уголки. Если частей не менее 10 и все они различны, то общее число их клеток не меньше

$$1 + 2 + 3 + 3 + 4 + 4 + 5 + 5 + 5 + 6 = 38.$$

Значит, частей не более девяти. Пример с девятью частями см. на рис. 23.

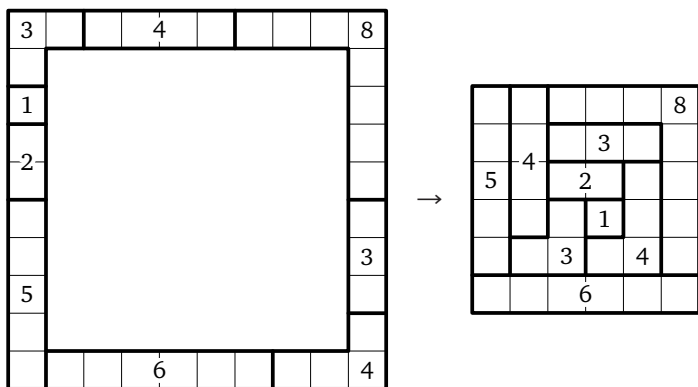


Рис. 23

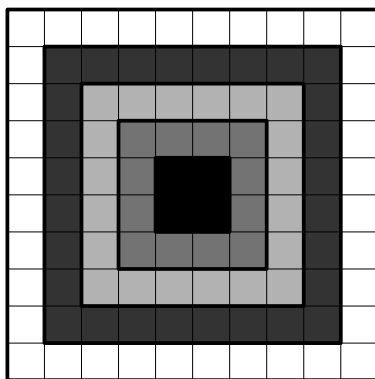


Рис. 24

145. Пять цветов. ПРИМЕР см. на рис. 24.

ОЦЕНКА. Рассмотрим набор из пяти верхних клеток главной диагонали. Они раскрашены не более чем в пять цветов. Пять нижних клеток диагонали центрально-симметричны набору, значит, имеют те же цвета. Каждая клетка выше диагонали соединена цепочкой крестиков того же цвета с центрально-симметричной клеткой ниже диагонали. Эта цепочка пересекает диагональ, значит, её цвет совпадает с цветом одной из клеток набора.

146. 21. Занумеруем грани по числу точек. Все грани кубика разбиваются на пары противоположных. По верхнему кубику видно, что 1, 2 и 4 лежат в разных парах (см. рис. 25). По двум нижним кубикам видно, что 3 не входит в пару ни с 1, ни с 2, значит, входит в пару с 4. В верхнем кубике горизонтальные грани — это пара (3, 4), в среднем — пара с 2 (остальные пары вертикальны), в нижнем (аналогично) — пара с 1. Значит, каждая грань кубика встречается среди горизонтальных по разу, и сумма на них равна $1 + 2 + 3 + 4 + 5 + 6 = 21$.

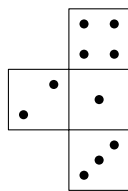


Рис. 25

147. 3—4—6. Выпишем комбинации раскрасок граней всех восьми маленьких кубиков согласно развёртке: 1—2—6, 1—2—5, 2—3—6, 2—3—5, 3—4—6, 3—4—5, 1—4—5, 1—4—6.

На правой картинке видны все четыре кубика, у которых есть грань «1», — вычеркнем их. Кроме вычеркнутых, на правой картинке видны ещё два кубика, у которых есть грань «2», — вычеркнем и их. Останется только два кубика: 3—4—6 и 3—4—5.

На рисунке остался только один невычеркнутый кубик — внизу спереди. На нём видны грани 3 и 4. По условию на нём ещё раскрашена нижняя грань (именно она выходит на поверхность большого куба). Но если кубик 3—4—6 развернуть так, чтобы 3 было слева, а 4 — справа, то согласно развёртке окрашенная грань окажется сверху. Значит, мы видим кубик 3—4—5, а в дальнем углу лежит кубик 3—4—6.

1	2	3
4	5	6
7	8	9

148. Можно, см. рис. 26.

149. Можно. Заметим, что чётных и нечётных чисел должно быть поровну. Если раскрасить клетки в шахматном порядке и расставить чётные числа в чёрные клетки, а нечётные — в белые, то в каждом из рядов (по горизонтали, верти-

Рис. 26

кали и диагонали) будет чётное число нечётных чисел, поэтому все суммы будут чётными.

Подправим расстановку. Разобьём таблицу на квадраты 4×4 . В каждом квадрате суммы во всех рядах по-прежнему чётные. Выберем квадраты, покрывающие одну из диагоналей таблицы, их нечётное число (в п. а) — 3, в п. б) — 25). В каждом из выбранных квадратов переставим числа в соответствии с раскраской на рис. 27. Как видим, теперь в каждом ряду выбранного квадрата нечётное число нечётных чисел (на белых клетках). Но то же верно и для рядов таблицы: каждый ряд пересекает нечётное число избранных квадратов (покрытая диагональ — все, остальные — по одному), а неизбранные на чётность не влияют.

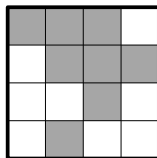


Рис. 27

150. а) 12; б) 30; в) 15. Каждая клетка не может граничить более чем с четырьмя другими, поэтому каждая клетка данного цвета создаёт не более четырёх пар цветов.

а) Должно быть пять разных пар клеток с участием данного цвета. Значит, клеток каждого цвета хотя бы по две, а всего — не меньше $2 \cdot 6 = 12$. Оценка достигается (см. рис. 28).

1	4	2	6
2	5	3	4
3	6	1	5

Рис. 28

б) Должно быть девять разных пар клеток с участием данного цвета. Значит, клеток каждого цвета хотя бы по три, а всего — не меньше $3 \cdot 10 = 30$. Оценка достигается (см. рис. 29).

1	2	3	4	5	6
7	8	9	7	10	9
3	1	5	2	6	4
8	10	7	9	8	10
5	3	6	1	4	2

Рис. 29

в) Пусть есть x клеток. Должно быть шесть разных пар клеток с участием данного цвета. Значит, клеток каждого цвета хотя бы по две, поэтому $x \geq 2 \cdot 7 = 14$. Всего у клеток $4x$ сторон, из которых $2 \cdot 7 \cdot 6 : 2 = 42$ уходит на то, чтобы пары цветов граничили друг с другом. Оценим число сторон, общих с незакрашенными клетками. В каждой вертикали и горизонтали таких сторон не меньше чем две. Пусть наши клетки лежат в m горизонталях и n вертикалях, тогда $mn \geq x \geq 14$. Легко проверить,

1	2	3	4
5	6	7	2
7	1	4	5
5	3	6	

Рис. 30

В каждой вертикали и горизонтали таких сторон не меньше чем две. Пусть наши клетки лежат в m горизонталях и n вертикалях, тогда $mn \geq x \geq 14$. Легко проверить,

что тогда $m + n \geq 8$, поэтому есть не менее 16 «незакрашенных» сторон. Неравенство $4x \geq 42 + 16$ равносильно неравенству $x \geq 14,5$. Поскольку x целое, получаем, что $x \geq 15$. Пример для 15 клеток см. на рис. 30.

151. а) 64. Выставляем ладей на большую диагональ, чередуя цвета, затем по порядку от большой на параллельные диагонали, тоже чередуя цвета.

б) 28. На рис. 31 числа задают порядок выставления ладей, чёрные ладьи обозначены жирным шрифтом.

26	5	9	8	7	6	3	27
24							4
23							16
22							17
21							18
20							19
1							15
25	2	10	11	12	13	14	28

Рис. 31

152. Не могут. Разделим доску на две половинки 4×5 . Слонов на полях одного из цветов (скажем, чёрного) не более трёх, из них на одной из половинок (скажем, левой) — не более одного. Отметим четыре чёрных поля на этой половинке (рис. 32). Слоны с другой половинки этих полей не бьют, а один слон с данной половинки все четыре поля тоже не побьёт.

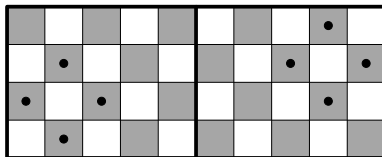


Рис. 32

153. Нельзя. а) Назовём прямоугольники доминошками. Две доминошки не могут иметь общую длинную сторону, и доминошка не

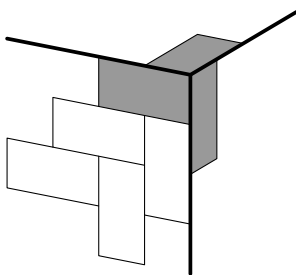


Рис. 33

может накрывать две угловые клетки. Значит, три угловые клетки при одной вершине куба накрываются тремя доминошками, параллельными трём рёбрам куба (см. тёмные доминошки на рисунке). Тогда в каждой грани возникает «ёлочка» (см. рис. 33), что приводит к появлению в противоположном углу доминошки, закрывающей две угловые клетки.

б) У доминошки может быть 4 или 6 соседей. Случай шести соседей разобран в а).

Пусть у всех доминошек по четыре соседа. Рассмотрим доминошку, не примыкающую к вершине куба. К её длинным сторонам должны примыкать доминошки длинными сторонами, к ним — тоже, и набор таких доминошек образует кольцо ширины два. Это кольцо проходит по четырём граням куба. Рассмотрим доминошку из грани, через которую кольцо не проходит и которая не примыкает к вершине куба. Она порождает аналогичное кольцо, которое должно пересекаться с первым, что невозможно.

154. Не хватает. Так можно разрезать таблицу $(n - 1) \times (n + 1)$. Выделим из неё $n - 1$ «зигзаг», как показано на рис. 34. Оставший-

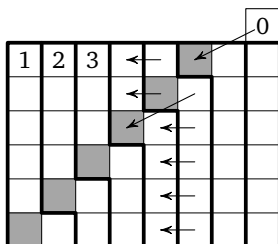


Рис. 34

ся правый столбец таблицы — отдельная часть. Мысленно добавим к нему сверху клетку с числом 0.

Заметим что для каждой клетки номер соседа слева на 1 меньше, а соседа снизу — на $n + 1$ больше. При переходе от любого зигзага к соседнему слева $n - 1$ клетка переходит в соседа слева (что даёт уменьшение суммы на $n - 1$, и только одна клетка (в последнем столбце — добавленная клетка) сдвигается «на ход коня» (на рисунке такая пара клеток отмечена), что даёт увеличение на $n - 1$. В итоге сумма не меняется.

155. При mn , кратном 3. Если mn делится на 3, то доску $m \times n$ можно разбить на прямоугольники 1×3 (или 3×1). А каждый из них можно перекрасить, перекрасив сначала дважды центр и одну крайнюю клетку, потом дважды центр и другую крайнюю клетку.

Докажем, что если перекрасить можно, то mn кратно 3. Оставим шахматную раскраску доски в покое, а вместо белого, чёрного и красного цветов будем писать в клетках и менять числа 0, 1, 2 соответственно. Тогда перекрашивание — это добавление 1 по модулю 3: $0 \rightarrow 1 \rightarrow 2 \rightarrow 0$. Каждый раз мы прибавляем по 1 к одной чёрной и одной белой клетке, поэтому сумма в чёрных и сумма в белых клетках тоже увеличиваются на 1, и разность этих сумм (по модулю 3) не меняется. Пусть есть b белых и c чёрных клеток. Если в белых клетках стоят нули, а в чёрных — единицы, то разность равна $-c$, а если наоборот, то b . Если это получилось «перекрашиваниями», то $b = -c \pmod{3}$, т. е. $mn = b + c$ кратно 3.

156. Нет. Расставим на доске числа 1, 2, 3 (см. рис. 35). По условию шашка из клетки с номером 1 за один ход может попасть только в клетку с номером 2, из клетки 2 — только в клетку 3, а из клет-

2	3	1	2	3	1	2	3
1	2	3	1	2	3	1	2
3	1	2	3	1	2	3	1
2	3	1	2	3	1	2	3
1	2	3	1	2	3	1	2
3	1	2	3	1	2	3	1
2	3	1	2	3	1	2	3
1	2	3	1	2	3	1	2

Рис. 35

ки 3 — только в клетку 1. Значит, если шашка обошла всю доску, начав с клетки 1, то она и закончила на клетке 1, т. е. 22 раза побывала в клетках с номером 1 и по 21 разу — в клетках с номерами 2 и 3. Но клеток с номером 1 на доске всего 21. Противоречие.

157. а) Не сможет. Из условия ясно, что у крайних клеток все соседи разного цвета, а у некрайних — две одного и две другого. Рассмотрим клетки вблизи края доски (см. рис. 36). Клетки b и d — разного цвета, поскольку граничат с крайней клеткой a . Аналогично разного цвета d и h . Но соседи клетки e двух цветов, поэтому b и h одного цвета. Тогда d и f одного цвета. Аналогично одного цвета a с c и g с i . Однако a , e и g трёх разных цветов, так как граничат с крайней клеткой d . Тогда c , e и i тоже трёх разных цветов. Тем самым среди соседей некрайней клетки f нашлись три разных цвета — противоречие.

g	h	i					
d	e	f					
a	b	c					

Рис. 36

2		4		2		4	
	1		3		1		3
4		2		4		2	
	3		1		3		1
2		4		2		4	
	1		3		1		3
4		2		4		2	
	3		1		3		1

Рис. 37

б) При $m = 4, 5, \dots, 64$. Перекрасим на шахматной доске чёрные клетки в четыре цвета, как показано на рис. 37. Тогда у каждой белой клетки все соседи разного цвета. Теперь белые клетки можно покрасить в те же цвета симметрично средней линии доски. Если цветов больше четырёх, будем по одной перекрашивать в новый цвет те клетки, цвет которых встречается более одного раза. Так получим раскраски для 5, 6, ..., 64 цветов.

То, что $m > 2$, очевидно.

158. 20 рублей. Заметим, что если ладья выставляется на горизонталь, свободную от ладей, то она бьёт как минимум четыре пустые клетки и не более двух ладей, т. е. в этом случае заработать рубль Петя не сможет. Следовательно, хотя бы пять ладей он должен поставить бесплатно (заняв каждую горизонталь). Значит, более двадцати рублей Петя заработать не сможет.

Приведём пример последовательности выставления ладей, при которой Петя заработает 20 рублей. Пять «бесплатных» ладей выставляются вначале — они отмечены на рис. 38 цветом, дальнейшая последовательность выставления ладей отмечена номерами.

1	4	2		11
	5	3	14	15
7	6		13	12
9	8	16	17	
10		18	19	20

Рис. 38

159. Предположим, что какие-то два коня бьют друг друга, тогда третий конь бьёт какую-то ладью Л. Следовательно, он не находится с Л на одной горизонтали или вертикали, поэтому Л его не бьёт. Если Л бьёт другого коня, то этот конь побит дважды. А если Л бьёт другую ладью, то Л побита дважды: этой ладьёй и третьим конём. В обоих случаях получаем противоречие с условием.

160. Нельзя. Предположим, что фишки можно расставить требуемым образом. Пронумеруем горизонтали и вертикали доски числами от 1 до 10. Сумма координат каждой фишки, находящейся в белой клетке, является нечётной, а в чёрной — чётной. Так как сумма координат всех фишек чётна, в белых и чёрных клетках находится по чётному количеству фишек. С другой стороны, фишки каждой нечётной пары расположены в клетках разного цвета, а чётной — в клетках одного цвета. При этом есть ровно пять нечётных пар, поэтому в клетках обоих цветов находится по нечётному числу фишек. Противоречие.

161. Нельзя. В комплект входят 28 доминошек: 7 дублей и 21 недубль. Они покрывают 56 клеток, значит, пустых клеток 8. Предположим, что все примыкания правильные. Докажем, что к каждой доминошке должна примыкать по стороне пустая клетка. Действительно, рассмотрим длинную сторону доминошки, не примыкающую к краю доски. Если обе примыкающие к этой стороне клетки не пусты, то они принадлежат разным доминошкам. Тогда цифры в них одинаковы, значит, одинаковы они и в доминошке, т. е. доминошка — дубль (тем самым к недублю примыкает пустая клетка). Хотя бы одна из примыкающих доминошек граничит с дублем половинкой длинной стороны. Тогда клетка, примыкающая ко второй половинке стороны и торцу дубля, должна быть пустой.

Разобьём пустые клетки диагоналями на 4 треугольника, всего их 32. Треугольник может примыкать максимум к одной доминошке. Назовём его *тенью* этой доминошки. Если недубль не примыкает

длинной стороной к краю доски, то у него есть тени с двух сторон. А так как на краю 28 клеток, длинной стороной к краю могут примыкать максимум 14 доминошек. Значит, есть минимум 7 доминошек с двумя тенями. Итого — минимум 35 теней, получили противоречие.

162. 296. Оценка. Пусть фишка выходит из левой нижней клетки. Введём «систему координат» так, чтобы эта клетка имела координаты $(1, 1)$. Можно считать, что весь путь лежит не выше главной диагонали, выходящей из начальной клетки (иначе просто отразим относительно неё те части пути, которые лежат выше диагонали). Возможны ходы трёх типов: при *прямых* увеличивается на 1 ровно одна из координат, при *косых-вверх* увеличиваются на 1 обе координаты, при *косых-вниз* сумма координат не меняется, но увеличивается на 1 абсцисса. Так как сумма координат возрастает от 2 максимум до 200, прямых и *косых-вверх* ходов вместе не больше 198. Так как абсцисса не уменьшается и возрастает от 2 максимум до 100, косых ходов не более 99, а косых-вниз — не более 98, поскольку первый ход не такой, но увеличивает абсциссу. Итого ходов не более 296.

Пример. Первый ход вправо, далее 98 пар ходов вверх и вправо-вниз, последние 99 ходов вверх.

163. 56. Оценка. Покрасим вершины клеток в два цвета в шахматном порядке так, чтобы вершины углов доски были синими. Тогда каждая диагональ будет соединять две одноцветные вершины. Проведём диагонали между синими вершинами, муравей ходит только по ним. Заметим, что из углов выходит по одной диагонали, из синих точек на краю доски — по две, а из остальных синих вершин — по четыре.

Возьмём максимальный по длине маршрут муравья. Допустим, он закончился, но не в углу. Тогда из этой вершины выходит одна или три диагонали маршрута, поэтому можно сделать ещё ход по четвёртой диагонали. Это противоречит максимальнойности. Значит, максимальный маршрут замкнут или начинается в одном углу, а заканчивается в другом.

Сотрём все диагонали маршрута. У нас останется 2 или 4 угла, из которых выходит по диагонали, а из остальных синих вершин выходит чётное число диагоналей. Выйдем по оставшейся диагонали из некоторого угла A и будем ходить, не повторяя диагоналей, пока возможно. Вернуться в A мы уже не можем и не можем остановить-

ся во внутренней вершине: если мы туда пришли, то осталось нечётное число диагоналей, значит, сможем и уйти. Поэтому наша новая прогулка закончится в другом углу B . От A до B мы прошли через 8 вертикалей или 8 горизонталей, т. е. посетили не менее 8 клеток. Все они не принадлежали максимальному маршруту. Значит, муравей посетил не более $64 - 8 = 56$ клеток.

ПРИМЕР. См. рис. 39 — обойдены все клетки, кроме 8 закрашенных.

164. а) Возможно.

б) При всех чётных n . Разобьём куб на слои и раскрасим клетки каждого слоя в шахматном порядке, меняя при переходе в соседний слой чёрные клетки на белые и наоборот. Тогда при каждом ходе хромой ладьи цвет меняется. Если на замкнутом пути цвета чередуются, то клеток того и другого цвета поровну. Поэтому при нечётном n такой обход невозможен.

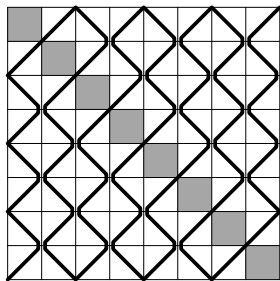


Рис. 39

Покажем, как обойти куб при чётном n . Обход при $n = 2$ см. на рис. 40 (вершины ломаной — центры кубиков, рёбра — путь ладьи). При $n \geq 4$ разобьём куб на горизонтальные *сандвичи* — параллелепипеды $2 \times n \times n$. Покажем сначала, как сделать замкнутый обход сандвича, а затем — как соединить такие обходы в обход куба.

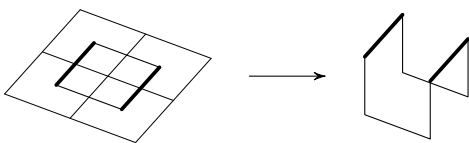


Рис. 40

1. Забудем про запрет двух шагов подряд в одном направлении и возьмём любой замкнутый обход P квадрата $n \times n$ хромой ладьёй. Превратим его в обход сандвича с соблюдением запрета. Закрасим жирным через один единичные ходы в P . Глядя на сандвич сверху, будем чередовать ходы P с вертикальными ходами. Тогда у нас жирные ходы P выполняются в верхнем слое сандвича, а тонкие — в нижнем. В результате, например, обычный обход квадрата 2×2 превратится в обход куба $2 \times 2 \times 2$ (рис. 40). Каждый ход обхода

приводит нас в новый столбик из двух кубиков, и затем мы идём вверх или вниз, чтобы попасть во второй кубик столбика. В конце всё сойдётся, потому что всего в обходе чётное число звеньев и, следовательно, мы сделаем поровну ходов вверх и вниз.

2. Подправим немного обход сэндвича, чтобы соседние сэндвичи можно было соединять. Для этого сделаем обход квадрата $n \times n$, проходящий какую-то пару клеток дважды, причём этот общий отрезок служит верхней перекладиной двух противоположно направленных П-зигзагов (см. рис. 41). Одну из П сделаем жирной, другую тонкой, в остальном жирные и тонкие отрезки чередуются. В результате мы получим два горизонтальных П-зигзага на разных слоях сэндвича (см. на рис. 42 пример для 4×4 , П-зигзаги изображены серым).

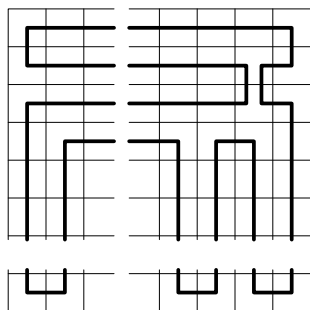


Рис. 41

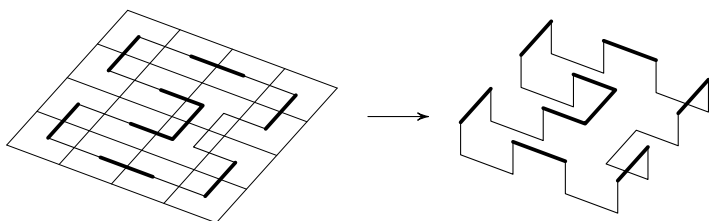


Рис. 42

3. Разобьём куб на сэндвичи. Обойдём верхний сэндвич с горизонтальными П-зигзагами в обоих слоях. Обход второго сверху сэндвича получим зеркальным отражением верхнего сэндвича относительно их общей границы. Тогда в соседних слоях двух сэндвичей

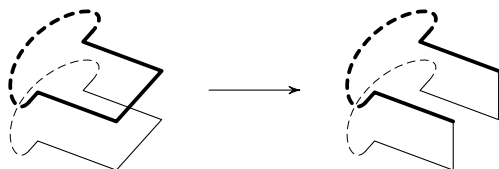


Рис. 43

найдутся П-зигзаги один под другим. Выкинем перекладки в этих П и соединим четыре получившихся свободных конца двумя вертикальными отрезками (см. рис. 43). Аналогично третий сэндвич будет отражением второго и соединится с ним через П-зигзаг, и т. д.

165. Раскрасим клетки доски в шахматном порядке. Слон может ходить по клеткам только одного цвета. Поэтому достаточно проверить, что из каждой чёрной клетки можно попасть в любую другую чёрную клетку за 3 хода. Дальше речь идёт только о чёрных клетках — слово «чёрная» опускается.

Лемма. Из каждой клетки плоской доски можно попасть в любую другую за два хода.

Доказательство. Разобьём все клетки на диагонали, параллельные главной чёрной диагонали. Каждая диагональ имеет чётную длину от 2 до 18. Очевидно, с каждой клетки на диагонали меньшей длины можно перейти на диагональ большей или той же длины за один ход, поэтому до каждой точки таких диагоналей можно дойти за два хода. Если же слону надо попасть в точку на диагонали меньшей длины, повторим в обратном порядке путь из конечной точки в начальную. \square

Надо попасть из клетки A в клетку B . Проведём через A горизонтальный слой h . На нём, как на плоской доске, через A проходят две диагонали с концами на краях доски. Эти концы лежат как минимум на трёх краях доски, из которых два края k и k' противоположны. Клетки диагоналей связывают k с k' , значит, лежат на каждом ряду (горизонтали или вертикали), параллельном k . Поэтому на каждый такой ряд из A можно попасть за один ход. Проведём теперь через B вертикальный слой v параллельно k . Его пересечение со слоем h — ряд, параллельный k , поэтому туда можно из A попасть за один ход. А оттуда в слое v можно за два хода попасть в клетку B .

166. Можно. Устроим сначала турнир по олимпийской системе. Чтобы выбыли 63 человека, понадобится 63 боя. При этом победитель проведёт 6 боёв и обыграет 6 боксёров. Второй по силе боксёр — среди них, так как никому другому он проиграть не мог. Для выявления второго достаточно организовать турнир по олимпийской системе среди этой шестёрки. Чтобы выбыли 5 боксёров, потребуются 5 боёв. Итого $63 + 5 = 68$ боёв.

167. Может. Пусть были команды A , B и C . Команда A в каждой игре била по 5 пенальти, из них забила по 2, B и C били A по 2 пеналь-

ти и забили по одному, а друг другу били по 2 пенальти, не забив ни одного. Тогда у команды A доля забитых голов $\frac{2}{5}$, а пропущенных — $\frac{1}{2} > \frac{2}{5}$, у B и C доля забитых голов $\frac{1}{4}$, а пропущенных — $\frac{2}{7} > \frac{1}{4}$.

168. 51. Команды, сделавшие более трёх ничьих, назовём *мирными*, остальные — *боевыми* (пусть таких b). Каждая из мирных могла играть вничью только с боевыми, т. е. сделала не более b ничьих.

Пусть было 17 боевых команд, тогда у них ничьих не более $17 \cdot 3 = 51$, и больше ничьих нет. Это число достигается, если каждая из боевых команд сыграла вничью с каждой из трёх мирных. Если боевых команд меньше 17, то и ничьих меньше чем $3 \cdot 17$. Если боевых команд больше 17, то мирных не более двух. Тогда боевые сыграли вничью не более $20 \cdot 3 = 60$ раз, а мирные — не более $2 \cdot 19 = 38$ раз. Вместе это даёт ограничение на удвоенное число ничьих, т. е. всего ничьих не более $(60 + 38) : 2 = 49 < 51$.

169. Обозначим команды I, II, III, IV согласно местам; тогда команда I победила II, II победила IV, в остальных матчах — ничьи.

В каждом из шести матчей набрано в сумме 2 или 3 очка, поэтому общая сумма очков — от 12 до 18. В указанных границах лежат две суммы четырёх последовательных чисел: $2 + 3 + 4 + 5 = 14$ и $3 + 4 + 5 + 6 = 18$. Однако если сумма равна 18, то все матчи были результативны: одна команда набирала 0 очков, а другая 3. Но тогда сумма очков каждой команды должна быть кратна 3, что не так. Значит, команды I, II, III, IV набрали 5, 4, 3 и 2 очка соответственно. Так как за счёт результативных матчей набирается число, кратное 3, остаток от деления на 3 набирается только за счёт ничьих. Тем самым у команды I — две ничьих и одна победа, у II — одна ничья, победа и поражение, у IV — две ничьих и поражение. Нечётное число ничьих между собой они разыграть не могли, поэтому и у команды III была хотя бы одна ничья. Так как помимо этой ничьей ей надо набрать ещё 2 очка, остальные её игры тоже ничьи. Команда II могла проиграть только команде I, значит, выиграла у IV.

170. Можно. Пусть в первом туре в каждом матче сыграют команды-соотечественники и их судят соотечественники. Тогда во всех остальных матчах остальных туров будут играть команды разных стран. В таком туре судьи распределяются однозначно. Действительно, для каждой бригады есть матч, в котором не играют

соотечественники, и для каждого матча есть бригада из третьей страны, которая его может судить.

Путь к решению. Как может быть устроен тур, который нельзя отсудить? Например, латыши играют между собой, а в двух других матчах литовцы играют с эстонцами. И так как матч между латышами проводить надо, единственный способ избежать неприятности — устроить тур «соотечественников».

Запомните приём: *устранив одно или два очевидных препятствия*, вы зачастую сделаете дальнейшее построение *однозначным* и сможете довести его до конца.

171. См. таблицу. Всего в турнире сыграно 6 партий и разыграно 6 очков. Значит, Ося набрал 3 очка — половину от всех возможных, т. е. выиграл все свои партии. Тем самым остальные участники имеют хотя бы по одному поражению.

	1	2	3	4	Итог
Ося		1	1	1	3
Нина	0		0,5	0,5	1
Проша	0	0,5		0	0,5
Зина	0	0,5	1		1,5

Предположим, что Проша проиграл все свои партии, тогда партия Нины и Зины закончилась результативно (кто-то из них должен иметь два поражения), но в этом случае в турнире не будет ничьих, что противоречит условию. Значит, Проша проиграл две партии.

Так как у Нины столько же ничьих, сколько у Зины и Проши вместе, Зина и Проша не могли сыграть вничью. Значит, Проша проиграл Зине. Следовательно, Нина сыграла вничью с каждым из них.

172. а) Могло. ПРИМЕР.

	1	2	3	4	5	Очки	З-П
Команда 1		3:0	1:0	1:0	0:7	9	5—7
Команда 2	0:3		1:0	0:0	1:0	7	2—3
Команда 3	0:1	0:1		1:0	1:0	6	2—2
Команда 4	0:1	0:0	0:1		3:0	4	3—2
Команда 5	7:0	0:1	0:1	0:3		3	7—5

б) При одной. ПРИМЕР см. в п. а).

Оценка. Предположим, что n команд провели турнир без ничьих. Тогда число очков у каждой команды кратно 3. С другой стороны, общая сумма разностей забитых и пропущенных мячей равна нулю, поэтому у команды-победительницы она отрицательна. Значит, первая команда проиграла хотя бы одну встречу, т. е. набрала не более $3(n - 2)$ очков. Но от 0 до $3(n - 2)$ есть только $n - 1$ чисел, кратных 3, а n команд показали n разных результатов. Противоречие.

в) При пяти командах. ПРИМЕР тот же.

Оценка. Четырёх команд недостаточно. Действительно, общая сумма разностей равна нулю, поэтому у первой команды она отрицательна. Значит, первая команда должна проиграть, т. е. наберёт не более 6 очков, аналогично последняя команда наберёт не менее 3 очков. Таким образом, команды должны набрать $6 + 5 + 4 + 3 = 18$ очков. Такая сумма возможна только при отсутствии ничьих, а 4 и 5 очков без ничьих не набрать.

173. Докажем, что каждой команде осталось сыграть не более двух матчей. Действительно, если команда A не сыграла с B, C, D , то, добавив к ним любую пятую команду E , мы придём к противоречию: по условию команда A сыграла по крайней мере с двумя из команд B, C, D, E .

Рассмотрим теперь граф, рёбрами которого служат *несыгранные* матчи. Поскольку степень каждой вершины не больше двух, он распадается на *циклы* и *цепочки*. Нетрудно видеть, что матчи в каждой цепочке и каждом чётном цикле можно сыграть за два дня, а встречи в нечётном цикле — за три.

174. Вничью. Рассмотрим возможные варианты распределения очков.

Случай 1: $10 - 8 - 6 - 4 - 2 - 0$. Здесь общая сумма очков равна 30, т. е. все 15 матчей окончились вничью. Но тогда все команды набрали поровну очков. Противоречие.

Случай 2: $11 - 9 - 7 - 5 - 3 - 1$. Здесь сумма очков 36, т. е. ничьих $45 - 36 = 9$, а результативных игр — 6. Тогда команда-победительница одержала не менее трёх побед, а команда с одним очком проиграла ровно 4 матча. Значит, все остальные игры между командами завершились вничью. Следовательно, вторая снизу команда набрала не меньше 4 очков. Противоречие.

Случай 3: $12 - 10 - 8 - 6 - 4 - 2$ (три ничьих). Количество ничьих определяется остатками от деления очков на 3: по две у третьей

и шестой команды, по одной у второй и пятой. Но так как всего ничьих три, матч между третьей и шестой командой должен был завершиться вничью.

Такая ситуация возможна (см. таблицу).

	3	0	3	3	3	12
0		1	3	3	3	10
3	1		0	3	1	8
0	0	3		0	3	6
0	0	0	3		1	4
0	0	1	0	1		2

175. У первой команды в её 17 матчах в воротах побывало 36 мячей, значит, был хотя бы один матч, в котором было в сумме забито не менее трёх мячей. Рассмотрим команду, которая играла с ней этот матч. У этой команды забито и пропущено в сумме 18 мячей, следовательно, на 16 остальных её матчей приходится не более 15 мячей. Но тогда в каком-то из её матчей забитых и пропущенных мячей не было, т. е. он должен был закончиться нулевой ничьей.

176. Каждая команда сыграла 15 боёв. Чтобы поиграть во всех школах, она должна была сыграть в каждой по одному разу. Значит, в каждой школе появлялось 15 команд. Но 15 нечётно, а в бое участвуют две команды. Противоречие.

177. Могла остаться одна акула. Каждая съеденная акула съела перед этим хотя бы одну щуку. Если осталась одна щука, то съедено 2006 щук, поэтому право быть съеденными получили не более 2006 акул. Поэтому осталась и акула: её не съели, так как права не имели.

Одна акула остаться могла. Пусть сначала каждая из 2006 акул съела по одной щуке, затем оставшаяся щука съела этих 2006 акул. И наконец, последняя акула съела последнюю щуку.

178. Да. Сделаем три поворота на 60° по часовой стрелке: сначала повернём левую ромашку вокруг фишки 5, затем — правую ромашку, потом — снова левую. Сделав ровно пятнадцать раз эту процедуру из трёх поворотов, получим требуемое. Действительно, нетрудно проверить, что при выполнении процедуры фишки пере-

ходят на другие места так:

$$1 \rightarrow 3 \rightarrow 7 \rightarrow 10 \rightarrow 8 \rightarrow 1, \quad 2 \rightarrow 9 \rightarrow 4 \rightarrow 2, \quad 5 \leftrightarrow 6$$

(запись $9 \rightarrow 4$ означает, что фишка 9 приходит на место 4). Как видим, у нас есть циклы из пяти, трёх и двух фишек. Если процедуру повторять, то через каждые 5 процедур оказываются на своих местах фишки первого цикла, а через каждые три процедуры — второго. Значит, после 15 процедур окажутся на своих местах фишки первых двух циклов, а фишки 5 и 6 поменяются местами нечётное число раз, что и даст расположение из п. б).

Путь к решению. Придумаем сначала, как поменять местами фишки 5 и 6, не заботясь о других фишках. Затем, пользуясь тем, что длина цикла $5 \leftrightarrow 6$ взаимно проста с длинами других циклов, за счёт повторений вернём остальные фишки на свои места.

179. а) Неверно. Возможна ситуация, когда повороты никогда не прекратятся. Вот пример: возьмём любого солдата C , стоящего не на краю строя, и пусть первоначально (после команды «смирно») все четверо солдат, стоящие по соседству с ним (спереди, сзади, справа и слева), обращены лицом к нему. Далее солдат C всё время оказывается лицом к лицу с одним из своих соседей и поворачивается направо, а его соседи неподвижны.

б) ПЕРВОЕ РЕШЕНИЕ. Дадим каждому солдату по жвачке. Пусть при встрече лицом к лицу с соседом сзади (он есть у всех, кроме задней шеренги) солдат отдаёт ему жвачку. Жвачка у него всегда найдётся. Действительно, она заведомо есть при первой встрече. Если же ни у кого не было проблем с передачей жвачки *ранее*, то не возникнет и теперь: при повторных встречах солдат успел сделать полный оборот, значит, успел встретиться лицом к лицу с соседом спереди и получить от него жвачку.

Жвачек конечное число, а число передач каждой жвачки меньше числа шеренг. Значит, передачи закончатся. После этого каждый солдат сделает не более трёх поворотов. Значит, и повороты закончатся.

ВТОРОЕ РЕШЕНИЕ. Занумеруем шеренги по порядку. Предположим, что повороты никогда не прекратятся. Тогда хотя бы один из солдат никогда не прекратит поворачиваться (но может «отдыхать»). Если таких несколько, выберем такого солдата A с *наименьшим* номером шеренги. Это не может быть первая шеренга, так как каждый солдат в ней не более чем через три поворота встанет лицом

наружу и больше поворачиваться не будет. Значит, A время от времени оказывается лицом к лицу со своим соседом B из предыдущей шеренги. Следовательно, и B никогда не прекратит поворачиваться. Но это противоречит выбору A .

180. Будем по тому же правилу определять плохие пары и для несоседних чисел. При каждой перестановке общее число плохих пар уменьшается на 1, отрицательным оно стать не может, поэтому рано или поздно процесс закончится.

181. а) Рассмотрим остатки от деления на 7 числа алмазов каждого гнома. Не может быть семи различных остатков ($0 + 1 + 2 + \dots + 6$ делится на 7, а 100 — не делится). Поэтому у каких-то двух гномов A и B остатки совпадают, т. е. разность их чисел кратна 7. При каждом переделе эта разность либо не изменяется (когда уменьшаются оба количества), либо уменьшается на 7 (когда более бедный из них — пусть это B — оказывается обиженным). Пока эта разность положительна, A — не обиженный. Если же, шагая по 7, разность опустится до нуля, то «капиталы» у A и B сравняются. Значит, A не будет обижен никогда, т. е. его капитал всё время уменьшается. Это значит, что число переделов не превышает начального капитала A .

б) Не отличается от п. а), поскольку 2012 тоже не делится на 7.

182. Запишем на другой доске числа, обратные данным. При замене пары x и y на число $a = \frac{xy}{x+y}$ на исходной доске стираем $\frac{1}{x}$ и $\frac{1}{y}$ на второй доске и пишем вместо них $\frac{1}{a}$, т. е. $\frac{1}{x} + \frac{1}{y}$. Итак, при выполнении такой операции два числа на второй доске заменяются на их сумму. Поэтому после девяти операций на второй доске окажется записана сумма обратных величин исходных чисел, а на первой — число, обратное к этой сумме. В частности, для данных чисел получим число

$$\frac{1}{1+2^{-1}+\dots+2^{-9}} = \frac{512}{1023}.$$

183. $\frac{1}{4}$. Оценка. Первый способ. Пусть в первый раз был съеден кусок веса a , во второй — b , в третий — c . Расположим оставшиеся 9 кусков в следующем порядке: сначала куски, возникшие при третьем разрезании, затем куски, возникшие при втором разрезании, и потом куски, возникшие при первом разрезании. Все куски «пере-

жили» третье съедение, поэтому они не меньше c . Куски, возникшие в двух первых разрезаниях (в частности, с третьего по девятый), пережили второе съедение, поэтому они не меньше b . Куски, возникшие при первом разрезании (в частности, с пятого по девятый), не меньше a . Следовательно, в каждой из трёх групп кусков с номерами (1, 3, 5), (2, 4, 6), (7, 8, 9) левый кусок не меньше c , средний не меньше b , правый не меньше a . Значит, вес каждой группы не меньше чем $a + b + c$.

Поэтому $a + b + c$ составляет не больше $\frac{1}{4}$ веса всего сыра.

Второй способ. Пусть Саша не ел куски, а заворачивал в бумажки. Тогда у него получилось 12 кусков. Выложим их слева направо по возрастанию массы (при равенстве завёрнутый кладём левее незавёрнутого).

ЛЕММА. Левее каждого завёрнутого куска K завёрнутых кусков не меньше, чем незавёрнутых.

В самом деле, все незавёрнутые куски левее K появились после того, как Саша его завернул. Но при любом разрезании появляется не более двух кусков левее K , причём один из них он заворачивает.

Из леммы следует, что кусок № 1 завёрнут. Следующий завёрнутый кусок имеет номер не более 3, а следующий — не более 5. Итак, среди первых шести кусков для каждого завёрнутого найдётся не меньший незавёрнутый, т. е. из первых шести кусков Саша завернул не более половины по массе, а первые шесть кусков составляют не более половины массы головки.

ПРИМЕР. Пусть весь сыр весит 120 г. Разрежем его на 9 кусков веса 10 г и один — веса 30 г. Затем дважды отрезаем от куска в 30 г по 10 г. В результате будет съедено $120 : 4 = 30$ г сыра.

184. а) Пусть даны треугольники со сторонами (a, b, c) и (a', b', c') , при этом c и c' — наибольшие стороны в треугольниках и $c \leq c'$. Обозначим через p равные полупериметры треугольников. Треугольник (a, b, c') существует, так как $a \leq c \leq c'$, $b \leq c \leq c'$ и $a + b > p > c'$. Так как $a' + b' = 2p - c' \leq 2p - c = a + b$, получаем, что $a' \leq a$ или $b' \leq b$. Без ограничения общности $a' \leq a$. Тогда треугольник (a, b, c') существует: $a \leq c'$, $b' \leq c'$ и $a + b' \geq a' + b' > c'$. Значит, можно последовательно получать треугольники: $(a, b, c) \rightarrow (a, b, c') \rightarrow (a, b', c') \rightarrow (a', b', c')$.

б) Выпишем последовательность из 15 длин сторон:

1, 1, 1, $\frac{3}{2}$, 2, 3, 4, 6, 9, 14, 20, 30, 40, 40, 40.

Легко проверить, что каждая тройка подряд идущих сторон удовлетворяет неравенству треугольника. Так как у соседних троек две стороны одинаковы, треугольники могут быть получены друг из друга операцией. Тем самым из треугольника со сторонами 1, 1, 1 за 12 операций получается треугольник со сторонами 40, 40, 40.

в) За 12 операций. ПРИМЕР. Аналогично п. б) выпишем последовательность из 15 сторон (некоторые длины для удобства проверки запишем в виде разности): 100; 100; 100; 89 – 0,256; 55 – 0,128; 34 – 0,064; 21 – 0,032; 13 – 0,016; 8 – 0,008; 5 – 0,004; 3 – 0,002; 2 – 0,001; 1; 1; 1.

Оценка. Допустим, хватит не более 11 операций. Выпишем ряд чисел Фибоначчи: 1, 1, 2, 3, 5, 8, 13, 21, 34, 55, 89, 144, 233, 377. Будем превращать треугольник со сторонами 1 в треугольник со сторонами 100 (ясно, что операций нужно столько же). Понятно, что после первой операции длины сторон не превосходят соответственно 1, 1, 2, т. е. первой тройки чисел Фибоначчи. Покажем, что после k операций не будут превзойдены числа k -й тройки Фибоначчи. Пусть у нас есть треугольник T со сторонами $a \leq b \leq c$, при этом $a \leq F_{i-1}$, $b \leq F_i$, $c \leq F_{i+1}$. Если мы одной операцией из T получим треугольник T' со сторонами $a' \leq b' \leq c'$, то они не превзойдут чисел следующей тройки чисел Фибоначчи: $a' \leq F_i$, $b' \leq F_{i+1}$, $c' \leq F_{i+2}$. Действительно, изменённое при операции число меньше $b + c \leq F_{i+2}$, а два оставшихся не больше $b \leq F_i$ и $c \leq F_{i+1}$. Тем более неравенства сохраняются и при упорядочении тройки a' , b' , c' .

Из этого ясно, что после 11 операций хотя бы одно из чисел не превзойдёт 89, т. е. будет меньше 100.

185. а) Первый. Перед ходом первого всегда есть чётное число кучек, т. е. более одной. Первый должен каждым своим ходом объединять две самые правые кучки. Это всегда возможно. Действительно, на k -м ходу в самой правой кучке не менее k орехов, так как она участвовала во всех $k - 1$ объединениях, устроенных первым. Второй без участия первого мог объединить за свои $k - 1$ ходов не более k кучек по одному ореху, поэтому в любой из остальных кучек не более k орехов. В частности, не более k орехов и во второй справа кучке. Итак, у первого всегда есть ход, поэтому он не проиграет, а значит, выиграет.

б) 2006. Выигрывает первый. Каждым ходом ему нужно объединять вторую и третью кучки, считая справа (доказательство того,

что стратегия работает, аналогично п. а)). В итоге самая правая кучка так и не будет задействована. Заметим, что, пока кучек не меньше трёх, у второго тоже есть ход: он тоже может объединить вторую и третью кучки. В результате будет сделано 2005 ходов, и первый выиграет, получив 2006 орехов.

Все орехи первый получить не может, так как для этого их все нужно собрать в одну кучу. Но тогда будет сделано 2006 ходов — чётное число, что соответствует победе второго.

186. Пусть Вера всё время берёт боб с вертикали, откуда взял Гарик на первом ходу. Пусть во всех рядах было по k бобов. Тогда Вера освободит вертикаль не позднее своего $(k - 1)$ -го хода. Вне этой вертикали на любой горизонтали лежит не менее $k - 1$ бобов. Поэтому для освобождения горизонтали Гарику потребуется не менее $k - 1$ ходов кроме первого, т. е. всего не менее k ходов. Но Вера выиграет раньше.

187. Петя. Каждым ходом он берёт по камню из двух нечётных куч, оставляя Васе три кучи с чётным числом камней. В ответ Вася вынужден сделать две кучи нечётными. Пользуясь такой стратегией, Петя всегда сможет сделать ход, значит, он не проиграет, а так как игра закончится, он выиграет.

188. Вася. Разобьём числа на пары: $(1, 2), (3, 4), \dots, (199, 200)$. Если Петя переложил одно число из пары, Вася должен переложить другое число из той же пары. После такой пары ходов число монет в Петвиной кучке должно измениться на 1. Так как пар не более 100, число монет в Петвиной кучке в любой момент неотрицательно, т. е. каждый ход Васи возможен. Поэтому Вася не проиграет, а так как игра конечна, он выиграет.

Комментарий. У Васи есть и более простая стратегия: брать наименьшее из оставшихся чисел. Но обосновать её правильность несколько сложнее.

189. Первый. Первым ходом он стирает 27. Далее он мысленно образует шестёрку $(5, 10, 15, 20, 25, 26)$, а остальные числа делит на пары с суммой 25: $(1, 24), (2, 23), \dots$ Если второй стирает одно из чисел пары, первый стирает второе число этой пары. Если второй стирает одно из чисел шестёрки, то первый стирает самое большое из оставшихся чисел шестёрки. В результате число 26 точно будет

стёрто, и в итоге на доске останется одна из пар или два числа из шестёрки, кратные 5. В любом случае первый выиграет.

190. Назовём отмеченную шашку и двух её соседей *средними*.

а) Вася. Пока средние не двигались, Вася отвечает ходами, симметричными ходам Пети. При такой стратегии одной из средних пойдёт Петя: либо вынужденно, когда по обе стороны от средних останется по одной шашке, либо добровольно раньше. После этого отмеченная фишка окажется не крайней, и одно из соседних полей рядом с ней будет свободным. Поэтому в ответ Вася сможет съесть отмеченную шашку.

б) Петя. Изначально с одной стороны от средних на одну шашку больше, чем с другой. Пока средние не двигались, Петя своим ходом съедает крайнюю шашку с той стороны от средних, где шашек больше. Тем самым после его хода с обеих сторон шашек станет поровну. Вася съест шашку с какой-то стороны, а Петя снова восстановит равенство, и т. д. Ясно, что если с нужной стороны от средних не менее двух шашек, то Петя средние не трогает. При такой стратегии Пети одной из средних шашек пойдёт Вася, и Петя сможет съесть отмеченную шашку (по тем же причинам, что в п. а)).

191. 66 монет. Фома кладёт 66 золотых монет на первые 66 чётных мест и заполняет первые 66 нечётных мест 34 золотыми и 32 серебряными монетами. При делёжке он просто берёт все монеты с чётных мест. Либо он успеет взять все 66 золотых монет, либо у него раньше наберётся 100 монет, но тогда серебряных у него на руках не более 32, значит, золотых как минимум 68.

Покажем, что при любом раскладе Ерёма может отдать Фоме не более 66 золотых монет. Пусть при своём выборе он золотые монеты берёт себе, а серебряные отдаёт Фоме. Пока и тех, и других ему попало не более 33, он выбирал не более 66 раз, Фома тоже. Значит, у каждого из них пока не более 99 монет (не более 33 от Ерёмы и не более 66 от Фомы), и делёжка не закончена. Поэтому Ерёма успеет либо взять себе 34 золотые монеты, либо отдать Фоме 34 серебряные. В обоих случаях у Фомы в итоге окажется не более 66 золотых монет.

192. РЕШЕНИЕ. а) Упорядочим куски по весу: $a \leq b \leq c$. Пусть $b = a + 2d$, $c = 2e$. Ясно, что $e > d$. Фома режет кусок веса c на части веса $e + d$ и $e - d$ и кладёт их на одну тарелочку, а части a и b — на другую. Теперь на каждой тарелочке один кусок на $2d$ тяжелее другого. Беря первым сыр со второй тарелки, Фома возьмёт с неё

больший кусок. Если на первой тарелке большой кусок возьмёт Ерёма, будет ничья, иначе Фома выиграет.

б) ЛЕММА. Пусть на тарелке лежат куски с весами $a_1 \geq a_2 \geq \dots \geq a_n$. Игроки Первый и Второй берут с неё куски по очереди, начинает Первый. Тогда Первый сможет взять больше Второго на $p = a_1 - a_2 + a_3 - a_4 + \dots \leq a_1$, как бы ни играл Второй.

ДОКАЗАТЕЛЬСТВО. Пусть Первый каждый раз берёт наибольший из оставшихся кусков. Тогда он возьмёт не меньше суммы кусков с нечётными номерами. Второму останется не больше суммы кусков с чётными номерами, тем самым разность не меньше p .

Аналогично если Второй каждый раз берёт наибольший из оставшихся кусков, то он возьмёт не меньше суммы чётных, оставив Первому не более суммы нечётных. Поэтому Второй проиграет не больше p .

Неравенство $p \leq a_1$ следует из равенства

$$p = a_1 - (a_2 - a_3) - (a_4 - a_5) - \dots$$

и того, что величина в каждой из скобок неотрицательна. \square

Вернёмся к задаче. Пусть вначале имеются куски весов

$$a_0 \geq a_1 \geq a_2 \geq \dots \geq a_n.$$

Обозначим

$$d = \frac{1}{2}(a_1 - a_2 + a_3 - a_4 + \dots), \quad e = \frac{1}{2}a_0.$$

Ясно, что $e \geq d$. Фома режет кусок a_0 на части веса $e + d$ и $e - d$ и кладёт их на первую тарелку (при $e = d$ Фома просто кладёт туда целый кусок a_0), а все остальные куски — на вторую. Теперь при дележе любой из тарелок Фома, ходя первым, выигрывает не меньше $2d$, а ходя вторым, проигрывает не больше $2d$. Тем самым в сумме он не проигрывает.

193. Петя. Рассмотрим игру по тем же правилам для кучи с $2006! - 1$ камнем (назовём эту игру *меньшей*). Поскольку игра конечна и ничьих нет, у одного из игроков есть выигрыш. Возможны два случая.

1. В меньшей игре выигрывает второй. Тогда в исходной игре Петя первым ходом берёт один камень. Тем самым он сведёт ситуацию к меньшей игре, где ходит вторым, и поэтому выигрывает.

2. В меньшей игре выигрывает первый, взяв первым ходом x камней. Тогда по условию $x \leq \frac{2006! - 1}{2006} = 2005! - \frac{1}{2006}$. Поскольку

x — натуральное число, имеем $x + 1 \leq 2005! = \frac{2006!}{2006}$. Это значит, что в исходной игре Петя имеет право первым ходом взять $x + 1$ камень. Тогда он попадёт в ситуацию после выигрышного хода первого игрока в меньшей игре. Действуя далее, как этот игрок, он выиграет.

194. Вася. После хода Пети остаётся нечётное число кучек. Победить он может, если это число — делитель 720. Покажем, например, как Вася может помешать Пете победить «с пятью кучками» (по 144 спички).

После предыдущего хода Пети осталось 7 кучек. Если хотя бы две из них — по 144 спички, Вася добавляет спички именно в эти кучки (из кучки, где больше одной спички; такая есть, поскольку $144 + 144 + 5 \cdot 1 < 720$). Одну из этих кучек Петя сможет уничтожить, но при этом во второй число спичек не уменьшится, т. е. пяти равных кучек не получится.

Если кучек по 144 спички было не более одной, то Вася, очевидно, может сделать так, чтобы после его хода таких кучек не осталось вовсе. Следующим ходом Петя сможет создать не более двух таких кучек.

Аналогично Вася мешает Пете победить с любым нечётным делителем числа 720, большим 1.

Своим последним ходом Петя оставит три кучки. Ясно, что каждая из двух меньших кучек содержит менее 360 спичек. Тогда Вася дополнит каждую до 360 из большей кучки и выиграет.

195. Не сможет. Давайте в каждый момент делить столбцы на *тронутые* (те, клетки которых были задействованы в ходах) и *нетронутые*.

а) Ход Пети в нетронутый столбец уменьшает на 16 разность сумм в строках. Так как изначально разность равна 64, Петя может выиграть, сделав 4 хода в нетронутые столбцы. Первые два хода Петя делает в любые нетронутые столбцы. После второго хода Васи затронут всего не более шести столбцов. Разберём два случая.

1. Затронуты менее шести столбцов. Тогда есть три нетронутых. Петя ходит в средний из них, оставляя два несоседних нетронутых столбца. Ответным ходом Вася может затронуть не более одного из нетронутых, и ходом в оставшийся Петя выиграет.

2. Затронуты ровно шесть столбцов. Тогда каждым ходом Вася затрагивал пару нетронутых соседних столбцов. После его хода в одном столбце пары разность чисел равна 9, а в другом равна 7. Вме-

сто двух ходов в нетронутые столбцы Пете достаточно сделать ходы в два тронутых Васей столбца с разными разностями. Для этого он выбирает из них пару *не соседних столбцов с одинаковой разностью* (такая пара найдётся) и делает ход в столбец, не входящий в эту пару. Ответным ходом Вася сможет затронуть не более одного столбца пары, и ходом в оставшийся столбец Петя выиграет.

б) Ход Пети в нетронутый столбец уменьшает на 20 разность сумм в строках. Так как изначально разность строк равна 100, Петя может выиграть, сделав 5 ходов в нетронутые столбцы. Пусть первые три хода Петя делает в нетронутые столбцы, при этом первый ход — в 4-й столбец, а второй — в столбец правее 5-го. После этого уже не найдётся пяти столбцов подряд, тронутых только Васей. Вася каждым ходом затрагивает пару соседних столбцов. При этом он может затронуть и тронутые Петей столбцы или затронуть некоторые столбцы более одного раза. В любом случае после третьего хода Васи будет затронуто всего не более девяти столбцов. Рассмотрим три случая.

1. Затронуто менее восьми столбцов. Тогда есть три нетронутых. Петя ходит в средний из них, оставляя два несоседних нетронутых столбца. Ответным ходом Вася может затронуть не более одного из нетронутых столбцов, и ходом в оставшийся Петя выиграет.

2. Найдутся две затронутые Васей пары, где каждый столбец затронут ровно по разу. Тогда в одном столбце каждой пары разность чисел равна 9, а в другом — 11. Вместо двух ходов в нетронутые столбцы Пете достаточно сделать ходы в два столбца этой четвёрки с разными разностями. Для этого он выбирает из них двойку *несоседних* столбцов с одинаковой разностью (такая двойка найдётся) и делает ход в столбец четвёрки, не входящий в эту двойку. Ответным ходом Вася сможет затронуть не более одного столбца двойки, и ходом в оставшийся столбец Петя выиграет.

3. Затронуто не менее восьми столбцов, и четвёрки столбцов (как в случае 2) среди них нет. Тогда Вася затронул ровно 5 столбцов, из них две пары с общим столбцом (тройка) и отдельная пара. Из того, как Петя делал первые два хода, следует, что тройка должна быть отделена от пары столбцом, тронутым Петей. Отметим 3 столбца: столбцы пары (с разностями 9 и 11) и столбец в тройке с разностью 9 или 11 (такой есть: это тот крайний столбец тройки, который Вася тронул первым). Пусть Петя сделает четвёртый ход в тот отмеченный столбец, разность которого встречается толь-

ко раз. Оставшиеся отмеченные столбцы несоседние, поэтому Вася сможет своим четвёртым ходом тронуть не более одного из них. Сделав пятый ход в последний оставшийся столбец, Петя выигрывает.

196. Пусть k — наименьшее число знакомых у человека, а m — наибольшее, и оно достигается у человека M . По условию у каждого двух знакомых M разное число знакомых. Так как минимальное число у них не меньше k , максимальное не меньше $k + m - 1$. Однако оно не больше m . Из неравенства $m \geq k + m - 1$ следует, что $k \leq 1$.

197. Перераспределение можно осуществить так: из каждой группы часть людей уходит в другую. По условию перейти должно не менее двух депутатов. Но двое или более из одной группы уйти не могут: они образуют пары не того типа. Значит, перешли ровно двое: А перешёл в рабочую группу, Б — в дискуссионную. Если пара (А, Б) дискуссионная, то при переходе только Б группы остались бы однотипными. А если, наоборот, пара (А, Б) рабочая, то при переходе только А группы остались бы однотипными. И то и другое противоречит условию, значит, второго разбиения нет.

198. 50. Будем для краткости называть авиалинии *линиями*, некоторые ключевые аэропорты — *узлами*, а все остальные аэропорты — *точками*.

Пример. Разобьём аэропорты на три группы А, В, С по пять аэропортов. Свяжем каждый аэропорт из А линией со своим аэропортом из В. Теперь объединим группы В и С и свяжем линией каждую пару из объединённой группы. Итого будет $5 + 10 \cdot 9 : 2 = 50$ линий. Очевидно, что каждый аэропорт из В ключевой.

Оценка. Будем доказывать индукцией по k , что в сети с 10 точками и k узлами не более $45 + k$ линий. База для $k = 0$ очевидна, поскольку линий не больше, чем пар аэропортов, т. е. не больше 45.

Шаг индукции. Пусть для меньших k неравенство доказано. Возьмём произвольную сеть с k узлами. Рассмотрим граф, вершинами которого служат линии и линии связаны ребром, если выходят из одного аэропорта. Ясно, что этот граф связан, но распадается на несколько компонент связности при выкидывании любого узла. *Группой* данной линии назовём пересечение всех компонент связности, в которые линия входит при всевозможных выкидываниях одного узла. Все линии разбиваются на группы, группы отделяются узлами. Аэропортами группы назовём концы всех её линий. Узел всегда относится к нескольким группам, а точка — только к одной.

Аэропорты одной группы тоже остаются связанными между собой при выкидывании любого узла.

Если какие-то два аэропорта одной группы не соединены прямой линией, то добавим её. Линий станет больше, но связей между разными группами не добавится, поэтому узлы не перестанут разделять группы.

Одну группу Γ с наибольшим числом аэропортов объявим *главной*. Докажем, что есть неглавная группа ровно с одним узлом. Стартуем из главной группы и будем каждый раз переходить через узел в *другую* группу, придерживаясь двух условий: 1) не идти через один узел два раза подряд; 2) если можно — идти в ту группу, где уже были. Допустим, мы в какую-то группу пришли повторно. Тогда образовался цикл из групп и узлов. Узлы на нём не повторяются, иначе замкнуть цикл можно было бы раньше. Но тогда при выкидывании любого узла на этом маршруте связность сохраняется. Это значит, что весь маршрут лежит в одной группе — противоречие. Поэтому повторов групп нет, и маршрут закончится в какой-то группе H из-за невозможности перехода. Ясно, что в H лишь один узел U и $H \neq \Gamma$.

Если в H больше одной точки, будем по одной перекидывать их в группу Γ . Для этого отменим все выходящие из точки линии и соединим эту точку со всеми аэропортами группы Γ . Число линий, очевидно, возрастёт, связи добавятся только внутри Γ , а группа H не опустеет, поэтому все узлы не перестанут отделять группы. Пусть в H осталась единственная точка T , тогда единственная линия в H связывает T с U . Выкинем совсем T и эту линию, а узел U назовём точкой. Мы получили меньший пример с $10 + (k - 1)$ аэропортами и $k - 1$ узлом. По предположению индукции в нём не более $45 + (k - 1)$ линий, значит, до выкидывания T было не более $45 + k$ линий. Так как до этого, преобразуя пример, мы число линий только повышали, в исходном примере тоже не более $45 + k$ линий.

Для знатоков. Фактически мы получили оценку, доказав стандартный факт из теории графов: *граф блоков-точек сочленения является деревом*.

199. 2011 авиалиний. Поскольку соответствующий граф связан, меньше 2011 авиалиний быть не может. Покажем, как можно обойтись 2011 авиалиниями.

Возьмём город A , назовём его *центральным*. Соединим его авиалиниями с 10 городами *первого уровня*. Каждый город первого уров-

ня соединим со своей десяткой городов *второго уровня* (всего на этом уровне 100 городов). Каждый город второго уровня соединим со своей десяткой городов *третьего уровня* (на котором 1000 городов). Итого у нас охвачено 1111 городов, причём из каждого из них можно попасть в A не более чем с 2 пересадками. Поэтому из каждого в любой другой можно попасть не более чем с 5 пересадками. При этом из городов первого и второго уровня выходит по 11 авиалиний, из A — 10, а из городов третьего уровня — по одной.

Добавим ещё 1111 городов с центральным городом B и аналогичной схемой авиалиний и соединим A с B . Теперь из всех вершин выходит не более 11 авиалиний и из каждого города в каждый можно долететь не более чем с 6 пересадками. Очевидно, получено дерево, поэтому авиалиний в нём 2221. Осталось уничтожить лишние 210 городов третьего уровня вместе с выходящими из них авиалиниями.

200. Петя. Пусть всего в дереве N вершин и в первой игре Петя начал с вершины O . Дерево без O распадается на столько компонент связности, сколько рёбер выходит из O . Теперь Вася может красить вершины только одной компоненты, а Петя окрасит все остальные компоненты. Покрасив первым ходом конец выходящего из O ребра, Вася обеспечит себе окраску *всех* вершин выбранной им компоненты. Значит, чтобы Вася выиграл, для любой начальной точки O в одной из компонент должно быть не менее $\frac{N}{2}$ вершин. Назовём размер такой компоненты *выигрышем* Васи. Петя может выбрать O так, чтобы выигрыш был не больше $\frac{N}{2}$. Действительно, если при некотором выборе O выигрыш больше $\frac{N}{2}$, сдвинув O на одно ребро, ведущее в эту компоненту, мы уменьшим число вершин в ней на 1. А так как по другую сторону O меньше $\frac{N}{2}$ вершин, там в каждой компоненте их меньше $\frac{N}{2}$. Значит, уменьшилась именно максимальная компонента, т. е. выигрыш. Так, двигая O , снизим выигрыш ровно до $\frac{N}{2}$ (меньше не будет, иначе Вася проиграет). В частности, это означает, что $m = \frac{N}{2}$ — целое число.

Итак, пусть Петя сделал ход в точку O , дающий Васе выигрыш ровно m , а Вася ответил ходом в точку A . Тогда и Петя, и Вася закрасят по дереву с одинаковым числом вершин m . Число рёбер в этих деревьях тоже одинаково: $m - 1$.

Тогда, закрасив в начале второй игры ребро OA , Петя оставит два дерева с одинаковым числом рёбер. В результате он закрасит не менее t рёбер при любом выборе Васи, а Вася — не более $t - 1$, поэтому Петя выигрывает.

201. Можно. Пример см. на рис. 44 (четыре прямоугольника со сторонами 0,75 и 0,25 и квадрат со стороной 0,5).

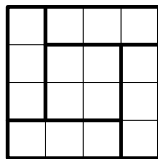


Рис. 44

202. Могут. а) Например, можно разрезать квадрат 6×6 на 6 квадратов 2×2 и 12 квадратов 1×1 (можно сначала разрезать на 9 квадратов 2×2 , а потом три из них — на единичные квадратики). Длина диагонали квадрата 2×2 вдвое больше, но этих квадратов вдвое меньше, чем единичных, поэтому суммарные длины диагоналей равны.

б) Приставив к одной доминошке 2×4 три доминошки 2×1 , получим прямоугольник 2×7 . Квадрат 14×14 нетрудно разрезать на 14 таких прямоугольников. Длина диагонали маленькой доминошки в два раза меньше, но их в три раза больше.

203. Раскрасим 9 частей торта в три цвета, как показано на рис. 45. Вес одной из цветных «областей» не меньше $900 : 3 = 300$ г, а она состоит из частей, не имеющих общих сторон.

204. 21 часть. ПРИМЕР — на рис. 46.




Рис. 45




Рис. 46

Оценка. Если частей 22 или больше, то найдётся двух- или одноклеточная часть ($64 : 22 < 3$), а тогда все ей равны.

205. Два разных примера см. на рис. 47 и 48. На рис. 47 треугольники равносторонние, на рис. 48 — прямоугольные равнобедренные.



Рис. 47

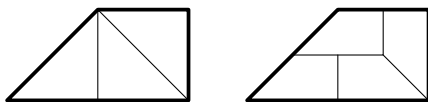


Рис. 48

206. $18 \cdot 17 = 306$. Будем использовать термины «строки» и «столбцы» для получившихся рядов участков. Если участок завидный, то соседний с ним в строке — незавидный (по условию). Значит, соседний столбец уже исходного, и все участки в нём незавидные: они меньше соседей из исходного столбца. Итак, из двух соседних столбцов хотя бы один *пустой* (в нём нет завидных участков). Поэтому если число столбцов чётно, то непустых среди них не более половины, а если нечётно (равно $2k - 1$), то непустых не более k .

Общее число строк и столбцов равно 68. Пусть среди них m непустых столбцов и n непустых строк. Если число строк чётно, то столбцов — тоже, и тогда общее число непустых рядов не более половины, т. е. $m + n \leq 34$. Если же столбцов и строк нечётное число, то $m + n \leq 35$. Можно считать, что $m \leq n$, тогда $m = 17 - a$ (где $a \geq 0$), $n \leq 18 + a$. Число завидных участков равно

$$mn \leq (17 - a)(18 + a) = 17 \cdot 18 - a - a^2 \leq 17 \cdot 18 = 306.$$

Это значение достигается, если взять 33 столбца, 35 строк и сделать все нечётные ряды широкими.

207. Нет. Закрасим клетки a, b, c, d и проведём диагональную линию l (рис. 49). Клетки a и b симметричны относительно l , но по условию в b есть точка B , оставшаяся вне круга, а симметричная ей точка A из клетки a — в круге. Аналогично выберем точку D из клетки d вне круга и симметричную ей точку C из клетки c в круге. Теперь воспользуемся тем, что центр круга расположен ближе к точ-

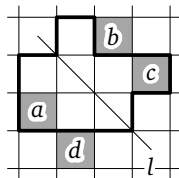


Рис. 49

ке круга, чем к любой точке, находящейся вне круга. Значит, этот центр должен располагаться по ту же сторону от l , что и точка B , а также по ту же сторону от l , что и точка A . Одновременное выполнение этих двух условий невозможно.

208. Всегда. Поместим многоугольник в минимальный прямоугольник (т. е. такой, чтобы многоугольник имел общие участки границы с каждой стороной прямоугольника). Ясно, что периметр многоугольника не меньше, чем периметр прямоугольника. Кроме того, периметр многоугольника чётен (при обходе многоугольника по периметру нам придётся сделать поровну ходов вправо и влево и поровну ходов вверх и вниз). Поэтому и разность периметров — число чётное. Отодвинув вверх верхнюю сторону прямоугольника на величину полуразности периметров, получим искомый прямоугольник.

209. Предположим противное. Будем считать, что бóльшая сторона доски горизонтальна, $A_1B_1C_1D_1$ и $A_2B_2C_2D_2$ — прямоугольники с вершинами в центрах отмеченных клеток, причём стороны A_1B_1 и A_2B_2 горизонтальны. Эти прямоугольники не могут быть квадратами, и стороны разных прямоугольников должны быть различны. Следовательно, длины их вертикальных сторон равны 1 и 2. Пусть для определённости $B_1C_1 = 1$, $B_2C_2 = 2$. Кроме того, среди отрезков, соединяющих вершины разных прямоугольников, не может быть равных какой-либо из их сторон. Также очевидно, что на одной из крайних горизонталей доски лежат стороны обоих прямоугольников. Будем считать, что это верхняя горизонталь и ей принадлежат вершины A_1 , B_1 , A_2 и B_2 . Эти точки образуют три отрезка, на которых нет других вершин.

а) Длины данных отрезков должны быть не меньше 3, а так как сумма их длин не превосходит 9, все они равны 3. Противоречие.

б) Длины данных отрезков должны быть не меньше 3, а так как сумма их длин не превосходит 11, среди них найдутся два равных. Возможны четыре принципиально различных расположения прямоугольников относительно друг друга.

1. См. рис. 50. Здесь из равных отрезков на верхней горизонтали хотя бы один является стороной прямоугольника.

2. См. рис. 51. В данном случае если $A_1A_2 = A_2B_1$, то $A_2D_1 = D_2D_1 = A_2C_1 = D_2C_1$; если $A_2B_1 = B_1B_2$, то $A_2C_1 = D_2C_1 = B_2C_1 = C_2C_1$, а если $A_1A_2 = B_1B_2$, то $A_1B_1 = A_2B_2$.

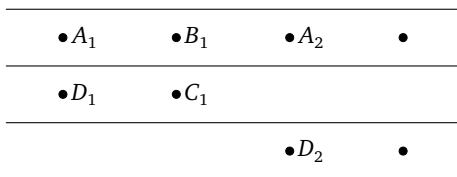


Рис. 50

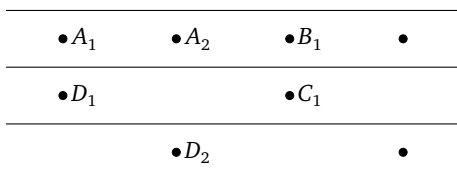


Рис. 51

3. См. рис. 52. Отрезок A_2B_2 является стороной прямоугольника, поэтому не может быть равен остальным отрезкам, находящимся на верхней горизонтали. Значит, $A_1A_2 = B_2B_1$ и $A_2D_1 = D_2D_1 = B_2C_1 = C_2C_1$.




Рис. 52

4. См. рис. 53. Этот случай рассматривается аналогично предыдущему.

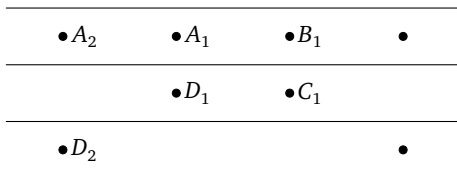


Рис. 53

Таким образом, во всех случаях мы пришли к противоречию.

210. Можно. Разрежем квадрат на 11 квадратов (рис. 54), а затем один из получившихся наименьших квадратов ещё раз на 11 (в каждом случае мы уменьшаем сторону в 11 раз).

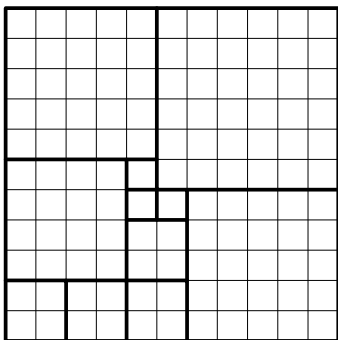


Рис. 54




Рис. 55

Теперь разделим наименьший квадрат на 10 квадратов (см. рис. 55), при этом сторона уменьшилась в 9 раз.

Итого получилось $11 + 10 + 9 = 30$ квадратов, причём сторона наименьшего равна $\frac{1}{11^2} \cdot \frac{1}{9} = \frac{1}{1089}$ м, что меньше 1 мм.

Замечание. Можно получить ещё меньший результат

$$\frac{1}{13^2} \cdot \frac{1}{9} = \frac{1}{1521},$$

используя другое разбиение на 11 квадратов (см. рис. 56).

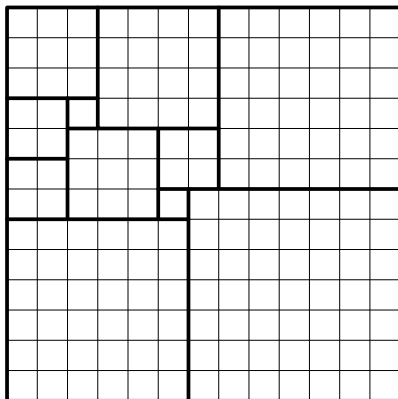


Рис. 56

211. Для равнобедренного треугольника утверждение очевидно: он сходен равнобедренному прямоугольному треугольнику. Пусть стороны данного треугольника $a < b < c$. Разобьём для начала квадрат со стороной c диагональю на две половинки. Поскольку $c^2 < a^2 + b^2$, имеем $c^2 < 2b^2$, значит, b больше половины диагонали квадрата. Проведя из двух вершин квадрата по отрезку длины b к диагонали, разобьём каждую из половинок на два треугольника, сходных с данным.

212. Необязательно. Впишем в квадрат меньший квадрат так, чтобы стороны отсечённых прямоугольных треугольников были соизмеримы. Тогда катеты и гипотенуза некоторого достаточно маленького треугольника, подобного отсечённым, укладываются целое число раз в стороне меньшего квадрата. Именно на такие треугольники и будем резать. Для определённости пусть большой квадрат имеет размер 84×84 , меньший — со стороной 60, отсекаются треугольники с катетами 36 и 48, режем на треугольники с катетами 3 и 4.

Проведём в меньшем квадрате сетку разрезов параллельно сторонам, а в угловых треугольниках — параллельно катетам так, чтобы вся фигура разбилась на прямоугольники 3×4 и прямоугольные треугольники с катетами 3 и 4. Разобьём прямоугольник в углу большого квадрата диагональю, не параллельной стороне меньшего квадрата, а остальные прямоугольники разобьём диагоналями произвольно. Тогда ясно, что два окрашенных прямоугольника в углах большого и меньшего квадратов (см. рис. 57) не имеют параллельных сторон.

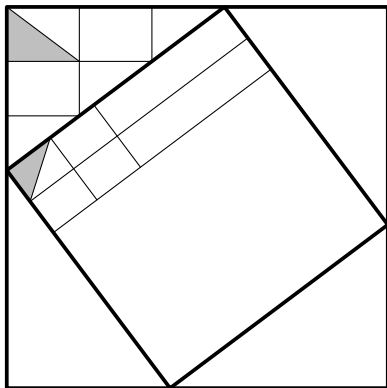


Рис. 57

213. Для любых. На рисунке приведён пример для $N = 3$. Треугольник AB_0C разбит на треугольники AB_0B_1 , AB_1B_2 и AB_2C так, что $B_0B_1 : B_1B_2 : B_2C = 1 : 2 : 4$.

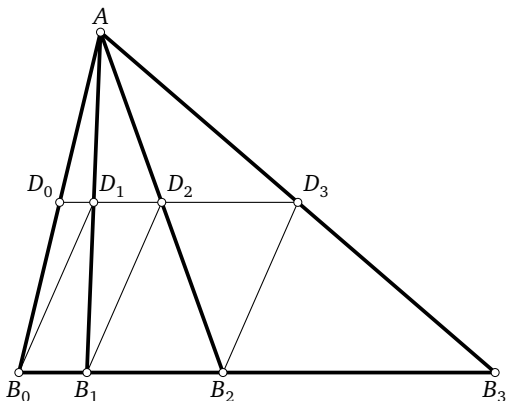


Рис. 58

Точки D_0 и D_1 лежат на пересечении средней линии DD_2 с отрезками AB_1 и AB_2 , поэтому B_0D_0 , B_1D_1 и B_2D_2 — медианы треугольников разбиения. Средняя линия параллельна основанию и вдвое меньше его. Значит, она разбивается в том же отношении $1 : 2 : 4$, $D_0D_1 = B_0B_1$ и $D_1D_2 = B_1B_2$. Следовательно, $B_0D_0D_1B_1$ и $B_1D_1D_2B_2$ — параллелограммы, и потому все медианы параллельны и равны.

В общем случае точки B_1, B_2, \dots, B_{N-1} делят сторону B_0C в отношении $1 : 2 : 2^2 : \dots : 2^{N-1}$, остальные рассуждения аналогичны.

214. ПЕРВОЕ РЕШЕНИЕ. Возьмём две разноцветные точки A (белая) и B (чёрная). Пусть C — третья вершина правильного треугольника ABC . Можно считать, что она белая. На стороне AB возьмём такую точку D , что $\angle DCA = 48^\circ$. На продолжении CD за точку D возьмём такую точку E , что $\angle EAC = 72^\circ$ (см. рис. 59). Если хотя бы одна из точек E и D белая, то имеем белый треугольник (EAC или DAC) с нужными углами. Если обе точки чёрные, то имеем чёрный треугольник DEB (так как $\angle EAB = \angle ECB = 12^\circ$, точки A, E, B и C лежат на одной окружности, и поэтому $\angle EBA = \angle ECA = 48^\circ$).

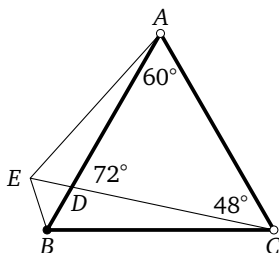


Рис. 59

ВТОРОЕ РЕШЕНИЕ. Докажем, что найдётся отрезок с концами и серединой одинакового цвета. Пусть точки Q и S одного цвета (скажем, белые). Отметим середину R отрезка QS и ещё такие точки P и T на прямой QS , что $PQ = QS = ST$ (при этом R автоматически середина PT). Если тройка P, R и T не одноцветная, то белая точка из неё вместе с Q и S образует нужную тройку.

Теперь возьмём такой отрезок AB с серединой K (все точки, скажем, белые). Рассмотрим треугольник ABC с указанными в условии углами. Пусть L и M — середины его сторон AC и BC (см. рис. 60). Средние линии разбивают ABC на четыре подобных треугольника. Если треугольники ABC, AKL, KBM все неоднородные, то точки C, L и M чёрные, и треугольник CLM искомый.

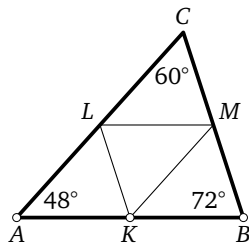


Рис. 60

Замечание 1. Второе решение годится для треугольника с произвольными углами.

Замечание 2 (для знатоков). Задача является частным случаем обобщённой теоремы ван дер Вардена.

215. Рассмотрим выпуклую оболочку этих точек. Легко видеть, что в полученном многоугольнике нет тупых углов (иначе ортоцентр соответствующего тупоугольного треугольника оказался бы вне выпуклой оболочки). Но в многоугольнике, где сторона не меньше пяти, тупой угол точно есть. Значит, оболочка — это остроугольный треугольник, прямоугольный треугольник или прямоугольник.

Пусть оболочка — треугольник ABC . Если внутри него есть точка M нашего множества, отличная от ортоцентра треугольника ABC , то она не лежит на одной из высот (пусть на AH). Значит, M лежит внутри одного из треугольников AHB или AHC (пусть в AHB , см. рис. 61). Тогда $\angle BAM + \angle ABC < \angle BAN + \angle ABC = 90^\circ$. Значит, вся прямая BK , проведённая через точку B перпендикулярно AM , лежит вне треугольника ABC . В частности, вне M лежит и ортоцентр треугольника AMB . Противоречие.

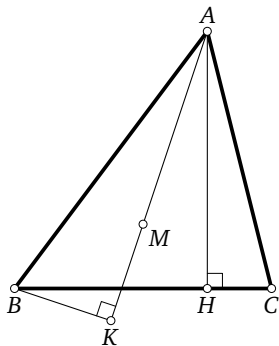


Рис. 61

В случае прямоугольника $AHBD$ пусть точка M нашего множества лежит внутри него, скажем, внутри треугольника AHB . Дословно повторяя предыдущее рассуждение, придём к противоречию.

216. В обоих случаях периметр банкетного стола одинаков. Более того, он не зависит от соотношения между высотой и шириной буквы.

Пусть есть n столов 1×1 . «Отклеив» от «Г» ножку и приклеив её к верхней перекладине, мы получим прямоугольник $1 \times n$ с тем же периметром. Действительно, при отклеивании мы увеличиваем периметр на 2, а при приклеивании теряем столько же. Аналогичным переклеиванием ножек можно получить из буквы «П» такой же прямоугольник.

217. Мог. Например, рассмотрим четырёхугольник $ABCD$ (см. рис. 62). Петя мог перегнуть его по прямой KC и получить квадрат $AKCD$, а Вася мог перегнуть по прямой AC и получить остроугольный треугольник ACB .

218. а) при $R = 1,5$ м. ПРИМЕР. На трёх выходящих из вершины A рёбрах посадим пауков в точки на расстоянии 75 см от A .

Оценка. Сосчитаем число пауков на каждой грани и сложим эти числа. Каждый паук сосчитан хотя бы дважды, поэтому сумма не меньше 6. Значит, есть слагаемое не меньше 2, т. е. на рёбрах какой-то грани сидят как минимум два паука. Две точки делят периметр этой грани на два куса, при этом длина одного из них не больше половины периметра, т. е. 1,5 м.

б) Назовём отрезок паутины (сторону шестиугольника или половину диагонали) занятым, если на нём есть паук. Все отрезки имеют длину 1. Если какой-то отрезок занят более чем одним пауком, то утверждение задачи очевидно. Пусть это не так, тогда заняты 7 отрезков. Поскольку на графе с 7 вершинами и 7 рёбрами всегда есть цикл (даже если граф несвязен), имеем замкнутую ломаную длины k , в которой все отрезки заняты, т. е. на которой сидят k пауков. Тогда расстояние между какими-то двумя из них не больше 1.

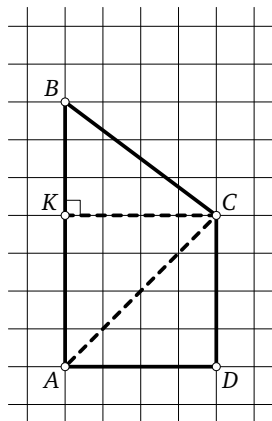


Рис. 62

219. а) 12. ПРИМЕР 12-угольника см. на рис. 63.

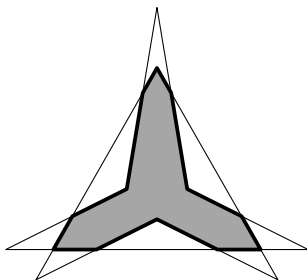


Рис. 63

Оценку см. в пункте б).

б) Пусть в пересечении m -угольника M и n -угольника N получился p -угольник P и, возможно, ещё несколько частей. На контуре P чередуются участки-ломанные с контуров M и N (M -участки и N -участки). Каждая сторона многоугольника P является стороной или частью стороны многоугольников M или N . Если одна сторона исходных многоугольников расщепляется на несколько сторон многоугольника P , то число таких сторон сверх одной назовём *избытком*. Суммарный избыток обозначим u . Ясно, что $p \leq m + n + u$. Нам достаточно доказать, что $u \leq m + n - 6$. Пусть, скажем, в M расщепилась сторона a , дав k избыточных сторон. Тогда полученные таким образом стороны многоугольника P на контуре M перемежаются k «внешними» (т. е. лежащими вне P) отрезками a . Концы внешнего отрезка соединены N -участком. (Почему? См. «Для придир».) Самая дальняя от прямой a вершина участка будет, очевидно, такой вершиной многоугольника N , в которой внутренний угол *сверхтупой* (т. е. больше 180°). Значит, суммарный избыток не превосходит общего числа свертупых углов u исходных многоугольников. Но таких углов в q -угольнике не более $q - 3$, иначе их сумма больше чем $180^\circ(q - 2)$. Значит, $u \leq (n - 3) + (m - 3)$.

Для придир. Поясним, почему концы внешнего отрезка соединены одним N -участком (а не цепочкой из нескольких M - и N -участков). Пусть AB — «внешний» отрезок, а CA — отрезок стороны многоугольника M , ограничивающий P . Пройдём от точки A по ограничивающему P контуру N до первой точки D его пересечения с контуром M . Допустим, D не совпадает с B . Тогда D не может лежать на

отрезке AB , так как в этом случае внешним отрезком будет не AB , а AD . Значит, ломаная AD разделяет M на две части, причём C и B находятся в разных частях. Но тогда C и B не могут принадлежать одному многоугольнику P . Противоречие.

220. а) 631. Будем проводить отрезки по одному. Число добавленных частей равно числу частей, на которые разбивается отрезок точками пересечения. Значит, чем больше точек пересечения, тем больше частей. Максимум частей будет, когда каждый отрезок пересекает каждый из отрезков, проведённый из других вершин, причём в своей точке. Для этого достаточно проводить отрезки не через имеющиеся точки пересечения. Для 14 отрезков из первой вершины каждый добавит по одной части. Для 14 отрезков из второй вершины на каждом будет по 14 точек пересечения, значит, каждый добавит по 15 частей. Для 14 отрезков из третьей вершины на каждом будет по 28 точек пересечения, значит, каждый добавит по 29 частей. Итого $1 + 14 + 14 \cdot 15 + 14 \cdot 29 = 631$.

б) 625. Здесь надо посчитать, в скольких точках пересекаются по три отрезка. Пусть три точки на сторонах делят стороны в отношении $a : a'$, $b : b'$, $c : c'$, где $a + a' = b + b' = c + c' = 15$. По теореме Чевы надо найти, сколько из этих наборов удовлетворяют уравнению $\frac{a}{a'} \cdot \frac{b}{b'} \cdot \frac{c}{c'} = 1$. Можно считать, что две из этих дробей (скажем, $\frac{a}{a'}$ и $\frac{b}{b'}$) меньше 1, а третья — больше 1, тогда $\frac{a}{a'} \cdot \frac{b}{b'} = \frac{c'}{c}$. Выпишем все возможные дроби, меньшие 1: $\frac{1}{14}, \frac{2}{13}, \frac{3}{12} = \frac{1}{4}, \frac{4}{11}, \frac{5}{10} = \frac{1}{2}, \frac{6}{9} = \frac{2}{3}, \frac{7}{8}$. Дроби $\frac{2}{13}, \frac{4}{11}$ и $\frac{2}{3}$ не подходят, так как простым делителям 13, 11 и 3 не с чем сократиться. Простой делитель 7 есть только в дробях $\frac{1}{14}$ и $\frac{7}{8}$; чтобы он сократился, их надо перемножить: $\frac{1}{14} \cdot \frac{7}{8} = \frac{1}{16}$, но $\frac{1}{16}$ в списке нет. Остаются $\frac{1}{2}$ и $\frac{1}{4}$, что даёт $\frac{1}{2} \cdot \frac{1}{2} = \frac{1}{4}$. Это даёт 6 точек: любое из трёх отношений может быть равно 1 : 4 или 4 : 1, после чего остальные два определяются однозначно. Соответственно, на третьем этапе мы потеряем 6 частей за счёт совпадения пересечений, итого $631 - 6 = 625$ частей.

221. Одно пересечение. Оценка. Нарисованных отрезков в совокупности $2(n - 1)$. Если они не пересекаются внутри n -угольника, то их можно дополнить до триангуляции n -угольника. Но такая триангуляция содержит $2n - 3 < 2(n - 1)$ отрезков — противоречие.

ПРИМЕР, когда пересечение ровно одно. Пусть A_1, A_2, \dots, A_n — последовательные вершины n -угольника. Нарисуем жирными отрезки $A_1A_2, A_1A_3, A_3A_4, \dots, A_{n-1}A_n$. Нарисуем тонкими A_2A_3, A_2A_4 и отрезки, соединяющие A_1 с A_4, \dots, A_n . Условия задачи выполнены. Пересекаются A_1A_3 и A_2A_4 . На рис. 64 изображена указанная раскраска для $n = 7$.

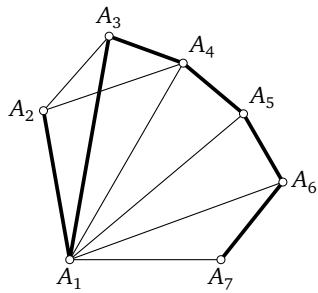


Рис. 64

222. Рассмотрим треугольник ABC , в котором $BC = a \leq AC = b \leq AB = c$. Отложим на AB отрезок $AK = b$ и проведём биссектрису AL . Четырёхугольник $AKLC$ симметричен. Пусть $S_{BKL} = 4 \cdot \frac{c-b}{c+b} \geq 1$, тогда $3c \geq 5b$. Если площадь четырёхугольника с осью симметрии, совпадающей с биссектрисой CM , тоже не больше 3, то аналогично $3b \geq 5a$. Но тогда $9c \geq 15b = 9b + 6b \geq 9b + 10a > 9(b+a)$, что противоречит неравенству треугольника.

223. Тупоугольный. Диагонали AC и BD данного четырёхугольника $ABCD$ не перпендикулярны (иначе все четыре треугольника были бы прямоугольными). Пусть O — точка пересечения диагоналей. Без ограничения общности можно считать, что треугольник AOB прямоугольный ($\angle ABO = 90^\circ$). Следовательно, угол AOB острый, тогда углы COB и AOD тупые и треугольники COB и AOD тупоугольные.

Замечание. Очевидно, что треугольник COD может быть остроугольным, т. е. задача поставлена корректно.

224. 45° . Разберём три случая.

1. Все четыре угла между диагоналями равны α . Тогда все они прямые. Других прямых углов в треугольниках нет, т. е. углов α всего 4. Противоречие.

2. Два вертикальных угла между диагоналями равны α (а два другие — нет). Такой угол является внешним для двух треугольников, следовательно, в этих двух треугольниках нет углов, равных α ; в остальных двух треугольниках углов α не больше 6. Противоречие.

3. Все 7 углов расположены в вершинах четырёхугольника. Тогда в трёх треугольниках углов α по два, значит, в них равны и третьи углы, на пересечении диагоналей. Среди этих треугольников есть

два смежных. Значит, все углы между диагоналями равны. Тогда они прямые, а $\alpha = 45^\circ$. (Ясно, что тогда наш четырёхугольник — квадрат.)

225. Пусть углы первого треугольника равны α, β, γ , причём $\alpha + \beta$ и $\alpha + \gamma$ равны углам второго треугольника. Сумма этих двух величин равна

$$2\alpha + \beta + \gamma > \alpha + \beta + \gamma = \pi,$$

тогда как сумма любых двух углов второго треугольника меньше π . Значит, $\alpha + \beta$ и $\alpha + \gamma$ равны одному и тому же углу второго треугольника, откуда $\beta = \gamma$, т. е. первый треугольник равнобедренный.

226. На продолжении луча AB возьмём точку E , для которой $EC \parallel BD$ (см. рис. 65). Тогда треугольник AEC равнобедренный, $AE = AC$, откуда $BE = CD$. Заметим также, что прямая BD содержит среднюю линию треугольника EFC , откуда $BF = BE$, т. е. $BF = CD$.

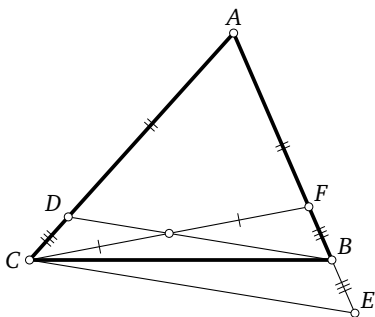


Рис. 65

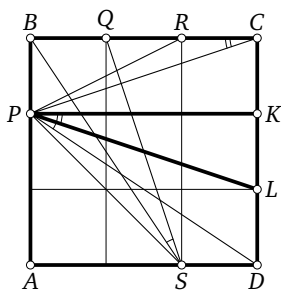


Рис. 66

227. 45° . Удобно изобразить квадрат как клетчатый размера 3×3 . В треугольнике RCP имеем $\angle BRP - \angle RPC = \angle BCP$. Поставим на стороне CD точки K и L так, что $CK = KL = LD$ (см. рис. 66). Очевидно равенство треугольников BSP и KPL , поэтому $\angle BCP = \angle KPL$. Аналогично ввиду равенства треугольников BSQ и DPL имеем $\angle BSQ = \angle DPL$. Поэтому искомая сумма равна

$$\begin{aligned} \angle SPD + \angle BSQ + (\angle BRP - \angle RPC) &= \\ &= \angle SPD + \angle DPL + \angle KPL = \angle KPS = 45^\circ. \end{aligned}$$

228. $OK = 1$. Построим на продолжении стороны AD за точку D точку E так, что $KD = DE$. Тогда треугольники CDK и CDE равны, по-

этому $CK = CE$ (см. рис. 67). В треугольнике ACE отрезок OK — средняя линия, поэтому $OK = \frac{1}{2}CE = \frac{1}{2}CK$. Покажем, что угол KOC прямой. Для этого опустим из K на AC перпендикуляр KO_1 . По свойству прямоугольного треугольника с углом 30° имеем $KO_1 = \frac{1}{2}CK = KO$. Отсюда O и O_1 совпадают. Теперь заметим, что в треугольнике AKC высота совпадает с медианой, поэтому $CK = AK = 2$, а $OK = 1$.

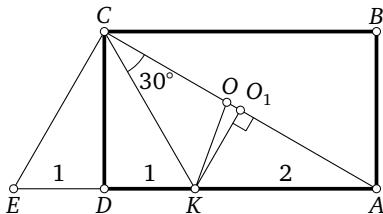


Рис. 67

229. В 4 раза. Продолжим AE и CF до пересечения в точке G . В треугольнике AGC все углы равны по 60° , поэтому он равносторонний, $BEGF$ — параллелограмм и $BG = 2BM$. Отсюда

$$GF = GC - FC = AC - BC = AB.$$

Из равенства треугольников EAC , FGA , BAG по двум сторонам и углу 60° следует, что $AF = CE = BG$. Поэтому

$$CE + AF = 2BG = 4BM.$$

230. 45° . Ясно, что Q попадёт в узел сетки (см. рис. 68). На продолжении стороны BC отложим отрезок $CF = BE$. Тогда треугольники ABE и DCF равны, поэтому $\angle AEB = \angle DFC$ и $AE \parallel DF$. Значит, угол между AE и DQ равен углу между DF и DQ . Закрашенные прямоугольные треугольники равны, поэтому их углы при вершине Q в сумме дают 90° и $DQ = QF$. Значит, DQF — равнобедренный прямоугольный треугольник, и $\angle QDF = 45^\circ$.

Замечание. Восьмиклассники могут доказать, что $AE \parallel DF$, заметив, что $AEFD$ является параллелограммом.

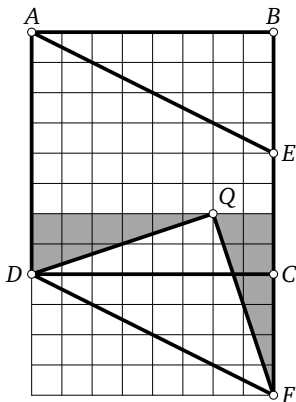


Рис. 68

231. AD . Углы D и A лежат при основаниях равнобедренных треугольников, поэтому они острые и их сумма меньше 180° . А сумма углов при боковых сторонах трапеции равна 180° , поэтому AD не боковая сторона, т. е. $AD \parallel BC$. Тогда AB — боковая сторона, поэтому $\angle A + \angle B = 180^\circ$ и, значит, угол B тупой. Следовательно, AC — наибольшая сторона в треугольнике ABC , откуда $BC < AC = AD$.

232. Пусть угол A пятиугольника $ABCDE$ наибольший. Сравним равнобедренные треугольники BAE и CDE . Боковые стороны у них равны, а угол при вершине больше в первом треугольнике. Поэтому угол при основании в этом треугольнике меньше: $\angle ABE < \angle ECD$. Очевидно, что при уменьшении угла между боковыми сторонами равнобедренного треугольника его основание тоже уменьшается, поэтому $BE > CE$.

Так как против большей стороны лежит больший угол, в треугольнике BCE имеем $\angle BCE > \angle CBE$. Но тогда и

$$\angle ABC = \angle ABE + \angle CBE < \angle ECD + \angle BCE = \angle BCD.$$

Таким образом, угол BCD не наименьший. Аналогично угол CDE не наименьший.

233. Соединим точку пересечения K биссектрис треугольника ABT с его вершинами (см. рис. 69). В результате угол CAB разбился на три равных. Поскольку

$$\angle ATB = 180^\circ - \frac{2}{3}(\angle CAB + \angle CBA) = 180^\circ - \frac{2}{3} \cdot 90^\circ = 120^\circ,$$

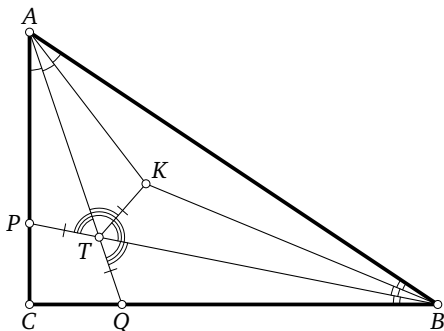


Рис. 69

получаем, что $\angle ATP = 60^\circ$ и $\angle ATK = \frac{1}{2}\angle ATB = 60^\circ$. Значит, треугольники ATP и ATK равны по стороне и двум углам, а тогда $TP = TK$. Аналогично $TQ = TK$.

234. В силу равенства $AA_1 = AA_2$ серединный перпендикуляр к отрезку A_1A_2 совпадает с биссектрисой угла A треугольника ABC . В силу равенства $CA_2 = AC + BC = CB_2$ серединный перпендикуляр к отрезку A_2B_2 совпадает с биссектрисой угла C . Аналогично все серединные перпендикуляры к сторонам шестиугольника $A_1A_2B_2B_1C_1C_2$ проходят через точку I пересечения биссектрис треугольника ABC . Значит, эта точка равноудалена от всех вершин указанного шестиугольника, т. е. является центром его описанной окружности.

235. ПЕРВОЕ РЕШЕНИЕ. Докажем, что искомая точка O — вершина равностороннего треугольника AOB , построенного *внутри* шестиугольника, т. е. что треугольники EOF и COD равносторонние (см. рис. 70).

Повернём треугольник ABC на 60° вокруг точки A так, что сторона AC перейдёт в AE . Тогда сторона AB перейдёт в AO , т. е. треугольник ABC наложится на треугольник AOE . Значит, эти треугольники равны. Поэтому $OE = BC = EF$ и $\angle OEA = \angle BCA$. Треугольники ABD и DEA равны по двум сторонам и углу между ними: AD общая, $AB = DE$, $\angle BAD = \angle ADE$ как внутренние накрест лежащие при параллельных прямых AB и DE . Поэтому $\angle ADB = \angle DAE$ и $AE \parallel BD$. Тогда $\angle CBD = \angle AEF$ как углы с параллельными сторонами. Пусть

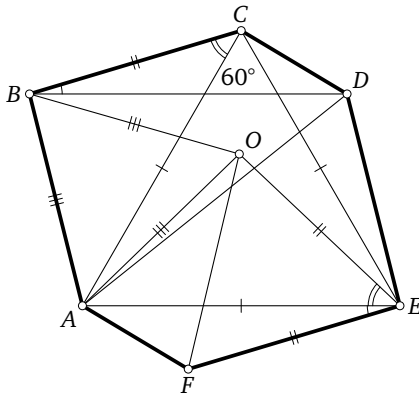


Рис. 70

AC пересекает BD в точке M . Тогда $\angle CMD = \angle CAE = 60^\circ$. Теперь $\angle OEP = \angle OEA + \angle AEF = \angle BCA + \angle CBD = \angle CMD = 60^\circ$. Итак, в равнобедренном треугольнике OEF есть угол 60° , поэтому этот треугольник равносторонний.

Аналогично доказывается, что треугольник COD равносторонний.

Замечание. Восьмиклассники могут сократить решение, заметив, что по условию $ABDE$ — параллелограмм.

ВТОРОЕ РЕШЕНИЕ. Пусть K — середина диагонали AD . Так как $ABDE$ — параллелограмм, K также является серединой BE . Аналогично K — середина CF . Композиция поворота на 120° вокруг центра треугольника ACE (переводящего A в E) и поворота на 180° вокруг точки K является поворотом на 60° вокруг некоторой точки O . Но указанная композиция переводит A в B , C — в D , а E — в F .

236. 120° . ПЕРВОЕ РЕШЕНИЕ. Треугольник BAC равнобедренный прямоугольный, поэтому $\angle ACD = 120^\circ - 45^\circ = 75^\circ$. Рассмотрим равнобедренный треугольник CAE с основанием CE на луче CD (см. рис. 71). Тогда $\angle CAE = 180^\circ - 2 \cdot 75^\circ = 30^\circ$, а треугольник BAE тоже равнобедренный с углом $90^\circ + 30^\circ = 120^\circ$ при вершине A . Поэтому $\angle AEB = \angle ABE = 30^\circ$. Значит, $\angle CBA = 15^\circ$, т. е. точка E совпадает с D .

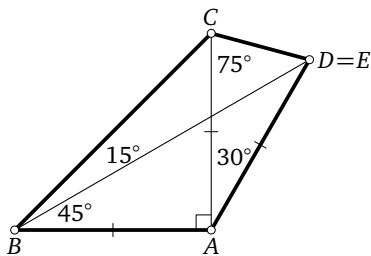


Рис. 71

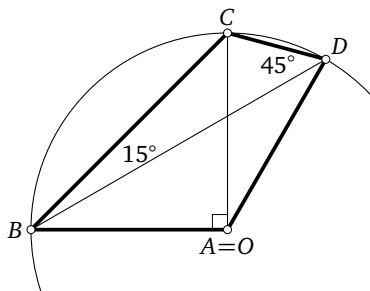


Рис. 72

ВТОРОЕ РЕШЕНИЕ. Рассмотрим описанную окружность треугольника BCD (с центром O). На дугу BC опирается вписанный угол CDB , равный $180^\circ - 120^\circ - 15^\circ = 45^\circ$ (см. рис. 72). Поэтому отрезок BC является основанием равнобедренных прямоугольных треугольников BAC и BOC . Следовательно, точки A и O совпадают и $\angle BAD = 2 \cdot (180^\circ - \angle BCD) = 120^\circ$.

237. Треугольники ABP и ANP имеют общую сторону AP , ещё пару равных сторон PB и PN и равные углы при вершине A , противолежащие этим сторонам (см. рис. 73). Но они не равны, так как $AN < AB$ (поскольку $\angle ANB > \angle CBN = \angle ABN$). Значит,

$$\angle ABP + \angle ANP = 180^\circ$$

(по «четвёртому признаку» равенства треугольников¹), т. е. четырёхугольник $ANPB$ вписанный. Аналогично доказывается, что четырёхугольник $AQLB$ вписанный, поэтому

$$\angle ALQ = \angle ABQ = \angle ABN = \angle APN,$$

откуда следует параллельность прямых QL и PN .

238. 90° . **Первое решение.** Точки O_1 и O_2 лежат на серединном перпендикуляре к отрезку BM , следовательно, треугольники O_1BO_2 и O_1MO_2 равны по трём сторонам и $\angle O_1MO_2 = \angle O_1BO_2$. Треугольники AMB и BMC равнобедренные, поэтому MO_1 и MO_2 — их биссектрисы. Тогда $\angle O_1MO_2 = \frac{1}{2}\angle AMC = 90^\circ$, значит, и $\angle O_1BO_2$ прямой.

Второе решение. Случай равнобедренного прямоугольного треугольника очевиден. Далее считаем, что $\angle AMB < 90^\circ < \angle CMB$. Тогда точка O_1 лежит внутри треугольника AMB и $\angle ABO_1 = 90^\circ - \angle AMB$ (поскольку $\angle AO_1B = 2\angle AMB$). Аналогично точка O_2 лежит вне треугольника CMB и $\angle CBO_2 = 90^\circ - \angle AMB = \angle ABO_1$. Следовательно, $\angle O_1BO_2 = \angle ABC$.

239. Треугольники ABE и BCF , очевидно, равны. Поэтому $\angle CBF = \angle BAE$. С другой стороны, углы BAH и BCH равны как опирающиеся на одну дугу. Следовательно, треугольники BGE и CHE равны по стороне и двум углам.

240. Углы ABD и BCK равны как острые с взаимно перпендикулярными сторонами. Точки A и H лежат на окружности с диаметром BK . Поэтому $\angle ANB = \angle AKB = \angle CKD = \angle BCK = \angle ABD$.

¹ Если в треугольниках ABC и $A_1B_1C_1$ выполняются равенства $AB = A_1B_1$, $AC = A_1C_1$, $\angle B = \angle B_1$, то треугольники равны или $\angle A + \angle A_1 = 180^\circ$.

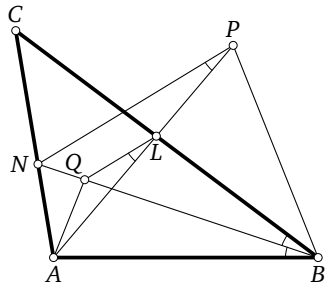


Рис. 73

241. Заметим, что $\angle APD = \angle APB = 45^\circ$ (эти углы опираются на четверть окружности). Также $\angle CBD = 45^\circ$, поэтому четырёхугольник $BPML$ вписанный и $\angle BML = 45^\circ$, а тогда $LM \parallel AC$. Аналогично $NK \parallel BD$.

242. Из равенства отрезков касательных $AM = AN$ следует, что $AMKN$ — ромб (см. рис. 74). Значит, AK — биссектриса угла BAC .

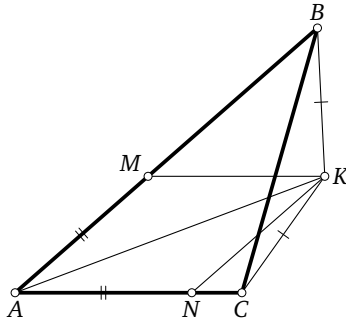


Рис. 74

Рассмотрим треугольники AKB и AKC : AK — общая сторона, $KB = KC$, $\angle BAK = \angle CAK$, однако $AB \neq AC$ (по условию). Значит, как и в решении задачи 237, $\angle ABK + \angle ACK = 180^\circ$, и точки A, B, K и C лежат на одной окружности.

Замечание. Второй абзац доказательства можно заменить следующим.

Биссектриса угла A пересекает описанную окружность в середине дуги BC и серединный перпендикуляр к BC — в той же точке. Поскольку точка K лежит на обеих этих прямых, она и есть середина дуги BC .

243. а) Рассмотрим точку E , симметричную точке B относительно прямой AM (см. рис. 75). В силу равенств

$$AE = AB = AD,$$

$$\angle EAN = 45^\circ - \angle EAM = 45^\circ - \angle BAM = \angle DAN$$

она будет симметрична точке D относительно AN . Поскольку

$$\angle MEA + \angle NEA = 90^\circ + 90^\circ = 180^\circ,$$

точка E лежит на отрезке MN .

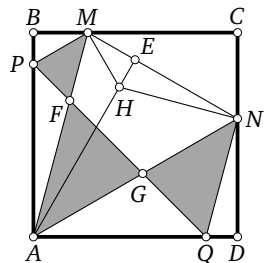


Рис. 75

Поскольку

$$\angle AMN = \angle AME = \angle AMB = 90^\circ - \angle BAM = \angle MAQ,$$

$AQNM$ — равнобедренная трапеция ($AQ = MN$). Это вписанный четырёхугольник, поэтому Q лежит на описанной окружности треугольника AMN . Аналогично доказывается, что на этой же окружности лежит и P .

б) Добавив к обеим частям $S_{PAF} + S_{GAQ}$, получаем, что нужно доказать равенство $S_{APQ} = S_{PMA} + S_{ANQ}$.

В п. а) доказано, что $AP = MN = AQ$ и отрезок AE симметричен AB и AD относительно AM и AN соответственно. Поэтому точка H , симметричная точке P относительно AM , симметрична также точке Q относительно AN и лежит на AE (см. рис. 75). В п. а) доказано, что $AE \perp MN$, поэтому диагонали четырёхугольника $AMHN$ перпендикулярны. Отсюда

$$S_{PMA} + S_{ANQ} = S_{HMA} + S_{ANH} = S_{AMHN} = \frac{1}{2}AH \cdot MN = \frac{1}{2}AP \cdot AQ = S_{APQ}.$$

244. По условию диагонали четырёхугольника $BEGF$ делят друг друга пополам. Значит, $BEGF$ — параллелограмм. Следовательно, $EG = BF$, $\angle DEG = \angle CBF$ (см. рис. 76).

Опустим перпендикуляры GK и GL на AD и CD . Прямоугольные треугольники BCF и EKG равны по гипотенузе и острому углу, поэтому $EK = BC = AD$, но тогда и $AE = DK$. Аналогично $CF = DL = KG$. Значит, $KG : KD = CF : AE = BC : AB = BC : DC$, следовательно, прямоугольные треугольники KDG и BDC подобны, и $\angle ADG = \angle KDG = \angle BDC$.

Замечание. Можно не доказывать равенства отрезков, а заметить, что оба отношения катетов в треугольниках BDC и KDG равны отношению сторон параллелограмма $BEGF$ ($KG : GL = EG : GF$ ввиду подобия треугольников EKG и FLG).

245. Треугольники AOB и COD имеют равные углы при вершине O , поэтому $\frac{S_{AOB}}{S_{COD}} = \frac{OA \cdot OB}{OC \cdot OD}$. Аналогично

$$\frac{S_{DOE}}{S_{BOM}} = \frac{OD \cdot OE}{OB \cdot OM}, \quad \frac{S_{COM}}{S_{AOE}} = \frac{OC \cdot OM}{OA \cdot OE}.$$

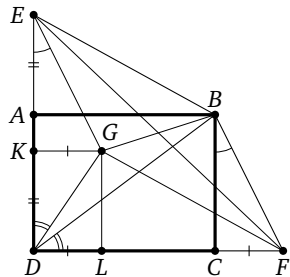


Рис. 76

Перемножив эти три равенства, получим $\frac{S_{AOB}}{S_{COD}} \cdot \frac{S_{DOE}}{S_{BOM}} \cdot \frac{S_{COM}}{S_{AOE}} = 1$. Поскольку $S_{BOM} = S_{COM}$, имеем $\frac{S_{AOB}}{S_{COD}} = \frac{S_{AOE}}{S_{DOE}} = \frac{AE}{DE}$.

246. Углы, смежные с углами ABD и ACD , равны соответственно углам ABC и ACB , поэтому CA и BA — биссектрисы внешних углов треугольника BCD (см. рис. 77). Через точку A их пересечения проходит биссектриса DA угла D треугольника BCD . Биссектрисы углов B и C треугольника BCD перпендикулярны AC и AB ; их точка пересечения E лежит на третьей биссектрисе — прямой AD . На AD лежит и точка O — середина общей гипотенузы AE прямоугольных треугольников ABE и ACE . Тогда точки A, B и C лежат на окружности с центром O и радиусом $\frac{1}{2}AE$.

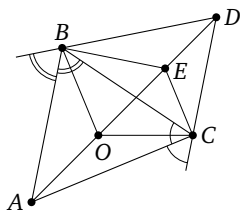


Рис. 77

247. Имеем $\angle CAO_a = \angle PAO_a = 90^\circ - \angle ARB = 90^\circ - \angle C$. Аналогично $\angle ACO_c = 90^\circ - \angle A$. Получаем, что

$$\angle CAO_a + \angle ACO_c = 180^\circ - \angle A - \angle C = \angle B < 180^\circ,$$

поэтому лучи AO_a и CO_c пересекаются в некоторой точке K , причём K и B лежат по разные стороны от AC . А так как $\angle AKC = 180^\circ - \angle B$, точка K лежит на описанной окружности треугольника ABC . При этом $\angle KBC = \angle KAC = 90^\circ - \angle C$, т. е. $BK \perp AC$.

248. Достаточно доказать, что $\angle A_1HB = \angle C_1HB$ (см. рис. 78).

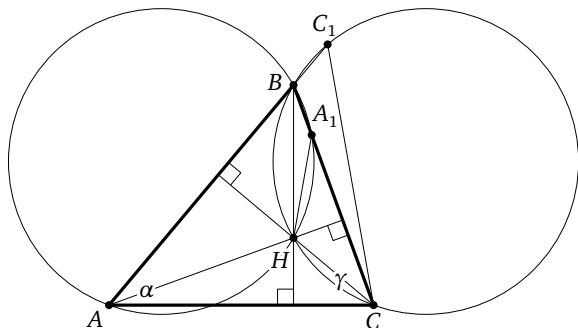


Рис. 78

Пусть $\angle A = \alpha$, $\angle C = \gamma$. Тогда $\angle ANB = 180^\circ - \gamma$, $\angle CHB = 180^\circ - \alpha$. Будем считать, что $\alpha < 60^\circ < \gamma$.

Четырёхугольник ABA_1H вписанный, следовательно,

$$\angle ANA_1 = 180^\circ - \angle B = 120^\circ,$$

значит, $\angle A_1NB = 120^\circ - (180^\circ - \gamma) = \gamma - 60^\circ$.

Аналогично $\angle C_1NB = 60^\circ - \alpha$.

Так как $\alpha + \gamma = 120^\circ$, получаем $\gamma - 60^\circ = 60^\circ - \alpha$, что и требовалось.

249. Проведём в треугольнике ABC высоты AD и CE (см. рис. 79). Треугольник BCE прямоугольный с углом 30° , поэтому $BE = \frac{1}{2}BC$. Аналогично $BD = \frac{1}{2}AB$. Следовательно, треугольник DBE подобен треугольнику ABC с коэффициентом $\frac{1}{2}$, а диаметр BH его описанной окружности равен радиусу OB описанной окружности W треугольника ABC . Пусть F — середина меньшей дуги AC окружности W . Отрезки BH и OF равны и оба перпендикулярны AC , поэтому $OBHF$ — параллелограмм. Но $OF = OB$, значит, $OBHF$ — ромб, и его диагонали BF и OH перпендикулярны. Точки F и O симметричны относительно AC (поскольку $\angle AOC = 120^\circ = \angle AFC$), поэтому M — середина OF . Тогда LM — средняя линия треугольника BOF , она параллельна BF и тоже перпендикулярна OH .

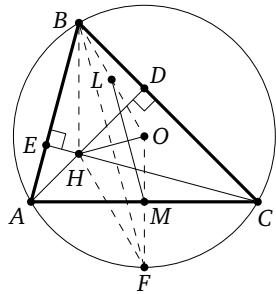


Рис. 79

250. Можно считать, что $AH \leq BH$. Рассмотрим такую точку O на гипотенузе AB , что $BO = AH$, и докажем, что O — центр описанной окружности треугольника A_1CB_1 . Обозначим $AH = u$, $BH = v$, тогда

$$CH^2 = uv, \quad OC^2 = OH^2 + CH^2 = (v - u)^2 + uv = u^2 + v^2 - uv.$$

По теореме косинусов из треугольника AOA_1 получаем

$$(OA_1)^2 = u^2 + v^2 - uv = OC^2.$$

Аналогично $(OB_1)^2 = OC^2$.

Замечание. Равенство $OA_1 = OB_1$ можно доказать и по-другому: треугольники AOA_1 и BB_1O равны по двум сторонам и углу между ними.

251. ПЕРВОЕ РЕШЕНИЕ. Для доказательства построим окружность Ω с центром на биссектрисе и докажем, что точки A_1, C_1

и H лежат на ней. Нетрудно проверить, что $\angle CAH + \angle ACH = 60^\circ$ (см. рис. 80). Поэтому

$$\angle AHC = 180^\circ - \angle CAH + \angle ACH = 120^\circ$$

и

$$\begin{aligned} \angle A_1HC_1 &= \angle AHC - \angle A_1HA - \angle C_1HC = \\ &= \angle AHC - \angle CAH - \angle ACH = \\ &= 120^\circ - 60^\circ = 60^\circ. \end{aligned}$$

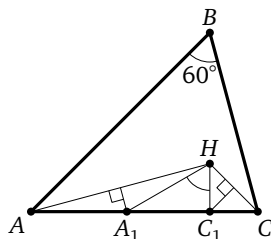


Рис. 80

Пусть O_1 — точка пересечения указанных серединных перпендикуляров, т. е. центр описанной окружности треугольника AHC . Тогда угол при вершине равнобедренного треугольника AO_1C равен 120° . Следовательно, точка O_1 — середина дуги AC описанной окружности треугольника ABC , т. е. BO_1 — биссектриса угла B . Рассмотрим точку O_2 пересечения этой биссектрисы с описанной окружностью треугольника $A_1O_1C_1$ (см. рис. 81). Заметим, что $A_1O_1 \parallel BC$ (обе эти прямые перпендикулярны AH), поэтому

$$\angle A_1O_1O_2 = \angle A_1O_1B = \angle CBO_1 = 30^\circ.$$

Аналогично $\angle C_1O_1O_2 = 30^\circ$. Значит, хорды A_1O_2 и C_1O_2 равны, а $\angle A_1O_2C_1 = 120^\circ$. Следовательно, окружность Ω с центром O_2 и радиусом O_2A_1 проходит через точку C_1 , а угол $A_1O_2C_1$ в ней центральный. Поскольку $\angle A_1HC_1 = \frac{1}{2}\angle A_1O_2C_1$, точка H тоже лежит на Ω .

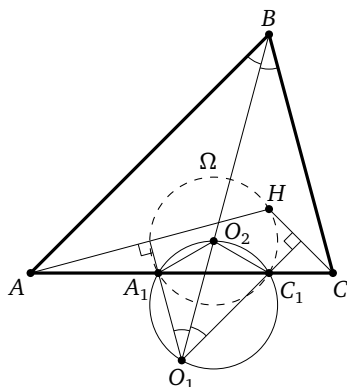


Рис. 81

ВТОРОЕ РЕШЕНИЕ (для знатоков). Пусть O — центр описанной окружности треугольника ABC , O_1 — та же точка, что в первом решении, а O_2 — центр описанной окружности треугольника A_1HC_1 . Как известно, точки O и O_1 симметричны относительно AC . Поэтому

$$\angle A_1OC_1 = \angle A_1O_1C_1 = \frac{1}{2}\angle AO_1C = \frac{1}{2}\angle AOC = 60^\circ.$$

Но и $\angle A_1HC_1 = 60^\circ$ (см. первое решение). Значит, точка O лежит на описанной окружности треугольника A_1HC_1 , т. е. $O_2O = O_2H$. Напомним, что и $BO = BH$ (см. задачу 248). Таким образом, O_2B — срединный перпендикуляр к OH . В силу равенства углов ABO и CBH он совпадает с биссектрисой угла B .

Замечание. Оба решения написаны для случая остроугольного треугольника ABC . Случай, когда угол A (или C) тупой, разбирается аналогично.

252. $82,5^\circ$ или $97,5^\circ$. За полчаса минутная стрелка повернулась на 180° , т. е. осталась на той же прямой. Поскольку результат измерений не изменился, два положения часовой стрелки должны быть симметричны относительно перпендикуляра к этой прямой. А часовая стрелка повернулась на 15° . Поэтому угол равен $90^\circ \pm 7,5^\circ$.

253. 15° . Заметим, что при сложении квадрата вдвое получился прямоугольник с отношением сторон $2 : 1$. Пусть $ABCD$ — четырёхугольник, получившийся в итоге, E — вершина прямоугольника, попавшая при втором складывании на сторону CD (см. рис. 82). Тогда в прямоугольном треугольнике EAD катет AD в два раза меньше гипотенузы AE , следовательно, $\angle AED = 30^\circ$. Значит, $\angle EAD = 60^\circ$, а искомый угол является половиной угла, дополняющего угол EAD до угла прямоугольника.

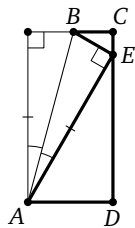


Рис. 82

Таким образом, $\angle BAE = (90^\circ - 60^\circ) : 2 = 15^\circ$.

254. $\frac{ac}{a+b}, \frac{bc}{a+b}$. Пусть KL — линия сгиба, C — упомянутая вершина, C' — её положение после перегиба. Отрезок CC' составлен из высот равных треугольников KCL и $KC'L$. Углы CKL и CLK равны как смежные к равным углам четырёхугольника, значит, треугольник KCL равнобедренный. Поэтому CC' — биссектриса угла C , и она делит сторону c на указанные в ответе отрезки, пропорциональные двум другим сторонам.

255. Пусть H — указанная точка пересечения. Точка F симметрична B относительно биссектрисы AD , поэтому $FD = BD = AE$ и $\angle AFD = \angle ABD = \angle FAE$. Треугольники AFD и FAE равны по двум сторонам и углу между ними. Значит, $\angle AFE = \angle DAF$, т. е. треугольник AHF равнобедренный. Симметричный ему относительно AD треугольник AHB тоже равнобедренный, значит, точка H лежит на серединном перпендикуляре к стороне AB . А это и есть высота треугольника ABC .

256. Биссектриса BB_1 — это ось симметрии равнобедренного треугольника, поэтому $A_1C_1 \parallel AC$. Тогда $\angle C_1A_1P = 90^\circ$, значит, C_1P — диаметр вписанной окружности. Точки B_1 и C_1 симметричны относительно биссектрисы AI , окружность тоже, поэтому и диаметры B_1D и C_1P тоже. Но тогда симметричны относительно AI и точки D и P , поэтому AI пересекает отрезок DP в его середине.

257. Пусть биссектриса угла ACB и прямая l пересекают дугу AB в точках K и N соответственно. Можно считать, что M лежит на дуге AK , и пусть $\angle ACK = \gamma$, $\angle ACM = \varphi$. Тогда $\angle PCA = \varphi$, $\angle MCK = \gamma - \varphi$, а ввиду симметрии $\angle NCK = \gamma - \varphi$, $\angle NCB = \varphi$, поэтому $\angle BCQ = \angle BCM = 2\gamma - \varphi$. Теперь $\angle PCN = 2\varphi + 2(\gamma - \varphi) = 2\gamma$, $\angle QCN = (2\gamma - \varphi) + \varphi = 2\gamma$. Поскольку $CP = CM = CQ$ и l — биссектриса равнобедренного треугольника PCQ , получаем, что $l \perp PQ$.

Замечание 1. Можно обойтись без счёта углов. Пусть m — биссектриса угла ACB . Прямая l получается из прямой CP композицией симметрий относительно прямых CA и m , т. е. поворотом на $\angle C$ (удвоенный угол между осями симметрии). Таким образом, угол между прямыми CP и l равен $\angle C$. Аналогично угол между прямыми l и CQ равен $\angle C$. Следовательно, l — биссектриса угла при вершине равнобедренного треугольника PCQ .

Замечание 2. Как видно из замечания 1, равнобедренность треугольника несущественна. Более того, несущественно и положение точки M — ею может быть любая точка плоскости, отличная от C .

258. Рассмотрим точку K_1 , симметричную K'' относительно AC . Отрезки $K'K''$ и KK_1 симметричны относительно AC и поэтому пересекают прямую AC в одной точке. Заметим, что K_1 получается из K композицией симметрий относительно прямых CB и CA , т. е. поворотом на $2\angle C$. Следовательно, треугольник KCK_1 равнобедренный с углом $90^\circ - \angle C$ при основании KK_1 . Таким образом,

$\angle CKK_1 = 90^\circ - \angle C = \angle CBD = \angle CKD$, т. е. прямые KD и KK_1 совпадают. Поэтому прямые AC , DK и $K'K''$ имеют общую точку.

Замечание. Равнобедренность треугольника не очень существенна: если условие « BD — диаметр» заменить на « BD — хорда, перпендикулярная стороне AC », то утверждение будет верным для произвольного треугольника. Кроме того, точка K может быть любой точкой описанной окружности, отличной от C .

Ср. с предыдущей задачей.

259. Пусть K — середина стороны BC , а O_1 — точка, симметричная P относительно центра O треугольника ABC . Тогда OK — средняя линия треугольника O_1PA_1 , значит, $O_1A_1 = 2OK = OA = OO_1$. Аналогично $O_1B_1 = O_1C_1 = OO_1$. Следовательно, точки A_1, B_1, C_1 и O лежат на окружности радиуса OO_1 с центром O_1 .

260. ПЕРВОЕ РЕШЕНИЕ. Угол ABC не прямой (иначе не получится треугольник CC_1B), значит, он острый или тупой (оба случая см. на рис. 83). Поэтому перпендикуляр, проведённый к стороне AB в её середине K , пересекает прямую BC в некоторой точке N . Пусть C_1L — медиана треугольника CC_1B . Треугольник BLC_1 равнобедренный (медиана C_1L прямоугольного треугольника CC_1B равна половине гипотенузы). Имеем $\angle C_1BL = \angle ABN$ (последние два угла совпадают, если $\angle ABC$ острый, и вертикальны, если он тупой). Тогда равны и два других угла при основаниях равнобедренных треугольников BAN и BC_1L : $\angle BAN = \angle BC_1L$. В обоих случаях взаимного расположения упомянутых треугольников прямые AN и C_1L параллельны. В треугольнике ABN высоты лежат на прямых KN и AM ,

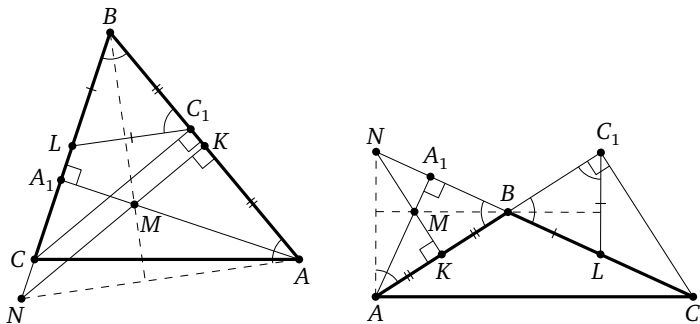


Рис. 83

пересекающихся в точке M . Тогда третья высота лежит на BM и перпендикулярна AN , а значит, и C_1L .

ВТОРОЕ РЕШЕНИЕ. Воспользуемся двумя очевидными свойствами симметрии.

1. Симметрия сохраняет углы между прямыми.

2. Прямые l_m и l_n , симметричные прямой l относительно параллельных прямых t и n , параллельны.

В нашем случае t и n — серединные перпендикуляры к отрезкам AB и C_1B соответственно, l — прямая BC . Пусть L — середина BC . Точки B и C_1 симметричны относительно n , а L лежит на n , поэтому прямая C_1L — это l_n . С другой стороны, прямые AM и $BL = l$ перпендикулярны, значит, симметричные им относительно t прямые BM и l_m тоже перпендикулярны. Но $l_n \parallel l_m$, значит, $C_1L \perp BM$.

Замечание. По существу первое решение является переводом техничного второго решения на язык, понятный семиклассникам.

261. Пусть A' — точка, симметричная A относительно прямой BC . В равнобедренном треугольнике $A'AC$ имеем $\angle ACA' = 60^\circ$, поэтому треугольник $A'AC$ равносторонний. Отметим на отрезке AA' такую точку M' внутри треугольника ABC , что $\angle M'BC = 20^\circ$. Отметим на продолжении AB за точку B такую точку D , для которой $A'D = A'A = A'C$. Нетрудно вычислить, что $\angle A'BM' = 70^\circ$ и $\angle A'M'B = 70^\circ$. Значит, треугольник $A'BM'$ равнобедренный, $A'B = A'M'$. Также нетрудно посчитать углы в равнобедренных треугольниках ABA' и ADA' :

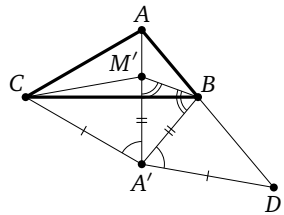


Рис. 84

$$\angle ABA' = 100^\circ, \quad \angle AA'B = \angle BAA' = \angle ADA' = 40^\circ, \quad \angle AA'D = 100^\circ.$$

Поэтому

$$\angle BA'D = 100^\circ - 40^\circ = 60^\circ = \angle M'A'C,$$

откуда следует равенство треугольников $A'BD$ и $A'CM'$. А это уже значит, что $\angle M'CB = 40^\circ - 30^\circ = 10^\circ$, т. е. M' совпадает с M .

262. Описанная окружность треугольника BA_1B_1 симметрична относительно серединного перпендикуляра к A_1B_1 , который является биссектрисой угла C . Значит, точки K и B симметричны относительно той же биссектрисы.

а) Точки B_1 и A_1 также симметричны. Поэтому $B_1K = A_1B$. Аналогично $B_1L = C_1B$. Но $C_1B = A_1B$ (как касательные, проведённые из одной точки), поэтому и $B_1K = B_1L$.

б) Центр I лежит на оси симметрии, поэтому $IK = IB$. Аналогично $IL = IB$.

Замечание. Можно также вывести п. б) из п. а) с помощью теоремы Пифагора:

$$IK^2 = B_1I^2 + B_1K^2 = B_1I^2 + B_1L^2 = IL^2.$$

263. Рассмотрим окружность Ω , проходящую через точку C и касающуюся стороны AB в точке D . Пусть она пересекает стороны AC и BC соответственно в точках A_2 и B_2 . Тогда $\angle ADA_2 = \angle DCA_2 = \frac{1}{2}\angle C$ (оба измеряются половиной дуги A_2D). Значит,

$$\angle A_2DC = \angle ADC - \angle A_2DA = \angle ADC - \angle DCB = \angle B.$$

Поэтому треугольники CA_2D и CDB подобны и $CA_2 : CD = CD : CB$, т.е. $CA_2 \cdot CB = CD^2$. Но (по теореме о секущей и касательной) и $CB_1 \cdot CB = CD^2$. Следовательно, $CA_2 = CB_1$. Аналогично $CB_2 = CA_1$. Это значит, что окружность Ω симметрична описанной окружности треугольника A_1B_1C относительно CD .

Напоминание. Для фиксированных точек P и Q геометрическое место точек X , для которых $XP^2 - XQ^2 = \text{const}$, — это прямая, перпендикулярная PQ .

(Этот факт легко выводится из теоремы Пифагора.)

264. ПЕРВОЕ РЕШЕНИЕ. Пусть KL — общая хорда данных окружностей (отсюда $CK = CA$, $MK = MC$). Согласно напоминанию все точки прямой KL (и только они) удовлетворяют соотношению

$$XC^2 - XM^2 = KC^2 - KM^2 = AC^2 - CM^2.$$

Осталось проверить, что середина O гипотенузы AB удовлетворяет этому соотношению. Но поскольку прямая CO перпендикулярна AM , получаем, что $OA^2 - OM^2 = CA^2 - CM^2$.

ВТОРОЕ РЕШЕНИЕ (для знатоков). Общая хорда KL является радикальной осью двух данных окружностей. Так как

$$CM^2 - OM^2 = OC^2 = OA^2 = CA^2 - OC^2,$$

степени точки O относительно данных окружностей одинаковы, следовательно, O лежит на этой радикальной оси.

265. Согласно напоминанию достаточно проверить, что

$$OA'^2 - OB'^2 = IA'^2 - IB'^2.$$

Точка A' симметрична A относительно биссектрисы угла B . Поэтому $IA'^2 = IA^2$. Аналогично $IB'^2 = IB^2$. Пусть вписанная окружность касается AB в точке K . Тогда

$$\begin{aligned} IA'^2 - IB'^2 &= IA^2 - IB^2 = AK^2 - BK^2 = \\ &= (AK - BK)(AK + BK) = (AC - BC)AB. \end{aligned}$$

Степень точки A' относительно описанной окружности (с радиусом R) равна $OA'^2 - R^2 = A'C \cdot A'B = (A'B - BC) \cdot A'B = (AB - BC)AB$. Аналогично $OB'^2 - R^2 = (AB - AC) \cdot AB$ и

$$\begin{aligned} OA'^2 - OB'^2 &= (OA'^2 - R^2) - (OB'^2 - R^2) = \\ &= (AB - BC) \cdot AB - (AB - AC) \cdot AB = (AC - BC) \cdot AB. \end{aligned}$$

266. Внутренние точки отрезка C_1C_2 , где C_1 и C_2 — точки, симметричные C относительно биссектрис углов A и B соответственно.

Поскольку сторона AB наибольшая, точки C_1 и C_2 лежат на стороне AB : C_2 ближе к A , а C_1 ближе к B (в силу неравенства треугольника). Возьмём любую точку X , лежащую внутри отрезка C_1C_2 . Точки C и X лежат по разные стороны от серединного перпендикуляра l_X к отрезку CX (см. рис. 85). Поскольку $AC = AC_1 > AX$, точка A расположена дальше от C , чем от X , и поэтому l_X разделяет также C и A , т.е. пересекает AC . Аналогично l_X пересекает BC . Значит, согнув треугольник по прямой l_X , получим четырёхугольник.

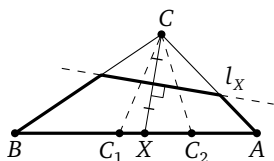


Рис. 85

Таким же образом можно показать, что для любой точки Y , лежащей на AC_2 , l_X пересекает стороны AB и AC . Пусть B_1 — точка, симметричная B относительно l_X , тогда после сгиба по прямой l_X треугольник перейдёт в пятиугольник $ALKB_1X$ (см. рис. 86), а значит, точка X не удовлетворяет условию. То же верно для любой точки отрезка C_1B .

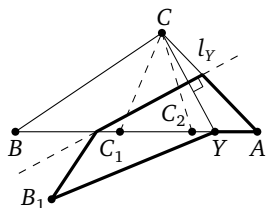


Рис. 86

Следовательно, искомое множество составляют все внутренние точки отрезка C_1C_2 .

$MN \parallel AC$. Тогда треугольник KBL получается из вписанного в Ω треугольника MBN гомотетией с центром B и коэффициентом

$$k = \frac{BK}{BM} \leq 1.$$

Следовательно, центр D его описанной окружности Ω' лежит на отрезке BO .

Пусть биссектриса BP треугольника ABC вторично пересекает Ω в точке Q . Тогда $OQ \perp AC$. Точка P лежит на отрезке BQ , поэтому перпендикуляр к AC , восстановленный в точке P , параллелен OQ и пересекает отрезок BO в некоторой точке T . Будем считать AC нижней горизонтальной стороной треугольника ABC . Точки K и L лежат по разные стороны от прямой BP , поэтому Ω' вторично пересекает прямую BP в некоторой точке R ниже прямой AC . Поскольку $BR = kBQ \leq BQ$, точка R лежит на отрезке BQ ниже AC , т. е. на полуинтервале $[QP)$. А так как $DR \parallel OQ$, точка D лежит на полуинтервале $[OT)$.

Осталось показать, что любая точка $D \in [OT)$ подходит. Проведём через неё прямую параллельно OQ до пересечения с PQ в точке R . Из подобия треугольников BOQ и BDR и равенства $OB = OQ$ следует, что $DB = DR$. Поэтому окружность с центром O и радиусом DB гомотетична Ω и лежит внутри Ω , а значит, пересекает отрезок AC в двух точках K и L . Так как равны центральные углы KDR и LDR , равны и опирающиеся на те же дуги вписанные углы KBP и LBP , что и требовалось.

Замечание (для знатоков). Рассуждения можно сильно сократить. Пусть X — точка пересечения BQ с MN . Когда точка K «движется» от A к P , точка M опускается по дуге AQ от A к Q . При этом коэффициент $k = \frac{BK}{BM} = \frac{BP}{BX}$, очевидно, убывает и принимает все значения между 1 и $\frac{BP}{BQ} = \frac{BT}{BO}$.

269. Можно считать, что $BC \leq BA$. Докажем, что вписанность четырёхугольника $PBKM$ равносильна равенству $AM = CK$. Рассмотрим треугольники APM и CPK (см. рис. 88). В них равны по стороне ($AP = CP$) и по углу ($\angle PAB = \angle PCB$, так как они опираются на одну дугу окружности Ω). Четырёхугольник $PBKM$ вписанный \Leftrightarrow

$$\Leftrightarrow \angle PMB = \angle PKB \Leftrightarrow \angle PMA = \angle PKC \Leftrightarrow \triangle PMA = \triangle PKC \Leftrightarrow AM = CK.$$

Достроим треугольник ABC до параллелограмма $ABCD$. Пусть Q — точка пересечения AK и CM , h_1, h_2, h_3, h_4 — длины высот, опу-

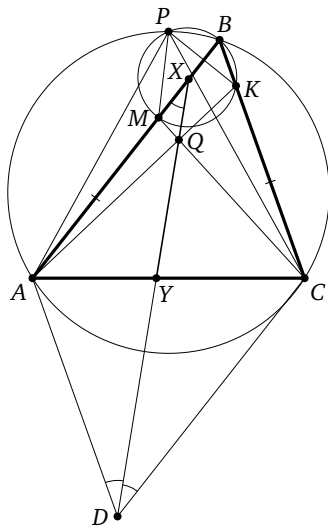


Рис. 88

щенных из вершины Q на стороны параллелограмма AB , BC , CD , AD соответственно. Тогда

$$\begin{aligned} AM \cdot h_3 &= AM \cdot (h_3 + h_1) - AM \cdot h_1 = \\ &= S_{AMC} - S_{AMQ} = S_{ACQ} = S_{AKC} - S_{CKQ} = CK \cdot h_4. \end{aligned}$$

Следовательно, $h_3 = h_4$, т. е. DQ — биссектриса угла D .

Итак, искомое ГМТ лежит на указанной биссектрисе внутри или на границе треугольника ABC . Пусть биссектриса пересекает AC в точке Y , а луч AB — в точке X (см. рис. 88). Докажем, что любая точка Q на полуинтервале $[YX)$ подходит. Так как $AB \parallel DC$, имеем $\angle AXD = \angle CDX = \angle ADX$, поэтому треугольник DAX равнобедренный, $AX = AD \leq AB$. Прямая CQ пересечёт отрезок AX в некоторой точке $M \neq X$. Отложим на BC отрезок $CK = AM < CB$. Мы доказали, что тогда $PBKM$ — вписанный четырёхугольник и точка пересечения его диагоналей лежит на отрезке XY . Но диагональ CM пересекает XY как раз в точке Q , т. е. Q и есть искомая точка.

Замечание (для знатоков). И здесь можно воспользоваться «движением». Когда точка K совпадает с B , точки M и Q совпадают с X . При «движении» K по стороне BC от B к C точка Q движется по прямой DX от точки X до точки Y .

270. Таких положений имеется четыре: точки пересечения большой окружности с перпендикулярами к отрезку AB в его концах.

В силу симметрии достаточно рассмотреть половину (или даже четверть) большой окружности. Будем считать, что диаметр AB горизонтален. Принципиально есть два варианта расположения C .

1. Точка C находится слева от указанного на рис. 89 перпендикуляра AP к диаметру. Тогда точки K и A совпадают. При движении точки C вверх длина отрезка KM увеличивается и является наибольшей, когда точка C совпадает с точкой P .

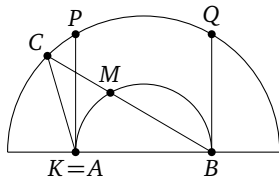


Рис. 89

2. Точка C находится на дуге PQ . Угол ACB измеряется полуразностью дуг AB и KM малой окружности (см. рис. 90). Дуга AB постоянна. Если величина дуги KM является наибольшей (при этом длина стягивающей её хорды KM наибольшая), то величина угла ACB является наименьшей.

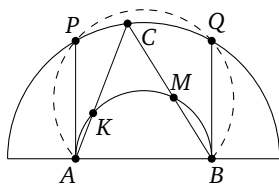


Рис. 90

Следовательно, нужно найти на дуге PQ точку C , из которой отрезок AB виден под наименьшим углом. Рассмотрим описанную окружность W прямоугольника $APQB$. Она пересекается с большой окружностью в точках P и Q и проходит через точку A внутри большого круга. Из точек W , лежащих выше AB , отрезок виден под постоянным углом, равным $\angle APB$. Дуга PQ большой окружности (без концов) лежит внутри W , поэтому из любой её точки отрезок AB виден под углом, большим $\angle APB$. Таким образом, искомое наименьшее значение угла достигается в точках P и Q . Отсюда и следует указанный ответ.

271. ПЕРВОЕ РЕШЕНИЕ. Рассмотрим произвольный треугольник ABC . Пусть I — точка пересечения его биссектрис, тогда треугольники AIB , BIC и CIA искомые (см. рис. 91).

Действительно, проведём перпендикуляры IK , IL и IM к сторонам треугольника ABC .

Так как точка I равноудалена от его сторон, получим три пары равных треугольников: AIK и AIM , BIK и BIL , CIL и CIM . Это даёт возможность покрыть любой из треугольников AIB , BIC и CIA двумя другими, перевернув их.

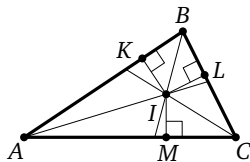


Рис. 91

Замечание. Отметим, что можно обосновать возможность покрытия и по-другому, причём части не потребуется переворачивать. Например, чтобы покрыть треугольник AIC , достаточно повернуть треугольники AIB и CIB вокруг вершин A и C соответственно так, чтобы стороны AI и CI попали на AC . Так как $AI + CI > AC$, $AB > AI$ и $CB > CI$ (углы при вершине I в каждом из трёх получившихся треугольников тупые), треугольник AIC будет при этом полностью покрыт.

ВТОРОЕ РЕШЕНИЕ. Проведём медиану BN и среднюю линию NP . Разрежем треугольник ABC на треугольники ANP , BNP и BNC (см. рис. 92). Треугольник BNC разбивается своей медианой NM на два треугольника, равных ANP и BNP .

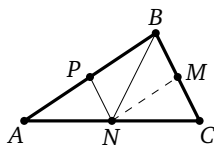


Рис. 92

272. Анализ. Пусть нужные точки построены (рис. 93). Поскольку треугольники AGE и BFE равнобедренные, имеем $\angle AEG = \angle A$, $\angle BEF = \angle B$, и все эти углы острые. Направление прямых EG и EF не зависит от положения точки E . Поскольку точки G и F симметричны относительно O , отразив треугольник CGF относительно O , получим параллелограмм $CGM'F$ с вершиной M' на прямой CM . Все такие параллелограммы гомотетичны относительно точки C , поэтому направление отрезка GF не зависит от положения точки O . Итак, нам надо вписать в ABC треугольник GEF со сторонами, параллельными заданным направлениям. Такой треугольник всего один: изменение длины отрезка FG приводит к изменению длины его проекции на AB , а она равна половине стороны AB .

Построение. Проведя через M прямые, параллельные сторонам AC и BC , получим параллелограмм $MF'CG'$ (см. рис. 94). Построим на прямой AB точки A' и B' так, что $G'A' = G'A$, $F'B' = F'B$. Пусть лучи $G'A'$ и $F'B'$ пересекаются в точке E' , а E — точка пересечения

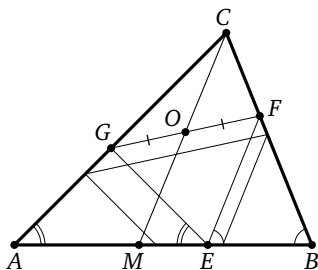


Рис. 93

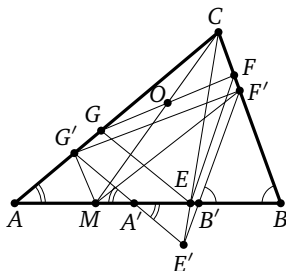


Рис. 94

чения прямых CE' и AB . Проведя через E прямые параллельно $E'G'$ и $E'F'$, получим на их пересечении со сторонами CA и CB соответственно точки G и F .

Доказательство. Лучи $G'A'$ и $F'B'$ пересекаются, поскольку образуют с AB «разнонаправленные» углы, в сумме меньшие 180° , и $AG = GE$, поскольку $AG' = G'A'$ и треугольники AGE и $AG'A'$ подобны. Аналогично $EF = BF$. Середина O' отрезка $G'F'$ — это центр параллелограмма $CG'MF'$, она лежит на CM . Треугольники CGF и $CG'F'$ гомотетичны с центром C , поэтому середина O отрезка GF тоже лежит на CM .

273. Пусть O — центр описанной окружности Ω треугольника ABC . Нетрудно проверить, что $\angle BOC = \angle BIC = 120^\circ$, а поскольку I и O лежат по одну сторону от прямой BC , точки B, C, I, O лежат на одной окружности Ω_1 .

Покажем, что и H лежит на Ω_1 . Разберём три случая.

1. Если треугольник ABC остроугольный, то H лежит по ту же сторону от BC и $\angle BHC = 120^\circ = \angle BOC$.

2. Если он прямоугольный, то H совпадает с одной из вершин B или C .

3. Если он тупоугольный, то H лежит по другую сторону от BC и $\angle BHC = 60^\circ = 180^\circ - \angle BOC$.

Как известно, окружность Ω_1 симметрична Ω относительно BC (ведь точка A' , симметричная точке A , лежит на Ω_1 , так как $\angle A'BC = 60^\circ = 180^\circ - \angle BOC$). Окружность Ω_1 можно построить по известным точкам H, I и радиусу R . Центр O_1 окружности Ω_1 симметричен O , поэтому он лежит на Ω и делит пополам дугу BC . Значит, биссектриса угла A проходит через O_1 . В решении задачи 248 доказано, что AOO_1H — ромб. Он восстанавливается по стороне O_1H и прямой IO_1 , содержащей его диагональ. Итак, мы нашли точки A, O и можем восстановить окружность Ω . Точки B и C — это точки пересечения Ω и Ω_1 .

274. Анализ. Окружность Ω , вписанная в четырёхугольник $BCED$, совпадает с окружностью, вписанной в треугольник ABC , и является вневписанной окружностью треугольника ADE . Пусть Ω касается сторон DE и EC в точках K и L соответственно, а вписанная окружность треугольника ADE касается сторон DE и AE в точках M и N соответственно. Как известно, $EK = DM$. Поэтому

$$NL = NE + EL = EM + EK = EM + DM = DE.$$

Заметим ещё, что если r — радиус Ω и описанной окружности треугольника ADE , то по теореме синусов $DE = 2r \sin \angle A$.

Построение. Впишем окружность Ω в треугольник ABC . По её радиусу r и углу A построим отрезок $s = 2r \sin \angle A$. Отметим точку L касания Ω и AC и отложим на луче LA отрезок $LN = s$. Впишем в угол A окружность Ω_1 , касающуюся AC в точке N . Проведём общую внутреннюю касательную к окружностям Ω и Ω_1 . Точки D и E лежат на пересечении этой касательной со сторонами AB и AC .

275. Пусть P — середина BK , M и Q — такие точки на CD , что $CQ = QM = BP$, O — точка пересечения прямой PQ с биссектрисой угла LKM , $\angle LKM = 2\alpha$.

При сгибе по прямой PQ отрезок BC перейдёт в KM . Если теперь ещё перегнуть по указанной биссектрисе, то KM (и BC) перейдёт в отрезок KL . Однако последняя операция запрещена.

Сгиб — это осевая симметрия. Мы выполнили композицию двух симметрий, а это поворот относительно точки пересечения осей на удвоенный угол между ними. т. е. BC и KL совмещаются поворотом вокруг точки O на угол 2α . Получить такой поворот можно композицией двух сгибов (симметрий) относительно другой пары осей, проходящих через O , с углом α между ними. Можно выбрать их так, чтобы оси не проходили через запрещённые точки. Повернём, например, прямую OQ так, чтобы она прошла через середину N отрезка CQ , затем повернём биссектрису OK на угол QON (см. рис. 95).

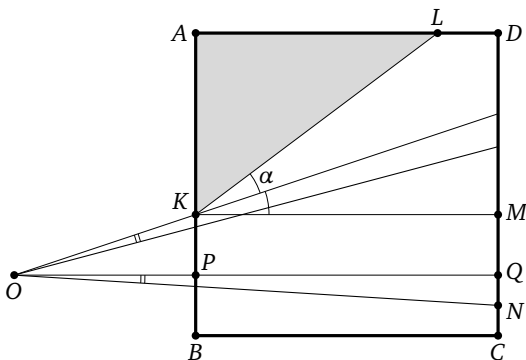


Рис. 95

МАТЕМАТИЧЕСКИЙ КВАДРАТ

Математический квадрат — азартная игра, произошедшая из математической абаки, но несколько отличающаяся от неё правилами. На турнире используется в качестве разминочной игры вечером в день заезда. Допускается варьировать правила в зависимости от возраста участников.

Задачи «на ответ» не обязаны быть новыми, они обычно заимствуются из доступных источников.

ПРАВИЛА 2012 ГОДА

Математический квадрат — командная игра. Время на решение — полтора часа. Все задачи выдаются вначале, сдаются только ответы (без обоснований).

Каждая команда получает один и тот же набор из 25 задач. Ответы к ним надо вписывать в клетки квадратной таблицы 5×5 . Строки соответствуют темам (например, алгебра, геометрия, комбинаторика), столбцы — сложности задач. Каждая задача оценена в очках, задачи одного столбца стоят одинаково: первого 6, второго 12, третьего 18 и т. д. Команды сдают ответы в произвольном порядке.

Если команда решила правильно все задачи какого-то ряда из 5 задач (строки, столбца), она получает премию, равную трети суммы полученных очков за задачи ряда. Команда, которая решила все задачи данного ряда раньше всех остальных команд, получает премию в утроенном размере. Премия за скорость выдаётся независимо по каждому ряду.

Выигрывает команда, набравшая в сумме наибольшее число очков.

РЕКОМЕНДАЦИИ ДЛЯ ИГРАЮЩИХ

Ввиду премий за скорость важна слаженная работа команды. Нереально рассчитывать получить такие премии за все ряды, поэтому важно правильно распределить силы и следить за продвижениями соперников.

Свои продвижения стоит скрывать (т. е. не сразу сообщать судьбе ответ), только если вы вполне уверены в своём ответе, иначе есть риск потратить время на гонку в таком ряду, где право на премию вами уже утеряно.

РЕКОМЕНДАЦИИ ДЛЯ ПРОВОДЯЩИХ

Все команды сидят в одной аудитории так, чтобы видеть доску. Для каждой команды рисуется отдельная таблица, куда будут вноситься очки за задачи и премии. Неправильно решённая задача отмечается крестом.

Такая же таблица (в одном экземпляре) выдаётся команде. Сверху пишется название команды и ставятся подписи капитана и закреплённого за командой судьи. В неё команда вписывает ответы, которые предъявляются судье. В другом виде ответы не принимаются во избежание разногласий или несанкционированной капитаном сдачи ответа.

У доски сидят судьи, каждый принимает ответы 2—4 закреплённых за ним команд. Судья сразу сообщает «правильно-неправильно» (обычно сверившись с таблицей ответов) и вписывает причитающиеся очки или крест в таблицу команды на доске. Если в задаче несколько ответов, должны быть перечислены все. Неполный ответ считается неправильным, что именно неправильно — не комментируется. При выдаче премии за срочность это объявляется вслух и тоже отмечается на доске.

При несогласии с оценкой ответа команда может апеллировать к председателю жюри в любой момент до окончания игры. *Временем сдачи ответа считается момент, когда он признан правильным (а не момент сообщения его судье).*

МАТЕМАТИЧЕСКИЙ КВАДРАТ, 6 КЛАСС

Арифметика

6А1. У мальчика столько же сестёр, сколько и братьев, а у его сестры вдвое меньше сестёр, чем братьев. Сколько в этой семье братьев и сколько сестёр?

6А2. В поход пошли 56 математиков и в целое число раз меньше физиков. Они разместились в нескольких палатках, в каждой столько человек, сколько палаток. Сколько было физиков?

6А3. Средний возраст 11 игроков футбольной команды равен 22 годам. Во время матча один игрок был удалён за нарушение, после чего средний возраст оставшихся игроков стал равен 21 году. Сколько лет удалённому игроку?

6А4. Каждый член семьи выпил по одинаковой чашке сиропа с газировкой, причём один из них выпил четверть сиропа и седьмую

часть газировки. Сироп и газировку выпили всю. Сколько человек могло быть в семье?

6А5. Два пешехода стартовали одновременно по круговой дороге с одного места в одном направлении. Пешеход, идущий быстрее, нагнал другого через 36 минут. Если бы они стартовали в противоположных направлениях, то встретились бы через 4 минуты. За сколько минут каждый из пешеходов может обойти круговую дорогу?

Цифры и числа

6Ц1. В ряд выписаны в порядке возрастания числа, делящиеся на 9: 9, 18, 27, 36, ... Под каждым числом этого ряда записана сумма его цифр. На каком месте во втором ряду впервые встретится число 45?

6Ц2. Найдите все трёхзначные числа, которые уменьшаются в 13 раз при вычёркивании средней цифры.

6Ц3. Найдите наименьшее натуральное число, которое после умножения на 2 становится квадратом, а после умножения на 3 — кубом некоторого натурального числа.

6Ц4. Найдите такое десятизначное число, чтобы его первая цифра указывала количество нулей в его записи, вторая цифра — количество единиц и т. д. вплоть до десятой цифры, которая должна указывать количество девяток в десятичной записи числа.

6Ц5. В записи семизначного числа нет одинаковых цифр, при этом оно делится нацело на каждую из своих цифр. Какие цифры отсутствуют в данном числе?

Комбинаторика

6К1. Если класс из 30 человек рассадить в зале кинотеатра, то в любом случае хотя бы в одном ряду окажется не менее двух одноклассников. Если то же самое проделать с классом из 26 человек, то по крайней мере три ряда окажутся пустыми. Сколько рядов может быть в зале?

6К2. На гранях кубика расставлены числа от 1 до 6. Кубик бросили два раза. В первый раз сумма чисел на четырёх боковых гранях оказалась равна 12, во второй — 15. Какое число написано на грани, противоположной той, где написано число 3?

6К3. В левом нижнем углу шахматной доски 4×4 стоит король. За один ход он может передвинуться либо на одну клетку вправо,

либо на одну клетку вверх, либо на одну клетку по диагонали вправо и вверх. Сколькими разными путями король может пройти в правый верхний угол доски?

6К4. За круглым столом расселись 10 мальчиков и 15 девочек. Оказалось, что имеется ровно 5 пар мальчиков, сидящих рядом. Сколько могло получиться пар девочек, сидящих рядом? (Если мальчик образует пару и с соседом слева, и с соседом справа, считаются обе пары. То же верно для девочек.)

6К5. Имеется набор гирь со следующими свойствами:

1) в нём есть 5 гирь, попарно различных по весу;

2) для любых двух гирь найдутся две другие гири того же суммарного веса.

Какое наименьшее число гирь может быть в этом наборе?

Часы и календарь

6Ч1. Электронные часы показывают время от 00:00 до 23:59. Сколько раз в течение суток значения часов и минут отличаются друг от друга на 15?

6Ч2. В июле некоторого года было четыре среды и четыре субботы. Каким днём недели было 20-е число этого месяца?

6Ч3. Двое часов начали и закончили бить одновременно. Первые бьют через каждые 2 секунды, вторые — через каждые 3 секунды. Всего было насчитано 13 ударов, при этом совпадающие удары воспринимались как один. Сколько времени били часы?

6Ч4. Какое наибольшее количество дней подряд Юра может заниматься математикой, если он делает это по вторникам, пятницам и нечётным числам месяца?

6Ч5. В США дату принято записывать так: номер месяца, потом число и год. В Европе же сначала идёт число, потом месяц и год. Сколько в году дней, дату которых нельзя прочитать однозначно, не зная, каким способом она написана?

Логика

6Л1. Из четырёх неравенств $2x > 70$, $x < 100$, $4x > 25$ и $x > 5$ два верны и два неверны. Найдите значение x , если известно, что оно целое.

6Л2. В комнате находятся 10 человек, каждый из которых является рыцарем (всегда говорит правду) или лжецом (всегда лжёт). Первый сказал: «Здесь нет ни одного рыцаря», второй: «Здесь не более

одного рыцаря», третий: «Здесь не более двух рыцарей», ..., десятый: «Здесь не более девяти рыцарей». Сколько рыцарей в комнате?

6Л3. Пётр, Роман и Сергей учатся на математическом, физическом и химическом факультетах. Если Пётр — математик, то Сергей не физик. Если Роман не физик, то Пётр — математик. Если Сергей не математик, то Роман — химик. Кто из них учится на математическом факультете?

6Л4. На столе лежат в ряд четыре фигуры: треугольник, круг, полукруг и ромб. Они окрашены в разные цвета: красный, синий, жёлтый и зелёный. Известно, что с красной фигурой соседствуют синяя и зелёная; справа от жёлтой фигуры лежит ромб; круг лежит правее треугольника и ромба; треугольник лежит не с краю; синяя и жёлтая фигуры лежат не рядом. Определите цвет и форму самой левой фигуры.

6Л5. На острове живут рыцари (всегда говорят правду) и лжецы (всегда лгут), каждый из них живёт в четырёхэтажном доме. В социологическом опросе приняли участие все жители острова. На вопрос «Вы живёте на первом этаже?» ответили «Да» 40 % жителей. На аналогичный вопрос про второй этаж утвердительно ответили 30 %, про третий — 50 %, а про четвёртый — 0 %. Какой процент жителей острова действительно живёт на первом этаже?

МАТЕМАТИЧЕСКИЙ КВАДРАТ, 7 КЛАСС

Арифметика

7А1. Сумма нескольких натуральных чисел равна 13. Каково их наибольшее возможное произведение?

7А2. Коля и Вася за январь получили по 20 оценок, причём Коля получил пятёрок столько же, сколько Вася четвёрок, четвёрок столько же, сколько Вася троек, троек столько же, сколько Вася двоек, и двоек столько же, сколько Вася пятёрок. При этом средний балл за январь у них одинаковый. Сколько двоек за январь получил Коля?

7А3. Какое наименьшее число участников может быть в математическом кружке, если девочки в нём составляют больше 43 %, но меньше 44 %?

7А4. Алёша и Игорь сделали в тире по пять выстрелов по мишени и выбили следующие очки: 10, 9, 9, 8, 8, 5, 4, 4, 3, 2. Первыми тремя выстрелами они выбили в сумме одинаковое число очков, а последними тремя Алёша выбил в три раза больше, чем Игорь. Куда попал каждый из них третьим выстрелом?

7А5. Театр в маленьком городке насчитывал сто мест. В день премьеры спектакля все билеты были проданы на общую сумму в 10 тысяч рублей. Билеты для мужчин стоили 500 рублей, для женщин — 200 рублей, а для детей — 10 рублей. Сколько мужчин, женщин и детей было на премьере?

Геометрия

7Г1. По углам прямоугольного бассейна $10\text{ м} \times 25\text{ м}$ стоят Аня, Боря, Вера и Гена, а где-то у края бассейна стоит их учительница. Она позвала к себе ребят, но подошли только трое, пройдя в сумме 50 м, а к Гене учительнице после этого пришлось идти самой. Какое расстояние прошла учительница, если все шли кратчайшим путём?

7Г2. Длины сторон треугольника — последовательные натуральные числа, а одна из его медиан перпендикулярна одной из биссектрис. Найдите стороны треугольника.

7Г3. В треугольнике ABC угол A равен 20° , угол C равен 40° , биссектриса угла B равна 2. Найдите разность сторон BC и AB .

7Г4. В треугольнике ABC угол A равен 60° , угол B равен 45° . На продолжении стороны CA за точку A взята такая точка K , что $AK = \frac{1}{2}AC$. Найдите угол ABK .

7Г5. В выпуклом четырёхугольнике $ABCD$ диагонали равны, углы BAC и ADB равны, а сумма углов CAD и ADC равна углу ABD . Найдите угол BAD .

Турниры

7Т1. Чемпионат по боксу проводился по олимпийской системе, в нём приняли участие 64 человека. Сколько участников турнира выиграло больше боёв, чем проиграло?

7Т2. Пять футбольных команд провели турнир в один круг. За победу начислялось 3 очка, за ничью — 1 очко, за проигрыш — 0 очков. Победившая команда набрала столько же очков, сколько все остальные вместе. Сколько всего очков набрали команды?

7Т3. В турнире по настольному теннису в один круг участвовали шестиклассники и семиклассники. Шестиклассников было вдвое больше, чем семиклассников, при этом семиклассники выиграли на 40% больше встреч, чем шестиклассники. Сколько ребят участвовало в турнире? (Напомним, что в теннисе ничьих нет.)

7Т4. В двухкруговом турнире по волейболу принимали участие несколько команд. За победу в игре даётся 1 очко, за проигрыш —

0 очков, ничьих в волейболе не бывает. Одна из команд стала единственным победителем турнира, набрав 13 очков. Последнее место разделили между собой две команды, набрав по 10 очков каждая. Сколько всего команд участвовало в турнире?

7Т5. В шахматном турнире участвовали 12 человек, каждый сыграл с каждым по одной партии. За победу в партии давалось 1 очко, за ничью — 0,5 очка, за проигрыш — 0 очков. Какое наибольшее количество участников турнира могли набрать более 70 % от максимально возможного числа очков?

Комбинаторика

7К1. Натуральные числа от 1 до 9 расставлены в вершинах и центре куба так, что сумма любых трёх чисел, стоящих на прямой, проходящей через центр куба, одна и та же. Какие числа могут стоять в центре куба?

7К2. Шеренга солдат называется *неправильной*, если никакие три подряд стоящих солдата не стоят по росту (ни в порядке возрастания, ни в порядке убывания). Сколько неправильных шеренг можно построить из четырёх солдат разного роста?

7К3. Перед началом уроков классный руководитель заметил, что каждый учащийся его класса поздоровался за руку с 6 девочками и 8 мальчиками. При этом количество рукопожатий между мальчиками и девочками было на 5 меньше числа остальных рукопожатий. Сколько учеников могло быть в классе?

7К4. В квадрате 3×3 расположено 9 лампочек. За одну операцию можно переключить состояние любых четырёх лампочек, образующих квадрат 2×2 . Сколько различных комбинаций можно получить из состояния, когда все лампочки не горят?

7К5. 30 студентов с пяти курсов придумали 40 задач для олимпиады (каждый — хотя бы одну), причём однокурсники придумали одинаковое количество задач, а студенты с разных курсов — разное. Сколько студентов придумали по одной задаче?

Процессы

7П1. Имеется кучка из 97 орехов. За одну операцию разрешается любую из имеющихся кучек разделить на две. Если при этом образовались две неравные кучки, то взимается штраф 1 рубль. Какова наименьшая возможная сумма штрафа, которую придётся заплатить, чтобы получить 97 кучек по одному ореху в каждой?

7П2. На доске написаны числа 5, 11, 17. Разрешается написать на доске сумму двух из них минус третье, после чего стереть то число, которое вычиталось. Через некоторое время на доске оказались три числа, среднее из которых равно 1001. Какие были два остальных?

7П3. Выпуклый бумажный 67-угольник прямолинейным разрезом разделили на два многоугольника, затем так же разрезали один из двух получившихся, затем — один из трёх получившихся и т. д. В итоге получилось восемь n -угольников. Чему может равняться n ?

7П4. В магазине 5 пустых молочных бутылок можно обменять на бутылку лимонада, а 10 пустых бутылок из-под лимонада — на бутылку молока. Миша нашёл в подвале 60 пустых бутылок и стал их обменивать. В результате у него осталась всего одна молочная бутылка. Сколько молочных бутылок нашёл Миша?

7П5. В колбе находится одна бактерия. Каждую секунду либо одна бактерия погибает, либо некоторые бактерии делятся на 7 новых каждая. Через какое наименьшее число секунд в колбе может оказаться ровно 2012 бактерий?

МАТЕМАТИЧЕСКИЙ КВАДРАТ, 8 КЛАСС

Алгебра

8Ал1. Найдите все тройки простых чисел, произведение которых в 11 раз больше их суммы.

8Ал2. Для некоторого натурального n числа 2^n и 5^n начинаются на одну и ту же цифру в десятичной записи. Какой может быть эта цифра?

8Ал3. На координатной плоскости даны точки

$$\left(\frac{1}{2}; \frac{1}{3}\right), \left(\frac{1}{3}; \frac{1}{6}\right), \left(\frac{1}{5}; \frac{1}{5}\right), \left(\frac{1}{7}; \frac{1}{4}\right), \left(\frac{1}{8}; \frac{1}{7}\right).$$

Какое наибольшее количество из них может лежать на «графике» вида $\frac{a}{x} + \frac{b}{y} = 1$?

8Ал4. Квадратный трёхчлен $f(x) = x^2 + ax + b$ имеет два различных целых корня. Один из корней трёхчлена и его значение в точке $x = 11$ являются простыми числами. Найдите корни этого трёхчлена.

8Ал5. Найдите все значения a , для которых выражения $a + \sqrt{15}$ и $\frac{1}{a} - \sqrt{15}$ принимают целые значения.

Геометрия

8Г1. В вершине угла в 1° сидит кузнечик. Он совершает прыжки длины 1, каждый раз прыгая с одной стороны угла на другую, не возвращаясь в точки, где уже был. Какое наибольшее число прыжков он может сделать?

8Г2. В прямоугольной трапеции меньшая диагональ равна большей боковой стороне. Найдите большую диагональ трапеции, если её большая боковая сторона равна a , а меньшее основание равно b .

8Г3. В пятиугольнике $ABCDE$ все стороны равны, а угол ABC вдвое больше угла DBE . Найдите угол ABC .

8Г4. В треугольнике ABC проведены высота AH и биссектриса BD . Известно, что угол BDA равен 45° . Найдите угол DHC .

8Г5. В треугольнике ABC на стороне AC отметили две различные точки K и L . Каждый из отрезков BK и BL разбивает треугольник ABC на два равнобедренных треугольника. Найдите углы треугольника ABC .

Арифметика

8Ар1. На доске были записаны первые 20 натуральных чисел. Одно из них стёрли, при этом оказалось, что среди оставшихся 19 чисел есть такое, которое равно среднему арифметическому этих 19 чисел. Какое число могло быть стёрто?

8Ар2. Саша пригласил Диму в гости, сказав, что живёт в 10-м подъезде в квартире № 333, а этаж сказать забыл. Подойдя к дому, Дима обнаружил, что дом девятиэтажный. На какой этаж ему следует подняться?

8Ар3. Разведчик должен передать в Центр набор из четырёх натуральных чисел A, B, C, D . Для соблюдения секретности он отправил набор чисел $A + B, A + C, A + D, B + C, B + D$ в некотором порядке, при этом Центр получил числа 13, 15, 16, 20, 22. Найдите числа A, B, C, D .

8Ар4. Один человек пришёл в банк, чтобы получить деньги по чеку. Кассир, оплачивая чек, ошибся и вместо долларов выдал такое же число центов, а вместо центов — такое же число долларов. Человек, не пересчитав деньги, положил их в карман, да ещё уронил монетку в 5 центов. Придя домой, он обнаружил, что денег у него ровно вдвое больше, чем было указано в чеке. На какую сумму был выписан чек?

8Ар5. Али-Баба попал в пещеру, где есть золото, алмазы и сундук, в котором их можно унести. Полный сундук золота весит 110 кг,

полный сундук алмазов — 30 кг, пустой сундук — 10 кг. Килограмм золота стоит на базаре 20 динаров, килограмм алмазов — 60 динаров. Али-Баба может поднять и унести не более 60 кг. Какое максимальное количество денег он может получить за сокровища, которые принесёт из пещеры за один раз?

Комбинаторика

8К1. Сколько существует натуральных чисел, меньших тысячи, в записи которых нет тройки и которые кратны 3?

8К2. Кучка из 25 камней произвольным образом делится на две кучки, любая из имеющихся кучек снова делится на две и т. д., пока все кучки не будут состоять из одного камня. При каждом делении какой-либо кучки на доске записывается произведение чисел камней в получающихся двух кучках. Какие значения может принимать сумма всех записанных чисел?

8К3. Фабрика окрашивает кубики в 6 цветов (каждую грань в свой цвет, набор цветов фиксирован). Сколько разновидностей кубиков можно изготовить?

8К4. Трое ребят играли в слова, каждый составил по 10 слов. Если слово есть у всех, оно вычёркивается, если ровно у двоих — оба получают по одному баллу, за остальные свои слова каждый получает по три балла. В итоге все трое набрали разное количество баллов, при этом один из них набрал 19 баллов, что стало самым низким результатом. Сколько баллов набрали остальные?

8К5. В одной из вершин треугольника сидит лягушка. Она прыгает по вершинам треугольника, перемещаясь каждый раз в одну из соседних вершин. Сколькими способами лягушка может попасть в начальную вершину за 10 прыжков?

Минимум и максимум

8М1. На 20 карточках написаны натуральные числа от 1 до 20. Из этих карточек составили 10 дробей. Какое наибольшее количество этих дробей может иметь целые значения?

8М2. Треугольник разрезали на два многоугольника прямолинейным разрезом, один из полученных многоугольников вновь разрезали на два и т. д. Какое наименьшее количество разрезов следует произвести, чтобы общее число вершин у полученных многоугольников стало равным 2012?

8М3. Буратино купил в лавке бумажную курточку, расплатившись без сдачи монетами в 8 и 13 сольдо. Если бы эта курточка стоила на сольдо дороже, то он не смог бы расплатиться без сдачи только такими монетами. Какова наибольшая возможная цена курточки?

8М4. Пусть $2S$ — суммарный вес некоторого набора гирек ($S > 0$). Назовём натуральное число k *средним*, если в наборе можно выбрать k гирек, суммарный вес которых равен S . Какое наибольшее количество средних чисел может иметь набор из 100 гирек?

8М5. Загадано число от 1 до 144. Разрешается выделить из множества чисел от 1 до 144 некоторое подмножество и спросить, принадлежит ли ему загаданное число. За ответ «Да» надо заплатить 2 рубля, за ответ «Нет» — 1 рубль. Какая наименьшая сумма денег необходима для того, чтобы наверняка угадать число?

МАТЕМАТИЧЕСКИЙ КВАДРАТ, 9 КЛАСС

Последовательности

9П1. Олегу на день рождения подарили 777 конфет. Он хочет съесть все конфеты за несколько дней, причём так, чтобы каждый день начиная со второго съесть на одну конфету больше, чем в предыдущий. Какое наибольшее число дней Олег может есть подаренные конфеты?

9П2. По кругу в некотором порядке выписаны числа от 1 до 10 и отмечены те из них, которые равны сумме двух своих соседей. Какое наибольшее количество чисел может быть отмечено?

9П3. Последовательность из двух различных чисел продолжили двумя способами: чтобы получилась геометрическая прогрессия и чтобы получилась арифметическая прогрессия. При этом третий член геометрической прогрессии оказался равен десятому члену арифметической. Какой номер имеет член арифметической прогрессии, с которым совпал четвёртый член геометрической?

9П4. Остап Бендер организовал раздачу слонов населению, на которую явилось 20 человек. Остап построил их по кругу, дал одному первого слона, его соседу слева — второго, затем одного человека пропустил, следующему дал слона, пропустил двоих, следующему дал слона и т. д., пока не раздал всех 2012 слонов. Скольким желающим не досталось слонов?

9П5. На прилавке в ряд лежат 12 арбузов. Вес первого арбуза равен 6 кг, последнего — 11,5 кг. Каждый арбуз (кроме первого

и последнего) на 200 г легче среднего арифметического своих двух соседей. Найдите вес второго арбуза.

Геометрия

9Г1. Две стороны треугольника равны 25 и 30, а высота, проведённая к третьей, равна 24. Найдите третью сторону треугольника.

9Г2. Дан равнобедренный треугольник ABC ($AB = BC$). Точка M — середина стороны AB , точка N лежит на стороне BC , причём $BN : NC = 1 : 3$. На стороне AC выбрана точка P так, что периметр треугольника PMN наименьший из возможных. Чему равно отношение $AP : PC$?

9Г3. В треугольнике ABC стороны CB и CA равны соответственно a и b . Биссектриса угла C пересекает сторону AB в точке D , а описанную около треугольника ABC окружность — в точке M . Окружность, описанная около треугольника AMD , вторично пересекает прямую CA в точке P . Найдите AP .

9Г4. В параллелограмме $ABCD$ сторона AB равна 6, а высота, проведённая к основанию AD , равна 3. Биссектриса угла BAD пересекает диагональ BD в точке M , а сторону BC — в точке N , причём $NC = 4$. Найдите площадь треугольника BMN .

9Г5. В выпуклом четырёхугольнике $ABCD$ стороны AB и BC равны, а диагональ DB является биссектрисой угла D . Диагонали четырёхугольника пересекаются в точке E , угол ABC равен 100° , угол BEA равен 70° . Найдите угол CAD .

Алгебра

9А1. Некоторое натуральное число делят с остатком на все натуральные числа, меньшие его. Сумма всех различных остатков оказалась равной самому числу. Чему может быть равно данное число?

9А2. Найдите наибольшее значение выражения $a^2 + b^2$, если

$$a^2 + b^2 + ab = a + b.$$

9А3. Решите в натуральных числах уравнение

$$\frac{1}{x} + \frac{1}{y} + \frac{1}{\text{НОД}(x, y)} + \frac{1}{\text{НОК}(x, y)} = 1.$$

9А4. Найдите все пары действительных чисел a и b , каждое из которых является корнем уравнения $x^2 + ax + b = 0$.

9А5. Найдите все натуральные n , при которых число $2^n + 65$ является точным квадратом.

Комбинаторная геометрия

9КГ1. Куб $5 \times 5 \times 5$ составлен из 125 единичных кубиков. Через каждую его грань пробили 4 сквозных отверстия $1 \times 1 \times 5$, как показано на рис. 96. Сколько единичных кубиков осталось?




Рис. 96

9КГ2. На окружности отмечено несколько точек. Известно, что среди всевозможных расстояний между двумя отмеченными точками не более 100 различных. Какое наибольшее количество точек может быть отмечено?

9КГ3. Сколько существует прямоугольных треугольников с вершинами в 18 узлах клетчатого прямоугольника 2×5 ?

9КГ4. Улитка движется по поверхности куба, переползая от вершины к вершине по ребру или по диагонали грани. Найдите протяжённость самого длинного пути из одной вершины куба в противоположную (наиболее удалённую), если запрещается пересекать свой путь и проходить через одну вершину дважды.

9КГ5. На плоскости провели 8 прямых, никакие две из которых не параллельны. Какое наибольшее число равнобедренных треугольников со сторонами, лежащими на этих прямых, могло образоваться?

Таблицы и клетки

9Т1. Из квадратного листа бумаги, содержащего целое число клеток, вырезали квадрат из целого числа клеток так, что осталось 124 клетки. Сколько клеток мог содержать первоначальный лист бумаги?

9Т2. Какое наименьшее количество клеток таблицы 5×5 можно отметить, чтобы в каждом квадрате 3×3 было ровно 4 отмеченные клетки?

9Т3. Квадрат 8×8 распилили на квадраты 2×2 и прямоугольники 1×4 , при этом общая длина распилов оказалась равна 54. Сколько могло получиться квадратных частей?

9Т4. В каждую клетку таблицы 10×19 записали одно из чисел 0 или 1, после чего подсчитали суммы чисел в каждом столбце и в каждой строке. Какое наибольшее количество различных чисел могло получиться?

9Т5. На одном поле доски 7×7 находится фишка. Разрешается последовательно ставить на пустые поля новые фишки так, чтобы поле, на которое выставляется очередная фишка, имело общую сто-

рону не более чем с одним из уже занятых полей. Какое наибольшее количество фишек может оказаться на доске?

ОТВЕТЫ, УКАЗАНИЯ, КРАТКИЕ РЕШЕНИЯ

6 класс

Арифметика

6A1. 3 сестры и 4 брата. РЕШЕНИЕ. Мальчик сам себе не брат, поэтому братьев на 1 больше, чем сестёр. Девочка сама себе не сестра, поэтому у неё сестёр ещё на одну меньше, т. е. всего на 2 меньше, чем братьев. Значит, 2 — половина числа братьев.

6A2. 8 физиков. РЕШЕНИЕ. Общее число людей — точный квадрат, поэтому оно не меньше 64. Значит, физиков не менее 8. Число физиков делит 56, но меньше него. Делители больше 8 — это 14 и 28, но они не подходят, так как $56 + 14$ и $56 + 28$ не точные квадраты.

6A3. 32 года. РЕШЕНИЕ. Суммарный возраст всех игроков равен $11 \cdot 22 = 242$ года. Суммарный возраст оставшихся — $10 \cdot 21 = 210$ лет. Значит, возраст удалённого игрока равен $242 - 210 = 32$ года.

6A4. 5 или 6 человек. РЕШЕНИЕ. Если в семье не более 4 человек, то общий объём выпитого не превосходит (по объёму) всего сиропа плюс $\frac{4}{7}$ газировки, что меньше суммарного объёма напитков. Аналогично если в семье не менее 7 человек, то общий объём выпитого не меньше (по объёму) всей газировки плюс $\frac{7}{4}$ сиропа, что больше суммарного объёма напитков. Для 5 человек такое возможно: было 8 стаканов сиропа, 7 — газировки, все выпили по 3 стакана, при этом один человек выпил 2 стакана сиропа и 1 стакан газировки. Для 6 человек такое тоже возможно: было 4 стакана сиропа и 14 — газировки, все выпили по 3 стакана, при этом один человек выпил 1 стакан сиропа и 2 стакана газировки.

6A5. За 9 мин и 7 мин 12 секунд. УКАЗАНИЕ. Времена относятся как 9 : 1 — так же как сумма скоростей к их разности. Поэтому скорости относятся как 5 : 4, и при движении в одну сторону быстрый успел пройти 5 кругов, а медленный — 4 круга.

Цифры и числа

6Ц1. На 11 111-м месте. УКАЗАНИЕ. Первым числом с суммой цифр 45 будет 99 999.

6Ц2. 130, 195, 260, 390. РЕШЕНИЕ. Фактически мы решаем ребус $AB \cdot 13 = A * B$. При умножении на 13 (как и на 3) последняя цифра не меняется, только если она равна 0 или 5. Первая цифра произведения не меньше A . Она равна A , только если при вычислении второй цифры нет перехода через десяток. Если $B = 0$, то $3 \cdot A < 10$, отсюда ответы 130, 260, 390. Если $B = 5$, то $3 \cdot A + 5 < 10$, отсюда ответ 195.

6Ц3. 72. РЕШЕНИЕ. Пусть x — искомое число, $2x$ — квадрат и чётно, поэтому кратно 4. Значит, x чётно: $x = 2y$, $3x = 6y$ — куб и кратно 6, поэтому y кратно $6^3 = 216$. Значит, наименьшее значение числа $3x$ равно 216, а $x = 72$. И действительно,

$$2 \cdot 72 = 12^2, \quad 3 \cdot 72 = 6^3.$$

6Ц4. 6210001000. РЕШЕНИЕ. Заметим, что а) число полностью задаётся своим набором цифр и б) сумма цифр числа равна количеству его цифр, т. е. 10. Покажем, что менее шести нулей быть не может. Действительно, иначе есть не менее пяти ненулевых цифр. Одна из них указывает количество нулей, а ещё четыре — количества других различных цифр. Значит, в числе есть как минимум четыре различные ненулевые цифры. Их сумма не больше 10, значит, это 1, 2, 3 и 4, но вместе с пятой ненулевой цифрой это больше 10 — противоречие.

Пусть число нулей равно $a \geq 6$. Тогда в числе есть единица, указывающая количество цифр a . Поэтому есть и цифра b , указывающая количество единиц. Эта цифра не может равняться ни 1, ни a . Следовательно, есть ещё цифра c , указывающая количество цифр b . Поскольку $1 + b + c \leq 4$, единственный вариант:

$$b = 2, \quad c = 1, \quad a = 6, \quad \text{что и даёт ответ.}$$

6Ц5. 0, 4 и 5. РЕШЕНИЕ. На 0 делить нельзя. Среди семи разных цифр есть чётные, поэтому число чётно. Если бы оно было ещё и кратно 5, то последняя цифра была бы 0. Значит, нет и цифры 5. Из восьми оставшихся цифр-кандидатов надо выбросить одну, поэтому цифра 3 или 6 останется. Тогда число кратно 3, поэтому и сумма цифр кратна 3. Но сумма $0 + 1 + \dots + 9$ кратна 3, значит, и сумма выкинутых цифр кратна 3. Следовательно, к 0 и 5 надо добавить не кратную 3 цифру. Но тогда цифра 9 остаётся, т. е. число и сумма его цифр кратна 9. Поэтому сумма выкинутых цифр кратна 9. Значит, к 0 и 5 надо добавить 4. Нетрудно проверить, что составленное из оставшихся цифр число 2789136 подходит.

Комбинаторика

6К1. 29. РЕШЕНИЕ. Если рядов не меньше 30, то можно рассадить 30 человек по одному в ряд. Если рядов не более 28, то, оставив пустыми два ряда, мы сможем в каждый из остальных посадить по человеку, и понадобится не более 26 человек.

6К2. 6. РЕШЕНИЕ. Разобьём грани кубика на пары противоположных и посчитаем сумму в каждой паре. Так как $1 + 2 + 3 + 4 + 5 + 6 = 21$, сумма на паре верхней и нижней граней при первом и втором бросках равна соответственно $21 - 12 = 9$ и $21 - 15 = 6$. Тогда сумма на третьей паре равна $21 - 9 - 6 = 6$. Грань с числом 6 может входить только в пару с суммой 9, значит, против 6 стоит число 3. Две суммы 6 получаются как $2 + 4$ и $1 + 5$.

6К3. 63 путями. РЕШЕНИЕ. Заметим, что назад король возвращаться не может. В любую клетку он может попасть за один ход не более чем из трёх клеток-предшественниц: снизу, слева или снизу-слева. Если для каждой из этих клеток известно число путей в неё из левого нижнего угла, то число путей в нашу клетку равно сумме чисел в клетках-предшественницах. Начав с левого нижнего угла, заполним таблицу по указанному правилу. Результат см. на рис. 97.

1	7	25	63
1	5	13	25
1	3	5	7
1	1	1	1

Рис. 97

6К4. 10 пар. РЕШЕНИЕ. В группе из подряд сидящих мальчиков каждый, кроме самого правого, образует пару с соседом слева. Значит, в каждой группе число пар на 1 меньше числа мальчиков. Поэтому общее число пар мальчиков меньше числа мальчиков на число групп. Следовательно, есть пять групп мальчиков, и они перемежаются пятью группами девочек. Но тогда число пар девочек равно $15 - 5 = 10$.

6К5. 13 гирь. РЕШЕНИЕ. Самую тяжёлую и вторую по весу гирию можно уравновесить только парой гирь тех же весов (пара равных самой тяжёлой будет тяжелее, а любая другая пара — легче). Значит, самая тяжёлая гиря и вторая по величине встречаются каждая в двух экземплярах. Но тогда пару равных самой тяжёлой гире можно уравновесить только точно такой же парой. Значит, самая тяжёлая есть в 4 экземплярах. Аналогично самая лёгкая тоже есть в 4 экземплярах, а вторая по «лёгкости» — в двух. Есть ещё средняя из 5 гирь разного веса. Итого гирь не менее 13. Вот подходящий пример ровно с 13 гирями: 1, 1, 1, 1, 2, 2, 3, 4, 4, 5, 5, 5, 5.

Часы и календарь

641. 33 раза. РЕШЕНИЕ. Для каждого часа число минут может быть на 15 больше — всего 24 показания. Для часов от 15 до 23 число минут может быть на 15 меньше числа часов — ещё 9 показаний. Итого $24 + 9 = 33$.

642. Пятницей. РЕШЕНИЕ. Дни недели, случившиеся с 1 по 3 июля, повторились 5 раз (в следующие 28 дней июля каждый день недели случился ровно 4 раза). Три дня недели подряд, в которых нет ни среды, ни субботы, — это воскресенье, понедельник и вторник. Тогда 6 июля была пятница, значит, 13 и 20 июля тоже пятницы.

643. 18 секунд. РЕШЕНИЕ. Время боя часов состоит из целого числа секунд. Это число делится на 2 и на 3, т. е. на 6. Разобьём время боя на шестисекундные интервалы. В каждом из них слышится 4 удара (не считая последнего сдвоенного удара, который отнесём к следующей шестёрке). Самый последний сдвоенный удар считаем отдельно. Итак, число интервалов равно $(13 - 1) : 4 = 3$.

644. 6 дней. РЕШЕНИЕ. Оценка. Семь дней подряд Юра заниматься не может. Действительно, семидневка либо целиком принадлежит одному месяцу, либо делится между двумя месяцами на чётный и нечётный куски. В чётном куске нечётных и чётных чисел поровну, в нечётном может быть максимум на одно нечётное число больше. Значит, есть не менее трёх чётных чисел. Из них максимум два приходятся на вторник и пятницу (так как все дни недели в семидневке различны). Значит, хотя бы один день свободен от занятий.

ПРИМЕР. Пусть 30 января пришлось на вторник. Тогда 2 февраля — пятница. Юра может заниматься математикой 6 дней подряд: с 29 января по 3 февраля.

645. 132 дня. РЕШЕНИЕ. Числа на первом и втором месте должны быть оба не больше 12, иначе ясно, которое из них обозначает месяц. Кроме того, эти числа не равны, иначе запись обозначает одну и ту же дату и в Европе, и в США. Значит, для каждого месяца есть 11 неоднозначно понимаемых дат, а всего таких дат $12 \cdot 11 = 132$.

Логика

6Л1. $x = 6$. РЕШЕНИЕ. Допустим, неравенство $x < 100$ неверно. Тогда $x \geq 100$, и три другие неравенства, очевидно, верны, что не так. Значит, это неравенство верно, а из остальных верно ровно одно. В целых числах они равносильны неравенствам $x \geq 36$, $x \geq 7$

и $x \geq 6$ соответственно. Поскольку второе следует из первого, а третьего из второго, верно только третье. Значит, $6 \leq x < 7$, откуда и следует ответ.

6Л2. 5 рыцарей. РЕШЕНИЕ. Заметим, что если какое-то высказывание истинно, то все последующие тоже истинны. Если в комнате менее 5 рыцарей, то верны последние 6 высказываний (от «Здесь не более 4 рыцарей» до «Здесь не более 9 рыцарей»). Тем самым рыцарей не менее 6. Противоречие. Если же комнате более 5 рыцарей, то неверны первые 6 высказываний — опять противоречие. При 5 рыцарях всё сходится: верны ровно 5 высказываний (от «Здесь не более 5 рыцарей» до «Здесь не более 9 рыцарей»).

6Л3. Сергей. РЕШЕНИЕ. Пронумеруем по порядку три условия вида «если ..., то ...». Допустим, Пётр — математик. Тогда ввиду условия (1) Сергей не физик. Значит, он химик. Но ввиду условия (3) раз Сергей не математик, то Роман тоже химик. Получили двух химиков — противоречие.

Итак, Пётр не математик. Тогда Роман — физик, иначе (2) ложно. Но тогда Сергей — математик, иначе (3) ложно. Распределение «Пётр — химик, Роман — физик, Сергей — математик» не нарушает ни одного из условий.

6Л4. Жёлтый полукруг. РЕШЕНИЕ. Синяя, красная и зелёная фигуры лежат подряд, значит, жёлтая лежит с краю. Но справа от неё — ромб, значит, она лежит на левом краю. Фигура на левом краю не ромб, не круг (у каждого из них есть фигура слева) и не треугольник (он не с краю). Значит, самая левая фигура — полукруг.

Замечание. На самом деле однозначно определяются цвета и формы всех фигур. Слева направо лежат жёлтый полукруг, зелёный ромб, красный треугольник и синий круг.

6Л5. 30%. РЕШЕНИЕ. Каждый рыцарь ответил «Да» ровно один раз, а каждый лжец — три раза. Поэтому суммарное число ответов больше числа жителей на удвоенное число лжецов. То же верно для суммы процентов. Поэтому лжецов на острове

$$(40 + 30 + 50 + 0 - 100) : 2 = 10\%.$$

Поскольку никто из лжецов не сказал, что живёт на четвёртом этаже, именно там все лжецы и живут. Значит, все они сказали «Да» в ответ на вопрос «Вы живёте на первом этаже?». Отбросив их ложные ответы, получим, что на первом этаже живёт $40 - 10 = 30\%$ жителей.

7 класс

Арифметика

7А1. 108. РЕШЕНИЕ. Очевидно, среди слагаемых нет единиц (иначе, добавив единицу к другому слагаемому, увеличим произведение). Если есть слагаемое $a \geq 4$, то, разбив его на слагаемые 2 и $b = a - 2 \geq 2$, мы не уменьшим произведение (ведь $2b \geq b + 2$). Поэтому в примере с наибольшим произведением все слагаемые — двойки и тройки. Если двоек не меньше трёх, то, заменив три двойки на две тройки, увеличим произведение ($3 \cdot 3 > 2 \cdot 2 \cdot 2$). Но если двоек нет или всего одна, то оставшаяся сумма не кратна 3. Значит, двоек ровно две, троек три, и это пример с наибольшим произведением.

7А2. 5 двоек. РЕШЕНИЕ. Поскольку число оценок и средние баллы одинаковы, должны быть равны и суммы оценок. Пусть Коля получил d двоек и x других (хороших) оценок. Каждая хорошая оценка даёт Коле лишний балл по сравнению с Васей, а каждая двойка даёт 3 лишних балла Васе. Ввиду равенства сумм равны и лишние баллы. Значит, $3d = x$, откуда $20 = x + d = 4d$, и $d = 5$. Значит, Коля «схватил» 5 двоек.

7А3. 16. ПЕРВОЕ РЕШЕНИЕ. Пусть в кружке n участников, из них d девочек. Нам надо найти наименьшее натуральное n , для которого есть такое натуральное d , что $0,43 < \frac{d}{n} < 0,44$. Полным перебором искать такую дробь долго, но его можно организовать «разумно». Заметим, что $\frac{44}{100} = \frac{11}{25} = \frac{1}{2} - \frac{3}{50}$ лишь немного меньше $\frac{1}{2}$. Поэтому имеет смысл перебирать прежде всего дроби вида $\frac{m-1}{2m}$ и $\frac{m}{2m+1}$.

В первом случае дробь отличается от $\frac{1}{2}$ на $\frac{1}{2m}$, и нам нужно, чтобы выполнялись неравенства

$$\frac{3}{50} < \frac{1}{2m} < \frac{7}{100}.$$

Но $\frac{1}{14} > \frac{7}{100}$, а $\frac{1}{16} < \frac{7}{100}$. Кроме того, $\frac{1}{16} = \frac{3}{48} > \frac{3}{50}$. Итак, дробь $\frac{7}{16}$ нас устраивает, а дроби с меньшим чётным знаменателем — нет. Осталось проверить, не подойдёт ли дробь с меньшим нечётным знаменателем.

Такая дробь отличается от $\frac{1}{2}$ на $\frac{1}{2(2m+1)}$. Если $2(2m+1) > 16$, то $\frac{1}{2(2m+1)} < \frac{3}{50}$; если $2(2m+1) < 16$, то $\frac{1}{2(2m+1)} > \frac{7}{100}$. Таким

образом, дроби указанного вида нам не годятся. Числитель дроби уменьшить нельзя: самая большая «подозрительная» дробь из нерассмотренных — это $\frac{6}{15} = \frac{2}{5} = 0,4$.

ВТОРОЕ РЕШЕНИЕ¹. Мы должны найти решение неравенства $\frac{43}{100} < \frac{d}{n} < \frac{11}{25}$ с наименьшим натуральным n . Перевернём все дроби и вычтем их общую целую часть: $2\frac{14}{43} > \frac{n}{d} > 2\frac{3}{11}$, откуда

$$\frac{14}{43} > \frac{n-2d}{d} > \frac{3}{11}.$$

То же самое сделаем ещё раз: $3\frac{1}{14} < \frac{d}{n-2d} < 3\frac{2}{3}$, откуда

$$\frac{1}{14} < \frac{d-3(n-2d)}{n-2d} = \frac{7d-3n}{n-2d} < \frac{2}{3},$$

и ещё раз: $14 > \frac{n-2d}{7d-3n} > \frac{3}{2}$.

(Заметим, что здесь впервые между границами неравенства встречаются целые числа.)

Из предыдущих неравенств следует, что $n-2d > 0$ и $7d-3n \geq 1$ (так как это целое число), а из последнего — что $n-2d \geq 2$. Отсюда

$$n = 7(n-2d) + 2(7d-3n) \geq 7 \cdot 2 + 2 \cdot 1 = 16.$$

Равенство достигается при $n-2d = 2$ и $7d-3n = 1$. Эти же значения удовлетворяют и последнему неравенству (а значит, и всем предыдущим). Если $n = 16$, то $d = 7$.

7А4. Алёша выбил 10 очков, Игорь — 2. РЕШЕНИЕ. Три последние выстрелами Алёша мог выбить не более 28 очков, значит, Игорь — не больше $28 : 3 = 9\frac{1}{3}$, т. е. не больше 9 очков. Но и меньше чем $2 + 3 + 4 = 9$ очков Игорь выбить не мог. Значит, он выбил ровно 9 очков указанным набором. Тогда Алёша выбил ровно 27 очков, и это мог быть только набор $8 + 9 + 10$. Третьим выстрелом Алёша выбил больше Игоря, разность лежит в пределах от $8 - 4 = 4$ до $10 - 2 = 8$ очков. Значит, последними двумя выстрелами Игорь выбил больше Алёши, разность такая же. На последние два выстрела обоим остались очки 4, 5, 8, 9, возможные положительные разности равны $9 + 8 - 5 - 4 = 8$ или $9 + 5 - 8 - 4 = 2$. Совпадают только разности 8. Значит, Игорь выбил третьим выстрелом 2, а Алёша 10.

¹ Решение взято из книги: Васильев Н. Б., Гутенмахер В. Л., Раббот Ж. М., Том А. Л. Заочные математические олимпиады. М.: МЦНМО, 2012.

7А5. 11 мужчин, 19 женщин и 70 детей. РЕШЕНИЕ. Взрослый платит за билет не менее 200 рублей, значит, взрослых было не более 50. Поэтому дети были, и взрослым продали билетов меньше чем на 10 000 рублей, т. е. взрослых меньше 50. Общая сумма и заплаченное взрослыми кратны 100 рублей, значит, заплаченное за детей тоже кратно 100, откуда число детей кратно 10. Заметим, что все зрители не могут быть детьми. Пусть было m мужчин, z женщин и $10d$ детей, где d от 6 до 9. Тогда

$$m + z + 10d = 100 \quad \text{и} \quad 500m + 200d + 100d = 10\,000,$$

или, что равносильно

$$2m + 2z + 20d = 200, \quad 5m + 2z + d = 100.$$

Вычтя из второго уравнения первое, получим

$$3m - 19d = -100, \quad \text{или} \quad 3m - 18d + 99 = d - 1.$$

Левая часть кратна 3, поэтому правая тоже. Значит, подходит только $d = 7$, откуда $m = 11$, $z = 100 - 11 - 7 \cdot 10 = 19$.

Геометрия

7Г1. 20 м. РЕШЕНИЕ. Пусть учительница стоит у стороны AB прямоугольника $ABCD$. Если бы к ней пошли все четверо, то ребята из углов A и B прошли бы в сумме AB , а из углов C и D — в сумме $AB + BC + DA$. Но $2AB + BC + DA$ — это периметр прямоугольника, т. е. 70 м. Значит, Гена прошёл бы $70 - 50 = 20$ м, и именно столько пришлось пройти учительнице.

7Г2. 2, 3, 4. РЕШЕНИЕ. Сумма двух наименьших сторон больше наибольшей, значит, наименьшая сторона не менее 2, поэтому остальные тоже не меньше 2. Пусть BL — указанная биссектриса треугольника ABC . Угол между BL и медианой из той же вершины меньше половины угла B , т. е. острый. Значит, указанная в условии перпендикулярная медиана выходит из другой вершины. Пусть это AM . В треугольнике ABM биссектриса совпадает с высотой, значит, он равнобедренный: $AB = BM = MC$. Тогда $BC - AB = AB$. По условию длины сторон отличаются не более чем на 2. Значит, $AB = 2$, $BC = 4$, тогда $AC = 3$.

7Г3. 2. РЕШЕНИЕ. Пусть BL — указанная биссектриса.

Нетрудно посчитать, что $\angle LBA = \angle LBC = 60^\circ$, $\angle BLC = 80^\circ$. Проведём BK так, чтобы угол CBK равнялся углу C (т. е. 40° , см. рис. 98).

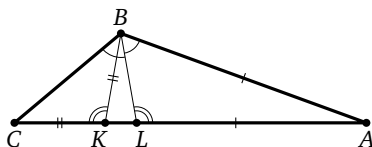


Рис. 98

Тогда треугольник CKB равнобедренный ($CK = KB$). Поскольку $\angle LKB = \angle KLB = 80^\circ$, треугольник LKB равнобедренный ($BK = BL$). Поскольку $\angle ABK = \angle BKA = 80^\circ$, треугольник ABK тоже равнобедренный ($AB = AK$). Итак,

$$AC - AB = AC - AK = CK = KB = BL = 2.$$

7Г4. 15° . РЕШЕНИЕ. Проведём высоту CH (см. рис. 99). Поскольку $\angle HBC = \angle HCB = 45^\circ$, треугольник HBC равнобедренный ($HB = HC$). Треугольник AHC прямоугольный с углом $\angle HCA = 30^\circ$, поэтому $HA = \frac{1}{2}AC = AK$. Значит, треугольник AHK равнобедренный, и

$$\angle ANK = \angle AKH = \frac{1}{2}\angle HAC = 30^\circ.$$

Поскольку $\angle SKH = \angle HCK = 30^\circ$, треугольник HCK равнобедренный, $HK = HC$. Тогда $HK = HB$, т. е. и треугольник HCK равнобедренный, откуда

$$\angle ABK = \angle HBK = \frac{1}{2}\angle ANK = 15^\circ.$$

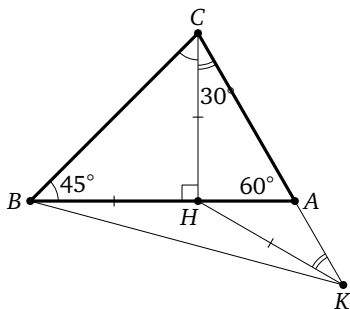


Рис. 99

7Г5. 60° . РЕШЕНИЕ. Обозначим $\angle BAC = \angle ADB = x$, $\angle ABD = y$, $\angle BAD = z$. Тогда $x + y + z = 180^\circ$. Пусть E — такая точка, что $ACDE$ — параллелограмм, а прямые DE и AB пересекаются в точке K (см.

рис. 100). Ввиду параллельности AC и ED получаем

$$\angle BKD = \angle BAC = x.$$

В треугольнике BKD имеем $\angle B = y$, $\angle K = x$, значит, $\angle D = z$,

$$\begin{aligned} \angle AED + \angle ABD &= \\ &= \angle ACD + (\angle CAD + \angle ADC) = 180^\circ, \end{aligned}$$

т. е. $ABDE$ — вписанный четырёхугольник. Следовательно,

$$\angle BED = \angle BAD = z.$$

Но треугольник BED равнобедренный ($DE = AC = BD$), поэтому и $\angle DBE = z$. Значит, BED — равносторонний треугольник, и $z = 60^\circ$.

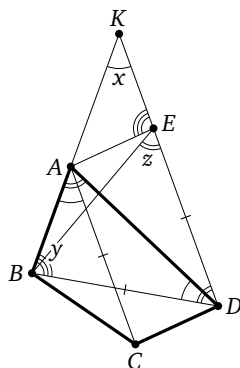


Рис. 100

Турниры

7Т1. 16. РЕШЕНИЕ. Каждый, кроме победителя, проиграл ровно один бой. Все участники третьего круга (и только они) выиграли не меньше двух боёв. Таких участников $64 : 4 = 16$.

7Т2. 24. РЕШЕНИЕ. 4 «аутсайдера» только в 6 матчах между собой набрали не меньше 12 очков, а победитель за 4 матча — не больше 12. Поэтому единственный вариант: победитель выиграл у всех соперников, а остальные сыграли между собой вничью.

7Т3. 9. РЕШЕНИЕ. Пусть было n семиклассников и $2n$ шестиклассников. Число побед семиклассников относится к числу побед шестиклассников как 7 : 5, значит, общее число игр $\frac{3n(3n-1)}{2}$ делится на 12. Отсюда $n \geq 3$. Семиклассники одержали $\frac{1}{2}n(n-1)$ побед во встречах между собой и не более $2n^2$ побед над шестиклассниками (равенство — если ни один шестиклассник не выиграл у семиклассника). Поэтому $\frac{1}{2}n(n-1) + 2n^2 \geq \frac{7}{5}n(2n-1)$. Упрощая, получим $9n \geq 3n^2$, т. е. $n \leq 3$. Следовательно, $n = 3$.

7Т4. 12. РЕШЕНИЕ. Пусть команд n . В среднем команды набрали по $n-1$ очку. По условию среднее больше 10, но меньше 12 (это ясно видно, если победитель подарит по очку двум последним). Значит, $n-1 = 11$.

7Т5. 7. РЕШЕНИЕ. Максимальное число очков — 11. 70 % от него — 7,7. Значит, «успешный» (удовлетворяющий условию) участник должен набрать не меньше 8 очков. Всего сыграно 66 партий, т. е. разыграно 66 очков. Поэтому «успешных» участников не больше 8. Но и 8 их быть не может: оставшиеся 4 участника в партиях между собой наберут 6 очков, а $66 - 6 < 8 \cdot 8$. Семь «успешных» участников возможны: например, каждый из них выиграет у пяти «неуспешных», а с шестью «успешными» сыграет вничью.

Комбинаторика

7К1. 1, 5 или 9. РЕШЕНИЕ. Сумма всех девяти данных чисел равна 45. Выкинув из них число, стоящее в центре, мы должны получить 4 пары чисел с равной суммой. Значит, сумма восьми оставшихся чисел кратна 4, т. е. выброшенное число при делении на 4 должно давать остаток 1. Итак, в центр можно поставить только 1, 5 или 9. Нетрудно проверить, что в любом из этих случаев мы действительно получим 4 пары с равной суммой, группируя наибольшее из оставшихся чисел с наименьшим, второе по величине с предпоследним и т. д.

7К2. 10. РЕШЕНИЕ. Обозначив солдат 1, 2, 3, 4 по возрастанию роста и перебрав все 24 варианта расположения, видим, что подходят только 1324, 1423, 2143, 2341, 2413 и симметричные им.

7К3. 35. РЕШЕНИЕ. Общее число «разнополых» рукопожатий в 6 раз больше числа мальчиков и в 8 — числа девочек. Значит, число мальчиков относится к числу девочек как 4 : 3. Пусть мальчиков $4n$, а девочек — $3n$. Тогда число «разнополых» рукопожатий равно $24n$, а остальных — $8 \cdot 4n : 2 + 6 \cdot 3n : 2 = 25n$. Отсюда $n = 5$.

7К4. 16. РЕШЕНИЕ. Состояние каждой лампочки определяется чётностью количества переключений содержащих её квадратов 2×2 . С другой стороны, чётность переключения каждого квадрата определяется состоянием единственной входящей в него угловой лампочки. Очевидно, каждая из угловых лампочек может находиться в любом из двух состояний независимо от других угловых лампочек. Поэтому общее число комбинаций равно 2^4 .

7К5. 26. РЕШЕНИЕ. Можно считать, что количество задач растёт с номером курса. Тогда студенты первого курса придумали не менее одной задачи, второго — не менее двух, и т. д. Взяв по одному студенту с каждого курса, мы уже получим не менее $1 + 2 + \dots + 5 = 15$

задач. На остальных 25 студентов остаётся не более $40 - 15 = 25$ задач. Значит, все они придумали по одной задаче.

Процессы

7П1. 2 рубля. РЕШЕНИЕ. Оценка. Первый штраф придётся заплатить сразу: 97 — число нечётное. Если при этом отделится кучка из нечётного числа орехов, большего 1, то придётся ещё раз заплатить штраф при её делении на две. Если отделится один орех, то во второй кучке останется 96 орехов. Поскольку это не степень двойки, когда-нибудь придётся заплатить ещё один штраф.

ПРИМЕР. Делим кучку на 96 и 1, затем большую кучку на 64 и 32. Далее делим каждый раз пополам, и платить штраф уже не придётся.

7П2. 995 и 1007. РЕШЕНИЕ. Исходные числа образуют арифметическую прогрессию с разностью 6. Нетрудно проверить, что это свойство — инвариант: из тройки $(n - 6, n, n + 6)$ получается либо она сама, либо одна из троек $(n - 12, n - 6, n)$, $(n, n + 6, n + 12)$.

7П3. 11. РЕШЕНИЕ. При одном разрезании число многоугольников увеличивается на 1, а общее число вершин — на 2 (если разрез прошёл через две вершины), 3 (если разрез прошёл через одну вершину) или 4 (если разрез не задел вершин). Поэтому всего разрезов было 7, а общее число вершин полученных в результате многоугольников — от $67 + 7 \cdot 2 = 81$ до $67 + 7 \cdot 4 = 95$. В этом промежутке только число 88 делится на 8.

7П4. 38. РЕШЕНИЕ. Пусть было x обменов первого типа и y — второго. В первом случае число бутылок уменьшается на 4, во втором — на 9. Поэтому $4x + 9y = 59$. Нетрудно проверить, что единственное решение этого уравнения в целых неотрицательных числах: $x = 8$, $y = 3$. Значит, было обменено 40 молочных бутылок, и одна осталась; из них три возникли в процессе обмена, поэтому найдено было $40 + 1 - 3 = 38$.

7П5. 9 секунд. РЕШЕНИЕ. ПРИМЕР.

$$1 \rightarrow 7 \rightarrow 49 \rightarrow 343 = 64 + 279 \rightarrow 64 + 7 \cdot 279 = \\ = 2017 \rightarrow 2016 \rightarrow 2015 \rightarrow 2014 \rightarrow 2013 \rightarrow 2012.$$

Оценка. При делении одной бактерии число бактерий увеличивается на 6, поэтому, пока бактерии не гибнут, их количество по модулю 6 не меняется. Необходимо минимум 4 деления, иначе общее

число бактерий будет не больше чем $7^3 < 2012$. Чтобы из остатка 1 сделать остаток 2, необходимо не менее 5 смертей бактерий, итого не менее $4 + 5$ секунд.

8 класс

Алгебра

8Ал1. {2, 11, 13}, {3, 7, 11}. РЕШЕНИЕ. Так как произведение делится на 11, одно из чисел — 11. Для двух остальных получаем уравнение $p + q + 11 = pq$ или $(p - 1)(q - 1) = 12$. Перебирая разложения числа 12 на положительные множители, получаем ответ.

8Ал2. 3. РЕШЕНИЕ. Пусть 2^n и 5^n начинаются на цифру a . Это значит, что $a \cdot 10^k < 2^n < (a + 1) \cdot 10^k$ (равенство $a \cdot 10^k = 2^n$ невозможно, поскольку 2^n не делится на 10), $a \cdot 10^m < 5^n < (a + 1) \cdot 10^m$, откуда $a^2 \cdot 10^{k+m} < 10^n < (a + 1)^2 \cdot 10^{k+m}$, $a^2 < 10^l < (a + 1)^2$ (здесь k, l, m, n — натуральные числа). Следовательно, числа a^2 и $(a + 1)^2$ состоят из *разного числа знаков*. Такое верно только для $a = 3$ и $a = 9$, но второй случай, очевидно, не подходит. Первый случай возможен: $2^5 = 32$, $5^5 = 3125$.

8Ал3. 3. РЕШЕНИЕ. Задача равносильна такой: какое наибольшее число из точек $A(2; 3)$, $B(3; 6)$, $C(5; 5)$, $D(7; 4)$, $E(8; 7)$ лежат на одной прямой $ax + by = 1$? Нарисовав эти точки на координатной плоскости, видим, что $ABED$ — параллелограмм с центром в C . Значит, есть две прямые (диагонали параллелограмма), содержащие по три из данных точек, и нет прямых, содержащих четыре точки.

8Ал4. 12 и 13. РЕШЕНИЕ. Пусть $f(11) = p$, $f(q) = 0$, где числа p и q просты. Тогда $p = f(11) - f(q)$ делится на $11 - q$. Случай $q = 2$, очевидно, не подходит, значит, q нечётно. Но тогда p чётно, т. е. $p = 2$, а $q = 13$. Записав $f(x)$ в виде $(x - 13)(x - u)$, получим

$$-2(11 - u) = f(11) = 2, \quad \text{т. е. } 11 - u = -1, \quad u = 12.$$

8Ал5. $a = \pm 4 - \sqrt{15}$. РЕШЕНИЕ. Пусть $a + \sqrt{15} = n$ — целое число. Тогда

$$\frac{1}{a} - \sqrt{15} = \frac{1}{n - \sqrt{15}} - \sqrt{15} = \frac{n + \sqrt{15}}{n^2 - 15} - \sqrt{15}.$$

Умножив его на $n^2 - 15$, мы должны получить целое число

$$n + \sqrt{15} - (n^2 - 15)\sqrt{15} = n - (n^2 - 16)\sqrt{15}.$$

Но если n^2 отлично от 16, то это число иррационально. Поэтому $n = \pm 4$.

Геометрия

8Г1. 90. РЕШЕНИЕ. Пусть кузнечик сидит в вершине угла AOB , где точки A и B расположены «достаточно далеко», а $OC_1C_2C_3\dots$ — его траектория (C_1, C_3, C_5, \dots расположены на OA , а C_2, C_4, C_6, \dots — на OB). Тогда $\angle AC_1C_2 = 2^\circ$ (как внешний к равнобедренному треугольнику OC_1C_2), $\angle BC_2C_3 = 3^\circ$ (как внешний к треугольнику OC_2C_3), $\angle AC_3C_4 = 4^\circ, \dots, \angle AC_{89}C_{90} = 90^\circ$. Дальше прыгать некуда.

8Г2. $\sqrt{a^2 + 3b^2}$. РЕШЕНИЕ. Легко видеть, что большее основание равно $2b$, а меньшая боковая сторона равна $\sqrt{a^2 - b^2}$. Следовательно, искомая диагональ равна

$$\sqrt{a^2 - b^2 + 4b^2} = \sqrt{a^2 + 3b^2}.$$

8Г3. 60°. РЕШЕНИЕ. Пусть точка O симметрична A относительно BE . Легко убедиться, что O лежит внутри угла DBE и $\angle OBD = \angle CBD$. Поскольку ещё $BO = BC$, точка O симметрична C относительно BD . Поэтому $ABOE$ и $CBOD$ — ромбы, а O — центр описанной окружности треугольника DBE . Поскольку треугольник DOE равносторонний, центральный угол DOE равен 60° , а соответствующий вписанный угол DBE равен 30° .

8Г4. 45°. РЕШЕНИЕ. Заметим, что $\angle CBD < \angle ADB = 45^\circ$, поэтому угол B острый. Опустим перпендикуляр AK на BD . Точки H и K лежат на окружности с диаметром AB , поэтому хорды AK и HK , на которые опираются равные вписанные углы, равны. Итак, $DK = AK = HK$, т. е. K — центр описанной окружности треугольника ADH . Поэтому

$$\angle AHD = \frac{1}{2}\angle AKD = 45^\circ, \quad \text{а} \quad \angle CHD = 180^\circ - (\angle AHB + \angle AHD) = 45^\circ.$$

8Г5. 36°, 36°, 108° или 20°, 40°, 120°. РЕШЕНИЕ. Пусть отрезок BX разрезает треугольник ABC на два равнобедренных треугольника: ABX и BCX . В одном из них угол с вершиной X не острый, значит, X лежит на серединном перпендикуляре к противоположной стороне (AB или BC). Но по условию способов разбить — два, значит, в них серединные перпендикуляры проводятся к разным сторонам и пересекают сторону AC в двух разных точках (серединный перпендикуляр к AB — в точке K , к BC — в точке L). Обозначим $\angle A = \alpha$, $\angle C = \gamma$, $\alpha \leq \gamma$. В треугольнике ABK имеем $\angle KBA = \alpha$, поэтому $\angle BKC = 2\alpha$. В треугольнике BCK сторона BC не основание (иначе $K = L$). Ес-

ли основание — BK , то $\gamma = 180^\circ - 4\alpha$, а если CK , то $\gamma = 2\alpha$. Аналогично, рассматривая треугольник ABL , получаем, что $\alpha = 180^\circ - 4\gamma$ (α не может равняться 2γ , поскольку $\alpha \leq \gamma$). Из системы уравнений $\gamma = 180^\circ - 4\alpha$, $\alpha = 180^\circ - 4\gamma$ следует, что $\alpha = \gamma = 36^\circ$, $\angle B = 108^\circ$. Второй случай: $\gamma = 2\alpha$, $\alpha = 180^\circ - 4\gamma$, откуда $\alpha = 20^\circ$, $\gamma = 40^\circ$, $\angle B = 120^\circ$.

Арифметика

8Ap1. 1 или 20. РЕШЕНИЕ. Сумма всех 20 чисел (210) при делении на 19 даёт остаток 1. Сумма оставшихся 19 чисел должна делиться на 19, поэтому стереть можно только 1 или 20. В обоих случаях среднее арифметическое (11 и 10 соответственно) находится среди оставшихся чисел.

8Ap2. На третий. РЕШЕНИЕ. $333 = 9 \cdot 37 = 10 \cdot 33 + 3$. Поэтому квартир в подъезде меньше 37, но больше 33. В этом промежутке только 36 делится на 9. Значит, в подъезде 36 квартир, а на этаже — 4. Так как $333 = 9 \cdot 36 + 2 \cdot 4 + 1$, квартира 333 находится на третьем этаже.

8Ap3. 6, 7, 9, 13. РЕШЕНИЕ. Имеем $(A + C) + (B + D) = (A + D) + (B + C)$. Среди чисел второго набора равные суммы имеют только пары $\{13, 22\}$ и $\{15, 20\}$. Значит, $A + B = 16$, $A + B + C + D = 35$. Числа A и B (C и D) входят во второй набор симметрично, поэтому можно считать, что $A \leq B$, $C \leq D$. Кроме того,

$$(B + D) - (A + D) = (B + C) - (A + C) = B - A,$$

а это число чётно (так как $A + B$ чётно). Значит, последнее равенство расширяруется однозначно: $22 - 20 = 15 - 13 = 2$. Отсюда $A = 7$, $B = 9$, $C = 6$, $D = 13$.

8Ap4. 31,63\$. РЕШЕНИЕ. Пусть чек был выписан на d долларов и c центов. По условию $100c + d - 5 = 2(100d + c)$. Перепишем уравнение в виде $98(c - 2d) = 3d + 5$. По условию $0 \leq d < c < 100$, поэтому $5 \leq 3d + 5 \leq 300$, откуда $1 \leq c - 2d \leq 3$. Правая часть даёт остаток 2 при делении на 3, и это возможно только при $c - 2d = 1$. Отсюда $3d + 5 = 98$ и $d = 31$, $c = 63$.

8Ap5. 1500 динаров. РЕШЕНИЕ. Сундук ограничивает объём драгоценностей. Давайте назовём 1% объёма сундука мерой. Тогда одна мера золота весит 1 кг, а мера алмазов — 0,2 кг. За меру золота Али-Баба получит 20 динаров, а за меру алмазов — 12 динаров. Заметим, что при постоянном весе ему выгоднее брать алмазы (при равных весах алмазы дороже), а при постоянном объёме — выгод-

нее золото (при равных объёмах золото дороже). Набъём сундук целиком, взяв часть золотом, а часть алмазами. Пусть взято z кг золота и a кг алмазов так, что $z + a = 50$ (полный вес) и $z + 5a = 100$ (полный объём). Решив систему, найдём $a = 12,5$, $z = 37,5$. При таком раскладе Али-Баба получит $20 \cdot 37,5 + 60 \cdot 12,5 = 1500$ динаров. А больше он получить не сможет. Если он возьмёт больше золота, то как минимум на столько же придётся уменьшить вес алмазов, а это невыгодно. А если он возьмёт больше алмазов, то как минимум на столько же придётся уменьшить объём золота, а это тоже невыгодно!

Комбинаторика

8К1. 242. РЕШЕНИЕ. Будем считать все числа трёхзначными, дописывая при необходимости спереди один или два нуля. На первое место можно поставить любую из 9 цифр, отличных от 3, на второе — тоже, а на третье — любую из 3 цифр, имеющую нужный остаток от деления на 3. Всего $3^5 = 243$ числа. Но при этом мы сосчитали «лишнее» число 000.

8К2. 300. РЕШЕНИЕ. Каждая пара камней вначале была в одной кучке, а разойдясь по разным кучкам, уже не объединялась. Заметим, что после каждого деления на две кучки мы фактически выписываем число пар камней, *впервые* оказавшихся в разных кучках. Значит, каждая пара будет в итоговой сумме учтена ровно один раз, и сумма равна общему числу пар, т. е. $25 \cdot 24 : 2 = 300$.

8К3. 30. ПЕРВОЕ РЕШЕНИЕ. Предположим, что процедура окраски куба происходит следующим образом: непокрашенный куб устанавливается в станок в некоторое фиксированное положение, а затем последовательно красятся его грани в определённом порядке. Таких способов столько же, сколько перестановок 6 цветов, т. е. $6!$. Но установить куб в фиксированное положение можно 24 различными способами: куб можно поставить на любую из шести граней и затем повернуть вокруг вертикальной оси одним из четырёх способов. Поэтому *геометрически* различных раскрасок в 24 раза меньше, т. е. $6! : 24 = 30$.

ВТОРОЕ РЕШЕНИЕ. Куб всегда можно повернуть гранью нужного (скажем, белого) цвета вниз, поэтому можно считать, что всегда в белый цвет красится именно нижняя грань. После этого у нас есть пять способов выбрать цвет для противоположной грани. Из оставшихся четырёх цветов зафиксируем один и окрасим в него

переднюю грань (другие варианты окраски передней грани можно не рассматривать, поскольку всегда можно повернуть куб вокруг вертикальной оси в такое положение). Остаётся $3!$ вариантов для окраски трёх остальных граней. Всего получаем $5 \cdot 3! = 30$ способов.

8К4. 25 и 21. РЕШЕНИЕ. Если у игрока И оказалось x оригинальных слов, y слов по 1 очку и z вычеркнутых, то будем называть тройку (x, y, z) набором И или писать коротко $I(x, y, z)$. Такой набор даёт $3x + y$ очков. Пусть среди игроков А, Б, В меньше всех очков у А, больше всех у В. Поскольку $x + y \leq 10$, у А может быть 19 очков только при $A(6, 1, 3)$ или $A(5, 4, 1)$. Но при $A(6, 1, 3)$ у всех вычеркнуто по 3 слова; тогда больше очков, чем А, можно набрать только за набор $(7, 0, 3)$, однако у Б и В наборы разные. Значит, $A(5, 4, 1)$, поэтому у Б и В по слову вычеркнуто, и четыре их слова — общие одноочковые с А. Эти четыре слова между Б и В распределены не поровну (иначе их наборы совпадают), значит, у Б их больше половины. Но у Б менее четырёх одноочковых слов, иначе набор Б был бы не лучше $(5, 4, 1)$, т. е. у Б было бы не более 19 очков. Тем самым у Б три одноочковых слова (и все они — общие с А), поэтому у В одно одноочковое слово, общее с А, а других таких слов нет. Итак, $B(6, 3, 1)$ — это 21 очко, $B(8, 1, 1)$ — это 25 очков.

8К5. 342. РЕШЕНИЕ. Пусть a_n — число способов вернуться за n прыжков в исходную вершину, а b_n — число способов попасть за n прыжков в соседнюю вершину. Легко видеть, что $a_{n+1} = 2b_n$ ($(n+1)$ -м прыжком возвращаемся в исходную вершину из одной из соседних), $b_{n+1} = a_n + b_n$ ($(n+1)$ -м прыжком попадаем в соседнюю вершину из исходной либо из другой соседней). Отсюда нетрудно вывести, что $b_{n+2} = b_{n+1} + 2b_n$, $a_{n+2} = a_{n+1} + 2a_n$. Из начальных условий $a_0 = 1$, $a_1 = 0$ получаем $a_2 = 2$, $a_3 = 2$, $a_4 = 6$, $a_5 = 10$, $a_6 = 22$, $a_7 = 42$, $a_8 = 86$, $a_9 = 170$, $a_{10} = 342$.

Замечание. По индукции нетрудно вывести и общую формулу:

$$a_n = \frac{2^n + 2 \cdot (-1)^n}{3}.$$

Минимум и максимум

8М1. 8. РЕШЕНИЕ. ПРИМЕР. $\frac{12}{6}, \frac{14}{7}, \frac{16}{8}, \frac{18}{9}, \frac{4}{1}, \frac{20}{5}, \frac{10}{2}, \frac{15}{3}, \frac{11}{13}, \frac{17}{19}$.

Оценка. Числа 11, 13, 17, 19 не могут стоять в знаменателе дроби, имеющей целое значение, а если стоят в числителе, то в знаменателе может быть только 1. Таким образом, хотя бы три из этих чисел находятся в «плохих» дробях. Значит, таких дробей не меньше двух.

8M2. 503. РЕШЕНИЕ. При одном разрезании общее число вершин многоугольника увеличивается на 2, 3 или 4 (см. задачу 7П3). Нам надо увеличить число вершин на 2009, поэтому 502 разрезания недостаточно. За 503 разреза это сделать легко: 500 разрезов, добавляющих по четыре вершины, и три разреза, добавляющих по три вершины.

8M3. 82 сольдо. ПЕРВОЕ РЕШЕНИЕ. Если курточка стоит больше $82 = 7 \cdot 8 + 2 \cdot 13$ сольдо, то среди отданных за неё монет есть либо 8 монет по 8 сольдо (и тогда их можно заменить на 5 монет по 13 сольдо, увеличив стоимость на 1), либо 3 монеты по 13 сольдо (и тогда их можно заменить на 5 по 8 сольдо). Поэтому больше 82 сольдо курточка стоить не могла. Осталось проверить, что 83 сольдо нельзя выплатить монетами по 8 и 13. Это можно сделать перебором, вычитая по 13 и проверяя, что разность не делится на 8.

ВТОРОЕ РЕШЕНИЕ. Указанными монетами можно уплатить любую стоимость

кратную 8;

вида $8n + 5$ начиная с 13;

вида $8n + 2$ начиная с 26;

вида $8n + 7$ начиная с 39;

вида $8n + 4$ начиная с 52;

вида $8n + 1$ начиная с 65;

вида $8n + 6$ начиная с 78;

вида $8n + 3$ начиная с 91.

«Дальше всего» начинается последний набор чисел. Поэтому $83 = 91 - 8$ — наибольшая стоимость, которую оплатить нельзя. А 82 из третьего набора — можно. Отсюда ответ.

8M4. 97. РЕШЕНИЕ. ПРИМЕР. Построим набор со средними числами k от 2 до 98. Достаточно взять 50 гирек веса 1, гирьки весов 101, 102, ..., 149 и гирию весом $A = 50 \cdot 1 + 101 + 102 + \dots + 148 - 149$. Ясно, что

$$A + 149 = 50 \cdot 1 + 101 + 102 + \dots + 148 = S,$$

что даёт нам $k = 2$ и $k = 98$. Для k от 3 до 50 подходит набор из A , гирьки веса $151 - k$ и $k - 2$ гирек веса 1. А остальные гирьки образуют набор для $100 - k$.

Оценка. Гири 1 и 99 могут быть средними только одновременно: это значит, что в наборе есть гирия веса S , а остальные 99 гирь

вместе тоже весят S . Но тогда вес любого другого набора отличается от S : если в нём есть гиря S , то он тяжелее S , а если нет — то легче. Если же 1 и 99 не средние, то средних не больше 97: от 2 до 98.

8М5. 11 рублей. РЕШЕНИЕ. Докажем по индукции, что при $n \geq 2$ для угадывания одного из данных $N \leq F_{n+1}$ предметов достаточно n рублей, а если предметов больше, то n рублей недостаточно (F_1, F_2, \dots — последовательность чисел Фибоначчи). База ($n = 2, 3$) легко проверяется: для угадывания одного предмета из двух нужно 2 рубля, из трёх — 3 рубля, из четырёх — 4 рубля.

Шаг индукции. Разделим группу из $N \leq F_{n+1} = F_n + F_{n-1}$ предметов на две части: из $N_1 \leq F_n$ и $N_2 \leq F_{n-1}$ предметов — и спросим про меньшую из них. При положительном ответе по предположению индукции достаточно $2 + (n - 2) = n$, а при отрицательном — $1 + (n - 1) = n$ рублей. С другой стороны, если $N > F_{n+1}$, то либо в группе, про которую спрашивают, больше F_{n-1} предметов, либо в оставшейся группе больше F_n предметов, и при невезении n рублей не хватит. Поскольку $144 = F_{12}$, нужно 11 рублей.

9 класс

Последовательности

9П1. 37. РЕШЕНИЕ. Пусть Олег съест конфеты за n дней, начав с a конфет. Суммируя арифметическую прогрессию с разностью 1, получим $n(2a + n - 1) : 2 = 777$, откуда

$$n(2a + n - 1) = 1554 = 2 \cdot 3 \cdot 7 \cdot 37.$$

В левой части первый сомножитель меньше второго, поэтому максимальное n достигается при разложении $37 \cdot 42$, т. е. $n = 37$, $a = 3$.

9П2. 4. РЕШЕНИЕ. ПРИМЕР. 4, 10, 6, 9, 3, 8, 5, 7, 2, 1.

ОЦЕНКА. Отмеченные числа не могут стоять рядом, поэтому их не больше пяти. Если их ровно пять, то они стоят через одно. Тогда их сумма в два раза больше суммы неотмеченных чисел, поэтому сумма всех чисел кратна 3. Но это не так: сумма всех чисел равна 55.

9П3. 74. РЕШЕНИЕ. Пусть a — первый член прогрессии, q — знаменатель геометрической прогрессии, а d — разность арифметической прогрессии. По условию

$$aq = a + d, \quad aq^2 = a + 9d,$$

т. е. $a(q - 1) = d$, $a(q^2 - 1) = 9d$. Разделив одно из уравнений на другое, получим $q + 1 = 9$. Отсюда $q = 8$, $d = 7a$, и из формулы n -го члена

$a + (n - 1)d = aq^3$ находим

$$n = 1 + \frac{aq^3 - a}{d} = 1 + \frac{512a - a}{7a} = 74.$$

9П4. 8. РЕШЕНИЕ. Занумеруем «население» по порядку числами от 0 до 19. Тогда слонов получают люди с номерами, равными остатку при делении на 20 чисел вида $0 + 1 + 2 + \dots + n$. Первые 6 остатков — это 0, 1, 3, 6, 10, 15. Рассмотрим их остатки при делении на 5: 0, 1, 3, 1, 0, 0. Заметим, что по модулю 5 дальше мы опять будем увеличивать сумму последовательно на числа 1, 2, 3, 4, 0, значит, получим опять ту же группу остатков 1, 3, 1, 0, 0 и в том же порядке. Итак, заведомо не получают слонов те, номера которых дают остатки 2 и 4 по модулю 5, т. е. 8 человек с номерами 2, 4, 7, 9, 12, 14, 17, 19. Легко проверить, что первые 18 слонов будут розданы номерам 0, 1, 3, 6, 10, 15, 1, 8, 16, 5, 15, 6, 18, 11, 5, 0, 16, 13, т. е. остальные 12 явившихся слонов получают.

9П5. 4,5 кг. РЕШЕНИЕ. Пусть p_{n-1} — вес n -го арбуза (в кг). По условию $p_n = \frac{1}{2}(p_{n-1} + p_{n+1}) - 0,2$, что равносильно рекуррентному соотношению $p_{n+1} = 2p_n - p_{n-1} + 0,4$. Положим $b = p_1 - 6,2$ и докажем индукцией по n явную формулу $p_n = 0,2n^2 + bn + 6$.

База для $n = 0$ и 1 проверяется непосредственной подстановкой.

Шаг индукции. Имеем

$$\begin{aligned} p_{n+1} &= 2(0,2n^2 + bn + 6) + 0,2(n - 1)^2 + b(n - 1) + 6 + 0,4 = \\ &= 0,2n^2 + (b + 0,4)n + (b + 6 + 0,2) = 0,2(n + 1)^2 + b(n + 1) + 6. \end{aligned}$$

Теперь из условия $p_{11} = 11,5$ получаем $b = -1,7$. Отсюда

$$p_1 = -1,7 + 6,2 = 4,5.$$

Замечание. Конечно, мы схитрили, не рассказывая, откуда взялась формула. При поиске решения можно заметить, что

$$p_{n+1} - p_n = p_n - p_{n-1} + 0,4,$$

т. е. разности между соседними арбузами образуют арифметическую прогрессию. Тогда разность между n -м и первым арбузом будет суммой прогрессии, т. е. квадратично зависит от n . Далее мы пишем эту квадратичную зависимость с неопределёнными коэффициентами и находим их.

Геометрия

9Г1. 11 или 25. РЕШЕНИЕ. Проекции первых двух сторон на третью равны $\sqrt{25^2 - 24^2} = 7$ и $\sqrt{30^2 - 24^2} = \sqrt{6 \cdot 54} = 18$. А сама сторона равна сумме или разности этих проекций.

9Г2. 2 : 3. РЕШЕНИЕ. Рассмотрим точку M' , симметричную M относительно AC . Периметр треугольника PMN равен $MN + NP + PM'$ и будет наименьшим, когда P лежит на отрезке NM' , т. е. когда $\angle APM = \angle CPN$. При этом треугольники APM и CPN подобны с коэффициентом подобия $AM : CN = 2 : 3$.

9Г3. $|b - a|$. РЕШЕНИЕ. Треугольники ACD и MCB подобны по двум углам, поэтому $CA : CM = CD : CB$. С другой стороны,

$$CP \cdot CA = CD \cdot CM = CA \cdot CB.$$

Следовательно, $CP = CB = a$.

9Г4. $3\frac{3}{8}$. РЕШЕНИЕ. Имеем $\angle BNA = \angle DAN = \angle BAN$, значит, $BN = BA = 6$, $BC = 6 + 4 = 10$. Высоты подобных треугольников BMN и DMA относятся как $BN : AD = 3 : 5$. Следовательно,

$$S_{MBN} = \frac{3}{8}S_{ABN} = \frac{3}{8} \cdot \frac{1}{2} \cdot 6 \cdot 3 = \frac{27}{8}.$$

9Г5. 30° . РЕШЕНИЕ. Пусть F — точка пересечения прямой BD с описанной окружностью треугольника ABC . Вписанные углы AFB и CFB равны, так как опираются на дуги, стянутые равными хордами. Если F не совпадает с D , то треугольники AFD и CFD равны по двум углам и общей стороне, но тогда равны и треугольники AFB и CFB , откуда BD — серединный перпендикуляр к отрезку AC , что не так. Значит, D совпадает с F , $\angle ADB = \frac{1}{2}\angle ADC = \frac{1}{2}(180^\circ - 100^\circ) = 40^\circ$, а $\angle CAD = 70^\circ - 40^\circ = 30^\circ$.

Алгебра

9А1. 10. РЕШЕНИЕ. При делении n на числа, большие $\frac{n}{2}$, получатся всевозможные остатки, меньшие $\frac{n}{2}$. Если $n > 10$, то $n = 2m$ или $2m - 1$, где $m \geq 6$. Тогда уже 4 наибольших остатка дают сумму

$$\begin{aligned} (m-1) + (m-2) + (m-3) + (m-4) &= 4m - 10 = \\ &= (2m - 12) + (2m + 2) \geq 2m + 2 > n. \end{aligned}$$

Следовательно, $n \leq 10$. Проверка показывает, что подходит только $n = 10$.

9А2. 1. РЕШЕНИЕ. Так как $a^2 + b^2 = a + b - ab$, получаем

$$a^2 + b^2 = 2(a + b - ab - (a^2 + b^2)) = 1 - (a + b - 1)^2 \leq 1.$$

При $a = 1, b = 0$ исходное равенство выполнено, а $a^2 + b^2 = 1$.

9А3. (4, 6), (6, 4), (3, 6), (6, 3), (4, 4). РЕШЕНИЕ. Заметим, что $d = \text{НОД}(x, y) > 1$. С другой стороны, дробь $\frac{1}{d}$ самая большая из четырёх. Значит, она не меньше $\frac{1}{4}$, т. е. $d \leq 4$. Пусть $x = du, y = dv$. Тогда u и v взаимно просты и $\text{НОК}(x, y) = div$. Подставив это равенство в исходное уравнение и домножив на div , получим $v + u + 1 + div = d$, т. е. $(d - 1)uv + u + v + 1 = 0$. Домножив на $d - 1$, преобразуем уравнение к виду $((d - 1)u + 1)((d - 1)v + 1) = d$. Можно считать, что $u \leq v$.

Разберём три случая:

1) $d = 2$, тогда $(u - 1)(v - 1) = 2$, откуда получаем $u = 2, v = 3$, что даёт первый ответ;

2) $d = 3$, тогда $(2u - 1)(2v - 1) = 3$, откуда получаем второй ответ;

3) $d = 4$, тогда $(3u - 1)(3v - 1) = 4$, откуда получаем третий ответ.

9А4. (0, 0), $(-\frac{1}{2}, -\frac{1}{2})$, (1, -2). РЕШЕНИЕ. Если $a = b$, то $2a^2 + a = 0$, откуда получаем два первых ответа.

В противном случае по формулам Виета $ab = b, a + b = -a$. Если $b = 0$, то и $a = 0$. Иначе $a = 1, b = -2$.

9А5. 4, 10. РЕШЕНИЕ. При нечётном n число 2^n оканчивается на 2 или 8, а данная сумма — на 7 или 3, т. е. не может быть квадратом. Пусть $2^{2k} + 65 = m^2$. Тогда

$$(m - 2^k)(m + 2^k) = 65 = 1 \cdot 65 = 5 \cdot 13.$$

Число 2^k равно полуразности двух множителей левой части, т. е. либо 32, либо 4.

Комбинаторная геометрия

9КГ1. 81. УКАЗАНИЕ. В верхнем, нижнем и среднем слоях осталось по 21 кубик (как на рис. 101), в остальных двух — по 9.

9КГ2. 201. ПРИМЕР. Рассмотрим вершины правильного 201-угольника. Они делят окружность на 201 равную дугу длины a , а каждая хорда стягивает




Рис. 101

дугу длины ka , где $k = 1, 2, \dots, 100$. Поэтому разных длин хорд ровно 100.

Оценка. Если точек не менее 202, то разделим окружность пополам, проведя диаметр через какую-нибудь отмеченную точку A . На одной из полуокружностей лежит, кроме A , не менее 101 точки. Соединив 101 из них с A , получим 101 хорду, стягивающую 101 дугу различной длины. Значит, и длины хорд различны.

9КГЗ. 238. РЕШЕНИЕ. Пусть есть треугольник ABC , где C — вершина прямого угла, а катет AC перпендикулярен длинной стороне прямоугольника или образует с ней не меньший острый угол, чем катет BC . Катеты треугольника могут быть 1) параллельны сторонам прямоугольника; 2) образовывать с ними угол 45° ; 3) образовывать другой угол; тогда AC служит гипотенузой вспомогательного треугольника с катетами на линиях сетки, и это может быть лишь треугольник с катетами 2 и 1 (высота не больше 2, а тангенс больше 1).

1. Любой такой треугольник можно получить так: выбрать вертикаль, на ней пару вершин A и B (это можно сделать $6 \cdot 3 = 18$ способами); теперь вершину C можно выбрать 10 способами (столько свободных точек осталось на горизонталях, где лежат две уже выбранные вершины). Соответственно получается $18 \cdot 10 = 180$ треугольников данного типа.

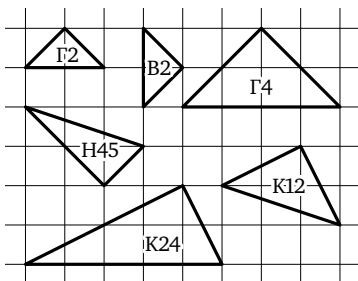


Рис. 102

2. Длина катета может быть $\sqrt{2}$ или $2\sqrt{2}$. Катеты равны или отличаются в 2 раза (тип Н45, см. рис. 102). При равенстве гипотенуза треугольника горизонтальна и имеет длину 2 или 4 (типы Г2 и Г4) или вертикальна длины 2 (тип В2). В половине треугольников типа Г2 вершина прямого угла C лежит ниже гипотенузы, и тогда

для неё есть по 4 положения на верхней и средней горизонталях (все точки, кроме крайней правой и крайней левой); итого имеется $2 \cdot 2 \cdot 4 = 16$ треугольников типа Г2. Аналогично есть $2 \cdot 2 = 4$ треугольника типа Г4. В треугольнике типа В2 вершина С может быть левее или правее гипотенузы, в обоих случаях для неё есть по 5 положений в средней горизонтали; итого 10 треугольников. В треугольниках типа Н45 одна из вершин (пусть А) лежит на средней горизонтали; выбрав её (6 способов), мы имеем две возможности провести гипотенузу АВ, после чего вершина С восстанавливается однозначно; итого 12 треугольников.

3. Катет АС равен $\sqrt{5}$, а катет ВС ему равен (тип К12) или вдвое больше (тип К24). В типе К12 вершина С может быть выше или ниже гипотенузы, а катет АС — слева или справа. В каждом из этих четырёх подслучаев для С есть ровно 3 положения на длинной крайней стороне; итого треугольников типа К12 тоже 12, как и в случае Н45 (подсчёт совершенно аналогичен). Треугольник типа К24 полностью определяется выбором вершины прямого угла, а для неё есть только 4 возможных положения.

Мы перебрали все варианты, поэтому всего есть

$$180 + 16 + 4 + 10 + 12 + 12 + 4 = 238$$

треугольников.

9КГ4. $3 + 4\sqrt{2}$. РЕШЕНИЕ. Окрасим вершины куба $ABCD A' B' C' D'$ в шахматном порядке. Улитке надо попасть из белой вершины А в чёрную C' . Максимальное число ходов — семь. «Меняют цвет» только ходы по рёбрам, поэтому таких ходов должно быть *нечётное* число. Предположим, что такой ход только один. Тогда улитка делает шесть ходов по диагоналям всех шести граней, причём «меняет цвет» лишь раз. При этом сначала она должна сделать три «белых» хода по диагоналям (белая ломаная), потом ход по ребру, а потом три «чёрных» хода по диагоналям (чёрная ломаная). Окрасим грани в цвета ходов. У трёх одноцветных граней нет общей вершины, иначе ломаная этого цвета замкнётся. Тогда средняя чёрная грань Ч (где был второй ход) и средняя белая Б противоположны. Легко видеть, что концы трёхзвенной ломаной одного цвета лежат в вершинах средней грани другого цвета. Но так как концы А и C' на кубе противоположны, другие концы этих ломаных тоже противоположны. Значит, одним ходом по ребру их соединить нельзя. Противоречие.

Значит, ходов по рёбрам не менее трёх. Пример такого пути: $AB'CBDA'D'C'$; его длина $3 + 4\sqrt{2}$. Путь в 6 ходов (с одной переменной цвета) имеет длину не более $1 + 5\sqrt{2}$, что меньше достигнутого результата.

9КГ5. 24. РЕШЕНИЕ. ОЦЕНКА. Если одна из прямых содержит основание равнобедренного треугольника, то две прямые, содержащие его стороны, составляют с ней равные углы. Поскольку оставшихся прямых семь, данная прямая может содержать основания не более чем трёх равнобедренных треугольников. Итого не более $8 \cdot 3 = 24$ треугольников.

ПРИМЕР. Проведём прямые через 8 последовательных сторон правильного 16-угольника. Ясно, что никакие три из них не пересекаются в одной точке. Ясно также, что если от стороны AB 16-угольника отсчитать в обе стороны одинаковое число сторон (от 1 до 3), то продолжающие их прямые (а значит, и параллельные им) не параллельны и образуют с прямой, продолжающей AB , одинаковые углы. Но для каждой из пар параллельных сторон 16-угольника через одну из сторон мы прямую провели!

Таблицы и клетки

9Т1. 1024. РЕШЕНИЕ. Пусть из листа со стороной x клеток вырезали квадрат со стороной y . Тогда осталось $x^2 - y^2 = 124$ клетки. Имеем $(x - y)(x + y) = 124 = 2 \cdot 2 \cdot 31$. Множители слева одинаковой чётности, так как их сумма чётна. А $2 \cdot 2 \cdot 31$ можно разложить в произведение двух множителей одной чётности единственным способом: $2 \cdot 62$. Отсюда $x = (62 + 2) : 2 = 32$, а в листе всего 32^2 клеток.

9Т2. 7. РЕШЕНИЕ. Вот пример с 7 отмеченными клетками (см. рис. 103). Меньшим числом обойтись нельзя, так как уже в двух квадратах, закрывающих противоположные углы, придётся отметить не менее 7 клеток.

		×		
×	×	×	×	×
		×		

Рис. 103

9Т3. 10. РЕШЕНИЕ. Пусть из 16 полученных частей k квадратных и $16 - k$ прямоугольных. Внутри квадрата 2×2 есть 4 отрезка решётки клеток, внутри прямоугольника — 3. Из $2 \cdot 7 \cdot 8 = 112$ отрезков внутри квадрата 8×8 разрезы не прошли по $112 - 54 = 58$. Из уравнения $4k + 3(16 - k) = 58$ находим $k = 10$.

9Т4. 19. РЕШЕНИЕ. ОЦЕНКА. Могут быть суммы от 0 до 19. Если нет суммы 0 или 19, то всё доказано. Если обе есть, то содержащие

их ряды не пересекаются, поэтому они являются суммами горизонталей. Так как есть горизонталь из нулей, суммы вертикалей не превосходят 9, поэтому различных ненулевых среди них не более девяти. Различных сумм в ненулевых горизонталях тоже не более девяти. Итого есть не более $9 + 9 + 1 = 19$ разных сумм.

Пример. Поставим единицы во всех клетках, где номер столбца не меньше номера строки, остальные нули. Тогда на горизонталях есть все суммы от 10 до 19, а на вертикалях — от 1 до 10.

9Т5. 36. ПРИМЕР. Клетки, куда ставятся фишки, пронумерованы на рис. 104 в порядке выставления.

1	2	3	4	5	6	7
8		9		10		11
	13	12	14		16	15
36		17		35		18
33	34		32	30	31	
29		28		27		26
25	24	23	22	21	20	19

Рис. 104

Оценка. Посчитаем общее количество сторон занятых клеток (если две соседние клетки заняты, сторона считается только один раз). У первой клетки было 4 стороны, каждая следующая добавляет не менее трёх, поэтому при n фишках сторон не менее $3n + 1$. Все стороны клеток лежат на 8 горизонтальных и 8 вертикальных отрезках длины 7, поэтому всего их $2 \cdot 7 \cdot 8 = 112$. Из неравенства $3n + 1 \leq 112$ получаем $n \leq 37$. Допустим, $n = 37$. Тогда каждая сторона служит границей занятой клетки, в частности, такой будет каждая сторона на контуре поля. Значит, все крайние клетки заняты. Но тогда фишка, ставшая на край последней, граничила как минимум с двумя фишками. Противоречие. Значит, $n \leq 36$.

ЗАДАЧИ КОНКУРСА КАПИТАНОВ

1. Найдите ближайшую в будущем (после 1 июля 2012 г.) дату-палиндром в формате ДД.ММ.ГГГГ.

ОТВЕТ: 02.02.2020.

2. а) Найдите ближайшую ко 2 июля 2012 года дату в будущем в формате ДД.ММ.ГГ, в которой все три числа, разделённые точками, простые.

б) Найдите ближайшую ко 2 июля 2012 года дату в формате ДД.ММ.ГГ, в которой все три числа, разделённые точками, простые.

ОТВЕТ: 02.02.13.

Ложный след. б) До ближайшей даты в прошлом (это 29.11.11) всего на один день больше.

3. Какой остаток даёт число 123 000 при делении на 999?

ОТВЕТ: 123.

4. Сколько всего треугольников можно найти на рис. 105?

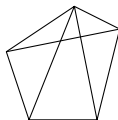


Рис. 105

ОТВЕТ: 11 (5 одиночных, 5 из двух частей, 1 из трёх частей).

5. а) Какова наименьшая сумма цифр числа, кратного 14?

б) Приведите пример числа, кратного 14, с минимально возможной суммой цифр.

ОТВЕТ: а) 2; б) 10010.

6. Дано число 123 456. Не меняя порядка цифр, расставьте знаки арифметических действий и скобки, чтобы получилось выражение

а) как можно ближе к 100, но не равное 100;

б) равное 100.

ОТВЕТ: а) например, $1 \cdot (2 + 3 + 4) \cdot (5 + 6) = 99$, $1 \cdot (23 - 4) \cdot 5 + 6 = 101$;

б) например, $1 + (2 + 3 + 4) \cdot (5 + 6)$.

7. Сколько существует квадратов с вершинами в отмеченных на рис. 106 точках?

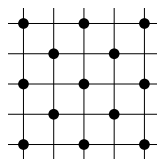


Рис. 106

ОТВЕТ: 11 (5 квадратов со стороной 2, 4 — с диагональю 2, по одному — со стороной 4 и диагональю 4).

8. Сколько решений у ребуса Я + Я + Я = МЫ?

ОТВЕТ: 5.

9. Найдите все пары простых чисел p и q , для которых $pq = 19 + p + q$.

ОТВЕТ: 3 и 11.

УКАЗАНИЕ: $(p - 1)(q - 1) = 20$.

10. Представьте 222 как сумму трёх точных квадратов.

ОТВЕТ: например, $10^2 + 11^2 + 1^2$, $14^2 + 5^2 + 1^2$ или $13^2 + 7^2 + 2^2$.

11. Найдите наименьшее натуральное число с нечётной суммой цифр, кратное 11.

ОТВЕТ: 209.

12. Найдите все пары различных простых чисел с суммой 26.

ОТВЕТ: (3, 23) и (7, 19).

13. На какую цифру заканчивается сумма $1 + 2 + \dots + 2012$?

ОТВЕТ: на 8.

14. Найдите все двузначные числа, которые при вычёркивании одной цифры уменьшаются в 13 раз.

ОТВЕТ: 13, 26, 39, 65.

15. Сколько решений у ребуса БОЧКА + МЁД = ВИННИ?

ОТВЕТ: 0 (использовано 11 разных букв).

16. а) Заполните таблицу 3×3 натуральными числами так, чтобы суммы в строках делились на 100, а в столбцах — не делились.

б) Заполните таблицу 4×4 натуральными числами так, чтобы суммы в строках делились на 2012, а в столбцах — не делились.

ОТВЕТ: а) Например, пишем в каждую строку 1, 1, 98 именно в таком порядке.

б) Например, пишем в каждую строку 1, 1, 1, 2009 именно в таком порядке.

17. Числа от 1 до 300 разбиты на 30 десятков последовательных чисел. Сколько из десятков содержат точные квадраты?

ОТВЕТ: 12 десятков.

УКАЗАНИЕ: В первом десятке — три квадрата, в каждом из следующих — не более одного.

ЛИПОВАЯ РОЩА

Покупатель: Этот мёд у вас случайно не липовый?

Продавец: Что вы, мы торгуем только натуральным мёдом!

Какой только фантастики не приходится выслушивать судьбе матбоёв. Сложность многих задач сознательно подбирается на грани возможностей школьников, а их желание победить обычно превосходит способность к самокритике. Поэтому излагаются решения с ошибками, большими и малыми. Конечно, большинство ошибок грубые, но случаются и тонкие. Их пропускают оппоненты, и даже искушённое жюри порой не сразу может разобраться, где и что не так. Чтобы предостеречь школьников и взрослых от подобных ошибок, мы в других своих книгах публиковали для некоторых задач вслед за правильным решением и псевдорешение под заголовком «Ложный след»¹. Однако для тренировки будущих оппонентов лучше собрать эти «перлы» воедино. А так как на профессиональном жаргоне псевдорешения называют «липой», собрание лип — это, конечно, «роща».

Почти все задачи взяты из этой книги. Каждая снабжена своим липовым решением. В «липе» может быть не одна, а несколько ошибок. Постарайтесь найти их все. К неверным утверждениям полезно подобрать контрпример. Попробуйте оценить величину каждой ошибки в очках (напомним, что задача в целом стоит 12 баллов). В конце главы вы найдёте разоблачение неправильных решений, а также отсылки к правильным решениям.

АРИФМЕТИКА И АЛГЕБРА

Л1. (6—7) Дата 21.02.2012 читается одинаково слева направо и справа налево. Сколько всего таких дат в XXI веке?

Ответ: 31 дата. Первые две цифры года в XXI веке не меняются, меняются только последние две. Поэтому месяц определён, а может меняться только число. Но число принимает значения от 01 до 31, значит, будет 31 такая дата.

¹ Медников Л. Э., Шаповалов А. В. Турнир городов: мир математики в задачах. М.: МЦНМО, 2012.

Л2. (6—7) Саша живёт в своём доме, в котором окон на 2 больше, чем дверей. Все братья Саши — Петя, Коля и Лёня — тоже живут каждый в своём доме. В доме Коли окон на 5 больше, чем дверей, а в доме Пети окон на 4 больше, чем дверей. Может ли у всех братьев Лёни в домах в сумме окон быть в 4 раза больше, чем дверей?

Ответ: не может. Поскольку Коля, Петя и Саша — все братья Лёни, у них в сумме должно быть «лишних» окон в 3 раза больше, чем дверей. Однако $2 + 5 + 4 = 11$ на 3 не делится.

Л3. (6—8) В Зазеркалье имеют хождение монеты достоинством 7, 13 и 25 гиней. Алиса заплатила за пирожок несколько монет и получила на сдачу на две монеты больше. Какова минимально возможная стоимость покупки?

Ответ: 10 гиней.

Пример. Алиса отдала две монеты по 25 гиней, а получила на сдачу две монеты по 7 гиней и две монеты по 13 гиней.

Оценка. Стоимость покупки сравнима с 4 по модулю 6. Кроме того, стоимость покупки не может быть меньше самой мелкой монеты.

Л4. (6—7). Сумма трёх натуральных чисел равна 520. На какое наибольшее число нулей может оканчиваться их произведение?

Ответ: на 5 нулей. Пример: $400 + 100 + 20 = 520$, $400 \cdot 100 \cdot 20 = 800\,000$.

Оценка. Посмотрим, сколько пятёрок может быть в разложении произведения на простые множители. Все слагаемые не могут делиться на 25, так как сумма на 25 не делится. Если два слагаемых делятся на 25, то третьё даст в разложении не более чем одну пятёрку, поэтому всего в разложении будет не больше пяти пятёрок. Значит, и нулей не более пяти.

Л5. (7) Существуют ли различные натуральные числа x , y и z , для которых

$$x + \text{НОД}(y, z) = y + \text{НОД}(z, x) = z + \text{НОД}(x, y)?$$

Ответ: не существуют. Если x , y и z имеют общий делитель, больший 1, сократим на него: равенство не нарушится. Теперь числа x , y и z взаимно просты, значит, какие-то два из них взаимно просты. Не нарушая общности, считаем, что $\text{НОД}(x, y) = 1$. Поскольку суммы одинаковы, а x , y и z — различны, наибольшие общие делители тоже различны. Отсюда $\text{НОД}(z, x) > 1$ и $\text{НОД}(y, z) > 1$. Поэтому x не взаимно просто с z . В первой сумме оба слагаемых

не взаимно просты с z , поэтому и сумма не взаимно проста с z . А третья сумма равна $z + 1$, т. е. взаимно проста с z . Противоречие.

Л6. (6—7) Найдутся ли три положительных числа, из которых одно равно произведению двух других, другое — разности двух других, а третье — полусумме двух других?

Ответ: нет. Допустим, нашлись такие числа $a \leq b \leq c$. Полусумма лежит посередине между двумя другими — значит, это b . Разность меньше самого большого, и это не b , значит, a . Тогда c — это произведение a и b . Но если a — разность c и b , то c — сумма a и b . Однако сумма положительных чисел равна их произведению, только если оба числа равны 2. Но для чисел 2, 2, 4 среднее не равно полусумме крайних. Противоречие.

КОМБИНАТОРИКА

Л7. (6—7) В водоёме плавало 2007 щук и 2007 акул. Акула может съесть щуку, если та до этого съела чётное число акул. Щука может съесть акулу, если та до этого съела нечётное число щук. (Съеденное мгновенно переваривается.) Акулы не едят акул, а щуки — щук. Могло ли так случиться, что в водоёме осталась только одна рыба? Какая?

Ответ: могла остаться одна акула. Действительно, если съедены все 2007 щук и каждая перед этим съела чётное число акул, то всего съедено чётное число акул. Но 2006 — число как раз чётное. Разобьём его любым способом на 2007 чётных слагаемых (некоторые будут равны 0). Заставим одну акулу отплыть в сторону. Далее очередная щука съедает очередное слагаемое, затем отплывшая акула съедает эту щуку. В конце останется только отплывшая акула.

Л8. (6—7) На доске написаны натуральные числа от 1 до 27. Двое игроков по очереди вычёркивают по одному числу, пока не останется два числа. Если их сумма кратна 5, то выигрывает первый игрок, иначе — второй. Кто из игроков может выиграть, как бы ни играл соперник?

Ответ: второй. Посмотрим на остатки данных чисел при делении на 5. Есть по 5 чисел с остатками 0, 3 и 4 и по 6 чисел с остатками 1 и 2. Если вычеркнуть все числа с остатками 3 и 4 и все, кроме одного, числа с остатками 0 (назовём их плохими), то сумма двух последних оставшихся не будет делиться на 5. Заметим, что первый игрок вычёркивает 13 чисел, а второй — 12. Даже вычеркнув все числа с остатком 1 и 2, первый игрок вычеркнет только 12 чисел.

Значит, он «поможет» второму вычеркнуть хотя бы одно плохое число. Кроме того, если он поможет второму всего один раз, то вычеркнет все числа с остатками 1 и 2, а какую-то их этих групп (скажем, с остатком 2) вычеркнет не последним ходом! Тогда второй может не вычёркивать последнее число с остатком $5 - 2 = 3$, и ему как раз хватит ходов, чтобы вычеркнуть всё остальное из намеченного!

Л9. (6—7) Большая свеча сгорает за час и стоит 60 рублей, а маленькая сгорает за 11 минут и стоит 11 рублей. Можно ли отмерить минуту, затратив не более чем 150 рублей?

Ответ: нельзя. Обозначим за 0 момент времени, когда зажжена первая свеча. Про все остальные моменты точное время ясно только для моментов, когда догорела свеча, зажжённая в определённый момент времени. Тем самым отрезок времени между началом и любым другим определённым моментом времени складывается из отрезков длины 6 и 11 минут, т. е. его длина имеет вид $60m + 11n$, где m и n — целые неотрицательные числа. Отрезок длиной в 1 минуту должен быть разностью отмеренных отрезков, т. е. имеет вид $60p + 11q$, где p и q целые. Значит, число, кратное $11q$, отличается от $60p$ на 1 в ту или другую сторону. При $p = 1$ числа 59 и 61 на 11 не делятся. При $p = 2$ подходит $2 \cdot 60 + 1 = 11 \cdot 11$. Значит, понадобится как минимум 2 свечи по 60 рублей и как минимум 11 свечей по 11 рублей, итого — не менее 241 рубля.

Л10. (7—8) Прибор «РИВ-6» умеет из шести предметов различного веса выбирать два средних по весу. Ире принесли 7 драгоценных камней разного веса. За какое минимальное число применений прибора она гарантированно сможет найти средний по весу камень?

Ответ: за 5. Алгоритм. Ясно, что если упорядочить камни по весу, то при любом испытании прибор выберет два из трёх средних камней. Удалив один камень из показанных в первом испытании, узнаем остальные два средних. Теперь три раза удаляем камни не из этой тройки. Тот камень, который войдёт в каждую из трёх пар, — самый средний.

Оценка. Четырёх испытаний недостаточно. Обозначим камни в порядке возрастания весов A, B, C, D, E, F, G . Рассмотрим случай, когда при первом испытании мы не взяли камень D . При остальных трёх испытаниях у нас может получиться два принципиально разных случая: все результаты одинаковы (например, C и D), или есть различные результаты (например, два раза C и D , один раз D и E). В обоих случаях средним может оказаться как C , так и D .

Л11. (7—8) На всех полях доски 1×2011 , кроме крайних, стоит по шашке. Петя и Вася ходят по очереди, начинает Петя. Ход — это прыжок шашки ровно через одну шашку на одно из свободных полей, перепрыгнутая шашка снимается. Центральная шашка отмечена. Выигрывает тот, кто снимет отмеченную шашку. Кто из игроков может выиграть, как бы ни играл соперник? (Отмеченная шашка тоже может ходить.)

Ответ: Вася. Назовём отмеченную шашку и двух её соседей *средними*. Пока средние не двигались, Вася отвечает ходами, симметричными ходам Пети. При такой стратегии после Васи всегда остаётся симметричная позиция, и одной из средних шашек пойдёт Петя. После этого Вася сможет съесть отмеченную шашку.

Л12. (7—8) Откопав клад из 100 алмазов, каждый из семи гномов схватил алмазов, сколько успел. Когда у одного из гномов алмазов меньше, чем у каждого из оставшихся, он обижается, и все остальные, по древнему обычаю, должны отдать ему по одному алмазу. Этот процесс надо повторять, пока кто-либо из гномов обижается. Докажите, что передел собственности рано или поздно закончится.

Решение. Остатки от деления числа алмазов на 7 не могут быть разными у всех гномов, так как $0 + 1 + 2 + \dots + 6$ делится на 7, а 100 не делится на 7. Выберем двух гномов, у которых вначале остатки совпадают. Так как при каждом переделе разность количества алмазов у них либо не изменяется, либо уменьшается на 7, их остатки всегда будут равны, поэтому рано или поздно совпадут и сами количества. А когда эти количества окажутся меньшими, чем у остальных, обиженных гномов не останется.

Л13. (6—8) Двум мудрецам — Петру и Василию — показали набор из 10 карточек с числами 1, 2, ..., 10 и выдали по карточке из набора с числами a (Петру) и b (Василию). Каждый знает только своё число. Мудрецы играют, по очереди называя вслух натуральные числа, при этом каждое должно быть больше предыдущего и заведомо (для называющего) делить $\text{НОК}(a, b)$. Кто не может сделать ход, должен сдаться. Есть ли такая карточка, получив которую Пётр (он ходит первым) может быть уверен в выигрыше?

Пояснение. $\text{НОК}(a, b)$ игрокам изначально неизвестно. Однако они понимают, в частности, что каждый делитель числа на их карточке делит и НОК . В дальнейшем они могут делать выводы из того, что назвал соперник.

Ответ: есть. Например, карточка 8. Заметим, что тот, кто смог назвать НОК(a, b), выигрывает, так как большие числа НОК(a, b) не делят.

Пусть Пётр получил карточку 8. Первым ходом он называет 4. Из этого следует только, что a кратно 4. Таким образом, для a есть две возможности: 4 или 8. Так как b не кратно 8, НОК(a, b) тоже *может быть* не кратно 8. Разберём три возможности.

1. Пусть $b = 1, 2$ или 4. Тогда Василий вынужден сразу сдаться.

2. Пусть b кратно 3 (3, 6 или 9). Тогда Василий может назвать 6, 9, 18 или 36. В последних трёх случаях Пётр понимает, что $b = 9$, и называет НОК(8, 9) = 72.

В остальных случаях Пётр понимает, что b кратно 3, и называет 12. Услышав 12, Василий не может исключить случай $a = 4$. Если b равно 3 или 6, то при $a = 4$ число НОК(a, b) = 12 уже названо; поэтому Василий вынужден сдаться. Если $b = 9$, то Василий может назвать НОК(12, b) = 36 или 18. В обоих случаях Пётр понимает, что $b = 9$, и выигрывает, назвав 72.

4. Пусть $b = 5, 7$ или 10. Василий может назвать только 5, 10, 7 или 14. В первых двух случаях Пётр выигрывает, назвав $40 = =$ НОК(8, 5) = НОК(8, 10), в остальных — назвав $56 =$ НОК(8, 7).

Л14. Остап Бендер организовал раздачу слонов населению, на которую явилось 20 человек. Остап построил их по кругу, дал одному первого слона, его соседу слева — второго, затем одного человека пропустил, следующему дал слона, пропустил двоих, следующему дал слона и т. д., пока не раздал всех 2012 слонов. Скольким желающим не досталось слонов?

Ответ: восьмерым. Занумеруем «население» по порядку числа-ми от 0 до 19. Тогда слонов получают люди с номерами вида

$$0 + 1 + 2 + \dots + n = \frac{1}{2}n(n + 1).$$

По первым пяти числам этой последовательности определяем, что такие числа могут давать любой остаток при делении на 4, а вот при делении на 5 дают только остатки 0, 1, 3. Поэтому слонов *не получают* люди с номерами вида $5k + 2, 5k + 4$ (и только они).

Л15. (7—9) Фома и Ерёма делят клад из 100 золотых и 100 серебряных монет. Сначала Фома раскладывает монеты в ряд в каком хочет порядке. Затем Ерёма начинает делёжку. Он берёт первую монету из ряда и либо забирает её себе, либо отдаёт Фоме. Затем Фома берёт вторую монету из ряда и тоже либо забирает её себе, либо

отдаёт Ерёме. Так, чередуясь, они распределяют по порядку монеты. Как только у кого-то из них накапливается 100 монет, другой забирает все оставшиеся монеты. Какое наибольшее число золотых монет может гарантировать себе Фома?

Ответ: 50 монет. Независимо, как Фома кладёт монеты, в любом случае при своём выборе Ерёма золотые берёт себе, а серебряные отдаёт Фоме. В результате либо у Фомы серебряных монет будет не меньше, чем золотых, либо у Ерёмы золотых будет не меньше, чем у Фомы. В обоих случаях у Фомы будет не более 50 золотых монет.

Не менее 50 золотых монет Фома сможет себе обеспечить, играя как Ерёма, т. е. золотую беря себе, а серебряную отдавая Ерёме.

Л16. (7—9) Дорожки парка идут по периметрам двух квадратных газонов с одной общей стороной-дорожкой. По дорожкам гуляют с постоянными скоростями Холмс и Ватсон; каждый обходит свой газон против часовой стрелки. Скорость Холмса на 20% больше скорости Ватсона. Время от времени джентльмены встречаются на общей дорожке. Во второй раз они встретились через 10 минут после первого, а в третий — через 10 минут после второго. Через какое время они встретятся в 4-й раз?

Ответ: через 90 минут. Пусть d — расстояние между первой и второй точками встречи. Ясно, что Холмс прошёл полный круг плюс d , а Ватсон — полный круг минус d . Из уравнения $1 + d = 1,2(1 - d)$ получаем $d = \frac{1}{11}$ круга. Ясно также, что за следующие 10 минут джентльмены сдвинутся вдоль общей дорожки ещё на d . Однако расстояние d можно уложить на общей дорожке не более 2 раз. (Поскольку $3d > \frac{1}{4}$, через следующие 10 минут встреча не состоится — предполагаемая точка встречи раздвоится.) Чтобы обойти полный круг, точке встречи понадобится 110 минут, значит, следующая встреча произойдёт через $110 - 20 = 90$ минут.

Л17. (8—9) В ряд лежат 300 апельсинов, веса соседних отличаются не более чем на 10 г. Докажите, что их можно разложить в пакеты по 3 штуки и положить пакеты в ряд так, чтобы веса любых двух соседних пакетов отличались не более чем на 10 г.

Решение. Сначала разложим апельсины по возрастанию веса и пронумеруем от 1 до 300. Докажем, что веса апельсинов с соседними номерами будут отличаться не больше чем на 10 г. Пусть это не так: есть апельсин веса a , а следующий вес больше $a + 10$. Покрасим апельсины с весом не больше a в жёлтый цвет, а апельсины

с весом больше $a + 10$ — в оранжевый. В исходной расстановке где-то апельсины разного цвета лежат рядом, значит, разность их весов меньше 10. Противоречие.

Разложим теперь апельсины произвольным образом по три штуки в пакет. Назовём пару номеров $(i, i + 1)$ *беспорядком*, если i -й апельсин попал в пакет веса a , а $(i + 1)$ -й — в пакет веса $b > a + 10$. Пока есть беспорядки, выбираем беспорядок с наименьшим номером i и меняем местами i -й и $(i + 1)$ -й апельсины. Неравенство весов между пакетами, очевидно, сохранится, поэтому беспорядок $(i, i + 1)$ исчезнет. Когда беспорядки закончатся, разложим пакеты по возрастанию весов. Докажем, что разница между соседями будет не более 10 г. Допустим, есть разрыв больше 10 г. Пусть это не так: есть пакет веса a , а следующий вес больше $a + 10$. Покрасим апельсины из пакетов весом не больше a в жёлтый цвет, а апельсины из пакетов весом больше $a + 10$ — в оранжевый. Выложим апельсины по возрастанию номеров. Самый лёгкий апельсин из самого лёгкого пакета легче самого тяжёлого апельсина из самого тяжёлого пакета, поэтому есть жёлтый апельсин, находящийся левее оранжевого. Тогда есть и такие два соседних апельсина, что левый жёлтый, а правый оранжевый. Однако они образуют беспорядок. Противоречие.

Л18. (8—9) Из колоды отложили часть карт. Докажите, что оставшиеся можно разделить между двумя игроками так, чтобы у них общее число карт, число карт каждой масти и число карт каждого достоинства отличалось не более чем на 1.

Решение. Индукция по числу оставшихся карт. База для одной карты очевидна. *Шаг индукции:* рассмотрим 3 случая. Каждая карта относится к одному из четырёх типов: НН, НЧ, ЧН или ЧЧ. Первая буква означает, нечётно или чётно число карт такого достоинства, вторая — такой масти (например, если туз пик типа ЧН, тогда есть чётное число тузов и нечётное число пик).

1. Пусть есть карта типа НН, скажем туз пик. Уберём её и раздадим остальные карты по предположению индукции. Заметим, что пик осталось чётное число, тузов — тоже, поэтому обоим игрокам и пик, и тузов досталось поровну. При равенстве числа карт отдадим туза пик любому, иначе — тому, у кого карт меньше. Все разности не больше 1.

2. Пусть карт типа НН нет, но есть карта типа ЧН или НЧ, скажем, есть туз пик типа ЧН. Уберём туза пик и раздадим остальные карты по предположению индукции. Тогда пик у игроков поровну,

а число тузов отличается на единицу. Отдадим туза пик тому, у кого тузов меньше. Теперь тузов поровну, количество пик отличается на 1, разница по остальным мастям и достоинствам не больше 1.

3. Пусть нет типов НН, НЧ и ЧН. Тогда все карты типа ЧЧ. Складывая по мастям, видим, что и всего карт чётное число. Отложим любую карту (скажем, туза пик), а остальные раздадим согласно предположению индукции. Ввиду нечётности у игрока А картой меньше. Все масти, кроме пик, разделились пополам, поэтому у А на пику меньше. Аналогично у А на туза меньше. Отдадим ему туза пик, всё сравняется.

ГЕОМЕТРИЯ

Л19. (6—7) Таня измерила угол между часовой и минутной стрелкой. Спустя полчаса она опять измерила угол между стрелками, и он оказался тем же самым. Определите, каким мог быть этот угол.

Ответ: $82,5^\circ$. Если минутная стрелка не обогнала часовую, то угол между ними всё время уменьшался, равенство невозможно. За полчаса минутная стрелка повернулась на 180° . Если угол был тупой, то после обгона он станет острым (из-за движения часовой стрелки он только уменьшится) — равенства снова нет. Значит, угол 180° состоит из двух острых углов x (в начале и в конце) и угла 15° , на который повернулась часовая стрелка за полчаса. Поэтому $x = (180^\circ - 15^\circ) : 2 = 82,5^\circ$.

Л20. (7—9) В треугольнике ABC угол B равен 50° , угол C равен 30° . Внутри треугольника выбрана точка M так, что

$$\angle MBC = 20^\circ, \quad \angle MCB = 10^\circ.$$

Докажите, что $AM \perp BC$.

Ответ: Пусть прямая BM пересекает AC в точке D . Опустим перпендикуляр MK на сторону BC . Ясно, что $\angle MCD = 20^\circ$, $\angle MBA = 30^\circ$ (см. рис. 107). В прямоугольных треугольниках $СКМ$ и $ВКМ$ имеем $\angle KMC = 80^\circ$, $\angle KMB = 70^\circ$. Отсюда

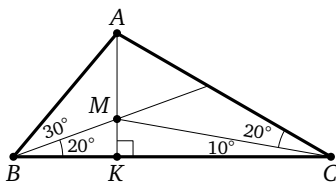


Рис. 107

$$\angle DMC = 180^\circ - \angle KMC - \angle KMB = 180^\circ - 80^\circ - 70^\circ = 30^\circ,$$

$$\angle AMB = 180^\circ - \angle KMB = 180^\circ - 70^\circ = 110^\circ.$$

В треугольнике BCD имеем $\angle BDC = 180^\circ - 30^\circ - 20^\circ = 130^\circ$, поэтому из треугольника BCM имеем $\angle CMD = 180^\circ - 130^\circ - 20^\circ = 30^\circ$. Кроме того,

$$\angle AMD = 180^\circ - \angle AMB = 180^\circ - 110^\circ = 70^\circ.$$

Но тогда $\angle AMK = \angle AMC + \angle CMK = 70^\circ + 30^\circ + 80^\circ = 180^\circ$. Значит, точки A , M и K лежат на одной прямой, и, таким образом, прямая AM совпадает с прямой MK , перпендикулярной BC по построению.

Л21. (7–8) Каждая две противоположные стороны шестиугольника $ABCDEF$ параллельны и равны, причём треугольник ACE равносторонний. Докажите, что для некоторой точки O все три треугольника AOB , COD , EOF также равносторонние.

Решение. Докажем сначала, что шестиугольник центрально-симметричен относительно точки пересечения своих диагоналей. Действительно, так как AB и DE параллельны и равны, $ABDE$ — параллелограмм и AD и BE пересекают друг друга в середине. Аналогично AD и CF пересекают друг друга в середине. Значит, середина отрезка AD является серединой всех трёх диагоналей и центром симметрии. При симметрии относительно O равносторонний треугольник ACE перейдёт в равносторонний же треугольник DFB . Значит, центры (точки пересечения медиан, высот и биссектрис) этих треугольников совпадают с O . Пусть AD пересекает BF в точке H . Угол BOM прямой, так как DH — высота в треугольнике DBF . Угол HBO равен 30° , так как BO — биссектриса угла B в равностороннем треугольнике DBF . Поэтому в треугольнике OBH угол BOH равен 60° . Но $AO = OB$ (как равные части медиан в равных треугольниках ACE и BDF). Треугольник AOB равнобедренный с углом 60° при вершине, значит, он равносторонний. Аналогично равносторонними будут треугольники COD и EDF .

Л22. (7–8) На клетчатой бумаге нарисовали круг и выделили все клетки, целиком оказавшиеся внутри круга. Могли ли они образовать фигуру, изображённую на рис. 108?

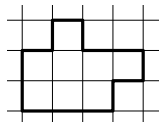


Рис. 108

Ответ: не могли. Отметим точки A , B , C , D , как на рисунке, и проведём диагональную линию l (см. рис. 109). Точки A и B симметричны относительно l , но по условию точка A лежит в круге, а симметричная ей точка B — вне круга (иначе все вершины закрашенной клетки лежат в круге). Аналогично точки C и D симметричны относительно l ,

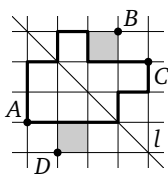


Рис. 109

но C лежит в круге, а D — нет. Теперь воспользуемся тем, что центр круга расположен ближе к точке круга, чем к любой точке, находящейся вне круга. Значит, этот центр должен располагаться по ту же сторону от l , что и точка A , а также — по ту же сторону от l , что и точка C . Одновременное выполнение этих двух условий невозможно.

Л23. Улитка движется по поверхности куба, переползая от вершины к вершине по ребру или по диагонали грани. Найдите протяжённость самого длинного пути из одной вершины куба в противоположную (наиболее удалённую), если запрещается пересекать свой путь и проходить через одну вершину дважды.

Ответ: $3 + 4\sqrt{2}$. Окрасим вершины куба $ABCD A'B'C'D'$ в шахматном порядке. Улитке надо попасть из белой вершины A в чёрную вершину C' . Максимальное число ходов — 7. «Меняют цвет» только ходы по рёбрам, поэтому таких ходов должно быть *нечётное* число. Предположим, что такой ход только один. Тогда улитка делает шесть ходов по диагоналям всех шести граней, причём сначала она должна сделать три «белых» хода по диагоналям, потом ход по ребру, а потом три «чёрных» хода по диагоналям. Пусть её первый ход — по AB' . Значит, в гранях $A'B'C'D'$ и $BB'C'C$ она проходит по диагоналям $A'C$ и $C'B$ («чёрные» ходы). Но тогда ход в C' не последний. Противоречие.

Значит, ходов по рёбрам не менее трёх. Пример такого пути: $AB'CBDA'D'C'$; его длина $3 + 4\sqrt{2}$. Путь в шесть ходов имеет длину не более $1 + 5\sqrt{2}$, что меньше достигнутого результата.

Л24. (8—9) Сколько существует прямоугольных треугольников с вершинами в 18 узлах клетчатого прямоугольника 2×5 ?

Ответ: 234. Пусть есть треугольник ABC , где C — вершина прямого угла, а катет AC перпендикулярен длинной стороне прямоугольника или образует с ней не меньший острый угол, чем катет BC . Катеты треугольника могут 1) быть параллельны сторонам прямоугольника; 2) образовывать с ними угол 45° ; 3) образовывать другой угол; тогда AC служит гипотенузой вспомогательного треугольника с катетами на линиях сетки, и это может быть лишь треугольник с катетами 2 и 1 (высота не больше 2, а тангенс больше 1).

Разберём эти случаи отдельно.

1. Любой такой треугольник можно получить так: выбрать вертикаль, на ней пару вершин A и B (это можно сделать $6 \cdot 3 = 18$ способами); теперь третью вершину можно выбрать 10 способами (столько свободных точек осталось на горизонталях, где лежат две

уже выбранные вершины). Соответственно получается $18 \cdot 10 = 180$ треугольников данного типа.

2. Длина катета может быть $\sqrt{2}$ или $2\sqrt{2}$. Катеты равны или отличаются в два раза (тип Н45, см. рис. 110). При равенстве гипотенуза треугольника горизонтальна и имеет длину 2 или 4 (типы Г2 и Г4) или вертикальна длины 2 (тип В2). В половине треугольников типа Г2 вершина C лежит ниже гипотенузы, и тогда для C есть по 4 положения на верхней и средней горизонталях (все точки, кроме крайней правой и крайней левой), итого $2 \cdot 2 \cdot 4 = 16$ треугольников типа Г2. Аналогично в типе Г4 всего $2 \cdot 2 = 4$ треугольника. В типе В2 вершина C может быть левее или правее гипотенузы, в обоих случаях для C есть по 5 положений в средней горизонтали, итого 10 треугольников. В треугольниках типа Н45 вершина C может быть выше или ниже гипотенузы, а длинный катет — слева или справа. В каждом из этих четырёх подслучаев для C есть ровно 3 положения на длинной крайней стороне, итого 12 треугольников.

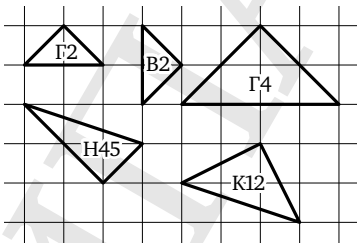


Рис. 110

3. Катет AC равен $\sqrt{5}$. Ясно, что катет BC ему равен (тип К12, см. рис. 110). Тут тоже вершина C может быть выше или ниже гипотенузы, а катет AC — слева или справа. В каждом из этих четырёх подслучаев для C есть ровно 3 положения на длинной крайней стороне, итого 12 треугольников.

Мы перебрали все варианты, всего есть $180 + 16 + 4 + 10 + 12 + 12 = 234$ треугольника.

РАЗНОЕ

Л25. (8—9) У Миши было квадратное уравнение с одной переменной x . Он заменил в нём x на $\frac{3x+1}{2x+1}$ и получил другое уравнение. Могло ли оказаться так, что первое уравнение имеет хотя бы один корень, а второе уравнение корней не имеет?

Ответ: не могло. Пусть исходное уравнение имеет вид $x^2 + px + q = 0$ (иначе разделим его на коэффициент при x^2 , тогда полученное уравнение разделится на такое же число, и количество корней тут и там не изменится). Поскольку решение есть, дискриминант неотрицателен: $p^2 - 4q \geq 0$. После подстановки получим уравнение

$$\left(\frac{3x+1}{2x+1}\right)^2 + p\left(\frac{3x+1}{2x+1}\right) + q = 0.$$

Домножив его на общий знаменатель, получим

$$(3x+1)^2 + p(3x+1)(2x+1) + q(2x+1)^2 = 0. \quad (*)$$

Раскрыв скобки и приведя подобные слагаемые, получим равносильное предыдущему уравнение

$$(6p+4q+9)x^2 + (5p+4q+6)x + (p+q+1) = 0.$$

Его дискриминант неотрицателен:

$$(5p+4q+6)^2 - 4(6p+4q+9)(p+q+1) = p^2 - 4pq \geq 0,$$

поэтому оно имеет решение. Осталось проверить, что это не может быть постороннее решение $x = -0,5$, которое мы могли приобрести, умножая на $(2x+1)^2$. Но если подставить $x = -0,5$ в уравнение (*), то равенства не получится. Значит, уравнение, полученное подстановкой, тоже всегда имеет решение.

Л26. (8—9) Для каких натуральных n можно любой треугольник разбить на n треугольников, имеющих по равной медиане?

Ответ: для любых. Пусть n чётно. Назовём основанием сторону, к которой примыкают два острых угла: пусть это BC в треугольнике ABC . Проведём среднюю линию PQ треугольника параллельно BC . Разобьём эту среднюю линию точками K_1, K_2, \dots, K_{n-1}

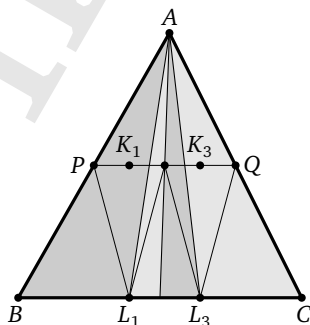


Рис. 111

на n равных частей. Проекции нечётных точек на основание обозначим соответственно L_1, L_3, \dots, L_{N-1} . Тогда все звенья ломаной $PL_1K_2L_3\dots K_{n-2}L_{n-1}Q$ равны (см. рис. 111). Соединяя A лучами со всеми вершинами ломаной, разобьём треугольник на n меньших. По теореме Фалеса точка пересечения каждого луча со средней линией лежит строго посередине между A и точкой пересечения луча с основанием. Поэтому все звенья ломаной будут равными медианами меньших треугольников.

Покажем теперь, как разбить ABC на $n + 1$ треугольник. Для этого надо выбрать такую точку M на основании (пусть она пересекает среднюю линию в точке D), чтобы при разбиении треугольника ABM вышеуказанным образом на n треугольников медиана $L_{n-1}D$ самого правого треугольника оказалась параллельной медиане MQ отсечённого треугольника (см. рис. 112). Положение M можно вычислить или доказать его существование из непрерывности. В самом деле, положение прямой AM однозначно определяется точкой D . Пусть изначально D совпадает с Q , тогда M совпадает с C . Нарисуем N -звенную ломаную и проведём через Q до основания отрезок QT , параллельный последнему звену ломаной (вначале он совпадёт с этим звеном, и T лежит левее M). Если двигать D по средней линии влево, то и M движется влево. Ломаная, сжимаясь, как гармошка, увеличивает угол с основанием, поэтому луч QT поворачивается *вправо* и точка T движется *вправо*. Поскольку M может пройти всё основание, в какой-то момент M и T совпадут. В этот момент $L_{n-1}DQM$ станет параллелограммом, поэтому медиана MQ станет равна остальным медианам.

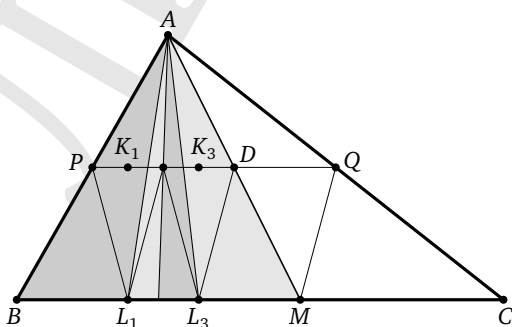


Рис. 112

РАЗОБЛАЧЕНИЯ

Л1. Не в каждом месяце бывает 31-е число. Как раз в XXI веке две первые цифры года дадут при отражении 02, что означает февраль. А в феврале не более 29 дней. Поэтому ответ заведомо неверный.

Верное соображение о неизменности месяца стоит не более 4 баллов.

См. задачу 1.

Л2. Из того, что Лёня — брат Саши, ещё не следует, что Саша — брат Лёни. Саша может быть женщиной (Александра — она ведь тоже Саша).

Пропущен важный случай, из-за которого ответ меняется на противоположный. Приведённые рассуждения при самом благожелательном судействе не могут дать докладчику более 2 баллов.

См. задачу 15.

Л3. Оценка содержит грубую ошибку. Если можно давать сдачу, то стоимость покупки может быть даже 1 гиней. Например, Алиса заплатила две монеты по 7 гиней и получила на сдачу монету в 13 гиней.

Этого контрпримера достаточно, чтобы опровергнуть решение в целом. Верное соображение об остатке по модулю 6 не обосновано, поэтому докладчик получит не более 2 баллов.

См. задачу 18.

Л4. В оценке не учтено, что слагаемые могут быть кратны 125 и поэтому давать в разложении по 3 пятёрки.

Кроме того, ответ неверен. Можно привести пример, где произведение оканчивается на 6 нулей.

Первое соображение опровергает только оценку. В такой задаче оценка обычно стоит 6 баллов, поэтому оппонент заработал бы 3 балла. Если же привести указанный пример, то он будет контрпримером к решению в целом и принесёт оппоненту 6 баллов.

См. задачу 20.

Л5. 1. Неверно, что если x , y и z взаимно просты, то какие-то два из них взаимно просты. Контрпример: числа 6, 10 и 15 взаимно просты, но у любых двух есть общий делитель, больший 1.

2. Неверно, что если оба слагаемых не взаимно просты с z , то и сумма не взаимно проста с z . Контрпример: и 2, и 3 не взаимно просты с 6, однако их сумма $2 + 3 = 5$ взаимно проста с 6.

Любой из вышеприведённых контрпримеров означал бы полное опровержение решения и принёс бы оппоненту 6 баллов.

См. задачу 64.

Л6. Верно, что сумма двух *натуральных* чисел равна их произведению, только если оба числа равны 2. Однако в условии сказано только, что числа положительны, а для таких чисел это неверно. Контрпримеров много, в частности 1,5 и 3.

Этот контрпример служит полным опровержением решения. Поскольку ответ неверен, за верные утверждения о неравенствах между полусуммой, разностью и произведением докладчик заслужил бы не более 2 баллов.

См. задачу 80.

Л7. Верный ответ не подкреплён доказательством.

1. Не проверено, могла ли остаться одна щука.

2. Приведённый алгоритм неверен, так как съедались акулы, не съевшие ни одной щуки (а 0 — число чётное), что противоречит условию.

3. Рассуждение о том, что съеденные щуки съели чётное число акул, показывает только, что соображение чётности не опровергает возможность остаться одной акуле. Без алгоритма оно бесполезно, так как невозможность могла бы следовать из каких-нибудь других соображений.

Докладчик заслужил 0 баллов. Каждое из возражений 1 и 2 опровергает только половину решения и даёт оппоненту по 3 очка, вместе — 6. Возражение 3 опровергает несущественную часть решения и без возражений 1 и 2 дало бы оппоненту 1 очко (обнаружена грязь в решении).

См. задачу 177.

Л8. Ответ неверен, поэтому, если оппонент задачу решил, ему проще всего сказать: «У меня есть контрпример к решению в целом» — и привести правильный алгоритм.

Ошибок же здесь две.

1. Второй игрок наметил вычеркнуть 15 чисел, а указанный алгоритм говорит только о 14 из них: одна прямая помощь и одна экономия за счёт того, что «противоположная» группа остатков будет заранее вычеркнута целиком.

2. Экономия вовсе не гарантирована, так как не доказано, что, когда будет вычеркнута «противоположная» группа остатков, у второго игрока останутся именно «правильные» числа (а не получится,

например, что к тому времени, когда первый вычеркнет все числа с остатком 1, все числа с остатком 4 тоже уже будут вычеркнуты).

Докладчик заслужил 0 баллов. Возражение 1 опровергает решение в целом, оппонент заслужит 6 баллов. Возражение 2 указывает лишь на крупный пробел в доказательстве. Чтобы сделать из него полное опровержение, надо привести пример игры, где экономии не получается.

См. задачу 189.

Л9. Ответ неверен, поэтому, если оппонент задачу решил, ему проще всего сказать: «У меня есть контрпример к решению в целом» — и привести правильный алгоритм.

Ошибок же здесь две.

1. Предполагается, что зажжённая свеча должна догореть до конца. При таком предположении доказательство верно. Однако если погасить свечу раньше, в момент, когда время определено, то получим огарок, у которого известно время горения. Соответственно, использование таких огарков даёт возможность отмерять от начала время, не представимое в виде $60m + 11n$, где m и n целые неотрицательные. Собственно, правильное решение и построено на использовании таких огарков.

2. Неправда, что новые свечи (или огарки) имеет смысл зажигать только в *определённый* момент времени. Конечно, если зажечь свечу в неопределённый момент, то и догорит она в неопределённый момент. Алгебраически это будет означать, что в выражении для момента времени будет присутствовать какая-то неизвестная величина x (или даже несколько таких величин). Однако при вычитании таких величин все неизвестные могут взаимно уничтожиться, и мы получим (сможем отмерить) вполне определённый промежуток времени. Такой приём аналогичен построению с произвольной точкой в геометрии.

Оба возражения опровергают решение в целом и дают оппоненту 6 баллов. Первое яснее, но имеет недостаток: оно подсказывает путь к правильному решению. Поэтому на бое (а тем более на устной олимпиаде) лучше опровергать с помощью второго возражения.

См. задачу 128.

Л10. В доказательстве оценки проведён неполный перебор случаев. Случай, когда прибор показывает «два раза C и D , один раз D и E », разбивается на два подслучая: хороший и плохой. В плохом случае действительно средними могут быть и C , и D — но это только

если D и E показаны при удалённом C . Иначе (если удалён другой камень) C точно не средний. Поэтому не факт, что нельзя устроить испытания так, чтобы попадать только на хорошие случаи.

Это возражение является полным опровержением оценки, а так как ответ неверен, нет и решения в целом. Соответственно, оппоненту — 6 баллов, докладчику — 0.

См. задачу 139.

Л11. Вот контрпример к решению: симметричная позиция из трёх средних шашек на своих местах. В ней нечётное число шашек, значит, ход Пети. Петя прыгает отмеченной шашкой на край, и съесть её невозможно.

Однако это не полное опровержение, а только выявление существенного пробела в решении. Такой пробел может быть оценен в 4 или 6 баллов, поэтому контрпример даёт оппоненту 2 или 3 балла.

На самом деле, конечно, такая позиция может возникнуть, только если одна из оставшихся шашек уже ходила раньше и Вася действовал не по стратегии. Но вышеприведённое «короткое» доказательство само по себе эту позицию не отсеивает (сравните с полным доказательством).

См. задачу 190.

Л12. Не доказано, что

- 1) разность количеств у выбранных гномов станет равной 0;
- 2) количества у выбранных гномов станут меньшими, чем у остальных.

Оба утверждения верны, если начать доказательство фразой «Допустим, что переделы никогда не закончатся». Поэтому недоказанность п. 1 и 2 можно считать пробелами в решении. По отдельности они стоят 4 балла каждый, вместе — 6 баллов.

См. задачу 181.

Л13. При $a = 8$ первый ход $b = 4$ *выигрыша не гарантирует*. Действительно, пусть $b = 4$. Тогда Василий понимает, что a кратно 4, но $a \neq b = 4$, значит, $a = 8$. Назвав 8, Василий выигрывает.

Ещё одна возможность: при $b = 9$ Пётр может ответить $a = 12$. Так как Василий узнаёт только, что b кратно 3, он может назвать только 24. Тогда Пётр назовёт 72 и выиграет.

Каждое из этих возражений опровергает алгоритм игры, но не ответ. Докладчику — 2 балла, оппоненту — 5.

См. Шаповалов А. В., Медников Л. Э. XVII Турнир математических боёв имени А. П. Савина. М.: МЦНМО, 2012, задача 75.

Л14. Из того, что в множестве из 2012 чисел встречаются *все четыре* остатка по модулю 4 и три остатка по модулю 5, не следует, что встретятся $4 \cdot 3 = 12$ остатков по модулю 20. Контрпример: 0, 1, 3, 6, и далее можно повторять эти числа с периодом 20.

Это возражение указывает на пробел в решении стоимостью в 4 балла (пробел легко устраняется непосредственной проверкой). Соответственно оппоненту — 2 балла, докладчику — 8.

См. задачу 9П4.

Л15. Контрпример: из первых четырёх монет вторая серебряная, остальные — золотые. Пусть Фома золотые берёт себе. Тогда при действиях Ерёмы по алгоритму эти монеты распределятся так: у Фомы — две золотые, одна серебряная, у Ерёмы — одна золотая. Уже оба утверждения не выполнены: у Фомы золотых больше, чем серебряных и чем золотых у Ерёмы.

Возражение служит полным опровержением (6 баллов оппоненту), тем более что ответ и решение неверны (0 баллов докладчику).

См. задачу 191.

Л16. В предложенном решении две ошибки. Грубая ошибка в том, что рассматриваются только моменты времени с интервалом в 10 минут. Но встреча может произойти (и происходит) в «промежуточный» момент. Более тонкая ошибка состоит в утверждении, что между встречами Холмс и Ватсон прошли по одному кругу $\pm d$. Это, в конечном счёте, оказывается верным, но априорно нельзя исключить и другие случаи, например, Холмс прошёл 2 круга минус d , а Ватсон — один круг плюс d .

Поскольку ответ неверный, докладчик в любом случае получает 0.

Первое возражение служит полным опровержением: 6 баллов оппоненту. Второе возражение указывает на пробел в решении стоимостью в 4 балла, соответственно давая 2 балла оппоненту.

См. там же, задача 114.

Л17. Отсутствует доказательство того, что беспорядки закончатся. То, что исчез беспорядок $(i, i + 1)$, не помогает, так как могут появиться новые беспорядки (например, за счёт того, что более лёгкий из пакетов «отодвинулся» от предыдущего).

Это возражение указывает на существенный пробел в доказательстве (6 баллов), который, однако, можно закрыть (например, заметить, что сумма квадратов весов пакетов является полуинвариантом). Поэтому докладчик получит 6 баллов, оппонент — 3 балла.

См. задачу 133.

Л18. Во втором случае может случиться, что после раздачи карт по предположению индукции у игрока карт больше, а тузов — меньше. Отдав ему туза пик, мы получим разницу 2 в общем числе карт.

Это возражение является полным опровержением, поскольку индукция опирается и на случай 2. Оппоненту — 6 баллов, докладчику — 0.

См. задачу 119.

Л19. Ответ неполон, поэтому, если оппонент задачу решил, ему проще всего сказать: «Я не согласен с тем, что найдены все ответы, у меня есть контрпример».

А ошибка вот где. Неправда, что если нет обгона, то угол между стрелками всё время уменьшался (или даже всё время менялся монотонно). Стрелки разбивают циферблат на два угла, и мы каждый раз измеряем наименьший из них. Поэтому направление угла может меняться: как в момент обгона, так и в момент, когда стрелки противоположно направлены. Можно привести контрпример к этому утверждению: угол в 12:25 тупой, в 12:30 он стал больше, а в 12:55 — меньше. Такой пример опровергает решение наполовину (случай с обгоном разобран верно), поэтому оппонент получит 3 балла, докладчик — не более 6 баллов.

См. задачу 252.

Л20. По построению отрезки AM и MK не лежат, вообще говоря, на одной прямой: как раз это надо доказать. Поэтому мы не можем пользоваться тем, что $\angle AMB = 180^\circ - \angle KMB$.

Это возражение является полным опровержением. Оппоненту — 6 баллов, докладчику — 0.

См. задачу 261.

Л21. Неверно утверждение, что центры треугольников ACE и DFB должны совпасть (на самом деле они «всего лишь» центрально-симметричны относительно O).

Это возражение является полным опровержением. Оппоненту — 6 баллов, докладчику — 0.

См. задачу 235.

Л22. Неправда, что точка D лежит вне круга. Аналогия не действует, поскольку тут у закрашенной клетки две вершины вне фигуры. Нельзя исключить, что у закрашенной клетки три вершины принадлежат кругу (две на границе фигуры и D), а 4-я вершина круга не принадлежит.

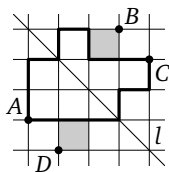


Рис. 113

Указанная ошибка легко исправляется: можно, например, в качестве D выбрать ту из вершин закрашенной клетки, которая кругу не принадлежит. Поэтому возражение обнаруживает лишь пробел в решении (4 балла), т. е. оппонент получает 2 балла, а рассказанное решение стоит 8 баллов.

См. задачу 207.

Л23. Утверждение, что в гранях $A'B'C'D'$ и $BB'C'C$ улитка должна делать «чёрные ходы», не обосновано. В принципе, в одной из этих граней она может сделать «белый ход».

Возражение указывает на пробел в доказательстве оценки (4 балла), который можно устранить более тщательным перебором. Оппонент получает 2 балла, а рассказанное решение стоит 8 баллов.

См. задачу 9КГ4.

Л24. Не доказано, что в случае 3 треугольник обязательно равнобедренный. Более того, к этому утверждению есть контрпример.

Первое возражение указывает на дыру в решении стоимостью 6 баллов, оппонент получит половину. Предъявление пропущенного случая в принципе опровергает решение полностью, поскольку задача — на ответ, а он подсчитан неверно. Но предъявлять его надо так, чтобы докладчик не мог после этого изменить решение. Для этого надо сказать: «Докладчиком разобраны не все случаи, я могу указать на пропущенный случай, поэтому ответ неверный». И предъявлять пример неравнобедренного треугольника в случае 3 только после того, как докладчик не сможет этого сделать. Тогда можно получить до 6 баллов за полное опровержение.

См. задачу 9КГ3.

Л25. Не рассмотрен случай, когда уравнение (*) не является квадратным. Более того, ответ неверен, и контрпример можно построить как раз из проверки случая с равенством 0 коэффициента при x^2 в полученном уравнении. Первое возражение указывает на дыру в решении стоимостью 6 баллов, оппонент получит 3 балла. Предъявление контрпримера опровергает решение полностью, поскольку ответ противоположен правильному. Но предъявлять его надо так, чтобы докладчик не мог после этого изменить решение. Для этого надо сказать: «Я не согласен с ответом, у меня есть контрпример к решению в целом». И предъявлять пример уравнения только после того, как докладчик не сможет этого сделать. Тогда можно получить до 6 баллов за полное опровержение, а если это

не проверка корректности, то все 12 баллов (поскольку пример и является полным решением).

См. задачу 98.

Л26. Указанная конструкция может не сработать как для чётного, так и для нечётного случаев. При построении существенно используется, что, скажем, прямая AK_2 пересекает отрезок L_1L_3 . Несложно построить пример, когда это не так (достаточно «утянуть» точку B влево). Тогда AK_2 пересечёт прямую BC слева от отрезка L_1L_3 и нельзя будет отсеченный ею треугольник прямую AL_1 разбить на два.

Это возражение является полным опровержением. Оппоненту — 6 баллов, докладчику — 0.

См. задачу 213.

РУБРИКАТОР

ВАРИАНТЫ 2012 ГОДА

Личная олимпиада

6 класс: 2, 201, 76а, 44, 217, 171, 296, 108, 158

7 класс: 103, 223, 159, 44, 253, 108, 29а, 256, 158

8 класс: 98, 242, 175, 76б, 248, 128а, 9, 271, 134а

9 класс: 100, 248, 175, 82, 271, 128б, 36, 264, 134б

Командная олимпиада

6 класс: 16, 30а, 202а, 169, 111а, 80, 153а, 195а

7 класс: 30а, 202б, 169, 111б, 66, 153б, 195б, 260

8 класс: 30б, 183, 262а, 66, 174, 195б, 153б, 259

9 класс: 30б, 99, 183, 262б, 214, 274, 87, 174

Математические бои

1 тур

Лига 6 классов: 106а, 75а, 22б, 143, 124а, 188, 5, 17

Лига 6—7 классов: 17, 5, 166, 22а, 106а, 75а, 156, 189

Лига 7 классов: 75б, 238, 22в, 173, 106а, 124б, 188, 143

Лига 8 классов: 95а, 62, 249, 162, 124в, 106б, 188, 239

Лига 9 классов: 62, 101, 95б, 236, 265, 65, 26, 162

2 тур

Лига 6 классов: 8, 139а, 165, 69, 1, 172а, 190б, 19

Лига 6—7 классов: 1, 19, 110, 172а, 139а, 210, 54, 147

Лига 7 классов: 8, 172а, 59, 139а, 218а, 165, 190а, 231

Лига 8 классов: 218а, 102, 55а, 139б, 163, 237, 172б, 224

Лига 9 классов: 247, 251, 102, 61, 218б, 55б, 129, 172в

3 тур

Лига 6 классов: 18а, 20, 252, 176, 194, 14, 204, 152

Лига 6—7 классов, бой 6-классников: 13, 15, 252, 152, 28, 77, 109а, 204

Лига 6—7 классов, бой 7-классников: 6, 15, 18а, 152, 20, 252, 194, 204

Лига 7 классов: 204, 194, 233, 252, 21, 199, 18б, 120

Лига 8 классов: 194, 42, 109б, 228, 160, 199, 233, 18в

Лига 9 классов: 273, 269, 84, 92, 130, 160, 35, 222

Финал

- Лига 6 классов:** 121а, 396, 203, 24, 53, 112, 31, 49
Стыковой бой между лигами 6 и 6—7: 12, 39а, 53, 121а, 146, 112, 31, 49
Лига 7 классов: Финал 1: 232, 53, 396, 209б, 58, 230, 136, 181а
Лига 7 классов: Финал 2: 121а, 53, 396, 209а, 31, 230, 135, 181а
Лига 7 классов: Финал 3: 121а, 53, 39а, 209а, 31, 230, 135, 49
Лига 8 классов: Финал 1: 119, 73, 232, 53, 181а, 241, 49, 121б
Лига 8 классов: Финал 2: 133, 73, 232, 53, 69, 241, 49, 121б
Лига 9 классов: Финал 1: 250, 268, 154, 121б, 119, 73, 25, 85
Лига 9 классов: Финал 2: 119, 73, 232, 53, 181а, 268, 49, 121б

Задачи 2006 года

- 4, 7, 32, 37, 38, 46, 47, 48, 50, 52, 56, 63, 67, 74, 79, 81, 83, 86, 89, 96, 104, 113, 122, 125, 126, 127, 137, 138, 142, 144, 145, 148, 149, 155, 157, 161, 167, 168, 180, 182, 184, 187, 192, 193, 196, 200, 205, 208, 211, 212, 213, 216, 219, 220, 221, 225, 227, 234, 240, 243, 244, 245, 254, 257, 258, 261, 263, 266, 267

Задачи 2007 года

- 3, 10, 11, 23, 27, 33, 34, 40, 41, 43, 45, 51, 57, 60, 64, 68, 70, 71, 72, 78, 88, 90, 91, 93, 94, 97, 105, 107, 114, 115, 116, 117, 118, 123, 131, 132, 140, 141, 150, 151, 164, 170, 177, 178, 179, 185, 186, 191, 197, 198, 206, 207, 215, 226, 229, 235, 246, 255, 270, 272, 275

АВТОРЫ

- | | |
|--|--|
| Авилов Н. 178 | Брагин В. 116, 206, 220 |
| Агаханов Н. 63 | Волчёнков С. 8, 78, 173 |
| Акопян А. 125, 244, 258 | Волчкевич М. 245 |
| Акулич И. 10, 27, 34, 118, 149, 157,
168, 179, 227 | Горская А. 140, 141 |
| Антипов М. 73, 98 | Грибалко А. 121, 160, 162, 174 |
| Артемьев М. 129, 143, 145, 165, 181 | Грозман П. 117 |
| Ахмеджанова М. 155 | Гурвич В. 186, 197, 198 |
| Барабанов Е. 48, 50, 107, 157 | Гуровиц В. 44, 52, 266 |
| Берник В. 149 | Гусаков А. 193 |
| Блинков А. 16, 40, 46, 60, 95, 101,
124, 169, 170, 216, 242 | Дворянинов С. 91, 270 |
| Блинков Ю. 215, 264, 269 | Жуков А. 11, 43 |
| Богданов И. 23, 130, 177 | Заславский А. 87, 167, 172, 259, 265,
273 |
| | Игнатов Ю. 207 |

- Калинин Д. 32, 88, 105, 148, 187, 229, 235, 240, 246, 255, 257, 263, 267, 272
- Каскевич В. 57, 97
- Кноп К. 5, 42, 130, 165, 214, 218б, 224, 232
- Конвей Дж. 234
- Конягин С. 33, 196
- Кохась К. 155
- Крижановский О. 45, 164, 275
- Лецко В. 114
- Лифшиц Ю. 176
- Мазаник С. 68, 226
- Марачёв А. 36
- Медников Л. 128
- Москвитин Н. 239
- Нетрусова Н. 2
- Пиркулиев Р. 90
- Произволов В. 243
- Прокопенко Д. 215, 230
- Раскина И. 19, 124, 145, 181
- Руденко И. 139
- Сгибнев А. 31
- Сендеров В. 56, 63, 67, 70—72, 81, 86, 89, 104, 208
- Спивак А. 33
- Токарев С. 37, 41, 64, 123, 150
- Трушков В. 137, 139, 199
- Усов С. 185
- Филипповский Г. 273
- Френкин Б. 51, 58, 61, 66, 75, 93, 94, 100, 172, 200, 221, 223, 224, 225, 231
- Хачатурян А. 4, 96
- Шаповалов А. 1, 3, 7, 9, 18, 21, 22, 24, 29, 30, 38, 39, 47, 49, 53, 62, 69, 80, 99, 106, 108, 110—112, 115, 119, 120, 126—128, 131—136, 138, 144, 151—154, 158, 159, 161, 163, 164, 165, 171, 172, 175, 180, 182—184, 188, 190—192, 194, 195, 201, 202, 204, 205, 211—213, 217, 218а, 219, 222, 254, 266, 271, 274, 7Г1, 7П1
- Шарич В. 74, 86, 142
- Швецов Д. 238, 242, 247—251, 256, 260, 262, 268
- Шноль Д. 76, 103, 109, 253,
- Штерн А. 54
- Юрков А. 26

Приложение 1

О ТУРНИРЕ 2012 ГОДА

Есть школьники, которые и летом хотят заниматься математикой, и тогда они едут в летние математические школы. А те из них, кто хочет ещё и посоревноваться в решении задач, приезжает в Костромскую область на базу отдыха «Берендеевы поляны», где уже много лет подряд с 26 июня по 2 июля проводится турнир математических боёв.

18-й турнир собрал 32 команды из Москвы, Санкт-Петербурга, Костромы и Ярославля, от пятиклассников (игравших за 6 класс) до девятиклассников.

В день открытия турнира команды размялись игрой «Математический квадрат». Им были даны 16 или 25 задач, вписанных в клетки квадрата. Проверялись только ответы, и кроме баллов за верные ответы начислялись ещё премии за верные решения целого столбца задач или целой строки. Игра была азартной, поскольку те, кто «закрывал» ряд первыми, премировались вдвойне. В 6 классах победили команды гимназии № 1543 и ФМШ № 2007, в 7 классах — команда гимназии № 1514 (все — Москва), в 8 классах — команда ФМШ № 30 (С-Петербург), в 9 классах — команда ЦО № 218 (Москва).

Разбить команды на лиги не только в соответствии с возрастом, но и с учётом их реальной силы позволила устная командная олимпиада. Ввиду хорошей погоды жюри, как обычно, сидело на улице, а школьники — у себя в разбросанных по территории домиках, откуда с энтузиазмом прибегали сдавать задачи. По результатам образовалось пять лиг для проведения математических боёв: лиги 6, 7 и 8 классов (по 8 команд в каждой), 9 классов (4 команды) и 6—7 классов (по 2 слабейшие команды из 6 и 7 классов)

А на следующий день начались собственно математические бои. Команды с утра получали вариант, содержащий восемь нестандартных задач (жюри старалось подбирать интересные и разнообразные). До обеда команды старались их решить (и редко когда удавалось решить все 8), а после обеда — бились с другими командами. На самом бое команды ведут диалог: более-менее по очереди рассказывают свои решения, а в решениях соперников стараются разо-

браться и, по возможности, опровергнуть. Львиную долю времени школьники общаются друг с другом, жюри вступает в диалог редко, в основном начисляя очки.

Бои длились 2–3 часа, редко дольше, и у школьников оставалось время для спорта, прогулок и экскурсий. После ужина большой популярностью пользовались интеллектуальные игры.

В середине турнира был устроен отдых от боёв: полдня — автобусные экскурсии, полдня — личная устная олимпиада по параллелям. Как обычно, самые красивые (но сравнительно лёгкие) задачи приберегались именно для этой олимпиады. И если на бою школьник имел право рассказать максимум две задачи, то здесь можно было рассказывать все девять (кое-кому удалось!). Дипломы первой степени завоевали: в 6 классе — А. Вишняков (ФМШ № 2007), в 7 классе — К. Коваленко (МГДДиЮТ), А. Чернышёв (математический кружок «Квантик», Москва) и А. Трескунов (ЮМШ, Санкт-Петербург), в 8 классе — В. Таранников (ФМШ № 2007). Ученик 9 класса ЦО № 218 Андрей Гаркавый стал абсолютным победителем олимпиады и получил диплом «Гран-при», решив все предложенные задачи и набрав максимально возможный балл!

А в турнире математических боёв победителями стали: в лиге 9 — команда центра образования № 218 г. Москвы, в лиге 8 — команда физико-математической школы № 2007 г. Москвы, в лигах 6 и 7 — команды г. Ярославля, в лиге 6–7 — команда Московского городского дворца детского и юношеского творчества.

По итогам турнира все команды-участницы и все призёры личной олимпиады награждались памятными дипломами, сувенирами и книгами по математике, так что награждены были более половины участников. Поскольку некоторые авторы книг работали в жюри, особо ушлые школьники тут же подбегали к ним за автографами. Видимо, на память об интересном турнире.

Вот полный список призёров турнира боёв (у московских команд город не указан).

Лига 6 классов

Диплом I степени: Ярославль (капитан А. Токмачёв, руководитель И. В. Преображенский).

Дипломы II степени: ФМШ 2007 (капитан А. Енгоян, руководители П. В. Чулков, Е. Г. Лысенок), Фрактал (капитан Н. Жукова, руководители А. П. Храпкина, А. П. Погода, Г. О. Семёнов).

Дипломы III степени: Гимназия 1514-6 (капитан А. Соколова, руководитель Э. А. Акопян) и Гимназия 1514-5 (капитан Б. Шаповал, руководитель Л. О. Бычкова).

Лига 6—7 классов

Диплом I степени: ДНТТМ-7 (капитан С. Морозов, руководитель Т. П. Зорина).

Диплом II степени: ЮМШ-7, Санкт-Петербург (капитан П. Никифоров, руководители А. В. Садовников, А. А. Теслер).

Лига 7 классов

Диплом I степени: Ярославль (капитан А. Сони́на, руководитель И. В. Преображенский).

Дипломы II степени: Гимназия 1514 (капитан А. Емельченков, руководитель Н. Т. Мартынова) и Квантик (капитан А. Чернышев, руководитель И. А. Николаева).

Дипломы III степени: Гимназия 1543-7-3 (капитан И. Спиридонов, руководитель И. В. Раскина) и Гимназия 1543-7-2 (капитан И. Петровский, руководитель Ю. В. Паньковская).

Лига 8 классов

Диплом I степени: ФМШ 2007 (капитан В. Таранников, руководитель В. В. Трушков).

Дипломы II степени: ЮМШ, Санкт-Петербург (капитан Г. Мо­наков, руководитель К. А. Кноп) и ФМШ 2007-9-2 (капитан В. Зюзин, руководители Д. В. Прокопенко, П. В. Чулков).

Дипломы III степени: ФМЛ № 30, Санкт-Петербург (капитан С. Петров, руководители А. В. Садовников, А. А. Теслер) и Гимназия 1543 (капитан А. Феофилактов, руководители А. А. Заславский, А. В. Хачатурян).

Лига 9 классов

Диплом I степени: ЦО № 218 (капитан А. Зерцалов, руководители Ю. А. Блинков, Е. С. Горская).

Диплом II степени: Школа 179 (капитан А. Ситкарёв, руководитель А. Ю. Юрков).

Книги и другие призы для победителей предоставили компании «Яндекс» и МЦНМО (директор — И. В. Яценко).

Непосредственное проведение турнира обеспечивала методическая комиссия. Она занималась предварительным отбором за-

дач, составляла все варианты и оперативно снабжала их решениями для жюри. В 2012 году комиссия была особенно представительной. В ней были математики-профессионалы, преподаватели математики и студенты математических факультетов вузов: В. Арутюнов, А. Блинков, Ю. Блинков, Е. Горская, А. Грибалко, А. Заславский, Н. Медведь, Д. Прокопенко, И. Раскина, С. Тихомиров, В. Трушков, А. Хачатурян, П. Чулков, А. Юрков (все — Москва), С. Волчёнков (Ярославль), В. Замятин и К. Кноп (оба — Санкт-Петербург), Л. Медников (Хайфа), А. Шаповалов (председатель, Стокгольм). В состав жюри турнира, помимо членов методкомиссии, входят и все желающие руководители команд школьников.

Успешное проведение турнира было бы невозможно без слаженной работы группы технического обеспечения, в состав которой (П. Дубов, О. Заславский, Н. Зюзина, М. Сандрикова, Д. Щербаков) входили в том числе и вчерашние школьники.

В большинстве своём авторами задач были члены методической комиссии. Из авторов, не присутствовавших на турнире, отметим Б. Френкина и Д. Шноля, приславших много хороших задач.

Приложение 2

ПРАВИЛА МАТЕМАТИЧЕСКОГО БОЯ 2012 ГОДА

ОБЩИЕ ПОЛОЖЕНИЯ

Математический бой — соревнование двух команд в решении математических задач. Он состоит из двух частей. Сначала команды получают условия задач и определённое время на их решение. При решении задач команда может использовать любую литературу, но не имеет права общаться по поводу решения задач ни с кем, кроме жюри. По истечении этого времени начинается собственно бой, когда команды в соответствии с правилами рассказывают друг другу решения задач. Если одна команда рассказывает решение, то другая *оппонирует* его, т. е. ищет в нём ошибки (недостатки), и если решения нет, то, возможно, приводит своё. При этом выступления оппонента и докладчика оцениваются жюри в баллах (за решение и за оппонирование). Если команды, обсудив предложенное решение, всё-таки до конца задачу не решили или не обнаружили допущенные ошибки, то часть баллов (или даже все баллы) может забрать себе жюри боя. В конце боя при разнице в 0, 1 или 2 балла объявляется ничья, иначе побеждает команда, которая набирает больше баллов. Если же по условиям боя он не может закончиться вничью, то жюри до боя объявляет это командам, и победившей считается команда, которая выиграла конкурс капитанов (подробно о нём сказано ниже).

ВЫЗОВЫ

Бой состоит из нескольких раундов. В начале каждого раунда одна из команд *вызывает* другую на одну из задач, решения которых ещё не рассказывались (например: «Мы вызываем команду соперников на задачу номер 8»). После этого вызванная команда сообщает, *принимает ли она вызов*, т. е. согласна ли рассказывать её решение. Если да, то она выставляет *докладчика*, который должен рассказать решение, а вызвавшая команда выставляет *оппонента*, обязанность которого — искать в решении ошибки. Если нет, то докладчика обязана выставить команда, которая вызывала, а отказавшаяся отвечать команда выставляет оппонента.

Команда, желающая сохранить выходы к доске, может отказаться выставлять оппонента. Тогда она в этом раунде не участвует и не может изменить своего решения.

ХОД РАУНДА

Доклад

В начале раунда докладчик рассказывает решение. Он обязан сформулировать ответы на все поставленные в задаче вопросы и доказать их правильность и полноту. В частности, докладчик обязан доказать каждое сформулированное им промежуточное утверждение либо сослаться на него как на общеизвестное. Докладчик должен стремиться к ясности изложения, в частности он обязан повторить по просьбе оппонента или жюри любую часть своего доклада. Время на доклад ограничивается 10 минутами, после чего жюри решает, разрешать ли докладчику рассказывать дальше. После доклада (докладчик должен сказать «Доклад окончен») начинается обсуждение.

Докладчик имеет право:

- до начала выступления вынести на доску всю необходимую информацию (чертежи, вычисления и т. п.), потратив на это время, согласованное с жюри;
- не отвечать на вопросы оппонентов, заданные во время доклада;
- просить оппонента уточнить свой вопрос (в частности, докладчик может предложить свою версию вопроса: «Правильно ли я понимаю, что Вы спросили о том-то и том-то»);
- отказаться отвечать на вопрос, сказав, что: (а) он не имеет ответа на этот вопрос; (б) он уже ответил на этот вопрос (объяснив, когда и как); (в) вопрос некорректен или выходит за рамки научной дискуссии по поставленной задаче. В случае несогласия оппонента с основаниями (б) и (в) арбитром выступает жюри.

Докладчик не обязан:

- излагать способ получения ответа, если он может доказать правильность и полноту ответа другим путём;
- сравнивать свой метод решения с другими возможными методами, в том числе с точки зрения краткости, красоты и пригодности для решения других задач.

Оппонирование

Пока доклад не окончен, оппонент может задавать вопросы *только с согласия докладчика*, но имеет право просить повторения части решения или разрешать докладчику не доказывать какие-либо очевидные с точки зрения оппонента факты. После окончания доклада оппонент имеет право задавать вопросы докладчику. На обдумывание вопросов и ответов на них у доски даётся не более 1 минуты.

В качестве вопроса оппонент может:

- попросить докладчика повторить любую часть доклада;
- попросить уточнения любого из высказываний докладчика, в том числе: (а) попросить дать определение любого термина («Что Вы понимаете под ...?»); (б) переформулировать утверждение докладчика своими словами и попросить подтверждения («Правильно ли я понимаю, что Вы утверждаете следующее: ...»);
- попросить докладчика доказать сформулированное тем неочевидное не общеизвестное утверждение (в спорных случаях вопрос об известности или очевидности решает жюри; во всяком случае, известными считаются факты, изучающиеся в общеобразовательной школе);
- после ответа на вопрос выразить удовлетворённость или мотивированную неудовлетворённость ответом.

Оппонент обязан:

- формулировать свои вопросы в вежливой, корректной форме;
- критикуя доклад, не допускать критики докладчика;
- повторять и уточнять свои вопросы по просьбе докладчика или жюри.

По итогам доклада и ответов на вопросы оппонент имеет право дать свою оценку докладу и обсуждению в одной из следующих форм: (а) признать решение правильным; (б) признать решение (ответ) в основном правильным, но имеющим недостатки и/или пробелы с обязательным их указанием; (в) признать решение (ответ) неправильным с указанием ошибок в обоснованиях ключевых утверждений доклада или контрпримеров к ним (или ответу) или указанием существенных пробелов в обоснованиях или плане решения. Если оппонент согласился с решением, он и его команда в этом раунде больше не участвуют.

После окончания диалога докладчика и оппонента жюри задаёт свои вопросы. При необходимости оно может вмешиваться и раньше.

Выступающие игроки и команда. Полуминутные перерывы

Команды не имеют права общаться с докладчиком и оппонентом во время их диалога у доски. Это можно делать только во время полуминутного перерыва, который капитан команды может взять в любой момент по своей инициативе или в ответ на явно сформулированную просьбу докладчика/оппонента. Перерыв берётся на полминуты (при этом соперники тоже могут пользоваться этим временем). Команда, взявшая перерыв, может сразу по его окончании взять следующий. Кроме того, она может закончить его досрочно, тогда соперники тоже должны вернуть своего представителя к доске. Каждая команда может взять в течение одного боя не более 6 полуминутных перерывов.

Перемена ролей. Некорректный вызов. Порядок вызовов.

Если оппонент доказал, что у докладчика нет решения (вопрос о том, доказал ли он это, решает жюри — см. ниже пункт «Начисление баллов»), то возможны два варианта. Если вызов на этот раунд был принят, то оппонент получает право (но не обязан) рассказать своё решение. При этом бывший докладчик становится оппонентом и может зарабатывать баллы за оппонирование. Если же вызов на этот раунд не был принят, то говорят, что вызов был *некорректным*. В этом случае команда, вызывавшая некорректно, должна снова вызывать соперника в следующем раунде. Во всех остальных случаях в следующем раунде вызывает та команда, которая была вызвана в текущем раунде.

Число выходов к доске

Каждый член команды имеет право выйти к доске в качестве докладчика или оппонента не более двух раз за бой. Команда имеет право заменять докладчика или оппонента, но при этом выход засчитывается как тому, кого заменили, так и тому, кто вышел на замену. Кроме того, при замене время, отведённое команде на перерывы, уменьшается на 1 минуту (эту минуту можно использовать непосредственно перед заменой, а можно и не использовать — в последнем случае команда соперников тоже *не имеет права* пользоваться ею).

В случае, если команда присутствует на бою в неполном составе, жюри имеет право изменить количество выходов к доске каждого члена команды, о чём должно быть объявлено обеим командам до начала боя.

Окончание боя

В любой момент боя команда, которая должна вызывать, может отказаться делать это (обычно это происходит, когда у команды больше нет решённых задач, а делать вызов, который может оказаться некорректным, она не рискует). Тогда другая команда получает право (но не обязана) рассказывать решения оставшихся задач. При этом вторая команда выставляет оппонентов и может получать баллы за оппонирование, но рассказывать решения она уже не имеет права, даже если они у неё и появятся.

Первый вызов. Конкурс капитанов

Кто будет делать первый вызов, определяет команда, победившая в конкурсе капитанов. Он проводится в начале боя. Капитанам предлагается задача. Капитан, первым сообщивший жюри о своём желании отвечать, получает такое право. Если он даёт правильный ответ, то он победил, а если неправильный — победил его соперник. Вместо задачи жюри может предложить капитанам сыграть в игру. В этом случае победителем считается тот, кто выигрывает игру.

Жюри может проводить конкурс капитанов по трём задачам. Тогда выигрывает капитан, победивший в двух задачах.

Начисление баллов

Каждая задача оценивается в 12 баллов, которые по итогам раунда распределяются между докладчиком, оппонентом и жюри. Если докладчик рассказал правильное и полное решение, все 12 баллов достаются ему. Если оппонент сумел найти в решении более или менее существенные ошибки, жюри прежде всего решает вопрос о том, удалось ли оппоненту доказать, что докладчик не дал решения задачи. Если это оппоненту не удалось, то он может получить за оппонирование до 5 баллов (в зависимости от серьёзности недостатков и того, насколько докладчику удалось их исправить). Остальные баллы распределяются между докладчиком и жюри, и раунд заканчивается. Если же оппонент сумел доказать, что реше-

ния у докладчика нет, он получает за оппонирование 5—6 баллов и, если вызов был принят, право рассказать своё решение (см. выше пункт «Перемена ролей»). При этом докладчик тоже может получить некоторое количество баллов за продвижение в решении. Доклад и оппонирование после перемены ролей оцениваются из оставшихся баллов.

Если ошибки или пробелы в докладе указаны самим докладчиком, то оппонент тем не менее получает за них баллы так, как если бы он нашёл эти недостатки сам. В частности, если, получив отказ от вызова, капитан вызывающей команды сразу признаётся, что у его команды нет решения, команда соперников получает 6 баллов за оппонирование (которое в этом случае состоит из одной фразы: «У Вас нет решения»), а вызов признаётся некорректным. Докладчик и оппонент в этом случае не назначаются, и выходы к доске не засчитываются.

Капитан

Во время боя только капитан может от имени команды обращаться к жюри и соперникам: сообщать о вызове или отказе, просить перерыв и т. д. Если капитан у доски, он оставляет за себя заместителя, имеющего право обращаться к жюри. Имена капитана и заместителя сообщаются жюри до начала боя.

Во время решения задач главная обязанность капитана — координировать действия членов команды так, чтобы имеющимися силами решить как можно больше задач. Для этого капитан с учётом пожеланий членов команды распределяет между ними задачи для решения, следит, чтобы каждая задача кем-то решалась, организует проверку найденных решений. Капитан заранее выясняет, кто будет докладчиком или оппонентом по той или иной задаче, определяет тактику команды на предстоящем бое.

Жюри

Жюри является верховным толкователем правил боя. В случаях, не предусмотренных правилами, оно принимает решение по своему усмотрению. Решения жюри являются обязательными для команд.

Жюри может снять вопрос оппонента, если он не по существу, прекратить доклад или оппонирование, если они затягиваются. Если жюри не может быстро разобраться в решении, оно может с со-

гласия обоих капитанов выделить своего представителя, который продолжит обсуждение задачи совместно с докладчиком и оппонентом в другом помещении. При этом бой продолжается по другим задачам, а очки по этой задаче начисляются позже.

Жюри ведёт на доске протокол боя.

Если одна из команд не согласна с принятым жюри решением по задаче, она имеет право немедленно потребовать перерыв на несколько минут для разбора ситуации с участием председателя жюри. После начала следующего раунда счёт предыдущего раунда изменён быть не может.

Жюри следит за порядком. Оно может оштрафовать команду за шум, некорректное поведение, общение со своим представителем, находящимся у доски.

Жюри обязано мотивировать свои решения, не вытекающие непосредственно из правил боя.

Приложение 3

ШУТОЧНЫЕ ЗАДАЧИ

Составители задач и члены жюри тоже любят шутить. Если можно сформулировать серьёзную задачу с юмором и не добавляя много слов, то отчего бы не порадовать этим себя и школьников (см., например, задачи 60, 111, 112, 118, 157, 179, 181). Но чаще смешная ситуация выливается в шуточную задачу. Вот пародия питерских коллег на пристрастие одного из авторов к задачам некоторого типа.

1. *Докажите, что А. В. Шаповалов сможет составить такую задачу о расстановке на шахматной доске 3 королей, 4 ферзей, 5 ладей, 6 слонов, 7 коней, 8 прожекторов и 10 пулемётчиков, что дети выпадут в осадок.*

В 2006 году был составлен целый вариант, где все задачи были шуточными. История такова. Один из авторов (обозначим его А.) был ответственным за составление финального матбоя и провозился до 4 утра. Отдав вариант молодым и потому ещё полным сил коллегам Мише Берштейну, Тане Караваевой, Володе Шаричу и прикнувшей к ним Лене Чернышёвой, А. ушёл спать со словами: «Проверьте и сверстайте, но не размножайте, пока я в 7 утра не встану и не вычитаю». Утром, даже не успев умыться, А. получил на вычитку вариант. Скользя глазами по следующим двум задачам, А. заметил в них некоторое изменение формулировок (ср. с задачами 192 и 161), но подумал, что молодёжь решила их просто оживить (в варианте предыдущего дня, например, во всех задачах фигурировал Сеня).

2. *Фома и Ерёма с Сеней делят несколько кусков сыра. Сперва Фома, если очень хочет, выбирает один кусок и режет его на два. Затем он раскладывает сыр на пять тарелок. После этого Ерёма выбирает одну из кружек, и они ей делят сыр на круглые куски, беря себе по очереди по куску, первый Ерёма. Точно так же они делят сыр и вилкой, только первым выбирает Фома. Докажите, что Фома всегда может действовать так, чтобы получить не менее одной пятой сыра (по цене).*

3. *Есть куча из 28 доминошек разного веса (с цифрами от 0 до 7). Каждая доминошка в точности помещается на две чашки*

шахматной доски без гирь. Можно ли уложить весь комплект так, чтобы доминошки соприкасались только половинками с одинаковыми цифрами? (Если вы не знаете, что такое домино, то не расстраивайтесь — спросите у Сени на скамейках перед столовой.)

«Можно печатать», — сказал А. благосклонно и пошёл умыться. Освежившись, он перечитал эти задачи ещё раз и ужаснулся. Рванулся в «хакерку», чтобы прекратить печать варианта с ужасными ошибками. Но остановился, дочитал до конца и обнаружил ещё четыре перла.

4. Решите уравнение $y^2 = 3p^n + 1$, где y и n — хитрые, а p — обычное.

5. Назовём треугольники собачьими, если у них равны, равно как и не равны. Докажите, что найдётся автор, который вставит эти треугольники в условие.

6. Гирьки объёмом 0,2, 0,5 и 1 литр разложили на простые множители так, что Весы оказались знаком зодиака. Докажите, что можно убрать всю методическую комиссию с турнира так, чтобы равновесие не нарушилось.

7. Экстрасенс с картами, Фома с сыром и Логик с числом на лбу играют в игру втёмную. За один ход Экстрасенс может угадать, что сверху находится туз пик, Фома — разделить один из кусочков сыра, а Логик — сказать, что он не знает, что у него написано на лбу. За кого из них выгодно болеть Сене?

Осознав ситуацию, дальше А. читать не стал, не спеша нашёл Мишу и выразил только надежду, что вариант в печати не совпадает с вариантом «на вычитку».

Задачи 1—7 относятся к классу пародий. Как правило, юмористический эффект в них достигается столкновением стандартных фраз из двух-трёх разных задач, а решения не предполагается. А. и сам отдал дань пародии. Увидев формулировку «4 человека сделали некоторую работу за 3 дня. А за сколько дней сделают ту же работу 6 человек?», он не удержался.

8. 4 водопроводчика, выпив 10 литров пива, чинили кран 3 часа и в конце концов сломали. А за какое время сломают такой же кран 6 водопроводчиков и сколько пива им для этого понадобится?

Следующая задача выросла из последней фразы, подсмотренной в «Математическом аквариуме» В. Уфнарковского. Ответа изначально не предполагалось, но, как ни странно, некое решение-послеловие всё-таки придумалось.

9. Покатившись без тормозов под горку, велосипедист Петя с разгону вылетел за 10 секунд на середину речки шириной 10 м. К счастью, речка была неглубокой, всего 10 дм, и текла не спеша со скоростью 10 м/мин. Однако назад на берег Петя выбирался целых 10 минут. Найдите скорость велосипедиста в стоячей воде.

Неудовольствие автора формулировками с сослагательным наклонением (если бы так, то было бы этак) вылилось в следующую пародию.

10. **Лучше меньше, чем никогда.** Маша вышла из дома в школу. Через 12 минут оттуда же и туда же выбежал Саша, двигаясь вдвое быстрее. Если бы Саша бежал ещё вдвое быстрее, он бы не сумел вернуться от едущего навстречу со скоростью 25 км/ч велосипедиста Миши и лежал бы теперь в гипсе в Склифосовском. А так он всего лишь налетел на пороге школы на директора, упал с крыльца и набил себе 8 шишек. А насколько здоровее был бы Саша, если бы вышел в школу одновременно с Машей и шёл с той же скоростью?!

Пародии возникают и на стыке математики с физикой. Следующая фольклорная задача давалась на конкурсе капитанов во время физбоя математиков против физиков. Капитан математиков две минуты не мог справиться с хохотом, за это время не склонный к юмору капитан физиков задачу невозмутимо решил.

11. **Вооружённый до зубов диверсант** массой 200 кг выбрасывается с парашютом из самолёта на высоте 8000 м над Москвой. Найдите время, за которое диверсант достигнет земли и сможет совершить диверсию. Ускорение g считать равным 10 м/с^2 , сопротивлением воздуха пренебречь.

Ещё математики любят потешаться над недалёкими обществоведами, особенно когда последние их грузят глупостями. Найдите остроумное решение, которое предложил студент-математик в ответ на такое вот задание преподавателя истории Партии.

12. **Роль нашей Партии** неуклонно возрастает. Однако диалектика нас учит, что в светлом будущем партий не будет. А что вы можете сказать о роли Партии в настоящее время?

Сами математики допускают, впрочем, не меньше ляпов. Меняя формулировки задач, они не замечают, что меняют их смысл или опираются на негласные договорённости, которые перестают действовать. Вот хороший пример задачи, в которой заучившийся математик получит не тот же ответ, что здравомыслящий школьник (идея взята у Мартина Гарднера).

13. Гонец прибыл на остров, где жили два племени — рыжие и лысые. Он узнал, что члены одного из племён всегда лгут, а другого — всегда говорят правду. Встретив двух разных аборигенов, гонец спросил рыжего: «Ты всегда говоришь правду?». Тот ответил на своём языке: «Ватревлигт >». Тогда лысый сказал по-русски: «Он сказал „Да“. Но он врёт». Определите племя любителей правды.

Шуточные задачи лежат где-то на стыке математики и КВН. Вопрос может выглядеть нейтрально, тогда шутка спрятана в решении.

14. Каких учеников больше: прилежных или ленивых?

УКАЗАНИЕ: ленивых больше, чем надо.

Несерьёзные задачи часто возникают при подготовке конкурса капитанов. В таких вопросах часто есть подвох. Нематематических подвохов опытные члены жюри не дают, оставляя их для шуточных задач. Особо трудными бывают задачи, где сочетаются два вида подвохов. Найдя один, другого обычно уже не ищут...

15. Сколько треугольников есть на рис. 114?

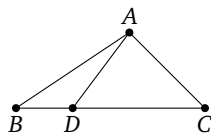


Рис. 114

Следующая задача рождена жизнью. В 90-е

годы заметная часть участников приглашалась по результатам заочного конкурса журнала «Квант».

Из-за этого попадались команды, не имеющие практического опыта матбоёв. Одна из таких команд настолько уступала соперникам по числу решённых задач, что никак не могла получить право рассказать хотя бы одно своё решение. Из сочувствия к ним родилась такая вот задача. Её решение вполне математическое, надо только знать все правила матбоя.

16. В варианте матбоя 8 задач. Команда «Тормоз» из Захолустья-Дремучего хочет гарантированно рассказать во время боя хотя бы одно правильное решение. Какое наименьшее число задач ей достаточно решить?

По шуточным задачам с решениями проводятся даже шуточные матбои. Один такой бой был организован Д. А. Калининым на турнире Савина 2002 г. Участники играли с удовольствием и решили всё, кроме вот этой задачи на конкурсе капитанов.

17. Найдите закономерность и подставьте правильную букву вместо знака вопроса:

$$Д + Б + В + Ж + К < \mathbf{P} < Д + Б + В + Ж + К + ?$$

Указание. P большая-пребольшая.

Надеемся, что, читая задачи, вы не только получили удовольствие, но и сами придумали остроумные решения к задачам с 8 по 16. Вряд ли все они совпадают с предложенными ниже, так что — приятного чтения!

Решения

9. Когда в следующий раз Петя въехал в глубокую лужу диаметром 10 м со скоростью 10 м/с, то, наученный горьким опытом, он из неё выскочил за 30 секунд. Значит, скорость выскакивания в стоячей воде равна 10 м/мин.

10. Несомненно, Саша был бы намного здоровее. Ведь больше всего ему не поздоровилось не от шишек, а от вызова родителей к директору из-за регулярных опозданий.

11. Решив уравнение $\frac{gt^2}{2} = 8000$, найдём, что диверсант достигнет земли довольно скоро — за 40 секунд (парашют, очевидно, не раскрылся). При этом диверсант столкнётся с землёй со скоростью 400 м/с. К счастью, то, что от него после этого останется, вряд ли сможет совершить диверсию.

12. В будущем Партии не станет, значит, роль её станет равной нулю. Роль — это функция от времени, и она монотонно возрастает до нуля. Из этого ясно, что сейчас роль Партии отрицательна!

Увы, за это математически верное решение студент получил незачёт по истории Партии, поскольку не учёл в условии, что Партия была правящей.

13. Поскольку рыжий не говорил по-русски, вопроса он не понял и сказал что-нибудь вроде «Приятно познакомиться». Поэтому лысый соврал про «Да», т. е. он лжец, значит, правдолюбы — рыжие.

14. Ленивых больше. Будем доказывать от противного. Предположим, что прилежных не меньше, чем ленивых. Заведомо верно, что ленивых больше, чем надо. Итак, прилежных \geq ленивых \geq чем надо. Значит, получается, что прилежных учеников больше, чем надо?! С этим мы, учителя, согласиться никак не можем. Получили противоречие, значит, исходное предположение было неверно, и на самом деле ленивых больше, чем прилежных.

15. 4 треугольника: ABC , ABD , ACD и треугольничек в букве A .

16. Достаточно решить две задачи. Пока остаются неразобранными нерешённые задачи, «Тормоз» должен некорректно вызывать соперника на них. Потом, после вызова на одну из решённых задач,

«Тормоз» либо расскажет её на проверке корректности, либо получит право рассказать другую решённую задачу (их вызовут, либо они расскажут после отказа от вызова).

17. ? = М (а Р — это репка).

Оглавление

Как готовиться к математическим боям	3
Предисловие к задачнику	10
Основные задачи	12
Арифметика и алгебра	12
Цифры	12
Простая арифметика	13
Делимость и остатки	13
Дроби	17
Средние	18
Комбинаторная арифметика и комбинаторная алгебра	19
Уравнения в целых числах	21
Задачи на движение	23
Уравнения и неравенства	24
Квадратный трёхчлен, многочлены, функции	26
Логические задачи	27
Лжецы и рыцари	28
Соревнования логиков	29
Комбинаторные задачи	30
Классическая комбинаторика	30
Дискретная непрерывность	30
Индукция	31
Примеры и оценки	31
Алгоритмы	32
Взвешивания	33
Клетчатые задачи	35
Турниры	40
Процессы	41
Игры	43
Графы	46
Чётность	47
Геометрия	47
Разрезания и клетки	47
Системы точек и отрезков	49

Геометрическая комбинаторика	49
Простая геометрия	51
Четырёхугольники, подобие, окружности	52
Симметрии	54
Геометрические места	56
Задачи на построение	57
Решения основных задач	59
Математический квадрат	168
Задачи конкурса капитанов	207
Липовая роща	209
Арифметика и алгебра	209
Комбинаторика	211
Геометрия	217
Разное	220
Разоблачения	223
Рубрикатор	231
Варианты 2012 года	231
Задачи 2006 года	232
Задачи 2007 года	232
Авторы	232
Приложение 1. О турнире 2012 года	234
Приложение 2. Правила математического боя 2012 года	238
Приложение 3. Шуточные задачи	245

Магазин «Математическая книга»

Книги издательства МЦНМО можно приобрести в магазине «Математическая книга» в Москве по адресу: Б. Власьевский пер., д. 11; тел. (499) 241-72-85; biblio.mccme.ru

Книга — почтой: <http://biblio.mccme.ru/shop/order>

Книги в электронном виде: <http://www.litres.ru/mcnmo/>

Мы сотрудничаем с интернет-магазинами

- Книготорговая компания «Абрис»; тел. (495) 229-67-59, (812) 327-04-50; www.umlit.ru, www.textbook.ru, abris.pf
- Интернет-магазин «Книга.ру»; тел. (495) 744-09-09; www.kniga.ru

Наши партнеры в Москве и Подмоскowie

- Московский Дом Книги и его филиалы (работает интернет-магазин); тел. (495) 789-35-91; www.mdk-arbat.ru
- Магазин «Молодая Гвардия» (работает интернет-магазин): ул. Б. Полянка, д. 28; тел. (499) 238-50-01, (495) 780-33-70; www.bookmg.ru
- Магазин «Библио-Глобус» (работает интернет-магазин): ул. Мясницкая, д. 6/3, стр. 1; тел. (495) 781-19-00; www.biblio-globus.ru
- Спорткомплекс «Олимпийский», 5-й этаж, точка 62; тел. (903) 970-34-46
- Сеть киосков «Аргумент» в МГУ; тел. (495) 939-21-76, (495) 939-22-06; www.arg.ru
- Сеть магазинов «Мир школьника» (работает интернет-магазин); тел. (495) 715-31-36, (495) 715-59-63, (499) 182-67-07, (499) 179-57-17; www.uchebnik.com
- Сеть магазинов «Шаг к пятерке»; тел. (495) 728-33-09, (495) 346-00-10; www.shkolkniga.ru
- Издательская группа URSS, Нахимовский проспект, д. 56, Выставочный зал «Наука — Всем», тел. (499) 724-25-45, www.urss.ru
- Книжный магазин издательского дома «Интеллект» в г. Долгопрудный: МФТИ (новый корпус); тел. (495) 408-73-55

Наши партнеры в Санкт-Петербурге

- Санкт-Петербургский Дом книги: Невский пр-т, д. 62; тел. (812) 314-58-88
- Магазин «Мир науки и медицины»: Литейный пр-т, д. 64; тел. (812) 273-50-12
- Магазин «Новая техническая книга»: Измайловский пр-т, д. 29; тел. (812) 251-41-10
- Информационно-книготорговый центр «Академическая литература»: Васильевский остров, Менделеевская линия, д. 5
- Киоск в здании физического факультета СПбГУ в Петергофе; тел. (812) 328-96-91, (812) 329-24-70, (812) 329-24-71
- Издательство «Петроглиф»: Фарфоровская, 18, к. 1; тел. (812) 560-05-98, (812) 943-80-76; k_i_@bk.ru, k_i_@petroglyph.ru
- Сеть магазинов «Учебная литература»; тел. (812) 746-82-42, тел. (812) 764-94-88, тел. (812) 235-73-88 (доб. 223)

Наши партнеры в Челябинске

- Магазин «Библио-Глобус», ул. Молдавская, д. 16, www.biblio-globus.ru

Наши партнеры в Украине

- Александр Елисаветский. Рассылка книг наложенным платежом по Украине: тел. 067-136-37-35; df-al-el@bk.ru