

ДОБРЫЙ ДЕНЬ, ПЯТИКЛАССНИКИ!

Мы продолжаем изучать гидросферу. Основная тема – это части мирового океана. В чём трудность данной темы – слишком большое количество географических объектов нужно запомнить и уметь показывать на карте. Желаю вам успехов в тренировке памяти и расширении кругозора. Ваше домашнее задание – выполнить три задания в презентации и ответы прислать на МОЮ почту в срок до 6.05, baхова11@mail.ru



An aerial photograph of a tropical island, likely a coral atoll, showing a vibrant turquoise lagoon surrounded by a white sandy beach and a dark blue outer reef. The water transitions from light green near the shore to deep blue further out. The text is overlaid on the upper half of the image.

Мировой океан

часть 2

Суша в океане



Материки



Полуострова



Острова



Архипелаги

Материки

Материки – огромные участки суши, со всех сторон или почти со всех сторон окружённые водой.





Евразия
54 млн.кв.км

Южная Америка
17,8 млн.кв.км



Северная Америка
24,2 млн.кв.км

Африка
30,3 млн.кв.км

Антарктида
14 млн.кв.км

Австралия
9 млн.кв.км

Острова

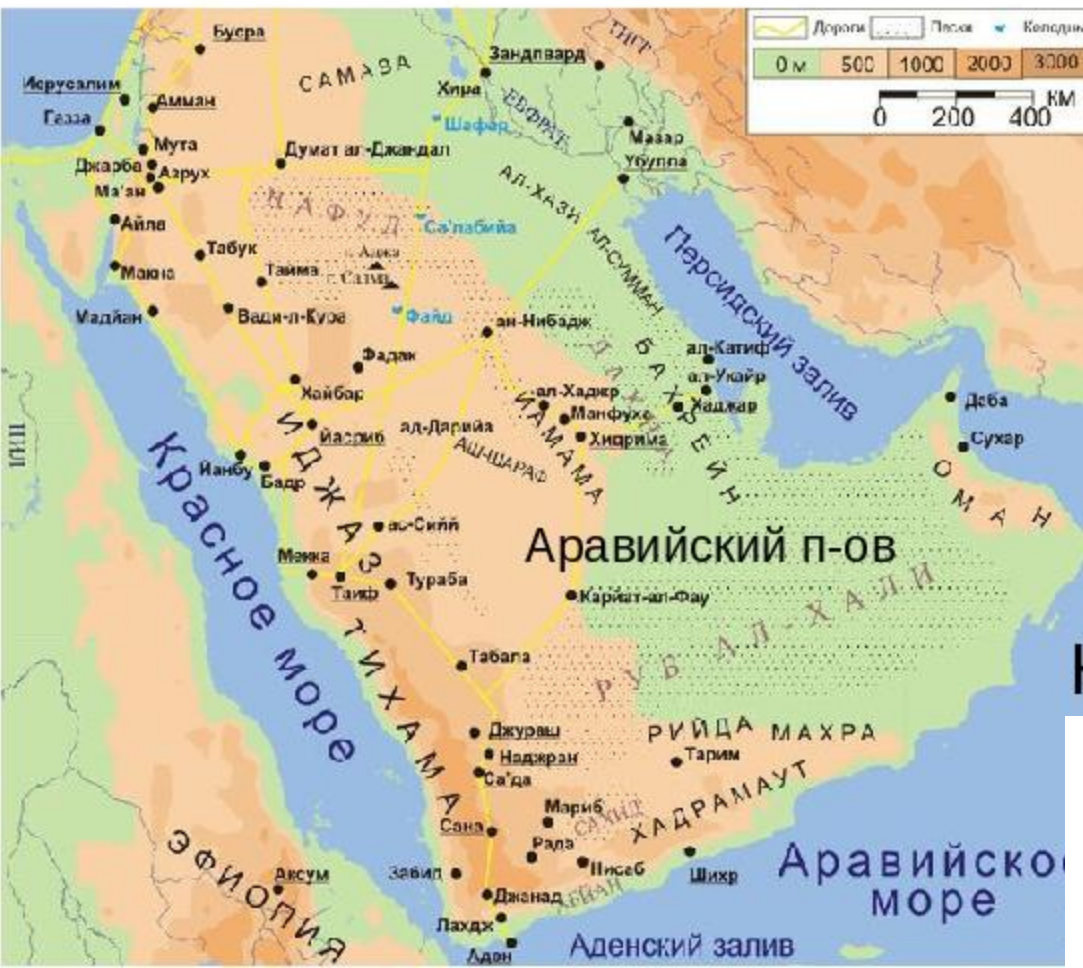
- ▶ Остров – это часть суши, окружённая со всех сторон водой.



Великобритания,
Гренландия, Исландия,
Калимантан,
Мадагаскар, Новая
Гвинея, Новая
Зеландия, Огненная
Земля, Сахалин,
Тасмания.
(Найдите их на карте.)

Полуострова

Чем полуостров отличается от острова?



Полуостров –участок суши, глубоко вдающийся в океан и с трех сторон окруженный водой

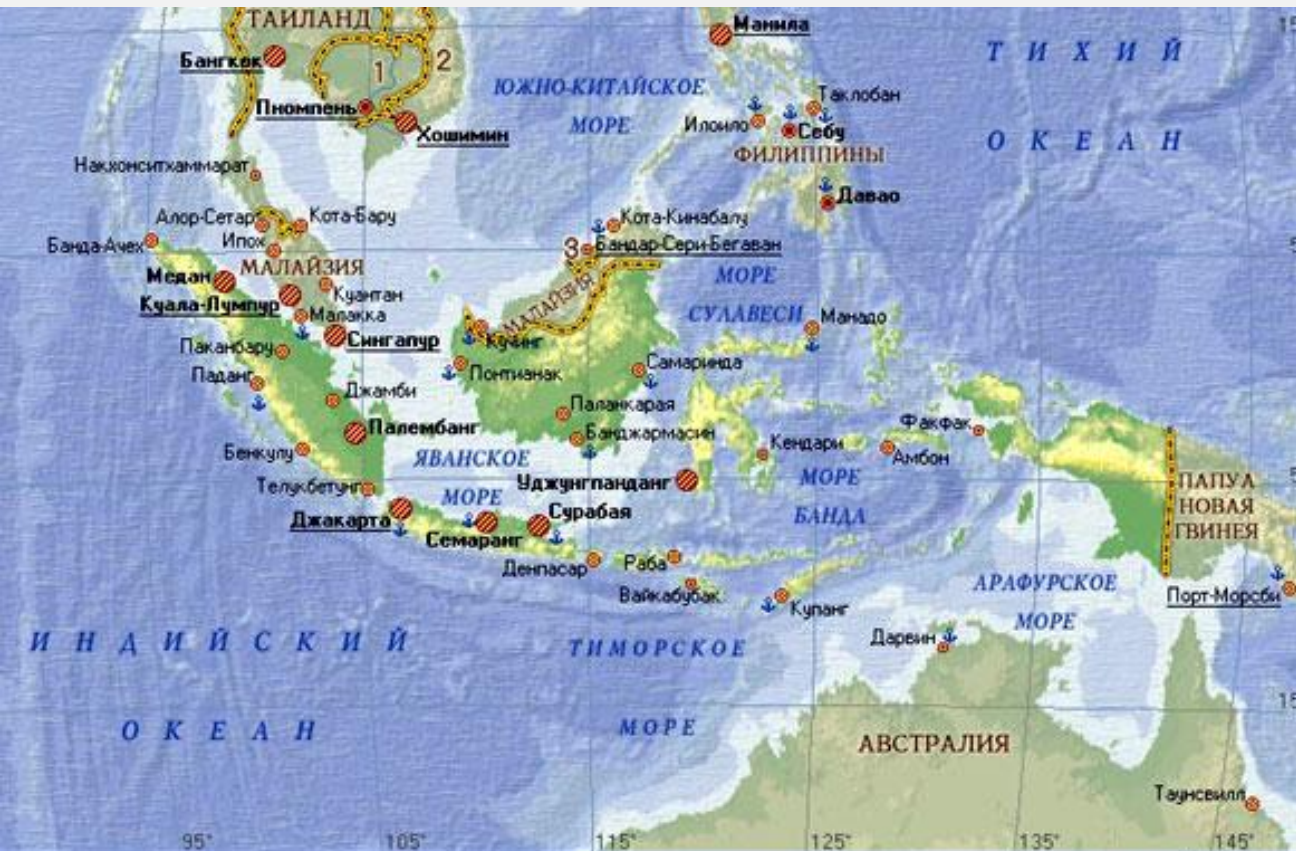
Аравийский, Индостан, Камчатка

Индокитай, Скандинавский, Лабрадор, Аппенинский.

Архипелаги

- ▶ Архипелаг – это группа островов, находящихся близко друг от друга.

Выделяют и островные архипелаги: Большие Антильские, Гавайские, Японские. (Найдите их на карте.)



ЧУДО СВЕТА - ГАЛАПАГОССКИЕ ОСТРОВА !



**Галапагос - единственная в мире местность, где 98% представителей животного и растительного мира эндемичны.
Вспомните, что такое эндемик?**



Вы уже знаете части Мирового океана

- Океаны

- Моря

- Заливы

- Проливы



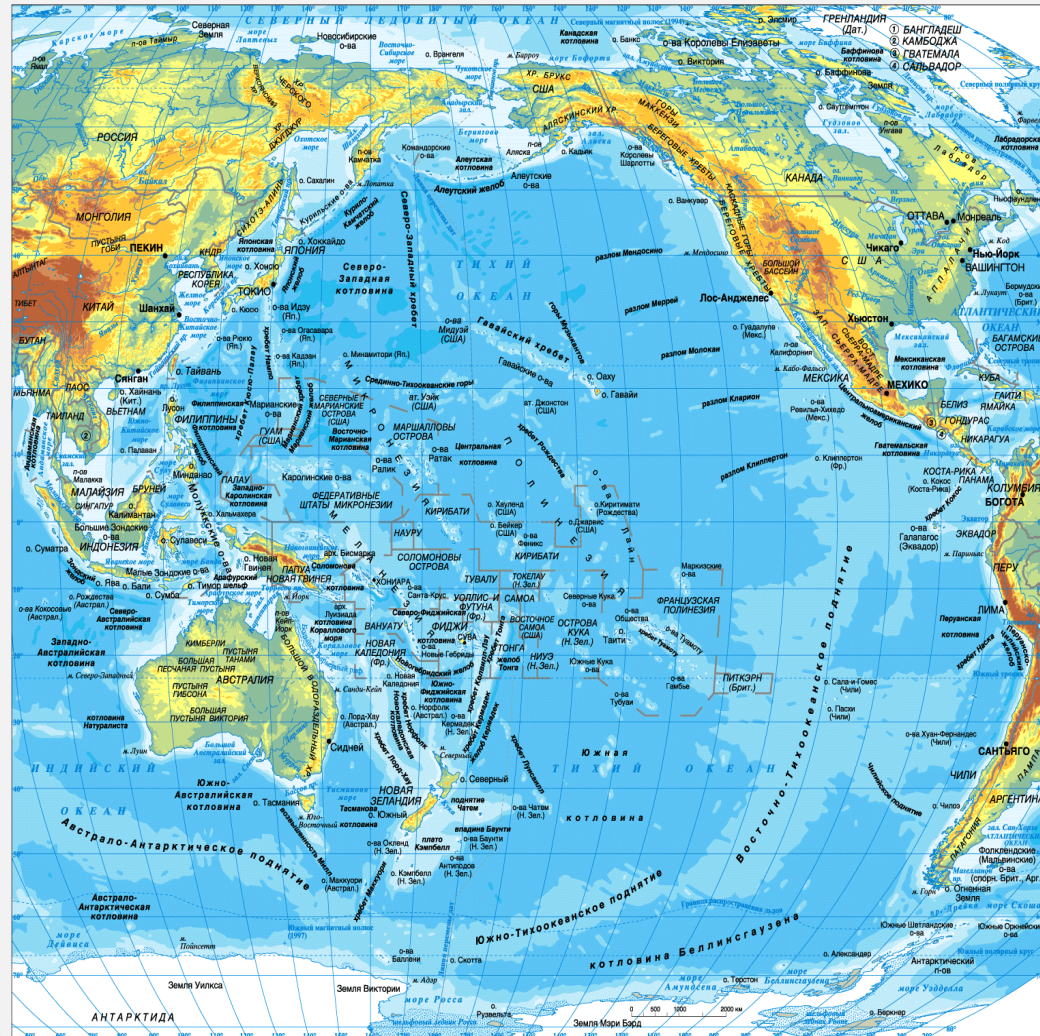
Моря Северного Ледовитого океана

- ▶ Баренцево
- ▶ Карское
- ▶ Лаптевых
- ▶ Чукотское
- ▶ Восточно-Сибирское
- и др.



Моря Тихого океана

- ▶ Берингово,
- ▶ Охотское,
- ▶ Восточно-Китайское,
- ▶ Южно-Китайское,
- ▶ Тасманово и др.



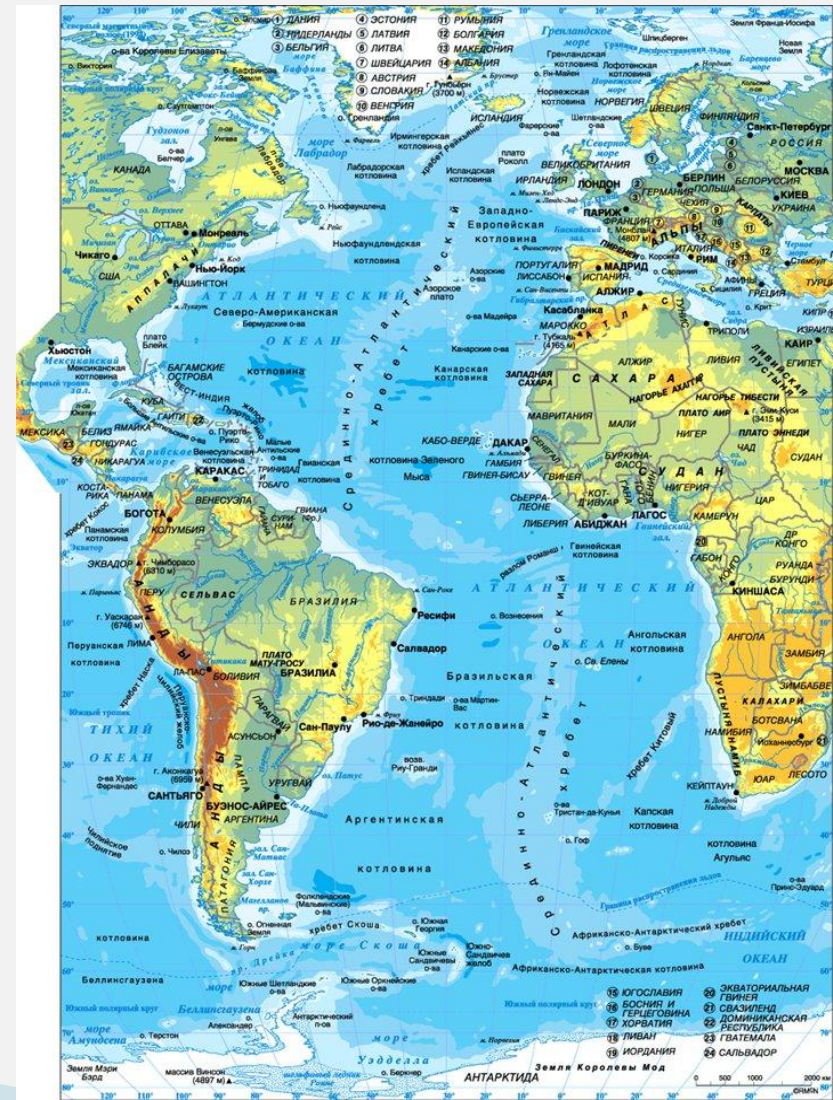
Моря Индийского океана

- ▶ Красное
- ▶ Аравийское и др.



Моря Атлантического океана

- ▶ Чёрное,
- ▶ Средиземное,
- ▶ Норвежское,
- ▶ Северное
- ▶ Балтийское и др.

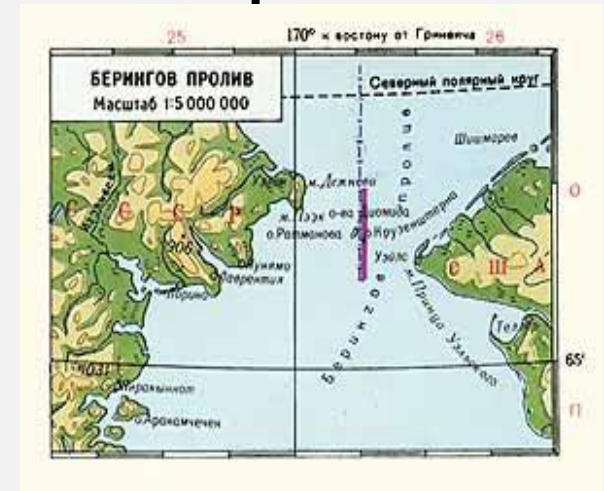


Залив – это часть океана (моря), вдающаяся в сушу, но свободно сообщаемая с океаном (морем).



Заливы:
Бенгальский, Гвинейский,
Гудзонов, Мексиканский,
Персидский, Финский.
(Найди на карте в атласе.)

Пролив – сравнительно неширокое водное пространство, ограниченное с двух сторон берегами материков или островов.



Проливы:

Берингов, Гибралтарский, Дрейка, Магелланов, Малаккский, Мозамбикский, Босфор, и обязательно запоминаем искусственные проливы – **Панамский и Суэцкий каналы.**

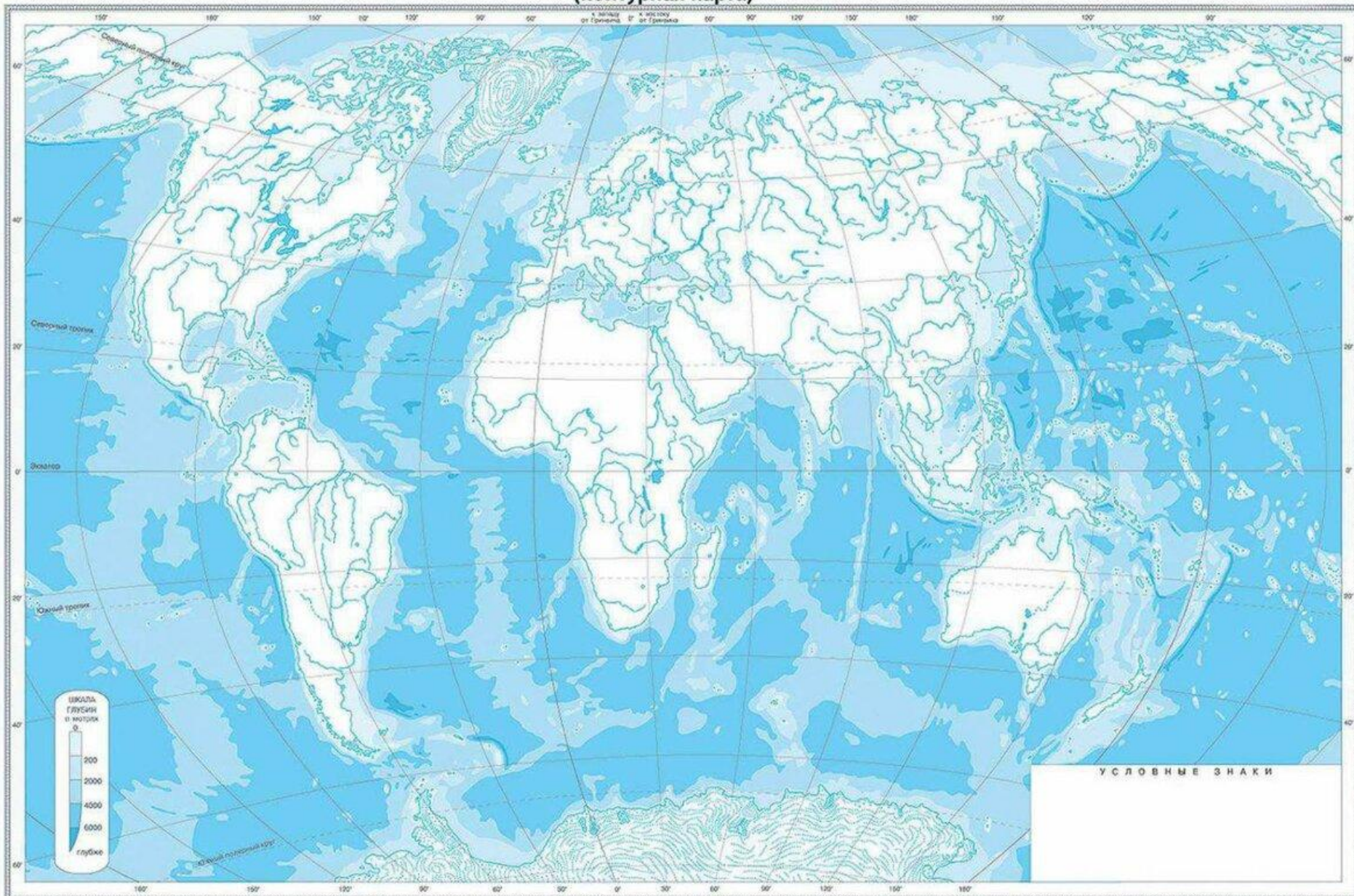
(Найди их на карте.)

ПРОЛИВ ДРЕЙКА — САМОЕ ШТОРМОВОЕ МЕСТО НА ПЛАНЕТЕ!



В сентябре – сдаёте зачёт по контурной карте – все объекты, указанные в презентации.


(контурная карта)



1 ЗАДАНИЕ

Заполните пропуски в тексте, вписав в него недостающие слова, и подчеркните те из предложенных вариантов, которые вы считаете верными.

1. _____ море — самое мелкое из морей Мирового океана.
2. Его максимальная глубина составляет всего (3,5 м / 13,5 м / 33,5 м).
3. После зарегулирования крупнейшей реки бассейна этого моря его средняя солёность увеличилась до (3,8‰ / 13,8‰ / 23,8‰).
4. Из-за небольшой солёности море замерзает при более (высоких / низких) температурах, чем соседнее. По берегам моря расположено множество мелководных заливов, отделённых от моря узкой полосой суши.
5. Эти заливы называются _____.
6. В западной части моря расположен крупный залив _____, также называемый Гнилым морем.



2. ЗАДАНИЕ

Внимательно прочитайте логические цепочки географических объектов. Выделите общую характеристику для всех пяти объектов в каждой логической цепочке, а затем определите один объект цепочки («белая ворона»), который отличается от остальных. Объясните, чем выбранный Вами объект отличается от других, и предложите ему замену на объект, который будет соответствовать логике цепочки.

- 1) Карское море – Восточно–Сибирское море – Белое море – Баренцево море – море Лаптевых.
- 2) Гренландия – Исландия – Великобритания – Мадагаскар – Тасмания

Образец выполнения задания – пример:

о–ва Крестовский, Заячий, Крестовский, Ольхон, Матисов
Ответ смотри на следующем слайде

	А. Обобщающая характеристика особенностей географического положения для всех пяти объектов в цепочке	Б. «Белая ворона»	В. Объяснение «белой вороны»	Г. Замена «белой вороны»
1	Все эти острова находятся в Петербурге	Ольхон	О-в Ольхон - на Байкале	Елагин остров
2				
3				

3. ОТГАДАЙТЕ ЗАЛИВ .

Этот залив омывает берега двух стран, входящих в Европейский Союз. Страна, которой принадлежит южное побережья залива, является монархией. Государство, занимающее восточное побережье, – республика. Залив имеет славу самого непредсказуемого и загадочного места. Здесь часто бывают туманы, берега изрезаны скалами, а резкие смены погоды просто опасны для жизни. Из-за них образуются глубокие воронки или волны, достигающие в высоту 25 метров. Их уже называют волнами-убийцами. Поэтому пересечь этот залив будет сложно даже опытному мореплавателю.



БЛАГОДАРЮ ЗА ВНИМАНИЕ!

