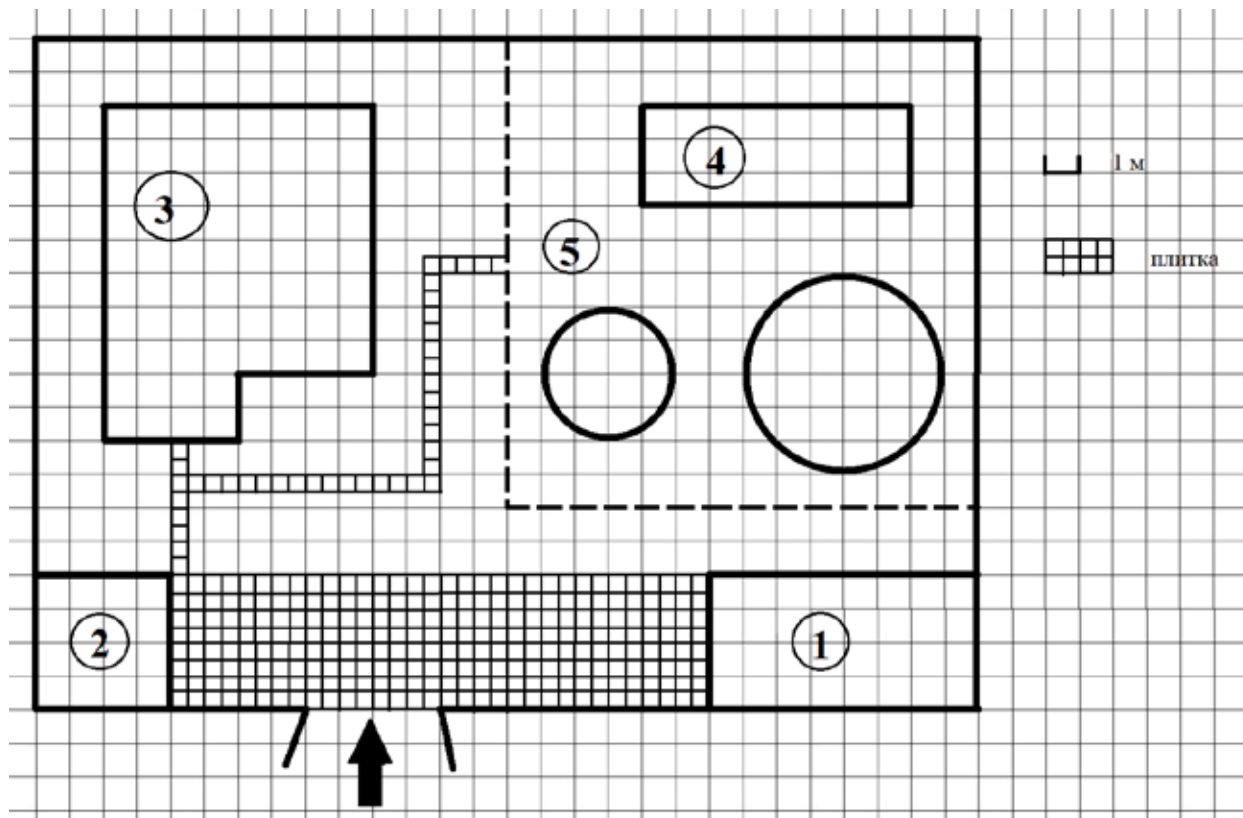


**Прочитайте внимательно текст и выполните задания 1–5.**



На плане изображено домохозяйство по адресу с. Кондратьево, 2-й Прудовой пер, д. 7 (сторона каждой клетки на плане равна 1 м). Участок имеет прямоугольную форму. Выезд и въезд осуществляются через единственные ворота.

При входе на участок слева от ворот находится сарай, а справа гараж. Площадь, занятая сараем, равна 16 кв. м. Жилой дом находится в глубине территории. Помимо гаража, жилого дома и сарая, на участке имеются теплица и две круглые клумбы, расположенные на территории огорода (огород отмечен на плане цифрой 5). Все дорожки внутри участка имеют ширину 0,5 м и вымощены тротуарной плиткой размером 0,5 м ´ 0,5 м. Между сараем и гаражом имеется площадка, вымощенная той же плиткой.

**1** Для объектов, указанных в таблице, определите, какими цифрами они обозначены на плане. Заполните таблицу, в бланк перенесите последовательность четырёх цифр.

Объекты	жилой дом	теплица	гараж	сарай
Цифры				

**2** Тротуарная плитка продаётся в упаковках по 5 штук. Сколько упаковок плитки понадобилось, чтобы выложить все дорожки и площадку перед гаражом?

Ответ: \_\_\_\_\_.

**3** Вычислите примерно площадь, которую занимают две клумбы вместе. Число  $\rho$  возьмите равным 3,14. Ответ запишите в квадратных метрах.

Ответ: \_\_\_\_\_.

**4** Найдите площадь, которую занимает жилой дом. Ответ дайте в квадратных метрах.

Ответ: \_\_\_\_\_.

**5** Хозяин участка хочет сделать пристройку к дому. Для этого он планирует купить 12 тонн силикатного кирпича. Один кирпич весит 3 кг. Цена кирпича и условия доставки всей покупки приведены в таблице.

Поставщик	Цена кирпича (руб. за шт.)	Стоимость доставки до 15 тонн (руб.)	Специальные условия
А	12,48	8000	Доставка бесплатно, если сумма заказа превышает 50 000 руб.
Б	14,68	5000	Доставка со скидкой 50 %, если сумма заказа превышает 55 000 руб.

Во сколько рублей обойдётся наиболее дешёвый вариант?

Ответ: \_\_\_\_\_.

**Прочитайте внимательно текст и выполните задания 6–10.**

Каждый водитель в Российской Федерации должен быть застрахован по программе обязательного страхования гражданской ответственности (ОСАГО). Стоимость полиса получается умножением базового тарифа на несколько коэффициентов. Коэффициенты зависят от водительского стажа, мощности автомобиля, количества предыдущих страховых выплат и других факторов.

Коэффициент бонус-малус (**КБМ**) зависит от класса водителя. Это коэффициент, понижающий или повышающий стоимость полиса в зависимости от количества ДТП в предыдущий год. Сначала водителю присваивается класс 3. Срок действия полиса, как правило, один год. Каждый последующий год класс водителя рассчитывается в зависимости от числа страховых выплат в течение истекшего года в соответствии со следующей таблицей.

Класс на начало годового срока страхования	Коэффициент КБМ	Класс по окончании годового срока страхования с учётом наличия страховых случаев				
		0 страховых выплат	1 страховая выплата	2 страховых выплаты	3 страховых выплаты	4 страховых выплаты
М	2,45	0	М	М	М	М
0	2,3	1	М	М	М	М
1	1,55	2	М	М	М	М
2	1,4	3	1	М	М	М
3	1	4	1	М	М	М
4	0,95	5	2	1	М	М
5	0,9	6	3	1	М	М
6	0,85	7	4	2	М	М
7	0,8	8	4	2	М	М
8	0,75	9	5	2	М	М
9	0,7	10	5	2	1	М
10	0,65	11	6	3	1	М
11	0,6	12	6	3	1	М
12	0,55	13	6	3	1	М
13	0,5	13	7	3	1	М

**6** Павел страховал свою гражданскую ответственность три года. В течение первого года были сделаны две страховые выплаты, после этого выплат не было.

Какой класс будет присвоен Павлу на начало четвёртого года страхования?

Ответ: \_\_\_\_\_.

**7** Чему равен КБМ на начало четвёртого года страхования?

Ответ: \_\_\_\_\_.

**8** Коэффициент возраста и водительского стажа (**КВС**) также влияет на стоимость полиса (см. таблицу).

Стаж, лет \ Возраст, лет	0	1	2	3–4	5–6	7–9	10–14	более 14
16–21	1,87	1,87	1,87	1,66	1,66			
22–24	1,77	1,77	1,77	1,04	1,04	1,04		
25–29	1,77	1,69	1,63	1,04	1,04	1,04	1,01	
30–34	1,63	1,63	1,63	1,04	1,04	1,01	0,96	0,96
35–39	1,63	1,63	1,63	0,99	0,96	0,96	0,96	0,96
40–49	1,63	1,63	1,63	0,96	0,96	0,96	0,96	0,96
50–59	1,63	1,63	1,63	0,96	0,96	0,96	0,96	0,96
старше 59	1,60	1,60	1,60	0,93	0,93	0,93	0,93	0,93

Когда Павел получил водительские права и впервые оформил полис, ему было 24 года.

Чему равен КВС на начало 4-го года страхования?

Ответ: \_\_\_\_\_.

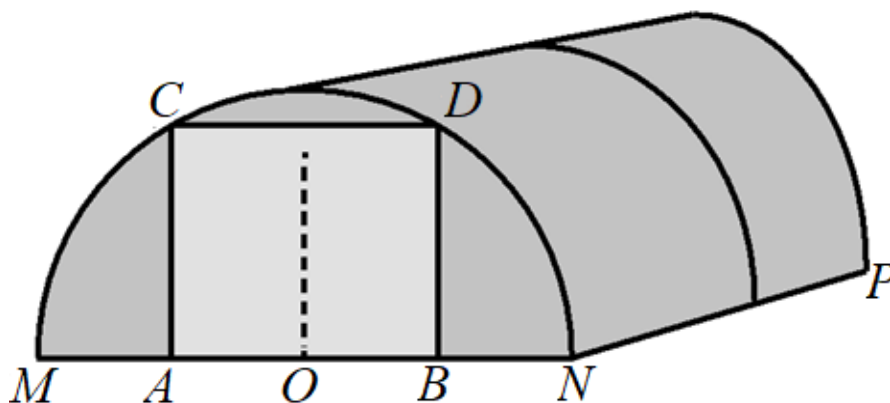
**9** В начале третьего года страхования Павел заплатил за полис 18 745 руб. Во сколько рублей обойдётся Павлу полис на четвёртый год, если значения других коэффициентов (кроме КБМ и КВС) не изменятся?

Ответ: \_\_\_\_\_.

- 10** Павел въехал на участок дороги протяжённостью 2,7 км с камерами, отслеживающими среднюю скорость движения. Ограничение скорости на дороге – 60 км/ч. В начале и в конце участка установлены камеры, фиксирующие номер автомобиля и время проезда. По этим данным компьютер вычисляет среднюю скорость на участке. Павел въехал на участок в 11:03:16, а покинул его в 11:05:31. Нарушил ли Павел скоростной режим? Если да, на сколько км/ч средняя скорость на данном участке была выше разрешённой?

Ответ: \_\_\_\_\_.

**Прочитайте внимательно текст и выполните задания 11–15.**



Алексей Юрьевич решил построить на дачном участке теплицу длиной  $NP = 4,5$  м. Для этого он сделал прямоугольный фундамент. Для каркаса теплицы Алексей Юрьевич заказывает металлические дуги в форме полуокружностей длиной 5,2 м каждая и плёнку для обтяжки. В передней стенке планируется вход, показанный на рисунке прямоугольником  $ACDB$ . Точки  $A$  и  $B$  — середины отрезков  $MO$  и  $ON$  соответственно.

- 11** Какое наименьшее количество дуг нужно заказать, чтобы расстояние между соседними дугами было не более 60 см?

Ответ: \_\_\_\_\_.

- 12** Найдите примерную ширину  $MN$  теплицы в метрах. Число  $\rho$  возьмите равным 3,14. Результат округлите до десятых.

Ответ: \_\_\_\_\_.

- 13** Найдите примерную площадь участка внутри теплицы в квадратных метрах. Ответ округлите до целых.

Ответ: \_\_\_\_\_.

- 14** Сколько квадратных метров плёнки нужно купить для теплицы с учётом передней и задней стенок, включая дверь? Для крепежа плёнку нужно покупать с запасом 10 %. Число  $\rho$  возьмите равным 3,14. Ответ округлите до целых.

Ответ: \_\_\_\_\_.

- 15** Найдите примерную высоту входа в теплицу в метрах. Число  $\rho$  возьмите равным 3,14. Ответ округлите до десятых.

Ответ: \_\_\_\_\_.

***Прочитайте внимательно текст и выполните задания 16–20.***

Хозяин дачного участка строит баню с парным отделением. Размеры парного отделения: длина — 3,9 м, ширина — 2,1 м, высота — 2 м. Для разогрева парного помещения можно использовать электрическую или дровяную печь. Три возможных варианта даны в таблице.

Печь	Тип	Отапливаемый объём, куб. м	Масса, кг	Цена, руб.
А	дровяная	9–14	42	19 100
Б	дровяная	12–18	49	20 500
В	электрическая	10–17	16	16 000

Для установки дровяной печи дополнительных затрат не потребуется. Установка электрической печи потребует подведения специального кабеля, что обойдётся в 6200 руб. Кроме того, хозяин подсчитал, что за год электрическая печь израсходует 2300 киловатт-часов электроэнергии по 3,5 руб. за 1 киловатт-час, а дровяная печь за год израсходует 1,6 куб. м дров, которые обойдутся по 1700 руб. за 1 куб. м.

- 16** Найдите объём парного отделения строящейся бани (в куб. м).

Ответ: \_\_\_\_\_.

**17** На сколько рублей дровяная печь, подходящая по отапливаемому объёму парного отделения, обойдётся дешевле электрической с учётом установки?

Ответ: \_\_\_\_\_.

**18** На сколько рублей эксплуатация дровяной печи обойдётся дешевле эксплуатации электрической в течение года?

Ответ: \_\_\_\_\_.

**19** Доставка печи из магазина до участка стоит 700 рублей. При покупке печи ценой выше 19 000 рублей магазин предлагает скидку 5 % на товар и 20 % на доставку. Сколько будет стоить покупка печи Б вместе с доставкой на этих условиях?

Ответ: \_\_\_\_\_.

**20** Хозяин выбрал дровяную печь. Чертёж печи показан на рис. 1.

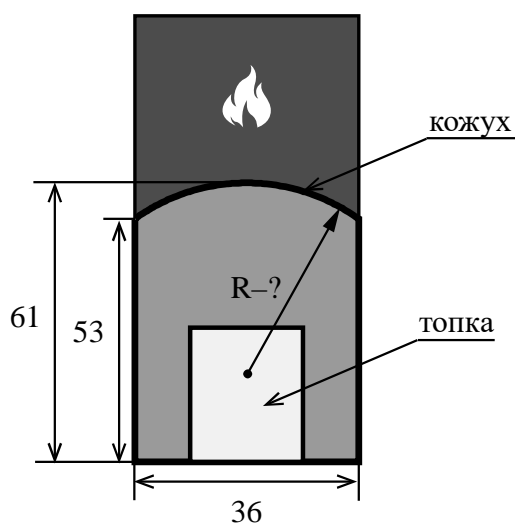


Рис. 1

Печь снабжена кожухом вокруг дверцы топки. Верхняя часть кожуха выполнена в виде арки, приваренной к передней стенке по дуге окружности (см. рис. 1). Для установки печки хозяину понадобилось узнать радиус закругления арки  $R$ . Размеры кожуха в сантиметрах показаны на рисунке. Найдите радиус в сантиметрах.

Ответ: \_\_\_\_\_.